

تم تحميل هذا الملف من موقع المناهج الكويتية



مدرسة التميز النموذجية

الملف بنك أسئلة مدرسة التميز النموذجية

[موقع المناهج](#) ← [المناهج الكويتية](#) ← [الصف السادس](#) ← [اجتماعيات](#) ← [الفصل الثاني](#)

روابط مواقع التواصل الاجتماعي بحسب الصف السادس



روابط مواد الصف السادس على تلغرام

[الرياضيات](#)

[اللغة الانجليزية](#)

[اللغة العربية](#)

[التربية الاسلامية](#)

المزيد من الملفات بحسب الصف السادس والمادة اجتماعيات في الفصل الثاني

<a href="#">مراجعة</a>	1
<a href="#">مراجعة</a>	2
<a href="#">مراجعة</a>	3
<a href="#">مذكرة في مادة الاجتماعيات</a>	4
<a href="#">مراجعة محلولة ومفيدة في مادة الاجتماعيات</a>	5



مدرسة التميز النموذجية

(ابتدائي - متوسط - ثانوي)

6

بنك الأسئلة

الاجتماعيات

الصف السادس



خمسة وعشرون عاماً من التميز

2025 / 2024  
الفصل الدراسي الثاني

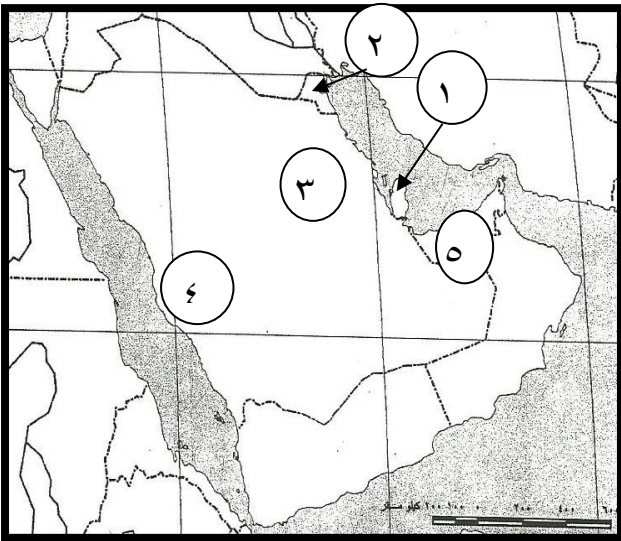


# الاجتماعيات

## س ١: أكمل الجمل الآتية بما يناسبها مما درست: -

- ١- مجموع الدخول التي تحصل عليها الدولة خلال عام تسمى .....
- ٢- العام الذي بدأ فيه التنقيب عن النفط في دولة الكويت هو: .....
- ٣- أول حقل نفطي تم اكتشافه في دولة الكويت يسمى: .....
- ٤- السلع والبضائع التي تشتريها دولنا من الخارج تسمى .....
- ٥- إعادة تصدير البضائع المستوردة يسمى .....
- ٦- العام الذي تم فيه تصدير أول شحنة من النفط من دولة الكويت هو .....
- ٧- العملية التي يتم فيها تحويل المواد الخام إلى مواد مصنعة يمكن الاستفادة منها .....
- ٨- المنطقة الزراعية التي تقع في عمان هي .....
- ٩- الكميات النفطية التي يتم استخراجها للاستفادة منها تسمى .....
- ١٠ - الدولة الخليجية الأكثر إنتاجا للنفط هي .....
- ١١ - الدولة التي تقع فيها منطقة العين الزراعية هي .....
- ١٢ - الدولة التي يقع فيها حقل الروضتين النفطي هي .....
- ١٣ - الزراعة التي تتم في بيئة رملية أو حصى أو نشارة خشب تسمى .....
- ١٤ - منطقة ينبع الصناعية تقع في .....
- ١٥ - نجحت السعودية في زراعة محصول زراعي هام وهو .....

## س ٢: لاحظ خريطة شبه الجزيرة العربية التي أمامك ثم نفذ ما يطلب منك .



- اكتب الرقم المناسب لكل مما يلي:

- ١- دولة قطر يمثلها الرقم ( ..... ) .
- ٢- حقل الغوار النفطي يمثلها الرقم ( ..... ) .
- ٣- حقل برقان النفطي يمثلها الرقم ( ..... ) .
- ٤- سهل تمامه الزراعي ( ..... ) .
- ٥- دولة الإمارات ( ..... ) .

**س٣: اختر الإجابة الصحيحة من بين البدائل التي تلي كل عبارة فيما يلي :**

١- العام الذي بدأ فيه التنقيب عن النفط في دولة الكويت هو:

(١٩٣٤ م - ١٩٣٥ م - ١٩٣٦ م - ١٩٣٧ م)

٢- الحضارة القديمة التي ظهرت في الإمارات هي حضارة:

( دلمون - هيلي - أم النار - تاروت )

٣- الدولة الخليجية التي تتساوى فيها نسبة الوافدين بنسبة المواطنين حسب إحصائية عام ٢٠٠٦ م هي:

( الكويت - عمان - قطر - السعودية )

٤- أول حقل نفطي تم اكتشافه في دولة الكويت يسمى:

( برقان - الروضتين - بجره - الأحمدية )

٥- الدولة العربية الخليجية الأكثر كثافة سكانية حسب إحصائية عام ٢٠٠٦ م هي:

( قطر - البحرين - عمان - الإمارات )

**س٤: عرف المفاهيم التالية:**

١. إنتاج النفط: .....
٢. الدخل القومي: .....
٣. الزراعة في البيوت البلاستيكية: .....
٤. الصناعة: .....
٥. الثقافة: .....
٦. السلالة: .....

**س٥: قارن بين الصادرات والواردات في دول الخليج العربية من حيث التعريف والأمثلة:**

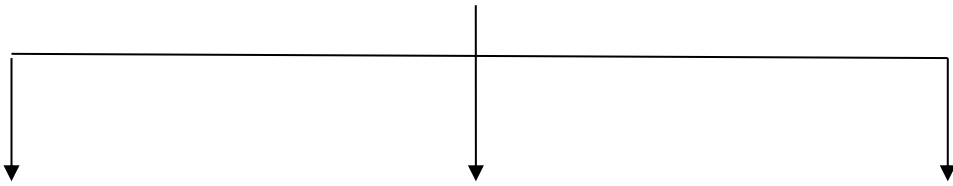
الواردات	الصادرات	
		التعريف
		المثال



س٦: فرق بين الزراعة بدون تربة والزراعة في البيوت البلاستيكية :

الزراعة في البيوت البلاستيكية	الزراعة بدون تربة

س٧: عدد ثلاث من أنواع الصناعات في دول الخليج العربية



س٨: اذكر منطقتين زراعتين لكل دولة من دول الخليج التالية:

السعودية	الكويت	الإمارات	عمان

س٩: علل لما يأتي:

١- تزايد عدد الوافدين في دول الخليج العربية في السنوات الأخيرة

أ - .....

ب - .....

٢- إقامة العديد من الموانئ النفطية في دول الخليج العربية.

أ - .....

ب - .....

٣- التشابه الثقافي بين سكان دول الخليج العربية.

- .....

٤- تزايد عدد السكان في دولة الكويت ودول الخليج العربية .

- .....

س١٠ : ١- ما النتائج المترتبة على ارتباط دول مجلس التعاون بعلاقات تجارية مع دول العالم:

٢ - اذكر الدولة التي اتجهت إليها الهجرات التالية:

- المعاضيد:

- القواسم:

س١١ : - اقرأ الفقرة التالية ثم أجب عن الأسئلة التي تليها :

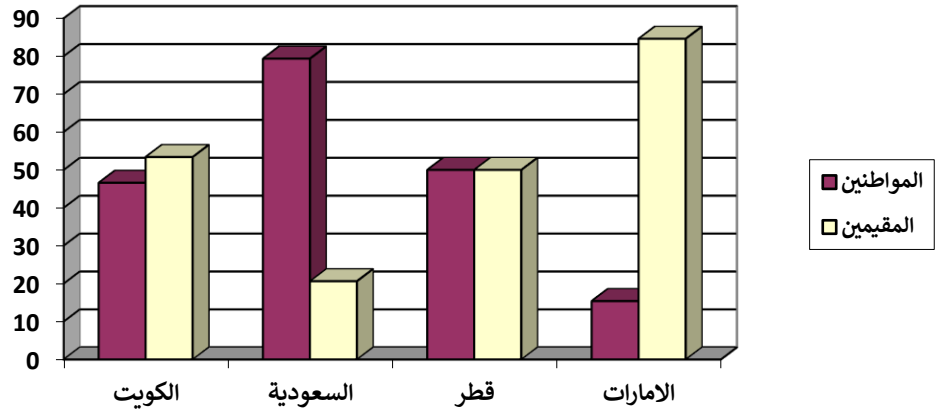
(استقبل حوض الخليج العربي موجات من الهجرات من كل المناطق المجاورة بحكم موقعه الجغرافي المهم بين قارات العالم القديم، وإن تحركات الهجرات بدأت منذ أن سادت ظروف الجفاف الصحراوي).

١- استخرج من الفقرة:

أ- عامل جذب للسكان .....

ب - عامل طرد للسكان .....

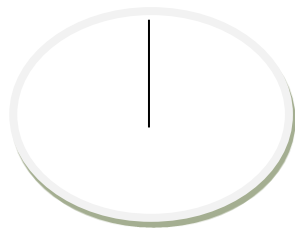
ج- لا حظ الرسم البياني التالي ثم اجب عن الاسئلة التي تليه:



١- الدولة الخليجية التي يتساوى فيها عدد المواطنين بعدد المقيمين تسمى .....

٢- الدولة الخليجية التي ترتفع فيها نسبة المواطنين عن الوافدين تسمى .....

٣- قسم الدائرة البيانية التالية بحسب نسبة المواطنين والمقيمين في دولة الكويت





### س١٢ : أكمل الجمل الآتية بما يناسبها مما درست:

- ١ . ترجع أصول السلالات السكانية في منطقة الخليج العربية إلى جنس البحر المتوسط و .....
- ٢ . البعثة التي كشفت عن الآثار في منطقة الخليج العربية تسمى البعثة .....
- ٣ . التغيير الذي يحدث لعدد السكان نتيجة الزيادة الطبيعية وغير الطبيعية يسمى .....
- ٤ . عدد السكان في الكيلو متر مربع يسمى .....
- ٥ . الدولة الخليجية الأقل كثافة للسكان تسمى .....
- ٦ . العام الذي صدر فيه إعلان الدوحة بشأن السوق الخليجية المشتركة هو .....
- ٧ . العام الذي أنشأ فيه مجلس التعاون قوات درع الجزيرة .....
- ٨ . أصوات غير متجانسة تجتاز شدتها المعدل الطبيعي المسموح به للأذن .....
- ٩ . دخول مواد غريبة في التربة مما يلحق الضرر في خواصها ومكوناتها يسمى .....
- ١٠ . يقع مقر مكتب التربية العربي في مدينة .....
- ١١ . العام الذي حدث فيه الغزو العراقي لدولة الكويت هو .....
- ١٢ . عدد آبار النفط التي احرقها الغزو العراقي في الكويت هو .....
- ١٣ . العنف ظاهرة .....
- ١٤ . درع واقى للأحياء ضد خطر الأشعة فوق البنفسجية الضارة يسمى .....
- ١٥ . تعرض الغلاف الجوي لمواد تسبب الضرر للإنسان والكائنات الحية يسمى .....
- ١٦ . القارات التي يربط بينها حوض الخليج العربي آسيا وأفريقيا و .....

### س١٣ : اختر الإجابة الصحيحة من بين البدائل التي تلي كل عبارة فيما يلي :-

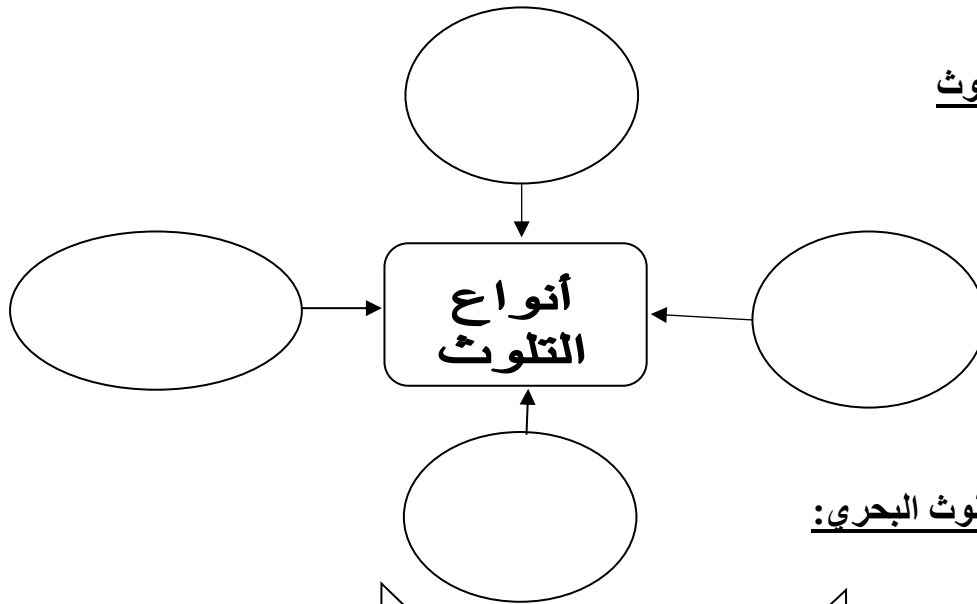
- ١ . الدولة الخليجية الأكثر عددا للسكان هي  
( السعودية - الإمارات - الكويت - عمان )
- ٢ . الدولة الخليجية التي تتساوى فيها نسبة الوافدين بنسبة المواطنين حسب إحصائية عام ٢٠٠٦ م هي:  
( الكويت - عمان - قطر - السعودية )
- ٣ . أول حقل نفطي تم اكتشافه في دولة الكويت يسمى:  
( برقان - الروضتين - بجره - الأحمدى )
- ٤ . الحقل النفطي الأكبر في دول الخليج العربية هو  
( برقان - بو حصا - الغوار - دخان )
- ٥ . الدولة العربية الخليجية الأكثر كثافة سكانية حسب إحصائية عام ٢٠٠٦ م هي:  
( قطر - البحرين - عمان - الإمارات )



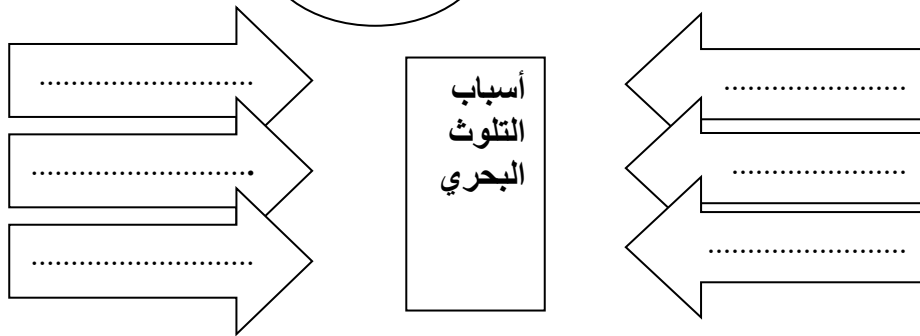
**س ١٤ : عرف المفاهيم التالية:**

١. احتياط النفط: .....
٢. الزراعة بدون تربة: .....
٣. الكثافة السكانية: .....
٤. النمو السكاني: .....
٥. التلوث: .....
٦. الضوضاء: .....
٧. التلوث الأرضي: .....
٨. طبقة الأوزون: .....
٩. التلوث المائي: .....
١٠. العمالة المنزلية: .....
١١. العنف: .....

**س ١٥ - أنواع التلوث**



**س ١٦ أسباب التلوث البحري:**



**س ١٧ صنف الكلمات التالية حسب الجدول التالي:**

- سيارات وطائرات - براكين - الصناعة - عواصف ترابية - حرق النفايات - مبيدات حشرية

مصادر التلوث الهوائي	
طبيعية	غير طبيعية

**س ١٨ : اذكر أسباب التلوث لكل من .**

أ- أسباب التلوث الضوضائي :-

١- ..... ٢- ..... ٣- .....

ب- أسباب التلوث البحري (المائي)

١- ..... ٢- ..... ٣- .....

ج- أسباب تلوث الهواء:

١- ..... ٢- ..... ٣- .....

د - أوجد حلا للمعادلة التالية .

• تربية الطفل الخاطئة + الإحباط = .....

**س ١٩ أمامك مجموعة من مظاهر العنف المطلوب تصنيفها حسب الجدول التالي :-**

أسباب أسرية - أسباب نفسية - أسباب بيئية عامة

مظاهر العنف الناتجة عنها	الأسباب
عدم الرغبة في مواصلة الدراسة	.....
عدم وعي الأسرة بأهمية التعليم	.....
التربية الخاطئة للطفل	.....
نقص وسائل الرعاية الاجتماعية	.....
التوتر والحرمان والقلق	.....

س ٢٠ - أكتب حلولاً للمشكلات الاجتماعية الواردة بالجدول:-

حلول مشكلة العنف	حلول مشكلة العمالة المنزلية
.....	.....
.....	.....
.....	.....

س ٢١ : علل لما يأتي :-

١- استقبل حوض الخليج العربي هجرات سكانية متعددة .

.....

٢- تزايد عدد الوافدين في دول الخليج العربية في السنوات الأخيرة .

.....

.....

٣- إقامة العديد من الموانئ النفطية في دول الخليج العربية .

.....

.....

٤- تزايد عدد السكان في دولة الكويت ودول الخليج العربية .

.....

.....

٥- أنشأت دول الخليج قوات درع الجزيرة .

.....

.....

س ٢٢ : اجب عما يلي .

١ - الصناعات في منطقة الشعبية بدولة الكويت .

أ-..... ب-..... ج-.....

٢- اهم صادرات دول الخليج العربية .

أ-..... ب-.....

٣ - أضرار تلوث التربة .

أ-..... ب-.....

٤- مظاهر التلوث الناتجة عن الغزو العراقي

أ-..... ب-.....

ب-.....



س٢٣: اكتب الحضارة التي ظهرت في الدول التالية .

- ١- البحرين .....
- ٢- الامارات .....
- ٣- السعودية .....
- ٤- عمان .....
- ٥- قطر .....

س٢٤: يربط حوض الخليج العربي بين قارات العالم القديم وهي .

- ١- .....
- ٢- .....
- ٣- .....

س٢٥- أنواع الهجرات .

- ١- .....
- ٢- .....

س٢٦- رتب دول الخليج العربية من حيث عدد السكان ترتيباً تنازلياً .

- ١- .....
- ٢- .....
- ٣- .....
- ٤- .....
- ٥- .....
- ٦- .....

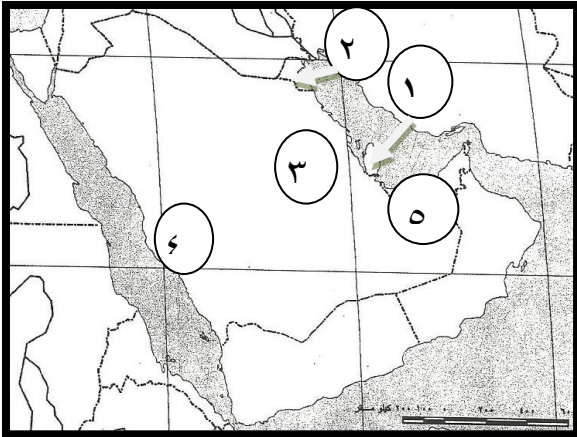
س٢٧- أذكر مظاهر التعاون بين دول الخليج في المجالات التالية .

التعاون الثقافي	التعاون الاقتصادي	التعاون العسكري	التعاون السياسي

ج١: أكمل الجمل الآتية بما يناسبها مما درست :

١. الدخل القومي .
٢. ١٩٣٤ .
٣. بحرة .
٤. الواردات .
٥. ترازيت .
٦. ١٩٤٦ .
٧. الصناعة .
٨. صلاله .
٩. انتاج النفط .
١٠. السعودية .
١١. الامارات .
١٢. الكويت .
١٣. الزراعة بدون تربة .
١٤. السعودية .
١٥. القمح .

ج٢: لاحظ خريطة شبه الجزيرة العربية التي أمامك ثم نفذ ما يطلب منك .



- اكتب الرقم المناسب لكل مما يلي :

١. دولة قطر يمثلها الرقم ( ١ ) .
٢. حوض الغوار النفطي يمثلها الرقم ( ٣ ) .
٣. حقل برقان النفطي يمثلها الرقم ( ٢ ) .
٤. سهل تهامة الزراعي ( ٤ ) .
٥. دولة الإمارات ( ٥ ) .

ج٣: اختر الإجابة الصحيحة من بين البدائل التي تلي كل عبارة فيما يلي :

١. ١٩٣٤ م .
٢. هيلي .
٣. قطر .
٤. بحره .
٥. البحرين .



## ج ٤: عرف المفاهيم التالية:-

١. الكميات النفطية التي يتم استخراجها للاستفادة منها .
٢. مجموع الدخول التي تحصل عليها الدولة خلال عام .
٣. يزرع فيها الخضروات في غير موسمها وتقوم بحماية المحاصيل من تقلبات الطقس .
٤. عملية تحويل المواد الخام الى مواد مصنعة قابلة للاستخدام .
٥. هي مجموعة من العادات والتقاليد والقيم في مجتمع من المجتمعات .
٦. مجموعة من الناس تشترك فيما بينها في الصفات الجسمانية الرئيسية كلون الجلد وشكل الانف وشكل الشعر وطول القامة .

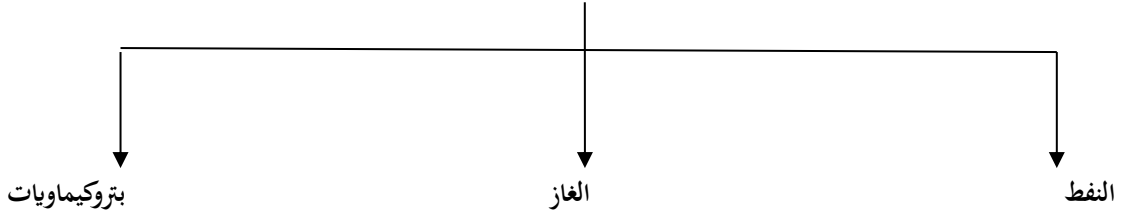
## ج ٥: قارن بين الصادرات والواردات في دول الخليج من حيث التعريف والأمثلة:-

الواردات	الصادرات	
البضائع والسلع التي تشتريها دولنا من الخارج	السلع والمنتجات التي تبيعها دولنا في الخارج	التعريف
الآلات - السيارات - المواد الغذائية - الاجهزة الكهربائية	النفط - الغاز - البتروكيماويات	المثال

## ج ٦: فرق بين الزراعة بدون تربة والزراعة في البيوت البلاستيكية :

الزراعة بدون تربة	الزراعة في البيوت البلاستيكية
الزراعة التي تتم في بيئة مائية أو رملية أو حصى أو نشارة خشب تضاف اليها المحاليل الغذائية	يزرع فيها الخضروات في غير موسمها وتقوم بحماية المحاصيل من تقلبات الطقس

## ج ٧: عدد ثلاث من أنواع الصناعات في دول الخليج العربية .

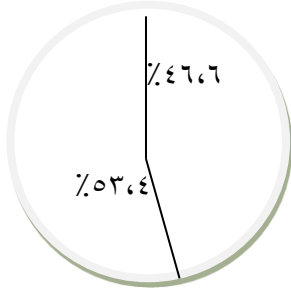


## ج ٨:

السعودية	الكويت	الإمارات	عمان
الاحساء	الوفرة	العين	صلالة
حائل	العبدلي	ليوا	سهل الباطنة

## ج ٩:

١. بسبب ارتفاع الاجور - والامن والاستقرار - السماح للوافدين باصطحاب عائلاتهم -توفر فرص العمل - توفر الرعاية الصحية
٢. تزايد الانتاج الخليجي من النفط - تزايد الطلب العالمي على النفط كمصدر رئيسي للطاقة
٣. بسبب وحدة الاصل - العادات والتقاليد - الدين واللغة والتاريخ المشترك
٤. بسبب الزيادة الطبيعية والزيادة غير الطبيعية



- ٣

ج ١٠: ١ - انتعاش الموانئ التجارية - ارتفاع الدخل القومي

٢ - قطر - رأس الخيمة

ج ١١: أ - الموقع الجغرافي المهم

ب - ظروف الجفاف الصحراوي

ج- ١ - قطر ٢ - السعودية

اجابة السؤال الثاني عشر:

- ١ . شرق أفريقيا .
- ٢ . الدائمكية .
- ٣ . النمو السكاني .
- ٤ . الكثافة السكانية .
- ٥ . عمان .
- ٦ . ٢٠٠٨ .
- ٧ . العام ١٩٨٤ .
- ٨ . الضوضاء .
- ٩ . التلوث الأرضي .
- ١٠ . الرياض .
- ١١ . ١٩٩٠ .
- ١٢ . ٧٣٧ .
- ١٣ . مكتسبة متعلمة .
- ١٤ . طبقة الأوزون .
- ١٥ . التلوث الهوائي .
- ١٦ . أوروبا .

اجابة السؤال الثالث عشر:

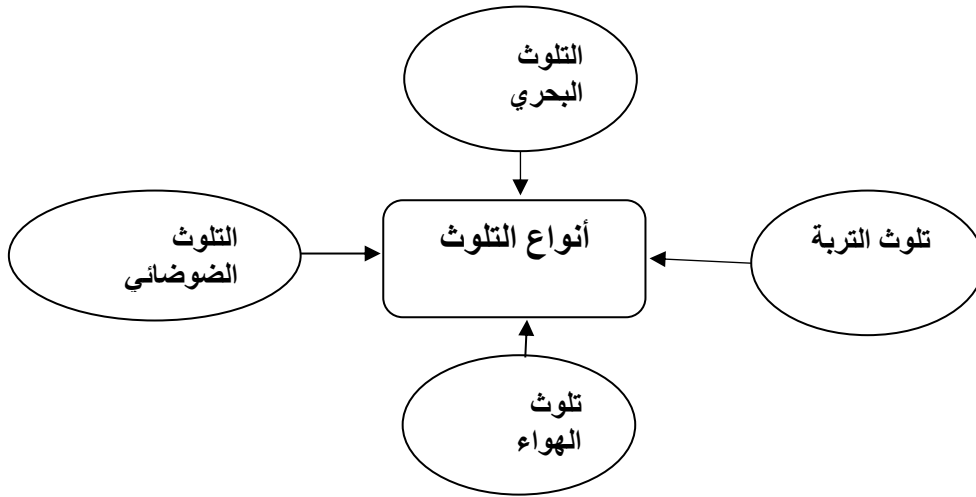
- ١ . السعودية .
- ٢ . قطر .
- ٣ . بحره .
- ٤ . العوار .
- ٥ . البحرين .

## اجابة السؤال الرابع عشر:

١. كميات النفط المخزنة في باطن الأرض .
٢. الزراعة التي تتم في بيئة رملية أو حصى أو نشارة خشب .
٣. عدد السكان في الكيلو متر المربع .
٤. زيادة عدد السكان بسبب زيادة المواليد والهجرة .
٥. الضرر الذي يصيب عناصر البيئة الأساسية (الماء والهواء والتربة) .
٦. أصوات غير متجانسة تتجاوز شدتها المعدل الطبيعي المسموح به للأذن .
٧. دخول مواد غريبة في التربة مما يلحق الضرر في خواصها ومكوناتها .
٨. درع واقى للحياة ضد خطر الأشعة فوق البنفسجية الضارة .
٩. إفساد نوعية المياه من خلال إدخال مواد ضارة للمياه من قبل الإنسان .
١٠. مجموعة من الأفراد الذين يشاركون الأسرة في دور او أكثر داخل وخارج المنزل .
١١. السلوك العدواني التدميري الموجه ضد الآخرين .

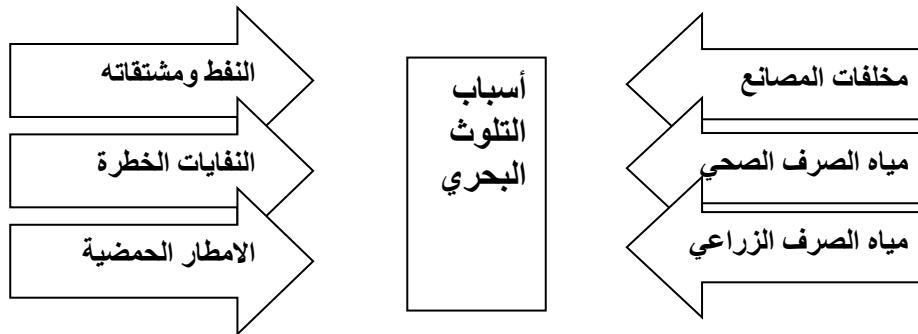
## اجابة السؤال الخامس عشر:

## أنواع التلوث



## اجابة السؤال السادس عشر:

## أسباب التلوث البحري:







## اجابة السؤال السابع عشر:

مصادر التلوث الهوائي	
طبيعية	غير طبيعية
براكين عواصف ترابية	سيارات وطائرات الصناعة حرق النفايات مبيدات حشرية

## اجابة السؤال الثامن عشر :

## اذكر أسباب التلوث لكل من

- أ- الضوضاء ١- آلات كهربائية ٢- أعمال النجارة ٣- أجهزة التسجيل  
ب- البحار ١- النفط ومشتقاته ٢- مخلفات المصانع ٣- نفايات خطرة  
ج- الهواء ١- أول أكسيد الكربون ٢- إشعاعات نووية ٣- ثاني أكسيد النيتروجين  
د- أوجد حلا للمعادلة التالية • العنف

## اجابة السؤال التاسع عشر:

الأسباب	مظاهر العنف الناتجة عنها
نفسية	عدم الرغبة في مواصلة الدراسة
أسرية	عدم وعي الأسرة بأهمية التعليم
أسرية	التربية الخاطئة للطفل
بيئية عامة	نقص وسائل الرعاية الاجتماعية
نفسية	التوتر والحزب والقلق

## اجابة السؤال العشرون:

## حلول المشكلات الاجتماعية:

حلول مشكلة العمالة المنزلية	حلول مشكلة العنف
- الاهتمام الجاد بالقرآن والسنة	- الاهتمام الجاد بالقرآن والسنة
- تحمل كل فرد مسؤوليته في الأسرة	- القدوة الحسنة
- جعل مهمة الخادم مقتصرة على الأعمال المنزلية	- الاهتمام بالقراءة والمطالعة



## اجابة السؤال الحادي والعشرون:

علل لما يأتي:

- ١- بحكم موقعه الجغرافي الهام بين قارات العالم القديم
- ٢- الأمن والأمان - ارتفاع الأجور - توفر فرص العمل . السماح للوافدين باصطحاب عائلاتهم - توفر الرعاية الصحية
- ٣- تزايد الإنتاج الخليجي من النفط - تزايد الطلب العالمي على النفط كمصدر رئيسي للطاقة
- ٤- بسبب الزيادة الطبيعية والزيادة غير الطبيعية
- ٥- بهدف حماية أي دولة عضو في المجلس تتعرض للعدوان

## أجابه السؤال الثاني والعشرون:

اجب عما يلي

- ١- أ- البتروكياويات ب- تكرير النفط ج - الغاز
- ٢- أ- النفط ومشتقاته ب- الغاز الطبيعي
- ٣- أ - ضعف قدرة التربة على الإنتاج الزراعي ب- تلويث الإنتاج الزراعي مما يؤثر على الانسان
- ٤- أ- تلوث التربة - تدمير الحياة الفطرية - كميات كبيرة من الدخان - تلويث البحر بالنفط  
ب- ضخ كميات من النفط في البحر - احراق الابار النفطية ٧٣٧ بئرا
- ج ٢٣ - ١ - دلمون ٢- هيلي ٣- تاروت ٤ - دبا ٥- أم النار
- ج ٢٤ - ١ - آسيا ٢- افريقيا ٣ - أوروبا
- ج ٢٥ - ١ - الداخلية ٢- الخارجية
- ج ٢٦ - ١- السعودية ٢- الإمارات ٣- عمان ٤- الكويت ٥- قطر ٦- البحرين
- ج ٢٧ أذكر مظاهر التعاون بين دول الخليج في المجالات التالية

التعاون الثقافي	التعاون الاقتصادي	التعاون العسكري	التعاون السياسي
- توحيد المناهج الدراسية - انشاء مكتب التربية العربي - اجتماع وزراء التربية كل عامين	- زيادة العلاقات الاقتصادية وتطويرها - زيادة التبادل الاقتصادي	-التدريبات العسكرية - انشاء قوات مشتركة - قبول ابنا دول المجلس في الكليات العسكرية - مساندة دولة الكويت اثناء الغزو العراقي	-المواقف الموحدة تجاه القضايا السياسية المختلفة - مناصرة القضايا العادلة مثل قضية الشعب الفلسطيني