


تم تحميل هذا الملف من موقع المناهج الكويتية



الملف نموذج أسئلة منطقة الأحمدية التعليمية

[موقع المناهج](#) ← [المناهج الكويتية](#) ← [الصف السابع](#) ← [اجتماعيات](#) ← [الفصل الثاني](#)

روابط مواقع التواصل الاجتماعي بحسب الصف السابع



روابط مواد الصف السابع على تلغرام

[الرياضيات](#)

[اللغة الانجليزية](#)

[اللغة العربية](#)

[التربية الاسلامية](#)

المزيد من الملفات بحسب الصف السابع والمادة اجتماعيات في الفصل الثاني

| | |
|---|---|
| مذكرة موضوعية محلولة | 1 |
| حل الكتاب | 2 |
| حل الوحدة الرابعة في مادة الاجتماعيات | 3 |
| بنك اسئلة التربة سابع | 4 |
| مراجعات الصف السابع | 5 |

يقيم الامتحان على: التكوين والوطن العربي / الصف السابع / الفترة الدراسية الثانية / العام الدراسي ٢٠٢٣ / ٢٠٢٤
 يسأل إلى الثالث مقال، يتكون من (١ - ب - ج):
 ١- اكتب بين كل من حسب المطلوب منك في الجدول التالي

| مقارنة المقارنة | منظمة الأوبك | منظمة الأوبك |
|-----------------|--------------|--------------|
| سنة التأسيس | | |
| أجهزة المنظمة | | |

(ب) اشرح لما يلي:

١- اختلاف المتوجات الزراعية من دولة عربية إلى أخرى.

٢- تحتل الأغنام العربية مكاناً مهماً ضمن الثروة الرعوية.

(ج) عدد اثنين لكل مما يلي:

١- مصادر الطاقة البديلة المتجددة.

٢- محاور التنمية في الوطن العربي.

(مجموع السؤالات الثالث بالحروف.....)

١٥

٣



اجب عن جميع الاسئلة

السؤال الأول موضوعي يتكون من (١ - ب - ج):

١- اظهر الجدول الصحيح من بين البدائل التي تلي كل خيار مما يلي وضع تحته خطاً:

د- ١٤٠٥ مليون كم

ب- ١٣٠٥ مليون كم

ب- ١٢٠٥ مليون كم

أ- ١٠٥٠ مليون كم

٢- الدولة العربية الأولى في إنتاج النور:

أ- الكويت

ب- السعودية

٣- الأسواق التي تحتل المكلة الأولى بالنسبة لتجارة الصادرات العربية:

أ- الأمريكية

ب- اليابان

٤- الغاز الناتج عن عوادم السيارات:

أ- الأكسجين

ب- الهيدروجين

٥- الدائرة البيئية التي تمثل نسبة إنتاج النفط الخام في الوطن العربي بالنسبة للعالم:

أ-

ب-

ج-

د-

ب) أكمل العبارات التالية بما يناسبها:

- ١- القطاع الذي يحتل المرتبة الأولى ويشكل ٥٠% من الاقتصاد العربي يسمى.....
- ٢- الدولة العربية الأولى في إنتاج الإبل تسمى.....
- ٣- العام الذي تم فيه إنشاء الصندوق الكويتي للتنمية الاقتصادية العربية..... م
- ٤- صاحب المبادرة لعقد القمة العربية الاقتصادية والتنموية والاجتماعية عام ٢٠٠٩ م اسمه.....
- ٥- الدولة العربية التي استضافت المؤتمر الدولي لمخحي سوريا اسمها.....

ج) أكمل المخططات السهمية التالية:

١- تقسم مناطق الوطن العربي من حيث الكثافة

مناطق شبه خالية من السكان

.....

.....

.....

٢- أنواع التلوث

.....

.....

التربة

(مجموع السؤال الأول بالحروف.....)

يتم امتحان مقر الكويت والوطن العربي / الصف السابع / المادة الدراسية للغة / للعام الدراسي ٢٠٢٣ / ٢٠٢٤

السؤال الرابع مقالي يتكون من (أ - ب - ج):

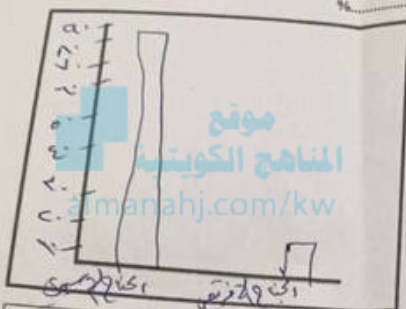
لاحظ الجدول الإحصائي الذي أمامك ثم أجب عما يليه من الأسئلة:

| نسبة إنتاج واحتياطي الغاز الطبيعي في الوطن العربي | النسبة |
|---|--------|
| إنتاج الغاز الطبيعي | 9666,0 |
| احتياطي الغاز الطبيعي | 9618 |
| الأسوي | 9633,0 |
| الأريفي | |

استخرج حقيقة من الجدول:

٢- كم تبلغ نسبة إنتاج الغاز الطبيعي في الجاه الأسوي؟

٣- حول نسبة احتياطي الغاز الطبيعي في الجاه الأسوي والأريفي إلى أصدء بيئية



(ب) فرق بين كل مما يلي من حيث التعريف:

| الهجرة الخارجية | الهجرة الداخلية |
|-----------------|-----------------|
| | |
| | |
| الغاز الطبيعي | التقط |
| | |
| | |

(ج) اكتب فيما يلي:


١- الحقيبات التي تواجه الإنتاج الزراعي في الوطن العربي.

٢- أسباب تدهور وفرة المياه في الوطن العربي.

٣- أهداف التنمية البشرية.

(مجموع السؤال الرابع بالحروف انتهت الأسئلة)

قائمة بالمختار مقرر الكويت والوطن العربي / نصف السابع / الفترة الدراسية الثانية / العام الدراسي ٢٠٢٣ / ٢٠٢٤
السؤال الثاني موضوعي ويتكون من (١ - ب - ج) :
المختار من المجموعة (أ) ما يناسبها للمجموعة (ب) بوضع الرقم الصحيح في المكان المناسب:

| الرقم الصحيح المجموعة (ب) | المجموعة (أ) | الرقم الصحيح |
|--|-----------------------|--------------|
|  | الثروة الرعوية | |
|  | الصناعة الاستخراجية | |
|  | الصناعة التجميعية | |
|  | الصناعة الحرفية | |
|  | الصناعة البتروكيماوية | |

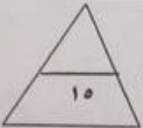
(ب) اكتب المفاهيم أو المصطلحات الدالة على كل من العبارات التالية:

| الرقم | المفهوم/المصطلح | العبرة |
|-------|-----------------|---|
| ١ | | - الفرق بين معدل المولد ومعدل الوفيات. |
| ٢ | | - الثروات التي منحها الله لإقليم من دون أن يكون للإنسان أي دور في وجودها. |
| ٣ | | - التبادل التجاري بين الدول العربية. |
| ٤ | | - التطور والتطوير وهي عملية تتطلب التخطيط والمشاركة من الجميع. |
| ٥ | | - العمل على توثيق الصلات بين الدول والشعوب العربية وحماية مصالحها السياسية والاقتصادية والثقافية. |

(ج) صنّف مقومات الصناعة في الوطن العربي حسب موقعها في الجدول:

(رؤوس الأموال - البترول - الأيدي العاملة - الغابات - السوق)

| مقومات طبيعية | مقومات بشرية |
|---------------|--------------|
| | |



(مجموع السؤال الثاني بالحروف)..... ()