

تم تحميل هذا الملف من موقع المناهج الكويتية



الملف مذكرة إثرائية محلولة من علا

[موقع المناهج](#) ← [المناهج الكويتية](#) ← [الصف السادس](#) ← [اجتماعيات](#) ← [الفصل الثاني](#)

روابط مواقع التواصل الاجتماعي بحسب الصف السادس



روابط مواد الصف السادس على تلغرام

[الرياضيات](#)


[اللغة الانجليزية](#)

[اللغة العربية](#)

[التربية الاسلامية](#)

المزيد من الملفات بحسب الصف السادس والمادة اجتماعيات في الفصل الثاني

مراجعة	1
مراجعة	2
مراجعة	3
مذكرة في مادة الاجتماعيات	4
مراجعة محلولة ومفيدة في مادة الاجتماعيات	5



الاجتماعيات

الكورس الثاني

6



موقع
المناهج الكويتية
almanahj.com/kw

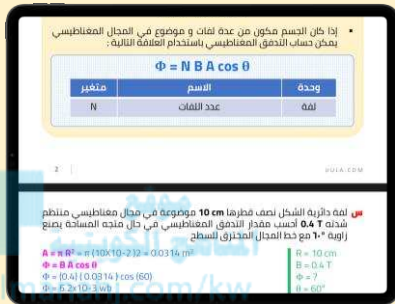
الاجتماعيات

الكورس الثاني

6

شلون تتفوق بحراستك

طريقة علا المتكاملة للدراسة تشمل الاستفادة من المذكرة و الفيديوهات و الاختبارات



⚠ علا تخلي المذكرة أقوى

تبي أعلى الدرجات؟ لا تعتمد على المذكرة بروحها - ادرس صح من الفيديوهات و الاختبارات

اختبارات ذكية تدريك

حل الاختبارات الالكترونية أول بأول عشان ترفع مستواك



فيديوهات تشرح لك

تابع الفيديوهات و انت تدرس المذكرة عشان تضبط الدرس



اشترك بالمادة

احرص على تفعيل اشتراكك عشان تستفيد كثر ما تقدر



اكتشف عالم التفوق مع باقات علا ادرس جميع مواد مرحلتك باشتراك واحد بسعر خيالي

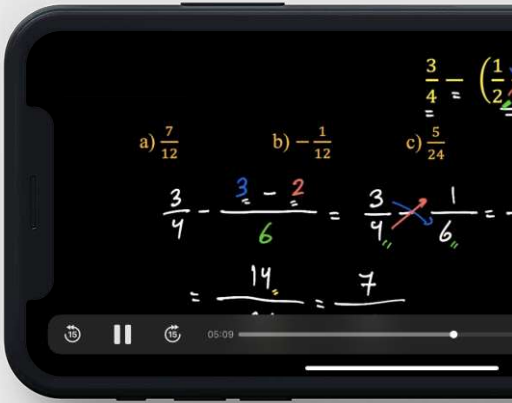
المنقذ

أقوى مذكرة صارت الحين أقوى و أقوى مع خاصية
المنقذ للمساعدة الفورية

شنو المنقذ؟

امسح الباركود بكاميرا تلفونك
وتعرف على طريقة استخدام المنقذ

المنهج الكويتية
almanahj.com/kw



شنو فائدة هالخاصية؟

أول ما تحتاج مساعدة بالمادة , المنقذ بينقذك .

امسح الباركود بكاميرا التلفون أو اضغط عليه إذا كنت فاتح
المذكرة من جهازك و يطلع لك فيديو الشرح.

01 الموارد الاقتصادية في دول الخليج العربية

الثروة النفطية	5
الموارد الزراعية	15
الموارد الصناعية	18
الموارد التجارية	23



02 دول الخليج العربية تنمو سكانيا و تتشابه ثقافيا

السكان في المنطقة العربية	24
الهجرات	27
النمو السكاني	31
الكثافة السكانية	35
التشابه الثقافي بين سكان دول الخليج العربية	37

03 الكويت ودول الخليج العربية في مواجهة التحديات

تتعاون دولة الكويت مع دول الخليج العربية من أجل تحقيق أهداف مشتركة	40
المشكلات التي تواجه دول الخليج العربية	44
أثر الغزو العراقي الغاشم على البيئة الكويتية	49
المشكلات الاجتماعية	52



الموارد الاقتصادية في دول الخليج العربية الثروة النفطية

س عدد - الموارد الاقتصادية في دول الخليج العربية



أكمل ما يلي

س العام الميلادي الذي بدأ فيه التنقيب عن النفط في الكويت 1934 م

س بدأ التنقيب عن النفط في الكويت في الحقول الشمالية في حقل يسمى بحرة

س أول حقل نفطي تم اكتشافه في الكويت يسمى بحرة almanahj.com/kw

س وجد الكويتيين النفط في حقل بحره بكميات قليلة

س اتجه الكويتيين للتنقيب عن النفط في الجنوب في حقل يسمى برقان

س أكبر حقل نفطي في الكويت يسمى برقان

س علل - اتجاه الكويت للتنقيب عن النفط في جهة الجنوب ؟

لأن الكميات التي وجدوها في حقل بحرة قليلة

س أكتب مدلول الصورة المقابلة

عملية التنقيب عن النفط



س فرق بين كلا من

احتياطي النفط	إنتاج النفط
كميات النفط المخزونة في باطن الأرض	كميات النفط التي يتم استخراجها للاستفادة منها

لاحظ الجدول المقابل ثم أجب عما يلي

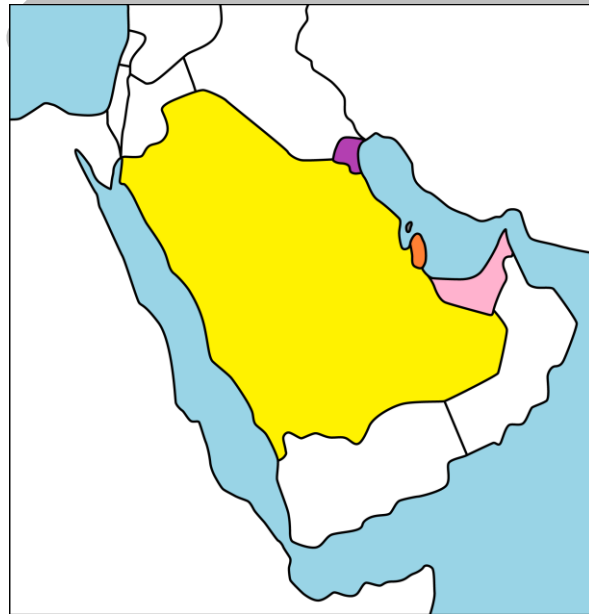
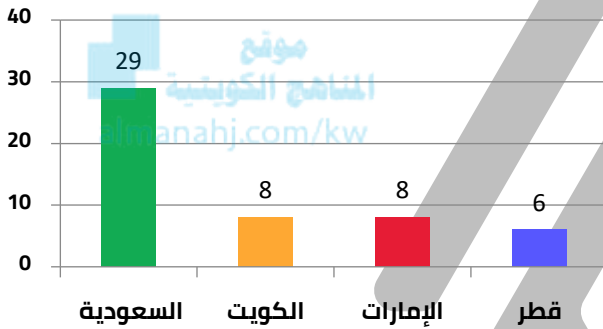
نسبة إنتاج بعض دول مجلس التعاون الخليجي عام 2008 م	
الدولة	نسبة إنتاج شهر أغسطس عام 2008 م
السعودية	29%
الكويت	8%
الإمارات	8%
قطر	6%

س أعلى نسبة إنتاج لشهر أغسطس لدولة تسمى السعودية.

س تحتل دولة الكويت في إنتاج النفط المركز الثاني وتشاركها في هذا المركز دولة الإمارات.

س أقل نسبة إنتاج لشهر أغسطس لدولة تسمى قطر.

س حول الجدول المقابل إلى أعمدة بيانية



تدرب و تفوق
اختبارات الكترونية



س ظهور الحاجة إلى إقامة العديد من الموانئ النفطية ؟

- بسبب تزايد الإنتاج النفطي لدول مجلس التعاون من الحقول البرية والبحرية
- زيادة الطلب عليه كمصدر أساسي للطاقة

أكمل ما يلي

س العام الميلادي الذي تم فيه تصدير أول شحنة نفط من الكويت 1946 م

س أمير الكويت الذي تم في عهده تصدير أول شحنة نفط يسمى الشيخ أحمد الجابر الصباح

س عدد- أهم الدول المستوردة للنفط الكويتي ؟

الولايات المتحدة الأمريكية - هولندا - اليابان



س علل - لا يتم تصدير جميع الإنتاج من النفط الكويتي ؟

للاحتفاظ بجزء منه كاحتياطي للأجيال القادمة

س أكتب مدلول الصورة المقابلة

تصدير أول شحنة للنفط الخام الكويتي



اقرأ الفقرة التالية ثم أجب عن الأسئلة التي تليها بالاستعانة بالفقرة ومما درست

((بدأ التنقيب عن النفط في دولة الكويت عام 1934 م في حقل بحرة , ولم تكن الكميات الكبيرة فاتجهت إلى الجنوب في عمليات التنقيب , وتم اكتشاف كميات كبيرة في حقل برقان وبعد 12 عام من بدء التنقيب عن النفط تم تصدير أول شحن نفط كويتي , إلا أنه لا يتم تصدير إنتاج النفط كله في الخارج))

عرف ما تحته خط

إنتاج النفط

كميات النفط التي يتم استخراجها للاستفادة منها

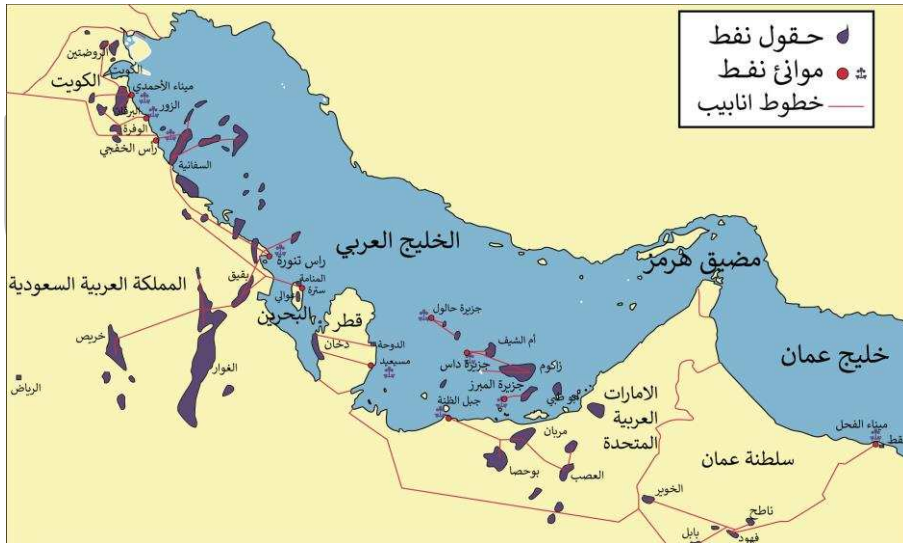
موقع
الكويتية
almanahi.com/kw

س قارن بين حقل بحرة وحقل برقان حسب المطلوب في الجدول

أوجه المقارنة	حقل بحرة	حقل برقان
الموقع	شمال الكويت	جنوب الكويت
الكميات المستخرجة	قليلة	كثيرة

س من المعطيات الموجودة في الفقرة احسب العام الذي تم فيه تصدير أول شحنة من النفط الكويتي

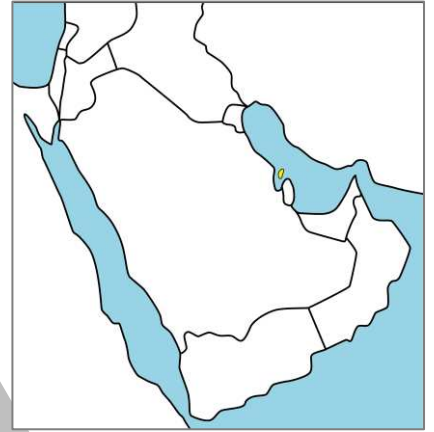
$$1946 = 12 + 1934$$



س عدد - أهم حقول النفط في دولة الإمارات
مربان - العصب - بوحصا - زاكوم - أم الشيف



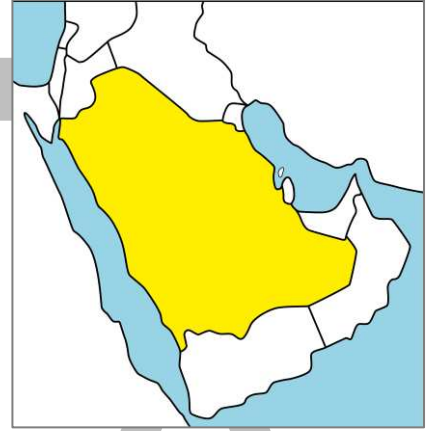
س عدد - أهم الموانئ النفطية في دولة الإمارات
جبل الظنة - جزيرة المبرز - جزيرة داس - جزيرة
حالول



س أكمل - حقل ينتج النفط في البحرين يسمى
عوالي

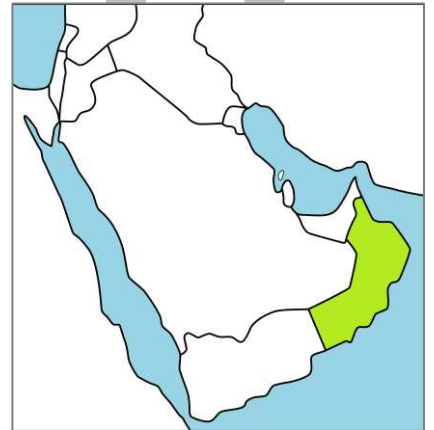
س أكمل
أهم الموانئ النفطية في البحرين يسمى
سترة

س عدد - أهم حقول النفط في السعودية
الغوار - خريص - بقيق - السفانية



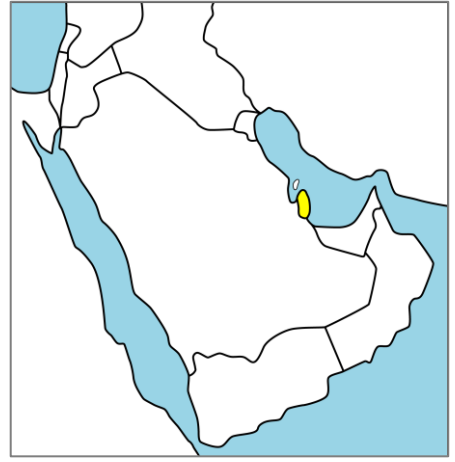
س عدد - أهم الموانئ النفطية في السعودية
رأس تنورة - رأس الخفجي

س عدد - أهم الحقول النفطية في عُمان
ناطح - فهود - بابل - لخوير



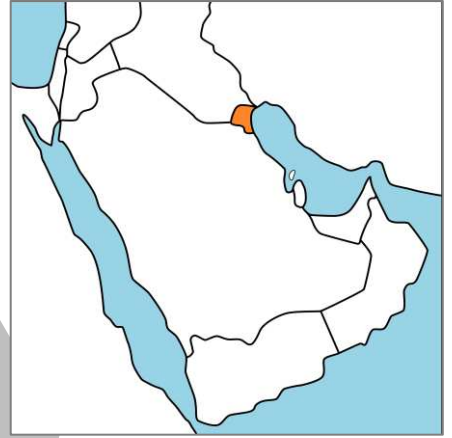
س أكمل
أهم موانئ النفط في عُمان يسمى
ميناء الفحل

س أكمل - حقل ينتج النفط في دولة قطر يسمى
دخان

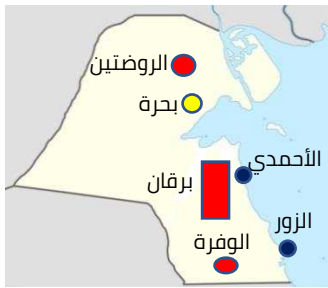


س أكمل : أهم موانئ النفط في قطر يسمى
أمسيعيد

س عدد - أهم حقول النفط في الكويت ؟
الروضتين - برقان - الوفرة



س عدد - أهم الموانئ النفطية في دولة الكويت
ميناء الزور - ميناء الأحمدى



أكمل ما يلي

س أكبر الحقول النفطية في السعودية حقل يسمى الغوار

س الدولة الخليجية التي يوجد بها حقل عوالي تسمى البحرين

س الدولة الخليجية التي يوجد بها ميناء جبل الظنة تسمى الإمارات

س صنف الحقول النفطية لدول الخليج العربية في الجدول التالي
(العصب - الغوار - عوالي - الروضتين - بابل - دخان)

السعودية	البحرين	الإمارات	عمان	الكويت	قطر
الغوار	عوالي	العصب	بابل	الروضتين	دخان

س صنف الموانئ النفطية لدول الخليج العربية في الجدول التالي :
(فحل - جبل الظنة - رأس تنورة - أمسيعيد - الأحمدى - ستره)

السعودية	البحرين	الإمارات	عمان	الكويت	قطر
رأس تنورة	ستره	جبل الظنة	فحل	الأحمدى	أمسيعيد

موقع
المناهج الكويتية
almanahj.com/kw

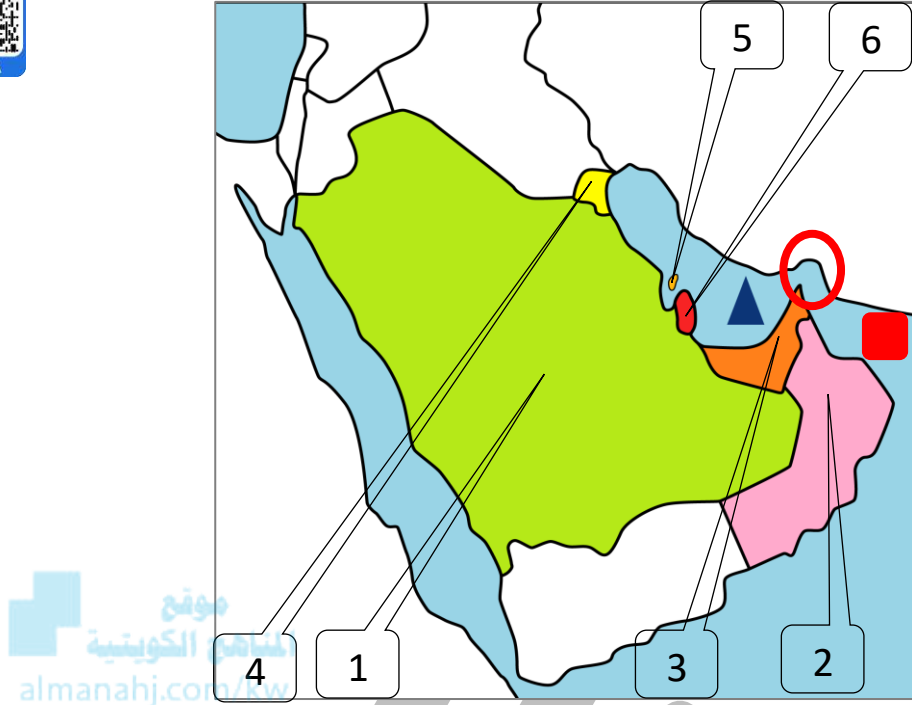


تدرب و تفوق
اختبارات الكترونية

U U L A



لاحظ الخريطة الصماء ثم نفذ ما هو مطلوب منك :



س يقع ميناء الفحل وحقل وحقل ناطح في دولة خليجية تحمل على الخريطة رقم 2 _

س الدولة الخليجية التي يوجد بها ميناء أمسيعيد وحقل دخان تحمل على الخريطة رقم 6 _

س حقول الغوار وميناء رأس تنورة تقع في دولة خليجية تحمل على الخريطة رقم 1 _

س الدولة الخليجية التي يوجد بها ميناء سترة وحقل عوالي النفطي تحمل على الخريطة رقم 5 _

س الدولة الخليجية التي يوجد بها ميناء سترة وحقل عوالي النفطي تحمل على الخريطة رقم 4 _

س الدولة التي يوجد بها حقول مربان وميناء جبل الظنة تحمل على الخريطة رقم 3 _

س الرمز ▲ يشير إلى مسطح مائي يسمى الخليج العربي _

س الرمز ○ يشير إلى مضيق يسمى مضيق هرمز _

س الرمز ■ يشير إلى مسطح مائي يسمى خليج عمان _

اختر الإجابة الصحيحة

س مضيق يصل بين الخليج العربي وخليج عمان يسمى

- البسفور ○ باب المندب ○ جبل طارق ○ **هرمز** ○

س عاصمة دولة الكويت مدينة تسمى

- مسقط ○ الأحمدي ○ **الكويت** ○ ○ الرياض

س عاصمة دولة قطر مدينة تسمى

- مسقط ○ الدوحة ○ **الكويت** ○ ○ الرياض

س عاصمة المملكة العربية السعودية مدينة تسمى

- مسقط ○ الدوحة ○ **الكويت** ○ ○ الرياض

موقع
المنهاج الكويتية
almanahj.com/kw
○ **المنامة** ○

س عاصمة مملكة البحرين مدينة تسمى

- الدوحة ○ **الكويت** ○ ○ الرياض ○ **المنامة**

س عاصمة دولة الإمارات العربية مدينة تسمى

- الدوحة ○ **أبو ظبي** ○ ○ الرياض ○ **المنامة**

س عاصمة سلطنة عمان مدينة تسمى

- مسقط ○ **أبو ظبي** ○ ○ الرياض ○ **المنامة**

س أكبر الحقول النفطية في دولة الكويت يسمى

- برقان ○ **الروضتين** ○ ○ الوفرة ○ ○ بحرة

س أكبر الحقول النفطية في دولة قطر يسمى

- دخان ○ **عوالي** ○ ○ ناطح ○ ○ بابل

س أكبر الحقول النفطية في دولة الإمارات يسمى

- بوحصا ○ **العصب** ○ ○ مربران ○ ○ **زاكوم**

س أكبر الحقول النفطية في البحرين يسمى

- سترة ○ **عوالي** ○ ○ مربران ○ ○ **زاكوم**



تدرب و تفوق
اختبارات الكترونية

موقع
المناهج الكويتية
almanahj.com/kw



U U L A



الموارد الاقتصادية في دول الخليج العربية

الموارد الزراعية

س دلل - نجحت دول الخليج العربية في التغلب على الصعوبات التي تواجه الأراضي الزراعية

- الحكومات بذلت أفضل الجهود للتغلب على الصعوبات
- إنتاج محاصيل نشاهدها في الأسواق
- السعودية لها تجربة رائدة في إنتاج القمح

أكمل

س للملكة العربية السعودية تجربة رائدة في إنتاج محصول يسمى **القمح** -



س أكمل الجدول التالي

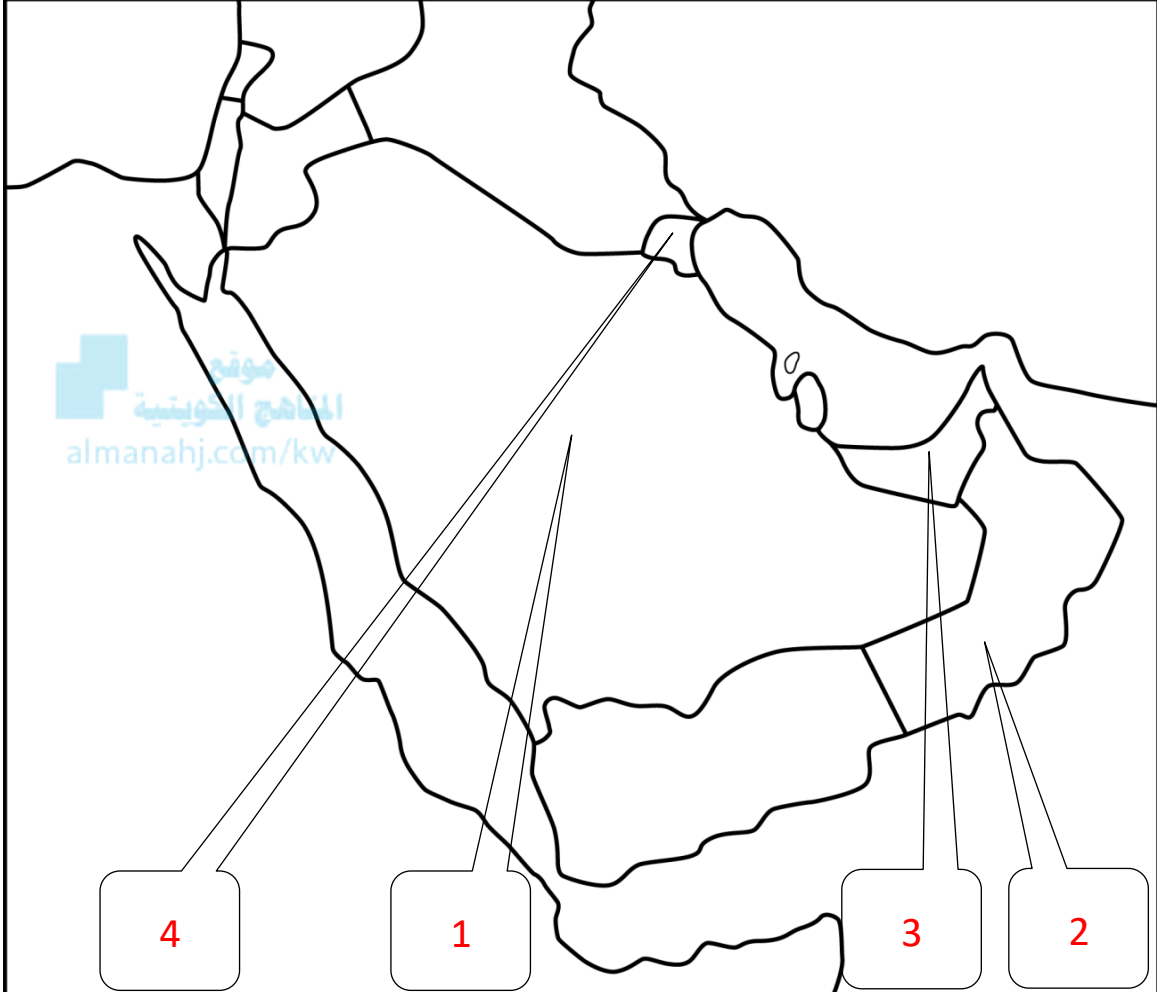
المناطق الزراعية لدول مجلس التعاون الخليجي			
عُمان	الإمارات	السعودية	الكويت
سهل الباطنة صلالة	العين ليوا	سهل الإحساء سهل تهامة	العبدلي الوفرة

اختياري :

س منطقة ليوا الزراعية توجد في دولة

- الإمارات ○ الكويت ○ السعودية ○ عُمان

لاحظ الخريطة الصماء ثم نفذ ما هو مطلوب منك :



س دولة خليجية توجد بها سهل تهامة تحمل على الخريطة الرقم 1_

س دولة خليجية توجد بها منطقة العبدلي الزراعية تحمل على الخريطة الرقم 4_

س دولة خليجية توجد بها منطقة ليوا الزراعية تحمل على الخريطة الرقم 3_

س دولة خليجية توجد بها منطقة سهل الباطنة الزراعية تحمل على الخريطة الرقم 2_

صح ما تحته خط في العبارات التالية :

س يوجد سهل الباطنة في دولة الإمارات (عمان)

س توجد منطقة ليوا الزراعية في دولة قطر (الإمارات)

س عدد - الجهود التي تتبعها حكومات مجلس التعاون لزيادة إنتاج المحاصيل الزراعية ؟

- الزراعة بدون تربة
- الزراعة في البيوت البلاستيكية

س فرق بين كلا من :

البيوت البلاستيكية	الزراعة بدون تربة
هي زراعة الخضروات في غير مواسمها وتقوم بحماية المحاصيل من تقلبات الطقس	هي الزراعة التي تتم في بيئة مائية أو رملية أو حصى أو نشارة خشب مضاف إليها المحاليل الغذائية


س علل - استخدام البيوت البلاستيكية في دول الخليج ؟

- حماية المحاصيل من تقلبات الطقس
- زراعة الخضروات في غير مواسمها

س أكتب مدلول الصور التالية :



الزراعة في البيوت البلاستيكية في الكويت



الزراعة بدون تربة



تدرب و تفوق
اختبارات الكترونية



الموارد الاقتصادية في دول الخليج العربية

الموارد الصناعية

عرف

الصناعة

هي تحويل المواد الخام إلى مواد يمكن الاستفادة منها

س علل - كان لاكتشاف النفط وتصديره أهمية كبرى؟

- لأن دول الخليج بدأت بمرحلة جديدة في نمو اقتصادها
- لعبت دور مهم ومؤثر في الدخل القومي لدول مجلس التعاون الخليجي

س علل - اهتمام حكومات دول مجلس التعاون لدول الخليج العربي في صناعة تكرير النفط؟

المنهج الكويتي
almanahj.com/kw

- زيادة الكميات المصدرة
- زيادة الدخل

عرف

الدخل القومي

هو مجموع الدخول التي تحصل عليها الدولة خلال عام

س أكمل الجدول الناقص :

سبب ازدهار الصناعة	اكتشاف النفط
النتيجة	زيادة الدخل - النمو الاقتصادي - التوسع في الصناعات

تدرب و تفوق

اختبارات الكترونية



س عدد - أنواع الصناعات القائمة على النفط في دول مجلس التعاون الخليجي



تكرير النفط

النحاس

الغاز

بتروكيماويات

س أكتب مدلول الصور التالية



تكرير النفط



الصناعات في دول الخليج العربية

س عدد - أهم المناطق الصناعية في دول الخليج العربية

الشعبية

ينبع

جبل علي



أكمل

س أهم المناطق الصناعية في الكويت تسمى الشعبية

س عدد - أهم أنواع الصناعات في منطقة الشعبية الصناعية

بتروكيماويات

الغاز

تكرير النفط



س عدد - أهم المناطق الصناعية في المملكة العربية السعودية

ينبع

الرياض

الجبيل

س عدد - أهم الصناعات في منطقة الجبيل الصناعية

بتروكيماويات

تكرير النفط

أكمل

س أهم الصناعات في منطقة الرياض تسمى تكرير النفط

س عدد - أهم الصناعات في منطقة ينبع الصناعية

بتروكيماويات

الغاز

تكرير النفط

س عدد - أهم الصناعات في منطقة شمال سترة الصناعية

- تكرير النفط
- الغاز
- بتروكيماويات

أكمل

س أهم المناطق الصناعية في دولة قطر تسمى امسيعيد

س عدد - أهم الصناعات في منطقة امسيعيد الصناعية

- بتروكيماويات
- الغاز
- تكرير النفط

موقع
المناهج الكويتية
almanahj.com/kw



تدرب و تفوق
اختبارات الكترونية



س عدد - أهم المناطق الصناعية في الإمارات العربية المتحدة



س عدد- أهم الصناعات في منطقتي الرويس وجبل علي ؟

- بتروكيماويات
- الغاز
- تكرير النفط

س عدد - أهم المناطق الصناعية في سلطنة عمان

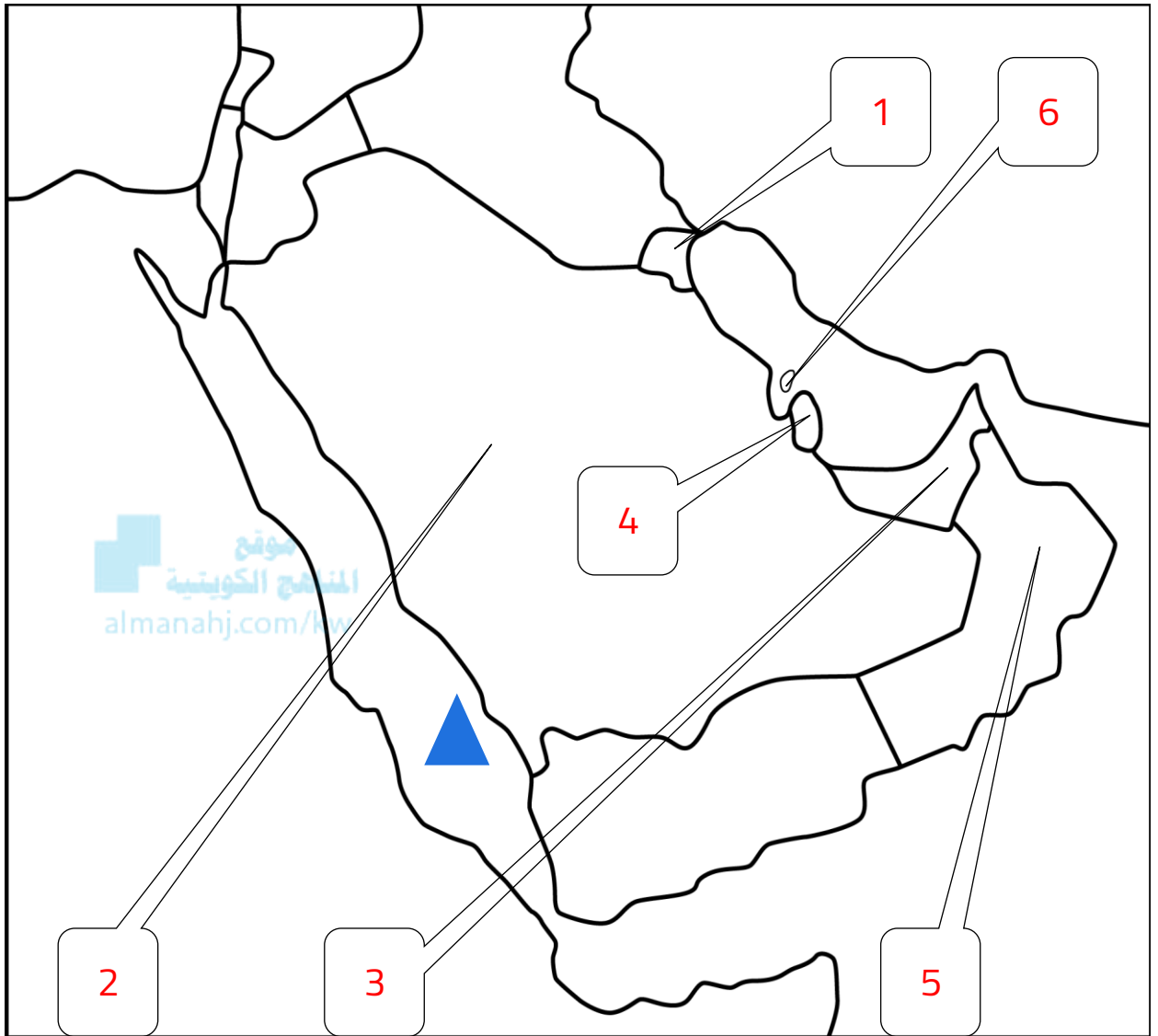
- صحار
- الفحل

أكمل

س الصناعة التي اشتهرت بها منطقة صحار في سلطنة عُمان تسمى النحاس

س منطقة صناعية في سلطنة عمان من أهم الصناعات فيها تكرير النفط وبتروكيماويات تسمى الفحل

لاحظ الخريطة ثم نفذ المطلوب منك :



س منطقة الشعبية الصناعية يمثلها على الخريطة رقم 1_

س منطقة ينبع الصناعية في دولة خليجية تحمل على الخريطة رقم 2_

س منطقتي الرويس وجبل علي الصناعية في دولة خليجية يمثلها على الخريطة رقم 3_

س منطقة أمسيعيد الصناعية في دولة خليجية تحمل على الخريطة الرقم 4_

س دولة خليجية يوجد بها منطقتي صحر والفحل تحمل على الخريطة رقم 5_

س منطقة شمال سترة الصناعية في دولة خليجية تحمل على الخريطة رقم 6_

س حدد بالرمز ▲ البحر الأحمر

لاحظ الصور التالية ثم استكمل الشكل التالي



المادة التحويلية



المادة الخام

صناعة



المادة التحويلية




المادة الخام

صناعة



تدرب و تفوق
اختبارات الكترونية



UULA

U U L A



الموارد الاقتصادية في دول الخليج العربية

الموارد التجارية

عرف

المصادر

السلع والمنتجات التي تبيعها دولنا في الخارج

الواردات

البضائع والسلع التي تشتريها دولنا من الخارج

الترانزيت

إعادة تصدير البضائع المستوردة

صوب ما تحته خط :

(الواردات)

س البضائع والسلع التي تشتريها دولنا تسمى الصادرات

(ترانزيت)

س إعادة تصدير البضائع المستوردة تسمى واردات

س عدد - النتائج المترتبة على ارتباط دول مجلس التعاون بعلاقات تجارية مع دول العالم ؟

- انتعاش الموانئ التجارية
- انتعاش تجارة الترانزيت
- ارتفاع الدخل القومي

تدرب و تفوق

اختبارات الكترونية





دول الخليج العربية تنمو سكانيا و تتشابه ثقافيا

السكان في المنطقة العربية

عرف

السلالة

هي مجموعة من الناس تشترك فيما بينهم صفات جسمانية رئيسية كلون الجلد وتختلف عن غيرها من السلالات في هذه الصفة

أكمل

ممكن أن يظهر السؤال في صيغة اخرى: اختياري

س ترجع أصول السلالات السكانية في منطقة الخليج العربي إلى جنس البحر المتوسط و شرق افريقيا

المنهاج الكويتية
almanahj.com/kw

س الدولة التي يوجد بها حضارة دلمون تسمى البحرين

س الدولة التي يوجد بها حضارة هيلي تسمى الإمارات

س حضارة أم النار توجد في دولة قطر

س الحضارة التي توجد في دولة عُمان تسمى ديبا

س الحضارة التي توجد في السعودية تسمى تاروت

س تم اكتشاف حضارات دول الخليج العربي على يد البعثة الدانمركية

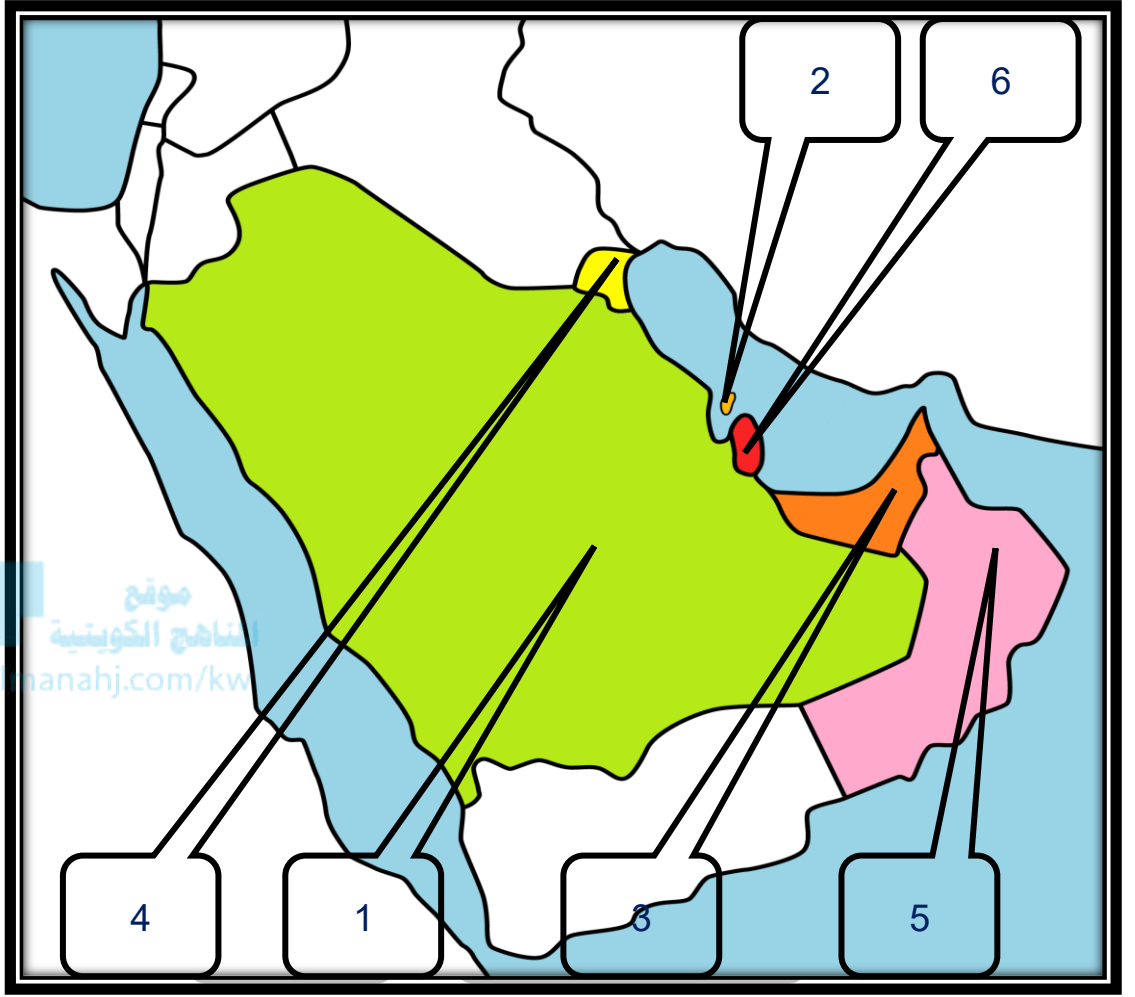
س علل - تتشابه الآثار الحضارية في دول الخليج العربي؟
بسبب اتصال وتقارب سكان منطقة الخليج العربي



تدرب و تفوق
اختبارات الكترونية



لاحظ الخريطة ثم نفذ المطلوب منك



- س** الدولة الخليجية التي ظهرت بها حضارة دلمون تحمل على الخريطة الرقم **2** _
- س** الدولة الخليجية التي ظهرت بها حضارة دبا تحمل على الخريطة الرقم **5** _
- س** الدولة الخليجية التي ظهرت بها حضارة تاروت تحمل على الخريطة الرقم **1** _
- س** الدولة الخليجية التي ظهرت بها حضارة أم النار تحمل على الخريطة الرقم **6** _
- س** الدولة الخليجية التي ظهرت بها حضارة هيلي تحمل على الخريطة الرقم **3** _

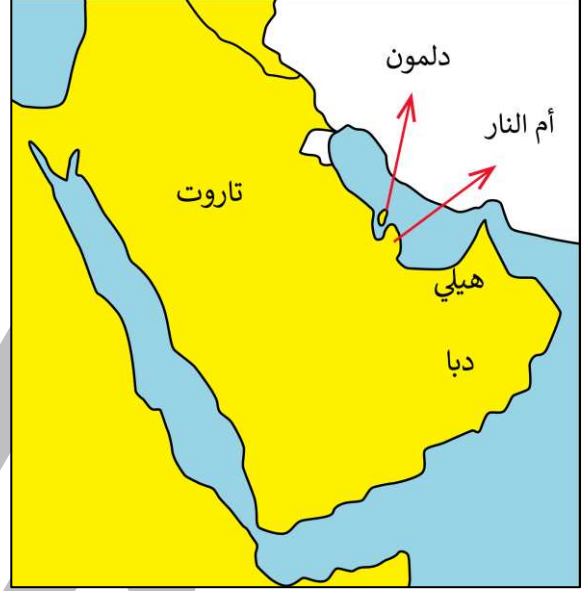
س وزع الحضارات حسب مكانها الصحيح في الجدول التالي :
(دلمون - هيلي - أم النار - دبا - تاروت)

الحضارة	هيلي	تاروت	دبا	أم النار	دلمون
الدولة التي قامت فيها	الإمارات	السعودية	عُمان	قطر	البحرين

س صف المناطق التاريخية من الشمال إلى الجنوب

- السعودية (تاروت)
- البحرين (دلمون)
- قطر (أم النار)
- الإمارات (هيلي)
- عُمان (دبا)

موقع
المناهج الكويتية
almanahj.com/kw



تدرب و تفوق
اختبارات الكترونية

U U L A



دول الخليج العربية تنمو سكانيا و تتشابه ثقافيا

الهجرات

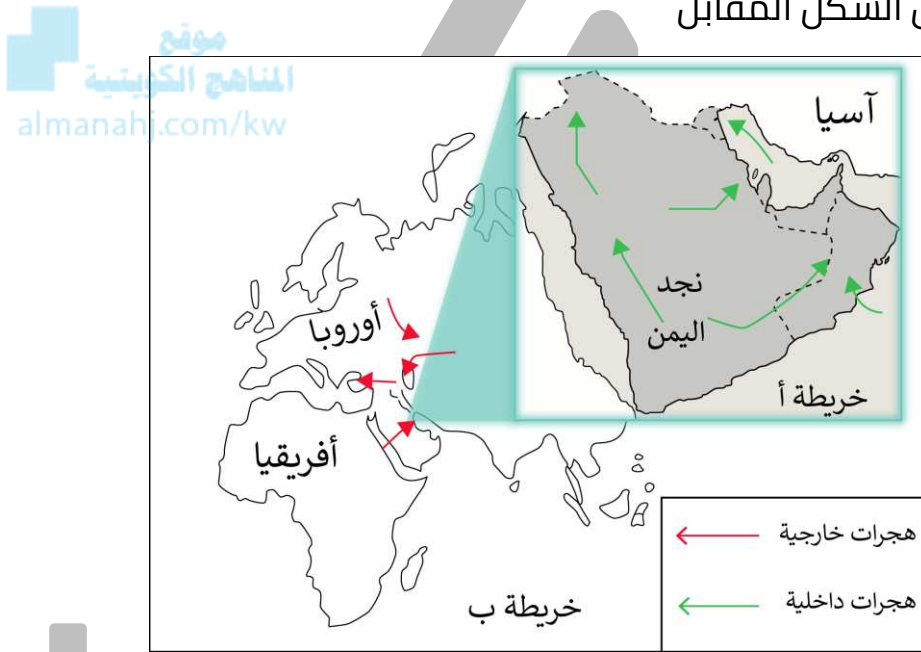
س عدد - أنواع الهجرات ؟

- هجرات داخلية
- هجرات خارجية

أكمل:

س تعتبر شبه الجزيرة العربية ملتقى الهجرات الخارجية القادمة من آسيا و **أفريقيا**

س أكتب مدلول الشكل المقابل



ملتقى الهجرات الخارجية والداخلية لشبه الجزيرة العربية

س علل - استقرار السكان في أطراف شبه الجزيرة العربية ومنطقة الخليج العربي ؟
بسبب الظروف الطبيعية القاسية

س علل - استقبال منطقة الخليج العربي موجات سكانية من كل المناطق المجاورة
بسبب الموقع الجغرافي المهم بين قارات العالم القديم

س علل - تحرك الهجرات العربية من قلب الجزيرة العربية إلى السواحل الغربية للخليج العربي ؟
بسبب ظروف الجفاف الصحراوي

س وزع الهجرات الآتية حسب مكانها الصحيح في الجدول التالي
(آل الصباح - آل خليفة - المعاضيد - آل بوسعيد واليعاربة - القواسم - بني ياس)

الهجرة	المعاضيد	آل بوسعيد واليعاربة	القواسم	آل الصباح	آل خليفة	بني ياس
منطقة الاستقرار	قطر	عُمان	رأس الخيمة	الكويت	البحرين	أبو ظبي

اختياري :

س فرجت هجرة المعاضيد إلى دولة

قطر ○ عمان ○ البحرين ○ أبو ظبي ○

موقع
المنهج الكويتية
almanahj.com/kw

س الدولة التي هاجر إليها آل خليفة هي

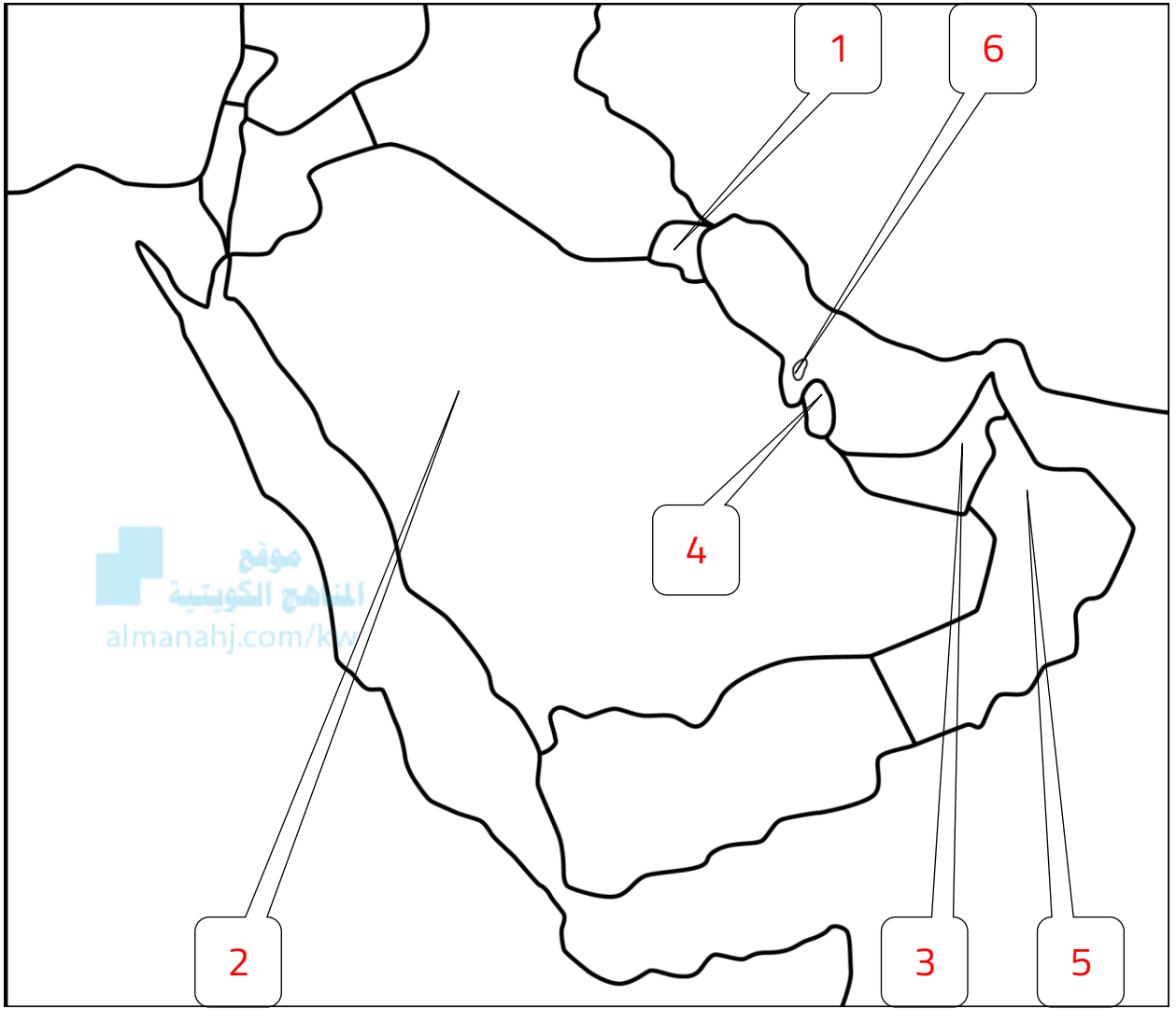
البحرين ○ الكويت ○ قطر ○ عمان ○

س الدولة التي هاجر إليها كلامن القواسم وبني ياس هي

الإمارات ○ عمان ○ قطر ○ الكويت ○

U U L A

لاحظ الخريطة ثم نفذ المطلوب منك



س دولة هاجر إليها البوسعيد واليعاربة تحمل على الخريطة الرقم 5 .

س هاجر آل صباح إلى دولة خليجية تحمل على الخريطة الرقم 1 .

س هاجر المعاضيد إلى دولة تحمل على الخريطة الرقم 4 .

س هاجر القواسم وبني ياس إلى دولة تحمل على الخريطة الرقم 3 .

س الدولة التي هاجر إليها آل خليفة تحمل على الخريطة الرقم 6 .

أذكر لكل مما يلي :

س عامل جذب لمنطقة الخليج العربي ؟

الموقع الجغرافي المتميز

س عامل طرد للسكان من شبه الجزيرة العربية

الجفاف وقسوة المناخ



تدرب و تفوق

اختبارات الكترونية

موقع
المناهج الكويتية
almanahj.com/kw



U U L A



دول الخليج العربية تنمو سكانيا و تتشابه ثقافيا

النمو السكاني

عرف

النمو السكاني

هو التغير الذي يحدث لعدد السكان نتيجة الزيادة الطبيعية والغير طبيعية

س فرق بين كل من :

الزيادة الغير طبيعية	الزيادة الطبيعية
الزيادة الناتجة عن الهجرة	عدد المواليد - عدد الوفيات

س علل - شهدت منطقة الخليج العربي نموا سكانياً فجائياً بعد اكتشاف النفط ؟

- توفر الرعاية الصحية
- توفر فرص العمل
- ارتفاع دخل الفرد

أكمل:

س منطقة الخليج العربية بعد اكتشاف النفط شجعت على استقطاب الهجرات الداخلية و الخارجية

س علل - عدد السكان في دولة الكويت ودول الخليج العربي في تزايد مستمر ؟

- الزيادة الطبيعية
- الغير طبيعية

س علل - زيادة عدد الوافدين في دول الخليج بعد اكتشاف النفط ؟



توفر فرص العمل



ارتفاع الأجور



الأمن والأمان



توفر الرعاية الصحية



السماح للوافدين باصطحاب عائلاتهم



زيادة عدد المواليد

موقع
المناهج الكويتية
almanahj.com/kw



تدرب و تفوق
اختبارات الكترونية



لاحظ الجدول التالي ثم أجب عما يلي
أكمل :

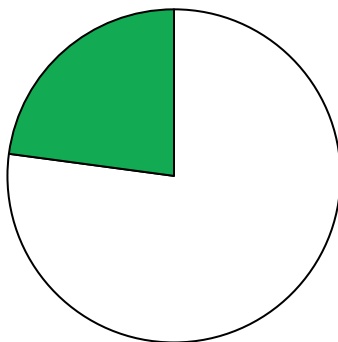
س أعلى دولة خليجية في نسبة المواطنين هي المملكة العربية السعودية

س أقل دولة خليجية في نسبة المواطنين هي الإمارات

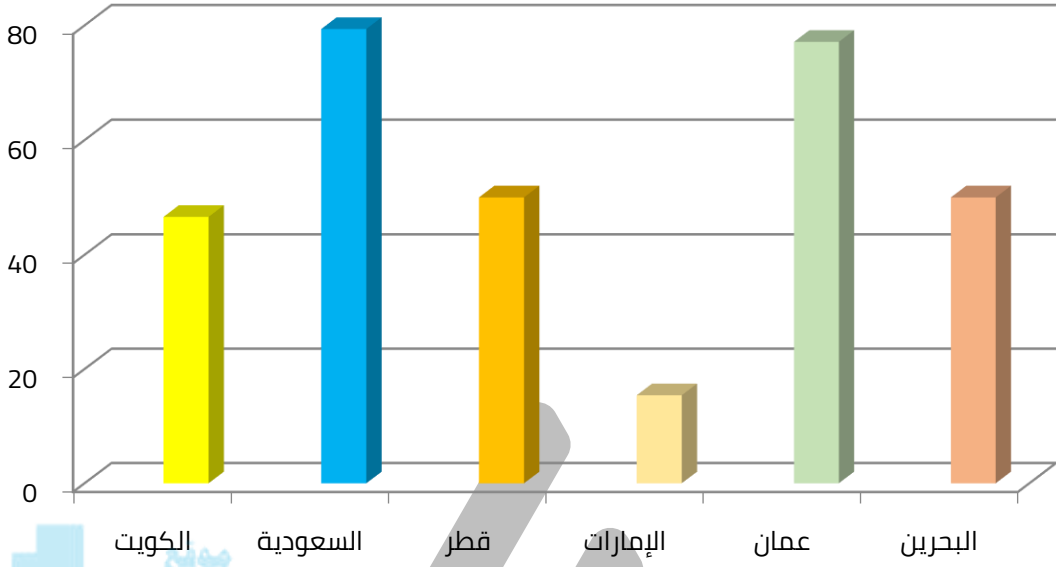
س دولتين خليجيتين يتساوى فيهما عدد المواطنين وعدد الوافدين قطر والبحرين

الدولة	نسبة المواطنين	نسبة الوافدين
الكويت	% 46.6	% 53.4
السعودية	% 79.36	% 20.64
قطر	% 50	% 50
الإمارات	% 15.4	% 84.6
عمان	% 77.12	% 22.88
البحرين	% 50	% 50

س حول نسبة الوافدين في سلطنة عمان إلى دائرة بيانية

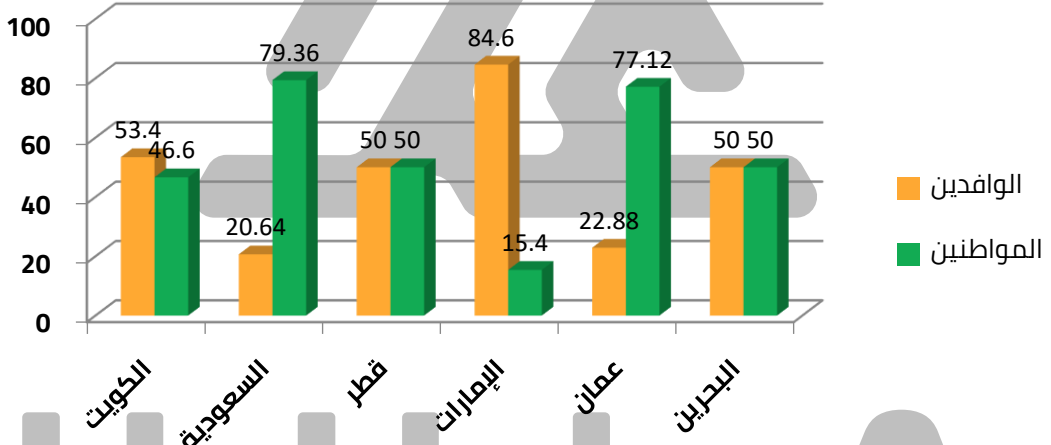


س حول نسبة المواطنين إلى أعمدة بيانية



موقع
المنهاج الكويتية
almanahj.com/kw

س أكتب مدلول الشكل المقابل



توزيع السكان في دول الخليج العربية

س رتب الدول ترتيباً تنازلياً حسب نسبة المواطنين

1. السعودية
2. سلطنة عمان
3. قطر
4. البحرين
5. الكويت
6. الإمارات

س رتب الدول ترتيباً تنازلياً حسب نسبة الوافدين

- | | |
|-------------|---------------|
| 1. الإمارات | 4. البحرين |
| 2. الكويت | 5. سلطنة عمان |
| 3. قطر | 6. السعودية |



تدرب و تفوق
اختبارات الكترونية

موقع
المناهج الكويتية
almanahj.com/kw



U U L A



دول الخليج العربية تنمو سكانيا و تتشابه ثقافيا

الكثافة السكانية

عرف

الكثافة السكانية

هي عدد السكان في الكيلو متر المربع
عدد السكان ÷ مساحة الدولة = الكثافة السكانية

لاحظ الجدول التالي ثم أجب عما يلي :

الدولة	المساحة	عدد السكان	الكثافة السكانية	معدل النمو
الكويت	17.818	2.418.393	134	3.38
السعودية	2.240.000	27.019.731	12	3.27
البحرين	.707	698.585	988	1.73
قطر	11.427	1.041.733	؟؟؟؟	3.18
الإمارات	83.600	5.631.135	67	1.59
سلطنة عمان	309.500	2.622.198	8	3.43

س احسب الكثافة السكانية لدولة قطر :

أكمل:

س الدولة الخليجية الأولى في عدد السكان هي المملكة العربية السعودية

س أصغر دولة خليجية في عدد السكان هي البحرين

س أعلى دولة خليجية في الكثافة السكانية هي البحرين

س أقل دولة خليجية في الكثافة السكانية هي سلطنة عمان

س أعلى دولة خليجية في معدل النمو السكاني هي سلطنة عمان

س أقل دولة خليجية في معدل النمو السكاني هي الإمارات

س أكبر دولة خليجية من حيث المساحة هي المملكة العربية السعودية

س تحتل دولة الكويت من حيث المساحة المركز الرابع



تدرب و تفوق
اختبارات الكترونية



س عل - الكثافة السكانية ظلت منخفضة في منطقة الخليج في القرون الماضية؟

لأنها تقع في الاقليم الصحراوي في فقر شديد

س عل - أصبحت منطقة الخليج منطقة جاذبة للسكان؟

- اكتشاف النفط
- الموقع الجغرافي ساهم في ازدهار صناعة النفط

س ما العلاقة بين ازدهار نمو صناعة النفط والنمو السكاني في دول الخليج؟
علاقة طردية - ازدهار صناعة النفط ساعدت على النمو السكاني في الوقت الحاضر

س عرف - التركيبة السكانية
نسبة المواطنين مقارنة بالوافدين

س سبب الخلل في التركيبة السكانية
عدم ربط مخرجات التعليم بسوق العمل

س طول مقترحة لمعالجة الخلل في التركيبة السكانية
ربط مخرجات التعليم بسوق العمل



تدرب و تفوق
اختبارات الكترونية



دول الخليج العربية تنمو سكانيا و تتشابه ثقافيا

التشابه الثقافي بين سكان دول الخليج العربية

عرف

الثقافة

هي مجموعة من العادات والتقاليد والقيم في مجتمع من المجتمعات

س عل - يصعب على الزائر التمييز بين الكويتي والسعودي ؟

بسبب تشابه سكان الخليج تشابه كبير



أكمل:

س يطلق بعض الأخوة العرب على سكان دول الخليج كلمة خليجيين --

س عل - تفضيل العرب لفظ خليجي بدلا من إطلاق لفظ الدولة ؟

بسبب التشابه الثقافي بين دول الخليج العربي

س عل - استخدام كلمة خليجيين للدلالة على سكان هذه المنطقة بدلا من إطلاق لفظ الدولة

- التشابه الثقافي
- الإخوة العرب يفضلون استخدام كلمة خليجيين

س عدد - الروابط المشتركة بين أبناء دول الخليج العربي ؟

- وحدة الأصل
- العادات والتقاليد
- الدين واللغة
- التاريخ المشترك

س دل - سكان دول الخليج العربي متشابهة في وحدة الأصل

- ينتمون إلى أصول عربية
- يدينون بالإسلام
- تجمعهم عادات وتقاليد متشابهة



تدرب و تفوق
اختبارات الكترونية

أكمل:



س الأصول السكانية لدول الخليج معظمها من شبه الجزيرة العربية

س الأصول السكانية في شبه الجزيرة العربية خرجت في أزمنة مختلفة إلى الساحل الغربي للخليج العربي

س عدد - العادات والتقاليد الخليجية المتوارثة

- الزي (الدشداشة)
- طريقة الاحتفال بالأعياد والأعراس
- العلاقات الأسرية
- الاحتفال بالقرقيعان

س دلل - دول الخليج العربية كالجسد الواحد في السراء والضراء طوال تاريخهم



- الاحتفال بالمناسبات مثل القرقيعان
- مشاركة الكويت أثناء الغزو العراقي حتى التحرير

س دلل - التاريخ المشترك رابط بين أبناء دول الخليج العربية

- كل دول الخليج تعرضت للاستعمار الأجنبي ما عدا السعودية
- تشابه الظروف الاقتصادية

أكمل ما يلي:

س جميع دول الخليج تعرضوا للاستعمار باستثناء دولة هي المملكة العربية السعودية

س الدولة الخليجية التي يوجد بها قلعة البرتغال هي البحرين

س فسر تسمية تقويم العجيري بهذا الإسم؟
نسبة إلى الدكتور صالح العجيري

الأحد	الاثنين	الثلاثاء	الأربعاء	الخميس	الجمعة	السبت
١	٢	٣	٤	٥	٦	٧
٨	٩	١٠	١١	١٢	١٣	١٤
١٥	١٦	١٧	١٨	١٩	٢٠	٢١
٢٢	٢٣	٢٤	٢٥	٢٦	٢٧	٢٨
٢٩						

س اكتب المدلول المناسب للصور التالية :



العادات والتقاليد



الدين واللغة



تحرير الكويت



قلعة البرتغال (البحرين)



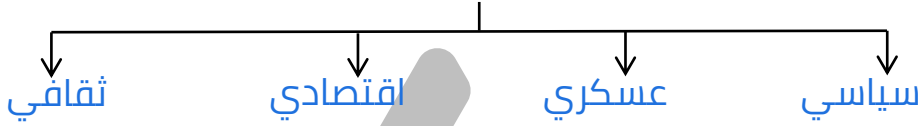
تدرب و تفوق
اختبارات الكترونية

U U L A



الكويت ودول الخليج العربية في مواجهة التحديات تتعاون دولة الكويت مع دول الخليج العربية من أجل تحقيق أهداف مشتركة

س عدد أهم مجالات التعاون بين دول مجلس التعاون الخليجي



س عدد - مظاهر التعاون بين دول الخليج العربي سياسياً ؟

- إدانة احتلال الجزر الإماراتية الثلاث
- مناصرة القضايا العادلة مثل قضية فلسطين
- توحيد الموقف السياسي الخليجي تجاه عدوان العراق الغاشم على الكويت



س عدد - مظاهر التعاون بين دول الخليج العربي عسكرياً ؟

- المناورات العسكرية المختلفة
- إنشاء قوات درع الجزيرة عام 1984 م
- قبول أبناء دول مجلس التعاون في الكليات العسكرية
- المشاركة الفعلية في حرب تحرير الكويت



أكمل ما يلي:

س العام الميلادي الذي أنشأت فيه قوات درع الجزيرة لدول مجلس التعاون الخليجي **1984 م**

س الدولة التي تعتبر هي مقر قوات درع الجزيرة تسمى **المملكة العربية السعودية**



س علل - إنشاء قوات درع الجزيرة عام 1984 م ؟
لحماية أو مساندة أي دولة عضو في المجلس تتعرض للعداوان

س عدد - مظاهر التعاون الاقتصادي بين دول الخليج العربي ؟
▪ صدور إعلان الدوحة بشأن قيام سوق خليجي مشترك عام 2008 م
▪ زيادة التبادل التجاري

أكمل:

س العام الميلادي الذي أنشأ فيه السوق الخليجية المشتركة **2008 م** ..

س المدينة التي تم فيها الإعلان عن قيام السوق الخليجية المشتركة هي **الدوحة**



تدرب و تفوق
اختبارات الكترونية



س عدد - مظاهر التعاون الثقافي بين دول مجلس التعاون الخليجي ؟

- توحيد المناهج التعليمية وتطويرها
- إنشاء مكتب التربية العربي ومقره الرياض
- اجتماع وزراء التربية مرة كل عامين لوضع السياسات التربوية

أكمل:

س المدينة التي يوجد بها مقر مكتب التربية العربي
تسمى **الرياض** -

س يجتمع وزراء التربية في دول الخليج العربي مرة
كل **عامين**



س علل- اجتماع وزراء التربية والتعليم في الخليج كل عامين ؟
لوضع السياسات التربوية

س أكتب نوع التعاون الذي تمثله كل صورة فيما يلي :
(تعاون سياسي - تعاون اقتصادي - تعاون عسكري - تعاون ثقافي)



تعاون عسكري



تعاون ثقافي



تعاون سياسي



تعاون اقتصادي

س صف المطلوب منك حسب الجدول
(إدانة احتلال الجزر الإماراتية الثلاث - المناورات العسكرية - زيادة التبادل التجاري
- توحيد المناهج - المشاركة الفعلية في حرب تحرير الكويت)

التعاون الثقافي	التعاون العسكري	التعاون الاقتصادي	التعاون السياسي
توحيد المناهج	المناورات العسكرية المشاركة الفعلية في حرب تحرير الكويت	زيادة التبادل التجاري	إدانة إحتلال الجزر الإماراتية الثلاث



تدرب و تفوق
اختبارات الكترونية

U U L A



س عدد - التحديات التي تواجه دول مجلس التعاون الخليجي ؟

- الأخطار الخارجية والداخلية
- الأمن الغذائي
- التلوث البيئي
- ندرة المياه الجوفية
- الغزو الثقافي
- الاعتماد على الموارد النفطية فقط

س ضع حلاً مناسباً للمشكلات التي تواجهها دول الخليج العربية

المشكلة	الحلول
الأخطار الخارجية والداخلية	<ul style="list-style-type: none"> ▪ إقامة نظام دفاعي متماسك ودائم للمنطقة ▪ دعم قوات درع الجزيرة ▪ التعاون السياسي
الأمن الغذائي التلوث البيئي ندرة المياه الجوفية	<ul style="list-style-type: none"> ▪ الاهتمام بالزراعة ▪ الاعتماد على الطاقة البديلة
الاعتماد على الموارد النفطية فقط	<ul style="list-style-type: none"> ▪ التوسع في الاستثمار ▪ تنوع مصادر الدخل ▪ استغلال المقومات الحالية
الغزو الثقافي	<ul style="list-style-type: none"> ▪ تدعيم الثقافة العربية ▪ عمل ندوات للتوعية

س دلل " تلعب دولة الكويت ودول الخليج دوراً مهماً في مواجهة التحديات "

يمكن أن يظهر السؤال في صيغة اخرى: **برهن**

- ترسيخ الأمن والاستقرار في منطقة الخليج العربي
- تعزيز التكامل الاقتصادي والوحدة الخليجية



تدرب و تفوق
اختبارات الكترونية



المشكلات التي تواجه دول الخليج العربية

الكويت ودول الخليج العربية في مواجهة التحديات

س عدد - المشاكل التي تواجه دول الخليج العربي

المشكلات الإجتماعية

المشكلات البيئية

عرف

التلوث

هو الضرر الذي يصيب عناصر البيئة الأساسية لتتحول من عناصر مفيدة إلى عناصر ضارة

المنهج الكويتي
almanahj.com/kw

س عدد - عناصر البيئة الأساسية

الهواء - الماء - التربة

س عدد - أنواع التلوث ؟

التلوث
الضوضائي



التلوث البحري
(المائي)



تلوث التربة
(الأرضي)



التلوث
الهوائي



عرف

التلوث الضوضائي

هو الضوضاء أو الازعاج (أصوات غير متجانسة تتجاوز شدتها المعدل الطبيعي المسموح به للأذن)

س عدد - أسباب التلوث الضوضائي؟

- آلات كهربائية
- اعمال النجارة
- أجهزة التسجيل

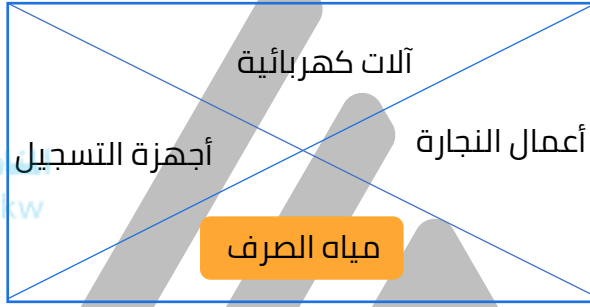
س ما هي - وحدة قياس التلوث الضوضائي؟

الديسيبل

س ظلل الكلمة الخطأ في المربعات المقابلة

ممکن أن يظهر السؤال في صيغة اخرى: أسباب التلوث الضوضائي

موقع
المنهج الكويتية
almanahj.com/kw



س عدد - الأخطار المرضية للضوضاء

- القلق والتوتر
- ضعف في السمع



تدرب و تفوق
اختبارات الكترونية



عرف
تلوث التربة

هو دخول مواد غريبة في التربة مما يلحق الضرر في خواصها ومكوناتها

س عدد - الآثار المترتبة على تلوث التربة؟

ممکن أن يظهر السؤال في صيغة اخرى: عدد النتائج

- ضعف قدرتها على الإنتاج الزراعي
- تلوث الإنتاج الزراعي يؤثر على صحة الإنسان

س أذكر نتيجة تلوث الإنتاج الزراعي

يؤثر على صحة الإنسان

التلوث الهوائي

هو تعرض الغلاف الجوي لمواد تسبب الضرر للإنسان والكائنات الحية

س عدد - مصادر تلوث الهواء ؟

- مصادر طبيعية
- مصادر غير طبيعية

س صف الكلمات التالية في المربع التابع لها (الصناعة , عواصف ترابية , حرق النفايات , مبيدات حشرية , سيارات وطائرات , براكين)

يمكن أن يظهر السؤال في صيغة اخرى: عدد


مصادر تلوث الهواء	
طبيعية	غير طبيعية
براكين عواصف ترابية	الصناعة حرق النفايات المبيدات الحشرية سيارات وطائرات

يمكن أن يظهر السؤال في صيغة اخرى: مصطلح

طبقة الأوزون

هي درع واقى للأحياء ضد خطر الأشعة فوق البنفسجية الضارة

س أكتب مدلول الصورة المقابلة



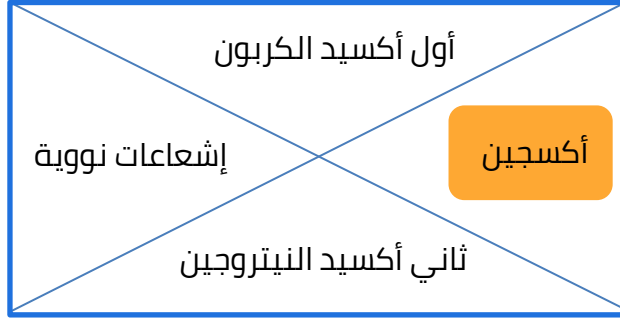
إطلاق الملوثات الهوائية تؤثر على طبقة الأوزون

س أكمل الجدول الناقص

المقترحات	الأضرار	أسباب ثقب الأوزون
زراعة الأشجار الاعتماد على الطاقة المتجددة	زيادة الأمراض زيادة الأشعة الضارة	الملوثات الهوائية المواد الكلورية

س ظلل الكلمة الخطأ في المربعات المقابلة

يمكن أن يظهر السؤال في صيغة أخرى: أسباب التلوث الهوائي



تدرب و تفوق
اختبارات الكترونية



المناهج الكويتية
almanahj.com/kw

عرف

التلوث البحري (المائي)

هو إحداث إفساد لنوعية المياه من خلال إدخال مواد ضارة بها من قبل الإنسان مما يؤدي إلى خلل في النظام المائي

س عدد - أسباب التلوث البحري (المائي) ؟

- مخلفات المصانع
- مياه الصرف الزراعي
- مياه الصرف الصحي غير المعالجة
- النفايات الخطرة
- النفط ومشتقاته
- الأمطار الحمضية

استخرج الرابط الأكبر

النفايات الخطرة + مخلفات المصانع = أسباب التلوث البحري

لاحظ الصورة ثم نفذ المطلوب منك

س اسم المشكلة : التلوث البحري

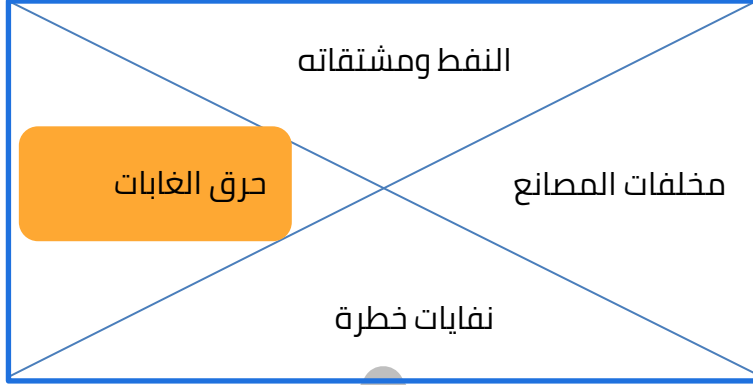
س الأسباب : النفط ومشتقاته - مياه الصرف الصحي غير المعالجة

س الحل : معالجة مخلفات المصانع قبل تصريفها



س ظلل الكلمة الخطأ في المربع المقابل

ممکن أن يظهر السؤال في صيغة أخرى: أسباب التلوث البحري (المائي)



تدرب و تفوق
اختبارات الكترونية

U U L A



الكويت ودول الخليج العربية في مواجهة التحديات أثر الغزو العراقي الغاشم على البيئة الكويتية

س أكتب مدلول الصورة المقابلة



موقع
المناهج الكويتية
almanahj.com/kw

بيت الكويت للأعمال الوطنية

أكمل ما يلي:

س بيت يجسد أحداث الغزو العراقي على الكويت يسمى
بيت الكويت للأعمال الوطنية

س المتحف الذي يحي قصة الغزو العراقي الغاشم لدولة الكويت يسمى
كي لانسي

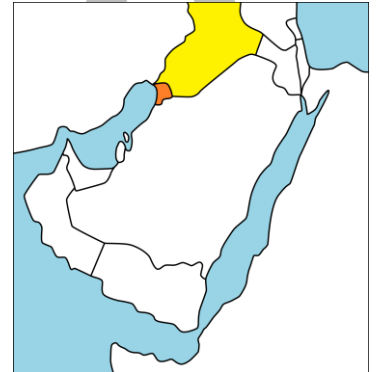


س من خلال الصورة المقابلة صف ما تشاهده في بيت الكويت
للأعمال الوطنية (متحف كي لانسي)
صور ونماذج للدمار الذي أصاب جميع
مظاهر الحياة في دولتنا الحبيبة الكويت

س العام الميلادي الذي قام فيه النظام العراقي البائد
بغزو دولة الكويت 1990 م

س 2 أغسطس + يوم الخميس =
الغزو العراقي على الكويت

س عدد الآبار النفطية الكويتية التي أحرقتها الغزو
العراقي البائد 737 بئر





س عدد - مظاهر التلوث الناجمة عن الغزو العراقي الغاشم على دولة الكويت

- تلوث التربة
- تلوث الهواء
- تلوث المياه
- التأثير على صحة الإنسان والكائنات الحية

س فند العبارة " اقتصر العدوان العراقي على الكويت عسكرياً فقط "



ممكن أن يظهر السؤال في صيغة اخرى: **دليل**

- تدمير البيئة الكويتية البرية والبحرية والهوائية
- التأثير على صحة الإنسان والكائنات الحية

س علل - تدهور البيئة الكويتية الهوائية عام 1990

- تفجير وإحراق 737 بئر
- اشعال النفط سبب كميات كبيرة من الدخان

س علل - تدهور البيئة الكويتية البحرية عام 1990 م
بسبب تعمد النظام العراقي ضخ النفط في مياه البحر

س علل - تلوث البيئة الكويتية البرية

- البحيرات البترولية
- تساقط الرذاذ النفطي على التربة

س ما النتائج المترتبة على تكون البحيرات البترولية

- تلوث التربة
- تدمير الحياة الفطرية



س علل - تحول رمال الصحراء من اللون الأصفر إلى اللون الأسود ؟

بسبب تساقط الرذاذ النفطي على التربة

اختياري :

س عدد الآبار النفطية الكويتية التي أحرقها الغزو العراقي البائد

777 ○

767 ○

773 ○

737 ○

س أكتب مدلول الصور التالية :



اعتداء النظام العراقي البائد على حرق آبار النفط وتدمير البيئة

موقع
المناهج الكويتية
almanahj.com/kw



تدرب و تفوق
اختبارات الكترونية

U U L A



الكويت ودول الخليج العربية في مواجهة التحديات المشكلات الاجتماعية

س أكمل - شهدت دول منطقة الخليج العربية تغيرات كبيرة وسريعة بعد ظهور
النفط

س عدد - جوانب الحياة التي شهدت تغيرات في دول منطقة الخليج العربية بعد
ظهور النفط

- الجوانب الإجتماعية
- الجوانب الاقتصادية
- الجوانب السياسية

س عدد - النتائج المترتبة على التغيرات السريعة في منطقة الخليج العربي بعد
اكتشاف النفط

المناهج الكويتية
almanahj.com/kw

- انعكست التغيرات على الأسرة والعلاقات والتقاليد
- بروز مظاهر ومشكلات اجتماعية جديدة

س علل - بروز مظاهر ومشكلات اجتماعية جديدة في منطقة الخليج بعد ظهور
النفط

- حدوث تغيرات كبيرة وسريعة في مختلف جوانب الحياة الاجتماعية
والاقتصادية والسياسية
- انعكست على الأسرة والعلاقات والتقاليد

س عدد - المشكلات الاجتماعية في دول الخليج العربية

- العمالة المنزلية
- العنف

س علل - ظهور المشكلات الاجتماعية في منطقة الخليج العربية ؟

ممكن أن يظهر السؤال في صيغة اخرى: علل - بروز مظاهر مشكلات اجتماعية جديدة

- التغيرات السريعة بعد ظهور النفط التي شملت جوانب الحياة
- انعكست على الأسرة والعلاقات والتقاليد

العمالة المنزلية

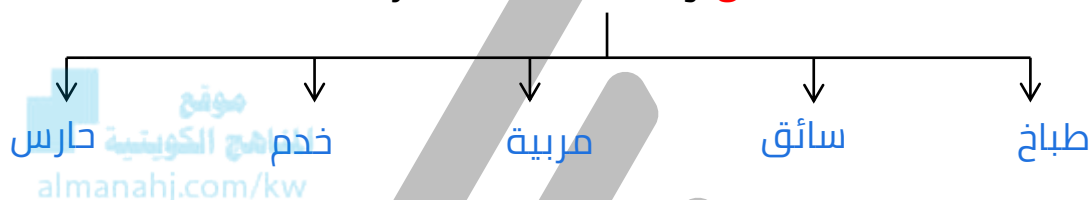
هي مجموعة من الأفراد الذين يشاركون الأسرة في دور أو أكثر داخل المنزل أو خارجه من المربيات والطباخين والخدم والسائقين

س استخرج المفهوم الذي تشير إليه المعادلة التالية

طباخ + سائق + مربية وخدم = العمالة المنزلية

أكمل المخطط السهمي التالي

س وظائف العمالة المنزلية



س عدد - الآثار السلبية لمشكلة العمالة المنزلية؟

ممكن أن يظهر السؤال في صيغة اخرى: المشاكل الناتجة

- السلوكيات الخاطئة
- التأثير بعاداتهم وتقاليدهم

س لاحظ الصور التالية ثم أختار الأفضل مع ذكر السبب



السبب: تعزيز الترابط الأسري



تدرب و تفوق
اختبارات الكترونية



عرف

العنف

هو السلوك العدواني الموجه ضد الغير

س عدد - أشكال العنف

- القول
- الفعل

س علل - العنف ليس له حدود

لأنه موجود في المدرسة والجامعة والشارع والحياة العامة (الأندية - الأسواق - المدرسة)



س دلل - الإنسان بطبعه ليس عدوانيا

ممكن أن يظهر السؤال في صيغة اخرى: عدد - أسباب العنف

- يتفجر العنف بداخله كلما تعرض للإجباط
- الخلل في التنشئة الإجتماعية

س علل - تكون العنف لدى الإنسان منذ وقت مبكر في حياته ؟

بسبب خلل في التنشئة الإجتماعية

س أوجد حلا للمعادلة التالية

تربية الطفل الخاطئة + الإجباط = العنف

أكمل:

س يرى العلماء أن العنف مرض اجتماعي -

س العنف ظاهرة متعلمة -

س تكمن مشكلة العنف في أنه يولد العنف -

اختياري :

س مادة من الدستور الكويتي تنص على "تهتم الدولة خاصة بنمو الشباب البدني والعقلي"

43 ○

42 ○

41 ○

40 ○

س عدد - أسباب مشكلة العنف عند المتعلمين ؟

- أسباب أسرية
- أسباب نفسية
- أسباب بيئية عامة

س اختر من المجموعة (أ) من المجموعة (ب) ما يناسبها بوضع الرقم المناسب:

(أ)	الرقم المناسب	(ب)
1- أسباب أسرية		وقت الفراغ وأصحاب السوء نقص وسائل الرعاية الإجتماعية والترفيه
2- أسباب نفسية		عدم وعي الأسرة بأهمية التعليم والتربية التربية الخاطئة للطفل والإحساس بالنقص
3- أسباب بيئية عامة		عدم الرغبة في مواصلة الدراسة التوتر والحرمان العاطفي والقلق والشعور بالإحباط almanahj.com/kw

س أكتب عن جهود دول الخليج العربية لحل المشكلات الإجتماعية ؟

- عقد ندوات ومؤتمرات خليجية
- المؤسسات الإجتماعية مثل (دار القرآن - الأندية الصيفية - الرحلات)

س علل - الندوات والمؤتمرات الخليجية لها دور في حل المشاكل الإجتماعية

- دراسة المشكلات
- معالجة أسباب المشكلات
- وضع الخطط العلاجية

س أذكر - حلول لعلاج مشكلة العمالة المنزلية ؟

- الاهتمام بالقرآن والسنة
- تحمل كل فرد مسؤوليته والقيام بدوره
- جعل مهمة الخادم مقتصرة على ممارسة دوره الأساسي في تحمل أعباء المنزل

س أذكر - حلول لعلاج مشكلة العنف ؟

- الاهتمام بالقرآن والسنة
- الاهتمام بالقراءة والمطالعة
- القدوة الحسنة



تدرب و تفوق
اختبارات الكترونية

موقع
المناهج الكويتية
almanahj.com/kw



U U L A