

ج) عرف المفاهيم أو المصطلحات التالية :

1- الموقع الفلكي:

2- شبكات حرارية

3- الاستقلال: أ -

ب- الكو

تاريخ امتحان نهاية الفترة الدراسية الأولى - لقرار الكويت ودول الخليج العربية - لصف السادس - العام الدراسي ٢٠٢٣ - ٢٠٢٤ م

السؤال الرابع : (مقالتي) و يتكون من (أ- ب - ج) :أ - علل لما يلي (اذكر السبب):

١- أهمية موقع منطقة الخليج العربية.

٢- انصراف سكان منطقة الخليج العربية عن مهنة الغوص .

ب - فرق بين كل مما يلي من حيث (التعريف) :

الموقع النسبي	الموقع الفلكي
.....
القغال	الدشة
.....

ج - أكتب اثنين لكل مما يلي :

١- مظاهر الحضارة الإسلامية.

٢- أهداف مجلس التعاون لدول الخليج العربية.

(ج) عرف المفاهيم أو المصطلحات التالية:

1- المرقع النكري:

2- نيك حولي:

3- الاستقلال:

تاريخ / امتحان نهاية الفترة الدراسية الأولى - لمرور الكويت ودول الخليج العربية - لتصف السادس - العلم الدراسي ٢٠٢٣ - ٢٤٠٠

السؤال الخامس (مقال) و يتكون من (أ - ب - ج) :

أ - اقرأ الفقرة التالية ثم أجب عما يليها من أسئلة :

كان الخليج العربي ملتقى الحضارات الكبرى في الشرق مما جعل المنطقة مصدراً لجذب السكان ، كما عثر الكثير من المواقع الأثرية ومنها أفران صهر المعادن وأختام دلمون.

في ضوء الفقرة السابقة اذكر اثنين مما يلي:-

١- أسماء الحضارات التي قامت في منطقة الخليج العربية قديماً.

.....

٢- الآثار والأنشطة التي عثر عليها في منطقة الخليج العربية قديماً.

.....

ب - عدد اثنين لكل مما يلي :

١- البضائع التي وصلت لمنطقة الخليج العربية عن طريق التجارة البحرية.

.....

٢- السمات (الصفات) المشتركة بين دول مجلس التعاون لدول الخليج العربية.

.....

ج - لاحظ الصورة التي أمامك والتي تمثل معاهدة الاستقلال ثم أجب عما يليها من أسئلة :

١- عرف الاستقلال :

٢- ما اسم حاكم الكويت الذي يظهر في الصورة ؟ (.....)

٣- من هو الطرف الأجنبي الذي وقع المعاهدة ؟ (.....)

٤- ما العام الذي استقلت فيه دولة الكويت ؟ (..... م)



انتهت الأسئلة

تابع/ امتحان نهاية الفترة الدراسية الأولى - لمقرر الكويت ودول الخليج العربية - للصف السادس - العام الدراسي ٢٠٢٣ - ٢٠٢٤ م

المسألة الثانية : (موضوعي) : ويتكون من (أ - ب) :

أ - أكتب المفهوم أو المصطلح الدال على كل من العبارات التالية :-

١	ذراع مائي لبحر العرب يمتد من خليج عُمان جنوباً حتى شط العرب شمالاً.
٢	مطرب السفينة.
٣	حالة الجو في مكان ما خلال فترات زمنية طويلة.
٤	خطوط وهمية أي غير موجودة على سطح الأرض ترسم على الكرة الأرضية وتقسّم الكرة الأرضية إلى قسمين شرقي وغربي وعددها ٣٦٠.
٥	نباتات يرتبط وجودها بموسم سقوط المطر.
٦	منطقة تقع في الصحراء فيها مياه عذبة صالحة للزراعة.
٧	تجار اللؤلؤ.

ب - وزع مناطق الاستقرار للهجرات التالية حسب مكانها الصحيح في الجدول أدناه:-

(رأس الخيمة - أبوظبي - الكويت والبحرين - عُمان - قطر) :-

الرقم	الهجرة	منطقة الاستقرار
١	الأزد
٢	القواسم
٣	العتوب
٤	بني ياس
٥	المعاضيد



السؤال الأول: (موضوعي) ويتكون من (أ - ب):

أ - ظلل الإجابة الصحيحة من بين البدائل التي تلي كل عبارة مما يلي:-

١- تقع منطقة الخليج العربية بالنسبة لقارة آسيا الجهة:

الشمالية الغربية	الجنوبية الغربية	الشمالية الشرقية	الجنوبية الشرقية
------------------	------------------	------------------	------------------

٢- يبدأ موسم الغوص على اللؤلؤ في شهر:

يونيو	أغسطس	سبتمبر	أكتوبر
-------	-------	--------	--------

٣- يطلق على صانع السفينة:

الرضيف	القلاف	السيب	التجاجة
--------	--------	-------	---------

٤- الدولة الخليجية التي توجد بها آثار حضارة دلمون:

الكويت	عمان	الإمارات	البحرين
--------	------	----------	---------

٥- القرن الميلادي الذي ظهر فيه الإسلام:

الخامس	السادس	السابع	الثامن
--------	--------	--------	--------

٦- العام الذي عقدت فيه اتفاقية الحماية البريطانية لإمارة الكويت:

١٨٩٩م	١٨٨٨م	١٨٧٧م	١٨٦٦م
-------	-------	-------	-------

ب - أكمل العبارات التالية بما يناسبها مما درست:-

١- يتصف مناخ منطقة الخليج العربية بأنه.....

٢- عُرف الخليج العربي قديماً باسم.....

٣- البلد الخليجي الوحيد الذي لم يتعرض للاستعمار يسمى.....

٤- الدولة الخليجية التي توجد بها دار الآثار الإسلامية تسمى.....

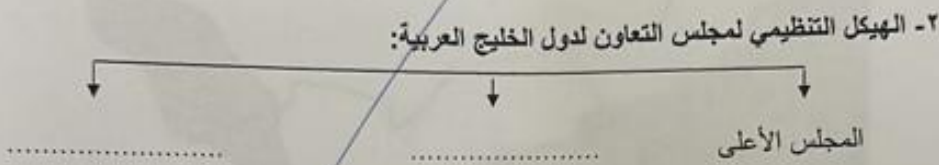
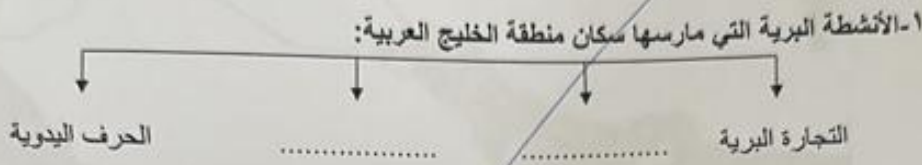
٥- أول دولة أوروبية استعمارية وصلت للخليج العربي تسمى.....

٦- المدينة التي اتخذت مقراً لمجلس التعاون لدول الخليج العربية تسمى.....

تابع / امتحان نهاية الفترة الدراسية الأولى - لمقرر الكويت ودول الخليج العربية - للصف السادس - العام الدراسي ٢٠٢٣ - ٢٠٢٤ م

السؤال الثالث : (موضوعي) : ويتكون من (أ - ب - ج) :

أ - أكمل المخططات السهمية التالية بما يناسبها :-



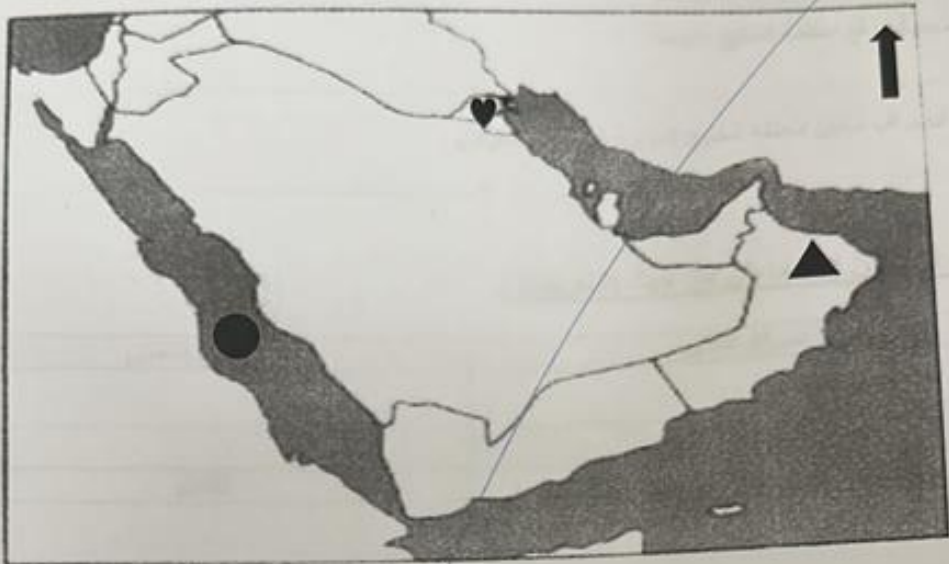
ب - صنف إنجازات مجلس التعاون الخليجي التالية حسب الجدول التالي :-

اتفاقية الدفاع المشترك واستمرار تعزيز قوة درع الجزيرة / وثيقة التطوير الشامل للتعليم / إقامة الاتحاد الجمركي/ انطلاق السوق الخليجي المشترك في يناير ٢٠٠٨ م.

الإنجازات العسكرية	الإنجازات الاقتصادية	الإنجازات الثقافية
..... * * *
 *	

تابع امتحان نهاية الفترة الدراسية الأولى - لمقرر الكويت ودول الخليج العربية - للصف السادس - العام الدراسي ٢٠٢٣-٢٠٢٤ م

ج- لاحظ خريطة شبه الجزيرة العربية التي أمامك ثم استعن بالأشكال التي عليها لإكمال العبارات التالية:



١- الرمز (♥) يمثل دولة خليجية تسمى

٢- يشير السهم (↑) على الخريطة إلى جهة تسمى

٣- الرمز (●) يمثل على الخريطة بحر اسمه

٤- الرمز (▲) يمثل على الخريطة جبل اسمه

