

تم تحميل هذا الملف من موقع المناهج الكويتية



الملف نموذج إجابة التعليم الخاص

[موقع المناهج](#) ← [المناهج الكويتية](#) ← [الصف الثامن](#) ← [اجتماعيات](#) ← [الفصل الثاني](#)

روابط مواقع التواصل الاجتماعي بحسب الصف الثامن



روابط مواد الصف الثامن على تلغرام

[الرياضيات](#)

[اللغة الانجليزية](#)

[اللغة العربية](#)

[التربية الاسلامية](#)

المزيد من الملفات بحسب الصف الثامن والمادة اجتماعيات في الفصل الثاني

<a href="#">تلخيص</a>	1
<a href="#">امتحان دولة الكويت والعالم الاسلامي</a>	2
<a href="#">حل التقويم لمادة الاجتماعيات</a>	3
<a href="#">نموذج احابة اختبار في مادة الاجتماعيات لنهاية الفترة الدراسية الثانية</a>	4
<a href="#">نموذج الاحابة لامتحان الاجتماعيات فرواتية</a>	5



السؤال الأول: موضوعي ويتكون من ( أ - ب - ج ) :



٥ = ٥ × ١

أ- أكمل العبارات التالية بما يناسبها:

- ١- منظمة نادى لإنشائها صاحب الصورة التي أمامك تسمى..منظمة التعاون الإسلامي.. ص١٣٧
- ٢- الغاز الأول المسئول عن الاحتباس الحراري يسمى..غاز ثاني أكسيد الكربون..ص٩٠
- ٣- قرار مجلس الأمن عام ١٩٩٣م الخاص بتقسيم الحدود بين دولة الكويت والعراق يحمل الرقم..٨٣٣.. ص١٠٦
- ٤- الصورة التي أمامك تمثل فرحة تحرير الكويت عام..١٩٩١ م.. ص١٢٢+١٢٣
- ٥- مدينة عقد فيها المؤتمر الإسلامي الثالث عشر اسمها..اسطنبول.. ص١٤٤



ب- صنف العبارات التالية بمكانها الصحيح في الجدول الذي يليها :

٥ = ٥ × ١

( الفقر - النفايات - ترسيم الحدود بين دولة الكويت والعراق - الاحتباس الحراري - قضية فلسطين )

تحديات بيئية	تحديات اقتصادية	تحديات سياسية
- النفايات. ص٩١ - الاحتباس الحراري . ص٩٠	- الفقر . ص٩٦	- ترسيم الحدود بين دولة الكويت والعراق . ص١٠٤ - قضية فلسطين. ص١٠٧

٥ = ٥ × ١

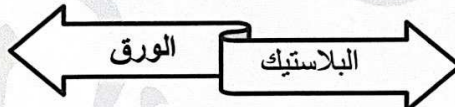
ج- أكمل الأشكال التالية بما يناسبها:

تم التحميل من شبكة ياكويت التعليمية



Telegram:  
ykuwait\_net\_home

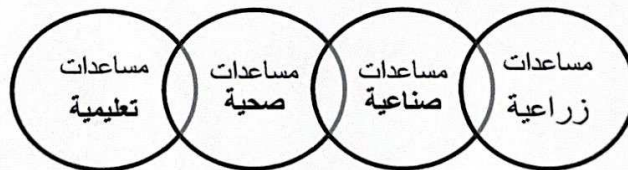
١- مواد قابلة لإعادة التدوير : ص٩١



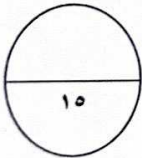
٢- أنواع الحدود السياسية: ص١٠٢



٣- نطاق عمل الصندوق الكويتي للتنمية: ص١٥٩



(١)



تابع/ امتحان نهاية الفترة الدراسية الثانية/ مقرر دولة الكويت والعالم الإسلامي /الصف الثامن المتوسط / العام الدراسي ٢٠٢٢-٢٠٢٣ م  
السؤال الثاني: موضوعي ويتكون من ( أ - ب - ج ) :

$$٥ = ٥ \times ١$$

أ- ظلل الكلمة التي لا تنتمي إلى المجموعات التالية:

الكويت	جيبوتي	مصر	عمان	١- دول تعاني من التصحر بنسبة ٩٠% ص ٨٩
الأمطار الحمضية	عمليات البناء والهدم	أصوات آلات الحفر	وسائل النقل	٢- أسباب التلوث الضوضائي ص ٨٧
نجد	العراق	الأردن	الكويت	٣- أطراف مؤتمر العقير ص ١٠٣
الجريمة	المخدرات	البطالة	توفر فرص العمل	٤- مشكلات الانفجار السكاني ص ٩٥
مجمع الفقه الإسلامي	يونسكو	ايسيسكو	البنك الإسلامي للتنمية	٥- المنظمات والمؤسسات الإسلامية ص ١٤٥

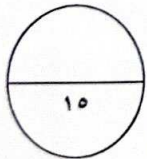
$$٥ = ٥ \times ١$$

ب- اكتب المفاهيم أو المصطلحات الدالة على العبارات التالية:

- ١- (..الدخل القومي..): مجموع الدخل المكتسب في بلد ما خلال فترة زمنية معينة ، عادة ما تكون سنة واحدة.ص ١٠٠
- ٢- (..القيمة الإسلامية..): مؤتمر ملوك وأمراء ورؤساء الدول والحكومات يعقد مرة كل ثلاث سنوات. ص ١٤١
- ٣- (..النفائيات..): أي مواد زائدة وغير مرغوبة من مخلفات البيئة أو الفضلات. ص ٩١
- ٤- (..اينا..): وكالة الأنباء الإسلامية الدولية. ص ١٤٥
- ٥- (..العولمة..): نظام عالمي جديد يقوم على الابداع العلمي والتطور التقني والتكنولوجي وثورة الاتصالات بحيث يصبح العالم كقرية واحدة. ص ٩٩

ج- اختر للمجموعة (أ) ما يناسبها من المجموعة (ب) بوضع الرقم الصحيح في المكان المناسب:

م	المجموعة ( أ )	الرقم المناسب	المجموعة ( ب )
١	انشاء شرطة البيئة في دولة الكويت	( ٥ )	- ١٩٩١ م ص ١١٧
٢	قرار الجمعية العامة للأمم المتحدة بتقسيم فلسطين إلى قسمين عربي ويهودي .	( ٣ )	- ١٩٢٢ م ص ١٠٣
٣	مؤتمر العقير.	( ١ )	- ٢٠١٥ م ص ٨٢
٤	إعصار جونو على سواحل عمان.	( ٢ )	- ١٩٤٧ م ص ١٠٧
٥	الحرب الأهلية في الصومال.	( ... )	- ١٩٦٧ م
		( ٤ )	- ٢٠٠٧ م ص ٩٠



تابع/ امتحان نهاية الفترة الدراسية الثانية/ مقرر دولة الكويت والعالم الإسلامي /الصف الثامن المتوسط / العام الدراسي ٢٠٢٢-٢٠٢٣م

السؤال الثالث: مقالتي ويتكون من ( أ - ب - ج ) :

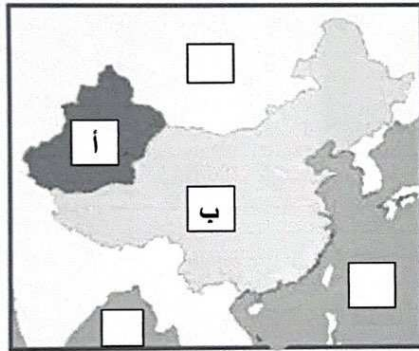
أ- قارن بين كل من حسب المطلوب منك في الجدول التالي :

$$٤ = ٤ \times ١$$

ص ١٦٠	ص ١٥٩	أوجه المقارنة
		سنة التأسيس
١٩٨٢ م	١٩٦١ م	الأهداف (يكتفى بنقطة)
١- احياء ركن من أركان الإسلام وتيسير أدائه. ٢- العمل على جمع الزكاة وتوزيعها بأفضل وأجود الطرق المشروعة.	١- تقديم القروض الميسرة للدول المحتاجة. ٢- تقديم المنح مثل المعونات الفنية. ٣- الاسهام في برامج التنمية.	

ب- لاحظ خريطة منطقة الأقليات الإسلامية في جمهورية الصين الصماء المقابلة ثم أجب عن الأسئلة التالية:ص ١١٣

$$٦ = ٦ \times ١$$



١- ضع الحرف ( أ ) على إقليم شينجيانغ اوريغور .

٢- ضع الحرف ( ب ) على جمهورية الصين الشعبية .

٣- اذكر طرق تكون الأقليات الإسلامية في العالم. ص ١١٢

..هجرة بعض المسلمين  
إلى أرض غير مسلمة ..

..اعتناق الإسلام..

ص ١١٤ (يكتفى بنقطتين)

٤- ماهي التحديات التي تواجه الأقليات الإسلامية حول العالم ؟

- سوء الظروف الاجتماعية والمادية التي يعيش بها معظم الجالية المسلمة نتيجة لتدني الأجور أو عدم وجود فرص عمل مستقرة.
- الحفاظ على الهوية الإسلامية في ظل عادات وتقاليد المجتمعات الغربية ومناهجها التعليمية .
- انخفاض المستوى التعليمي نتيجة لسوء الأحوال الاجتماعية والمادية . - مواجهة العديد من المسلمين تمييزاً في العمل منذ أحداث ١١/سبتمبر/٢٠٠١م
- فرض بعض الدول بشكل تدريجي المزيد من القيود على المسلمين في حرية ممارستهم لشعائهم الدينية الإسلامية

$$٥ = ٥ \times ١$$

ج- علل لما يلي :

١- زيادة كمية المخلفات الصناعية ، المنزلية ، الزراعية والبنائية. ص ٩١

- سرعة التقدم الصناعي . - السلوك الاستهلاكي لدى الإنسان.

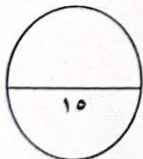
٢- الزيادة الكبيرة في عدد سكان دول العالم الإسلامي. ص ٩٥

- الزيادة الطبيعية - الزيادة الغير طبيعية

٣- اعتداء القوات العراقية على مركز الصامته الكويتي الحدودي عام ١٩٧٣م. ص ١٠٣

- للحصول على منفذ بحري جديد على الخليج العربي.

(٣)



تابع/ امتحان نهاية الفترة الدراسية الثانية/ مقرر دولة الكويت والعالم الإسلامي /الصف الثامن المتوسط / العام الدراسي ٢٠٢٢-٢٠٢٣ م  
السؤال الرابع: مقالتي ويتكون من ( أ- ب - ج ) :

أ- لاحظ الجدول الذي أمامك لأعلى نسبة فقر في دول العالم الإسلامي لعام ٢٠١٥ م، ثم أجب عن الأسئلة التالية:

$$٦ = ٦ \times ١$$

الدولة	النسبة المئوية
جمهورية مالي	١٢,١ %
نيجيريا	٦٩,٢ %
اوغندا	٢٣,٨ %
اندونيسيا	٣٧,٢ %
بنجلاديش	٧٧,٥ %
موزنبيق	١٦,٧ %

١- عرف خط الفقر : ص ٩٧

- أدنى مستوى من الدخل يحتاجه المرء أو الأسرة حتى يكون بالإمكان توفير مستوى معيشة ملائم في بلد ما.

٢- استخرج من الجدول ما يلي :

الدولة الأعلى معدل في الفقر	الدولة الأقل معدل في الفقر
بنجلاديش...	جمهورية مالي...

٣- حول النسبة المئوية للدولة الأعلى معدل في الفقر إلى دائرة بيانية مستعينا بالشكل المقابل .



٤- ما هي أسباب مشكلة الفقر في الدول الإسلامية؟ ص ٩٨ (يكتفى بنقطتين)  
- ضعف اقتصاد الدولة. - عدم توفر فرص العمل. - الحروب والدمار.  
- تضخم أسعار السلع والخدمات. - عدم الاستغلال الأمثل للموارد الطبيعية والبشرية. - انتشار البطالة. - عدم تكافؤ الفرص.  
- قلة التبرعات والصدقات في المجتمع. - التفرقة بين الناس في الحقوق والواجبات.

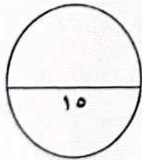
ب- فرق بين كلا مما يلي حسب المطلوب منك في الجدول التالي : ص ٨١ (يكتفى بنقطتين لكل جانب)  $٤ = ٤ \times ١$

المصادر الطبيعية للتلوث البيئي	المصادر البشرية للتلوث البيئي
البراكين - الغبار	نفايات التطور الصناعي - الاستخدام المفرط للأسمدة - رش المبيدات الحشرية على المزروعات الحروب - الانفجارات النووية .

$$٥ = ٥ \times ١$$

ج - عرف المفاهيم أو المصطلحات التالية :

- ١- الحدود : خطوط حددت بواسطة الإنسان ورسمت حتى تفصل بين سيادة دولة ودولة أخرى. ص ١٠٢
- ٢- الميزان التجاري : الفرق بين قيمة الصادرات وقيمة الواردات بالدولة. ص ١٠٠
- ٣- التلوث البيئي : أي تغيير غير مرغوب به في الخواص الطبيعية أو الكيميائية أو البيولوجية للبيئة المحيطة (التربة ، الماء ، الهواء ) والذي قد يتسبب في الإضرار بحياة الإنسان والكائنات الأخرى. ص ٨١
- ٤- البلدان النامية : الدول التي ما زالت أقل تقدماً في ميادين الاقتصاد والعلم والتكنولوجيا . ص ١٠٠
- ٥- الانفجار السكاني : الزيادة الكبيرة في أعداد السكان . ص ٩٥



انتهت الأسئلة

مع تمنياتنا لكم بالنجاح والتوفيق

(٤)

تم التحميل من شبكة ياكويت التعليمية



Telegram:  
ykuwait\_net\_home