

تم تحميل هذا الملف من موقع ملفات الكويت التعليمية



[com.kwedufiles.www//:https](https://www.kwedufiles.com)

\*للحصول على أوراق عمل لجميع الصفوف وجميع المواد اضغط هنا

\* للحصول على أوراق عمل لجميع مواد الصف الثاني اضغط هنا

<https://kwedufiles.com/2>

\* للحصول على جميع أوراق الصف الثاني في مادة رياضيات ولجميع الفصول, اضغط هنا

<https://kwedufiles.com/2math>

\* للحصول على أوراق عمل لجميع مواد الصف الثاني في مادة رياضيات الخاصة بـ الفصل الثاني اضغط هنا

<https://www.kwedufiles.com/2math2>

\* لتحميل كتب جميع المواد في جميع الفصول للـ الصف الثاني اضغط هنا

<https://www.kwedufiles.com/grade2>

[bot\\_kwlinks/me.t//:https](https://t.me/bot_kwlinks)

للحصول على جميع روابط الصفوف على تلغرام وفيسبوك من قنوات وصفحات: اضغط هنا

الروابط التالية هي روابط الصف الثاني على مواقع التواصل الاجتماعي

مجموعة الفيسبوك

صفحة الفيسبوك

مجموعة التلغرام

بوت التلغرام

قناة التلغرام

رياضيات على التلغرام

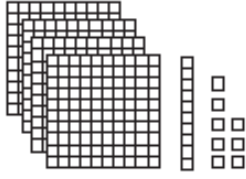
الاثنين ٣٠ / ٦ / ١٤٤١ هـ

الصف : الثاني

الاسم :

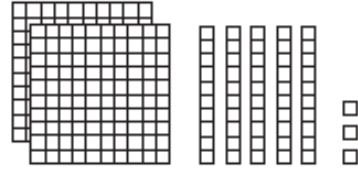
اَكْتُبْ كُلَّ عَدَدٍ فِيمَا يَأْتِي بِالصُّورَةِ التَّحْلِيلِيَّةِ:

٤١٨ ٢



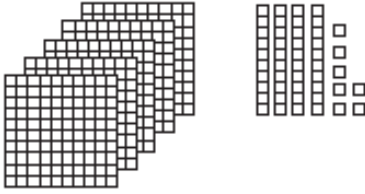
..... + ..... + .....

٢٥٣ ١




..... + ..... + .....

٥٤٧ ٤



..... + ..... + .....

١٠٠٠ ٣



..... + ..... + ..... + .....

٥ قَرَأْ مُعَاذٌ فِي صَحِيفَةِ الْمَدْرَسَةِ أَنَّ ٢٨٣ شَخْصًا قَدْ حَضَرُوا مُبَارَاةَ كُرَةِ الْقَدَمِ. كَيْفَ

يُمْكِنُ أَنْ أُمَّثِلَ هَذَا الْعَدَدَ بِالصُّورَةِ التَّحْلِيلِيَّةِ؟

٢٨٣ = ..... + ..... + ..... شَخْصًا.