

تم تحميل هذا الملف من موقع ملفات الكويت التعليمية



[com.kwedufiles.www//:https](https://www.kwedufiles.com)

\*للحصول على أوراق عمل لجميع الصفوف وجميع المواد اضغط هنا

\* للحصول على أوراق عمل لجميع مواد الصف السادس اضغط هنا

<https://kwedufiles.com/6>

\* للحصول على جميع أوراق الصف السادس في مادة اجتماعيات وجميع الفصول, اضغط هنا

<https://kwedufiles.com/6social>

\* للحصول على أوراق عمل لجميع مواد الصف السادس في مادة اجتماعيات الخاصة بـ الفصل الأول اضغط هنا

<https://www.kwedufiles.com/6social1>

\* لتحميل كتب جميع المواد في جميع الفصول للـ الصف السادس اضغط هنا

<https://www.kwedufiles.com/grade6>

[bot\\_kwlinks/me.t//:https](https://t.me/bot_kwlinks)

للحصول على جميع روابط الصفوف على تلغرام وفيسبوك من قنوات وصفحات: اضغط هنا

الروابط التالية هي روابط الصف السادس على مواقع التواصل الاجتماعي

مجموعة الفيسبوك

صفحة الفيسبوك

مجموعة التلغرام

بوت التلغرام

قناة التلغرام

رياضيات على التلغرام



مراجعة الاجتماعيات

الفصل الدراسي الأول

2019/2018م

الصف السادس



مراجعة  
الصف السادس  
الفصل الاول  
2019/2018م

أولاً : أكمل العبارات الآتية بما يناسبها :-

1 - تقع شبه الجزيرة العربية في أقصى جنوب غرب قارة -----

- 2- عدد درجات العرض التي تشغلها شبه الجزيرة العربية ----- درجة
- 3- تقع دولة الكويت بالنسبة للخليج العربي في جهة -----
- 4- الموقع بالنسبة لخطوط الطول والعرض يسمى -----
- 5- الموقع بالنسبة لليابس والماء ويسمى -----
- 6- خطوط وهمية ترسم على الكرة الأرضية وتقسّم العالم إلى شرق وغرب هي -----
- 7- يوجد في وسط شبه الجزيرة العربية هضبة اسمها -----
- 8- يوجد الجبل الأخضر في دولة خليجية اسمها -----
- 9- أرض مرتفعة وسطحها مستوي تمتد مساحة كبيرة تسمى -----
- 10- تقع شبه الجزيرة العربية ضمن مناخ الإقليم -----
- 11- الرياح الجنوبية الشرقية التي تهب على دول الخليج العربية تسمى -----
- 12- تسقط الأمطار على الجبل ----- وجبل -----
- 13- تنقسم النباتات في دول الخليج العربية إلى نباتات ----- ونباتات -----
- 14- يستفاد من النباتات في دول الخليج العربية في حرفة -----
- 15- منطقة تقع في الصحراء يتوفر فيها مياه عذبة وصالحة للزراعة تسمى -----
- 16- من المناطق الزراعية في دولة الكويت منطقة ----- ومنطقة -----
- 17- المياه التي توجد في باطن الأرض تسمى -----
- 18- بداية موسم الغوص تعرف باسم -----
- 19- نهاية موسم الغوص تعرف باسم -----
- 20- كان يطلق على صانع السفينة اسم -----
- 21- نقل تجار الخليج العربي البضائع إلى الهند و ----- و -----
- 22- عرف الخليج العربي قديماً بالبحر -----
- 23- الحضارة التي قامت في جزيرة فيلكا هي الحضارة -----
- 24- الحضارة التي اشتهرت بصهر المعادن وقامت في سلطنة عمان هي حضارة -----
- 25- قامت حضارة دلمون في دولة -----
- 26- ساهم سكان منطقة الخليج العربي في نشر الإسلام في جنوب -----
- 27- قامت مدن الخليج العربية بدور ----- التجاري بين الشرق والغرب.
- 28- ظهر الإسلام في شبه الجزيرة العربية في القرن -----

- 29- يعود عمر الآثار في منطقة الخليج العربي إلى ----- قرن.
- 30- من الحرف اليدوية التي مارسها سكان الخليج العربي قديما صناعة ----- وصناعة -----
- 31- أول دولة استعمارية أوروبية دخلت الخليج العربي هي -----
- 32- العام الذي أعلن فيه عن قيام مجلس التعاون الخليجي هو -----
- 33- أعلن عن قيام السوق الخليجية المشتركة عام -----
- 34- وقعت دولة الكويت اتفاقية الحماية مع دولة أوروبية اسمها -----
- 35- ألغيت اتفاقية الحماية في عهد الشيخ -----
- 36- حصلت الكويت على استقلالها عن بريطانيا عام -----
- 37- الدولة الخليجية التي لم تخضع للاستعمار هي -----
- 38- يوجد مقر الأمانة العامة لمجلس التعاون الخليجي في مدينة -----
- 39- سميت القمة الخليجية السابعة والعشرين بالرياض باسم قمة -----
- 40- أول من طالب بإنشاء وحدة خليجية عام 1976م هو الشيخ -----
- 41- يتكون من قادة دول مجلس التعاون الخليجي -----
- 42- أعلن عن قيام المملكة العربية السعودية عام -----
- 43- حصلت دولة الكويت على استقلالها في عهد الشيخ -----
- 44- من المحطات التجارية التي وصل إليها سكان الخليج العربي قديما ----- و-----
- 45- شهدت منطقة الخليج العربي منافسة استعمارية عليها منذ القرن -----
- 46- عدد الدول التي يتكون منها مجلس التعاون الخليجي -----دول.

### ثانيا- اختر الإجابة الصحيحة من بين الأقواس:

- 1- عدد خطوط الطول في العالم ( 100 - 015 - 360 - 400 خط ).
- 2- عدد دوائر العرض في العالم ( 90 - 100 - 180 دائرة )
- 3- تقع شبه الجزيرة العربية بالنسبة لقارة آسيا في جهة ( الشمال الغربي - الشمال - الجنوب الغربي )
- 4- موقع الدولة بالنسبة لخطوط الطول ودوائر العرض يسمى الموقع ( النسبي - الفلكي - التجاري )
- 5- تقع دول الخليج العربية ضمن مناخ الإقليم ( البارد - المعتدل - الصحراوي الحار )

- 6- كل مرتفع له قمة تزيد عن ألف متر يسمى ( جبل - تل - هضبة )
- 7- من النباتات الحولية في دول الخليج ( الخبيزة - العنصيل - حويذان - كل ما سبق )
- 8- قائد سفينة الغوص يسمى ( الطواش - النوخذة - الرضيف )
- 9- البضائع التي جلبها تجار الخليج من الهند هي ( الأخشاب - الشاي - السكر - كل ما سبق )
- 10- الذي يسحب حبل الغواص من البحر يسمى ( النهام - السيب - المجدمي )
- 11- تصل درجة الحرارة في دول الخليج العربية في الصيف أكثر من ( 15 - 20 - 40 درجة )
- 12- القرن عدد من السنوات تصل إلى ( 100 - 200 - 1000 سنة )
- 13- يصل عمر الحضارات في منطقة الخليج العربي إلى ( 40 - 50 - 60 قرن )
- 14- قامت الحضارة الهلينستية في ( الكويت - البحرين - عمان )
- 15- من السهول في شبه الجزيرة العربية سهل ( الحجاز - عسير - الإحساء )
- 16- طهر الإسلام في القرن ( الأول - الثالث - الخامس - السابع الميلادي )
- 17- الدولة التي اشتهرت بصهر معدن النحاس قديماً هي ( قطر - البحرين - عمان - الكويت )
- 18- يوجد مقر مجلس التعاون في مدينة ( الكويت - الرياض - المنامة - أبوظبي )
- 19- خرجت العتوب من منطقة الهدار في نجد إلى ( الكويت وقطر - الكويت والبحرين - عمان وقطر )
- 20- ليس من بين الدول الاستعمارية التي سيطرت على الخليج:
- ( بريطانيا - هولندا - البرتغال - فرنسا )
- 21- حصلت كل من قطر والإمارات والبحرين وعمان على استقلالها عام:
- ( 1932 - 1961 - 1971 - 1991 م )
- 22- تتكون من الأمين العام والسكرتارية :
- ( المجلس الأعلى - مجلس الأمن - المجلس الوزاري - الأمانة العامة )

ثالثاً : ضع علامة ( √ ) أو ( × ) أمام العبارات الآتية :-

- 1 - تقع دولة الكويت في شمال غرب الخليج العربي . ( )
- 2 - تقسم دوائر العرض الكرة الأرضية إلى قسمين شرق وغرب . ( )
- 3 - مظاهر السطح تعني التضاريس مثل الجبال والهضاب والتلال والسهول ( )
- 4 - السهل أجزاء فسيحة من الأرض مستوية وقليلة الارتفاع. ( )
- 5 - اختلاف أنظمة الجمارك بين الدول العربية من أسباب قلة التبادل التجاري . ( )

- 6 - وصل تجار الخليج العربي قديماً إلى الهند واليمن وشرق أفريقيا . ( )
- 7 - الحياة النباتية في دول الخليج العربية فقيرة بسبب قلة المياه ( )
- 8 - من المناطق الزراعية في السعودية الإحساء والطائف . ( )
- 9 - يبدأ موسم الغوص في بداية الشتاء وينتهي في أول الصيف ( )
- 10 - أفضل أنواع السفن المستخدمة في السفر هي البغلة ( )
- 11 - مطرب السفينة كان يعرف باسم النهام . ( )
- 12- ساعد الموقع الجغرافي على قيام الحضارات في دول الخليج العربي. ( )
- 13- لم يتأثر سكان منطقة الخليج العربي بمظاهر الحضارة الإسلامية. ( )
- 14- شارك أبناء الخليج العربي في نشر الإسلام فقط . ( )
- 15- يوجد في دول الخليج العربية متاحف متخصصة في التراث الإسلامي ( )
- 16- يتكون مجلس التعاون الخليجي من ست دول. ( )
- 17- أعلن عن قيام مجلس التعاون الخليجي في 25 مايو عام 1981م. ( )
- 18- يتكون المجلس الأعلى لدول مجلس التعاون من قادة الدول الأعضاء. ( )
- 19- حصلت الكويت على استقلالها في عهد الشيخ عبدالله السالم. ( )
- 20- يقع الخليج العربي في موقع متوسط بالنسبة للعالم. ( )
- 21- الدولة الخليجية التي لم تخضع للاستعمار البريطاني هي قطر. ( )
- 22- استقلت سلطنة عمان عام 1980. ( )
- 23- الكويت هي اول دولة خليجية نالت استقلالها من الاستعمار البريطاني. ( )
- 24- مملكة البحرين خضعت للاستعمار الفرنسي. ( )
- 25- وقع الغزو العراقي البائد على دولة الكويت عام 1990م. ( )

**رابعاً - صنف الحيوانات في دول الخليج العربية وفق الجدول التالي :-**

"السحالي - الجمل - الماعز - الأغنام - الثعابين - الثعالب - الذئاب - الضباع - الضب "

حيوانات برية	حيوانات زاحفة	حيوانات أليفة

خامسا - ضع الرقم المناسب من المجموعة ( أ ) أمام ما يناسبه من المجموعة ( ب )  
جدول 1

م	المهنة	الرقم	أهم الأعمال
1	النوخذة		- مطرب السفينة
2	الغواص		- تاجر اللؤلؤ
3	النهام		- قائد السفينة
4	المجدمي		- رئيس البحرية
5	السيب		الذي يغوص على اللؤلؤ
6	الطواش		الذي يسحب حبل الغواص

جدول 2

م	الهجرة ( أ )	الرقم	البلد الذي هاجرت إليه ( ب )
1	العتوب ( آل صباح - أي خليفة		- السعودية
2	المعاويد		- عمان
3	القواسم		- أبو ظبي
4	بني ياس		- رأس الخيمة
5	آل بوسعيد واليعاربة		- قطر
			- الكويت - البحرين

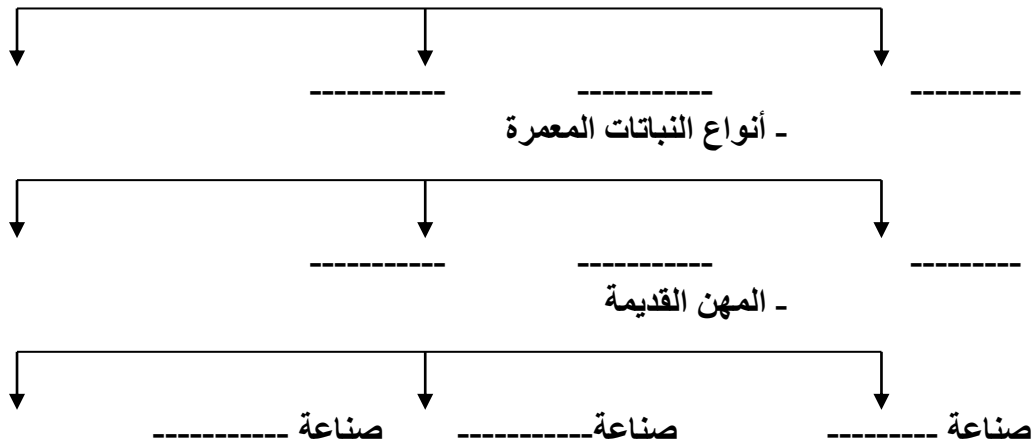
سادسا - صنف المظاهر التضاريسية حسب الجدول:

( عسير - نجد - حضرموت - الإحساء - الأخضر - النفود - تهامة - الحجاز - الدهناء )

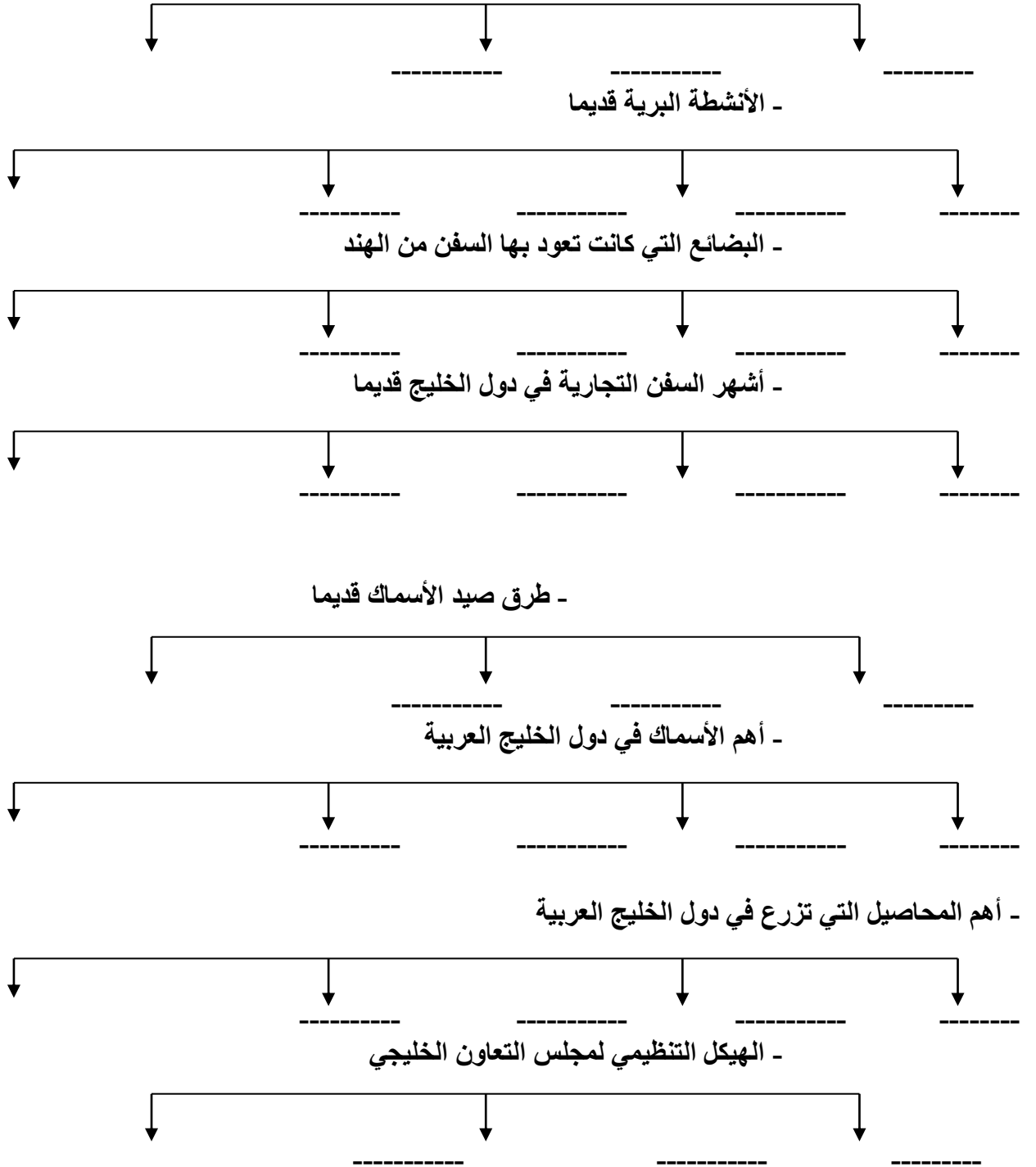
جبال	هضاب	سهول	صحاري

سابعا - أكمل المخططات السهمية التالية :

- أنواع الرياح في دول الخليج العربية



- أهم الحضارات التي قامت في منطقة الخليج العربي



ثامنا : علل لما يأتي ( اذكر السبب ) :-

1 – توفر النباتات المعمرة طول العام في دول الخليج العربية .

أ- \_\_\_\_\_  
ب- \_\_\_\_\_

2 كانت حياة السكان في البيئة الصحراوية قاسية وخشنة .

\_\_\_\_\_

4 – تشابه الأعمال التي قام بها سكان دول الخليج العربية قديما .



5 - اختفاء مهنة الغوص على اللؤلؤ حالياً .

أ- -----  
ب- -----

6 - أهمية سفينة البغلة .

أ- -----  
ب- -----

7- أهمية موقع دولة الكويت في شمال غرب الخليج العربي.

أ- -----  
ب- -----

8- قيام الحضارات في منطقة الخليج العربي.

أ- -----  
ب- -----

ج- -----  
10- توقيع الشيخ مبارك الصباح اتفاقية الحماية مع بريطانيا.

-----

11- تنافس الدول الاستعمارية الأوروبية للسيطرة على الخليج العربي.

-----

تاسعا : اكتب المفهوم المناسب بين القوسين :-

1 - (.....) : الموقع بالنسبة لخطوط الطول ودوائر العرض .

2 - (.....) : موقع الدولة ما بالنسبة لليابس والماء .

3 - (.....) : هو كل مرتفع له قمة لا يقل ارتفاعها عن 100 متر .

4 - (.....) : ارض مرتفعة سطحها مستوي وتمتد لمساحة كبيرة .

5 - (.....) : هي اجزاء فسيحة من الارض وتتميز باستوائها وقله ارتفاعها .

6- (.....) : حاله الجو في مكان ما خلال فترات زمنية طويله .

7- (.....) : نباتات متوفرة طوال العام وتتحمل الجفاف ودرجة الحرارة العالية.

8- (.....) : نباتات يرتبط وجودها بسقوط المطر.

9- (.....) : جميع أشكال المياه علي سطح الأرض .

- 10- (.....): المياة الموجودة في باطن الأرض
- 11- (.....) : هي بداية موسم الغوص بشهر يونيو
- 12- (.....) : نهاية موسم الغوص بشهر سبتمبر
- 13- (.....): هي البضائع التي تشتريها الدولة من دول أخرى .
- 14- (.....) : يطلق علي صانع السفينة .
- 15- (.....) : كل تقدم وتطور ورقي في المجتمع في جميع نواحي الحياة .
- 16- (.....): هو سيطرة دولة قويه علي دوله ضعيفة لاستغلال موقعها ومواردها .
- 17- (.....): مسؤولية الدوله عن ادارة شؤونها الداخلية والخارجية .
- 18- (.....): منظمة سياسية اقتصادية إقليمية تضم ست دول عربية خليجية .
- 19- (.....): ربان السفينة .
- 20- (.....): مطرب السفينة .
- 21- (.....): يسحب الغاصة من أعماق البحر .
- 22- (.....): رئيس البحرية .
- 23- (.....): الصبية الذين يعملون علي السفينة لاكتساب الخبرة ويقومون ببعض الأعمال .
- 24- (.....) : هو المساعد للسبب علي السفن الكبيرة وهم صغار السن .
- 25- (.....): هم تجار اللؤلؤ .

عاشر- أجب عن ما ييأتي:

1- عدد الدول الاستعمارية الأوروبية التي توالى على الخليج العربي.

أ- ----- ب - ----- ج- -----

2- ما السمات المشتركة بين دول الخليج العربية؟

أ- ----- ب - -----

ج- -----

د- -----

3- ما أهداف مجلس التعاون لدول الخليج العربية؟

أ- -----

ج- -----

ب - .....

4- ما انجازات مجلس التعاون الخليجي؟

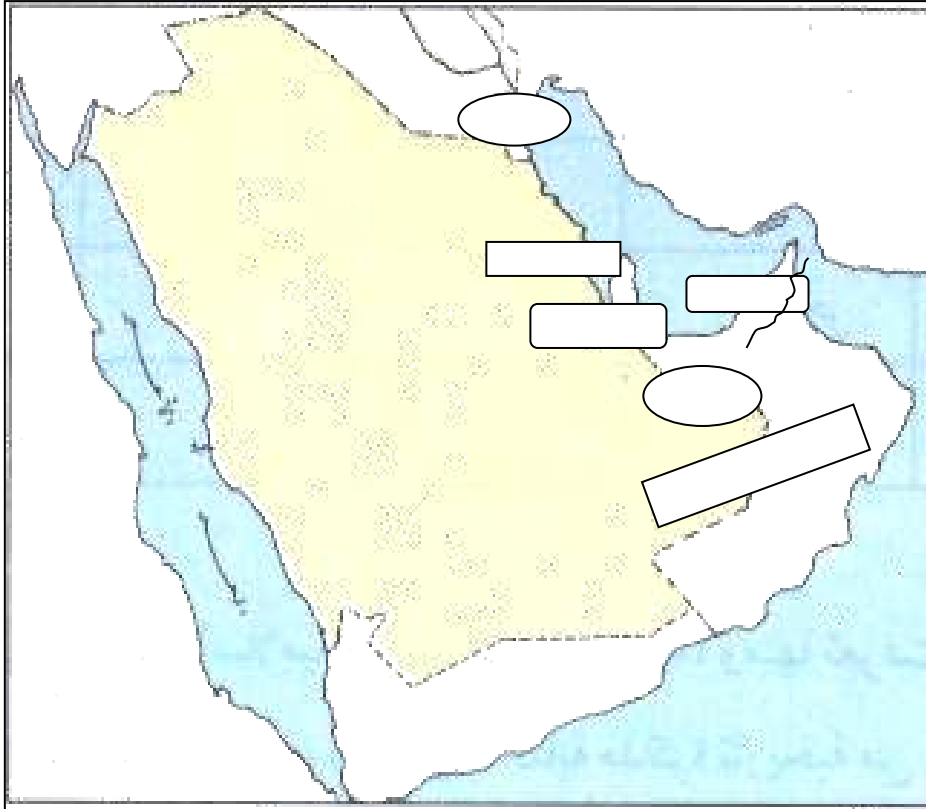
أ- -----

ب - -----

ج- -----

د- -----

- لاحظ خريطة دول الخليج العربية واكتب اسماء الهجرات التالية في الأماكن التي استقرت فيها:  
( آل صباح - آل خليفة - المعاضيد - القواسم - بني ياس - اليعاربة - آل بوسعيد )



لاحظ خريطة دول الخليج العربية ثم نفذ المطلوب:



أولاً -

- أ- اكتب دول الخليج العربية في مكانها على الخريطة.
- ب- اكتب الخليج العربي وخليج عمان وبحر العرب في مكانهم على الخريطة.
- ج- رتب دول الخليج العربية من حيث المساحة تنازلياً:

1- -----  
2- -----  
3- -----  
4- -----  
5- -----  
6- -----

ثانياً - نفذ المطلوب:

- 1- ضع الرمز ( # ) مكان هضبة نجد
- 2- ضع الرمز ( X ) مكان سهل الإحساء.
- 3- ضع الرمز ( Ø ) مكان حضارة مجان.
- 4- ضع الرمز ( ■ ) مكان الجبل الأخضر
- 5- ضع الرمز ( Δ ) مكان جبال الحجاز
- 6- ضع الرمز ( ☀ ) مكان صحراء الربع الخالي

- 7- لون الدولة التي قامت فيها الحضارة الهلينستية.  
 8- ضع الرمز ( ♥ ) على المكان الذي أعلن فيه عن قيام مجلس التعاون  
 9- ضع الرمز ( Θ ) على الدولة الخليجية التي لم تخضع للاستعمار.  
 10- ضع الرمز ( K ) على الدولة التي هاجر إليها اليعاربة.

أجب عن ما يأتي:  
 1- من أنا؟



2- أكمل شجرة العائلة للحياة النباتية في دول الخليج العربية:

النباتات الصحراوية .....

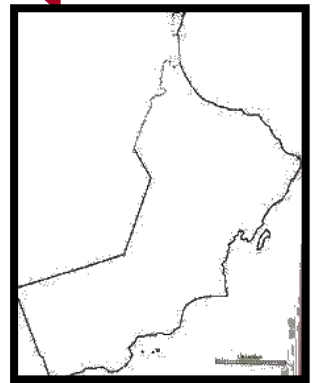



3- صل بين الحضارة والدولة التي قامت فيها:

حضارة فيلكا

حضارة دلمون

حضارة مجان



4- اكتب اسم المهنة أسفل كل صورة من الصور التالية :



## صناعة الخوص

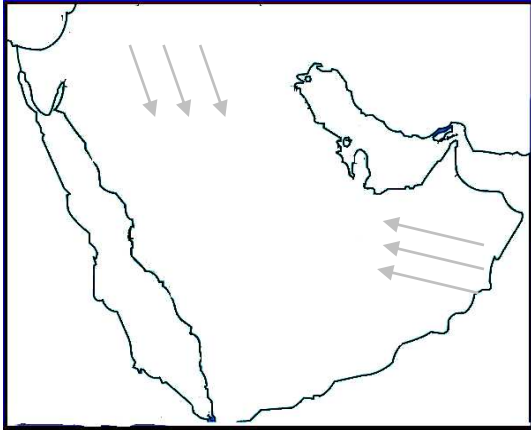
## صناعة-----

## صناعة-----

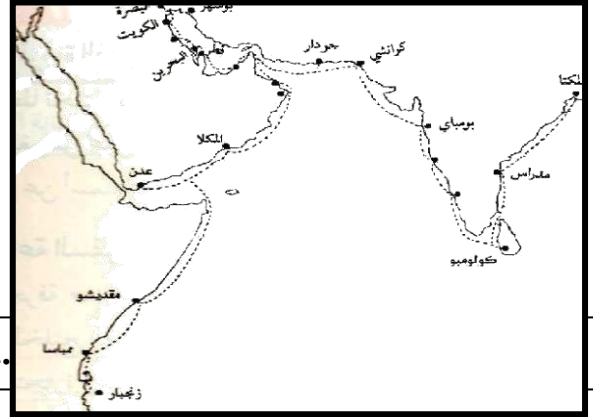
5- اختر من المجموعة (ب) ما يناسبها من المجموعة (أ) :

الرقم	(أ) السبب	الرقم المناسب	(ب) النتيجة
1	توحد الظروف الجغرافية البيئية والمناخية		فقر الحياة النباتية والحيوانية بالمنطقة
2	وجود بيئة طبيعية ملائمة		ظهور علاقات تجارية
3	قلة الأمطار		تشابه أعمال أبناء دول الخليج العربية
4	الموقع الجغرافي المتميز		كبر مساحة الصحراء
			الاستقرار وقيام الحضارات

6- أجب بما هو مطلوب منك على الخرائط التالية :



ب - اكتب أسماء الرياح أمام الأسهم



7 - نفذ على الخريطة ما يلي :



- 1- ضع رقم 1 على البحر الأحمر .
- 2- ظلل الخليج العربي باللون الأزرق .
- 3- ضع الرمز ×× على هضبة نجد
- 4- ضع دائرة على الربع الخالي .

5- ظلل الجبل الأخضر باللون الأحمر . 6- ظلل سهل الإحساء باللون الأخضر .

7- حدد بالقلم الرصاص جبال عسير والحجاز . 8- ضع رقم 2 على صحراء النفود .

10- اكتب أسماء دول مجلس التعاون لدول الخليج العربية في الرسم المرفق ، ثم ظل على دائرة الدولة التي يوجد بها مقر مجلس التعاون لدول الخليج العربية ؟

