

تم تحميل هذا الملف من موقع ملفات الكويت التعليمية



[com.kwedufiles.www//:https](https://www.kwedufiles.com)

\*للحصول على أوراق عمل لجميع الصفوف وجميع المواد اضغط هنا

\* للحصول على أوراق عمل لجميع مواد الصف الثالث اضغط هنا

<https://kwedufiles.com/3>

\* للحصول على جميع أوراق الصف الثالث في مادة علوم ولجميع الفصول, اضغط هنا

<https://kwedufiles.com/3science>

\* للحصول على أوراق عمل لجميع مواد الصف الثالث في مادة علوم الخاصة بـ الفصل الأول اضغط هنا

<https://www.kwedufiles.com/3science1>

\* لتحميل كتب جميع المواد في جميع الفصول للـ الصف الثالث اضغط هنا

<https://www.kwedufiles.com/grade3>

\* لتحميل جميع ملفات المدرس مدرسة النجاة النموذجية اضغط هنا

[bot\\_kwlinks/me.t//:https](https://t.me/bot_kwlinks)

\* للحصول على جميع روابط الصفوف على تلغرام وفيسبوك من قنوات وصفحات: اضغط هنا

الروابط التالية هي روابط الصف الثالث على مواقع التواصل الاجتماعي

مجموعة الفيسبوك

صفحة الفيسبوك

مجموعة التلغرام

بوت التلغرام

قناة التلغرام

رياضيات على التلغرام

## كيف تتعرف على حال الطقس؟

**السؤال الأول:** اختر الإجابة الصحيحة علمياً لکمن العبارات التالية بوضع علامة (✓) في المربع المقابل لها:

١. الاداة المستخدمة لقياس درجة الحرارة هي.....
- المسطرة       الترمومتر       الدراجة       كوب القياس

**السؤال الثاني:** ضع علامة (✓) أمام العبارة الصحيحة وعلامة (X) أمام العبارة الغير صحيحة :

١. طقس الكويت مشمس وحار جدا. ( )




٢. نلاحظ البرق والرعد صيفاً. ( )

**السؤال الثالث:** أكمل العبارات التالية بما يناسبها علمياً:

١. يتغير ..... بإذن الله تعالى من يوم الى اخر.

٢. أشرب الكثير من ..... في الطقس الحار.

**السؤال الرابع:** اختر من المجموعة (ب) ما يناسبها من المجموعة (أ) بوضع الرقم المناسب

الرقم	(أ)	(ب)
	برق	
	مطر	
	مشمس	

## الطقس وسلامتي؟

**السؤال الأول:** اختر الإجابة الصحيحة علمياً لكمن العبارات التالية بوضع علامة (✓) في المربع المقابل لها:

١. نتبع إجراءات الأمن و..... في مواجهة الظواهر الطبيعية.
- التسلية  النظافة  السلامة  الصحة

**السؤال الثاني:** ضع علامة (✓) أمام العبارة الصحيحة وعلامة (X) أمام العبارة الغير صحيحة :

١. يجب أن نحافظ على أنفسنا من أحوال الطقس المختلفة. ( )
٢. يمكننا ان نبحر وسط الرياح والصواعق. ( )

**السؤال الثالث:** أكمل العبارات التالية بما يناسبها علمياً:

١. يجب مساعدة..... إذا لزم الأمر.
٢. الخروج من المنزل عند سقوط المطر غير .....

**السؤال الرابع:** اختر من المجموعة (ب) ما يناسبها من المجموعة (أ) بوضع الرقم المناسب

الرقم	(أ)	(ب)
	طقس آمن	
	طقس غير آمن	

## دورة الماء في الطبيعة

**السؤال الأول:** اختر الإجابة الصحيحة علمياً لكنم العبارات التالية بوضع علامة (✓) في المربع المقابل لها:

١. يتواجد الماء في الطبيعة في ..... حالات.

ثلاثة       أربعة       خمسة       ستة


**السؤال الثاني:** ضع علامة (✓) أمام العبارة الصحيحة وعلامة (x) أمام العبارة الغير صحيحة :

١. التبخر هو تحول المادة من الحالة الغازية الى الحالة السائلة. (      )
٢. بخار الماء يتكثف عند ملامسته سطحاً ساخناً. (      )

**السؤال الثالث:** أكمل العبارات التالية بما يناسبها علمياً:

١. .... هو تحول المادة من الحالة الغازية الى الحالة السائلة.
٢. تبخر المياه وتكثف البخار وسقوط الأمطار يسمى ..... .

**السؤال الرابع:** اختر من المجموعة (ب) ما يناسبها من المجموعة (أ) بوضع الرقم المناسب

الرقم	(أ)	(ب)
1	دورة الماء في الطبيعة	
2	تبخر الماء	