

تم تحميل هذا الملف من موقع المناهج الكويتية




عهد النمشان وبدور الفجي

الملف بنك معلومات يضم الوحدة الثالثة والرابعة والخامسة

[موقع المناهج](#) ← [المناهج الكويتية](#) ← [الصف السادس](#) ← [اجتماعيات](#) ← [الفصل الثاني](#)

روابط مواقع التواصل الاجتماعي بحسب الصف السادس



روابط مواد الصف السادس على تلغرام

[الرياضيات](#)

[اللغة الانجليزية](#)

[اللغة العربية](#)

[التربية الاسلامية](#)

المزيد من الملفات بحسب الصف السادس والمادة اجتماعيات في الفصل الثاني

<a href="#">مراجعة</a>	1
<a href="#">مراجعة</a>	2
<a href="#">مراجعة</a>	3
<a href="#">مذكرة في مادة الاجتماعيات</a>	4
<a href="#">مراجعة محلولة ومفيدة في مادة الاجتماعيات</a>	5

مدرسة رقية بنت محمد المتوسطة بنات

قسم الاجتماعيات



المنهج الكويتية  
almanhaj.kw

# بنك معلومات الصف السادس ف (الكويت ودول الخليج العربية) ف الفصل الدراسي الثاني ٢٠٢٤م

منظم بالدرس للمعلم والمتعلم

إعداد:

أ: عهد النمشان - أ: بدور الفجي

متابعة ربق جليلا الدغيم

الموجهة الفنية هيفاء مال الله مديرة المدرسة بدرية الهدبة



الوحدة الثالثة  
أ/ الموارد الاقتصادية  
لدول الخليج العربية

بد الثروة النفطية:  
١- اكتشاف النفط ٢- إنتاج النفط. من ص ٨٧ الى ص ٨٩

### أ. كمل العبارات التالية:

١. أول حقل نفطي في دولة الكويت اسمه بحره ص ٨٧
٢. العام الذي بدأ فيه التنقيب عن النفط في دولة الكويت ١٩٣٤ م ص ٨٧
٣. اكتشفت كميات ضخمة من النفط في حقل اسمه برقان ص ٨٧

### بد قارن من حيث العام والموقع:

اسم الحقل	بحره	برقان
العام	١٩٣٤ م	١٩٤٦ م
موقعه	شمال الكويت	جنوب الكويت

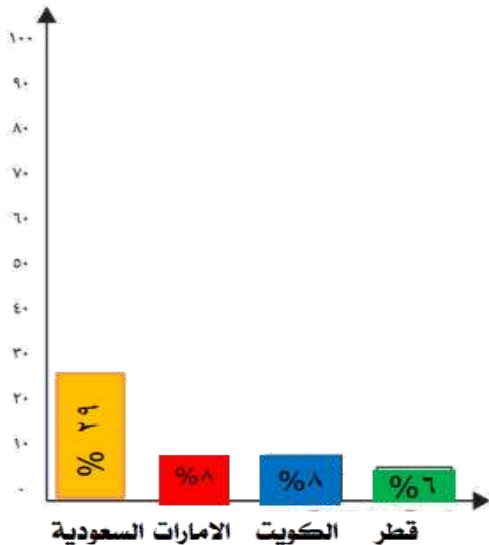
### فرق بين التالي من حيث المفهوم:

انتاج النفط ص ٨٨	احتياط النفط ص ٨٨
كميات النفط التي يتم استخراجها للاستفادة منها	كميات النفط المخزونة في باطن الأرض

### علل (اذكر السبب):

- ١- اتجهت عمليات التنقيب عن النفط في دولة الكويت من الشمال إلى الجنوب. ص ٨٧  
لان كميات النفط في الشمال قليلة
- ٢- للتنوع الاقتصادي أهمية في دول الخليج العربية ص ٨٩  
الحاجة الى التقليل من الاعتماد على النفط  
البحث عن مصادر جديدة وبديلة للاقتصاد والطاقة

### لاحظ الجدول الذي أمامك ثم أجب: ص ٨٨



١. الدولة الأولى في نسبة إنتاج النفط لشهر أغسطس ٢٠٠٨ م اسمها السعودية
  ٢. الدولة الأقل في نسبة إنتاج النفط لشهر أغسطس ٢٠٠٨ م اسمها قطر
- حول الجدول إلى رسم بياني

نسبة إنتاج بعض دول مجلس التعاون الخليجي عام ٢٠٠٨ م	
الدولة	نسبة إنتاج النفط لشهر أغسطس ٢٠٠٨ م
الكويت	٨%
السعودية	٢٩%
الإمارات	٨%
قطر	٦%

الوحدة الثالثة  
أ/ الموارد الاقتصادية  
لدول الخليج العربية


أ. الثروة النفطية:  
٣- تصدير النفط. ف  
من ص ٩٠ الى ص ٩١

١/ أكمل العبارات التالية بما يناسبها فيما درست :

١. العام الذي تم فيه إصدار أول شحنة من النفط ١٩٤٦ م ص ٩٠
٢. الشيخ الذي أصدر في عهده أول شحنة من النفط اسمه أحمد الجابر ص ٩٠

٢/ أكمل المخططات السهمية التالية :

أهم الدول المستوردة للنفط ص ٩٠



٣/ أكمل الحدث المرتبط بالصورة ص ٩٠

اسم الشيخ	أحمد الجابر
الحدث	اصدار أول شحنة نفط
العام	١٩٤٦

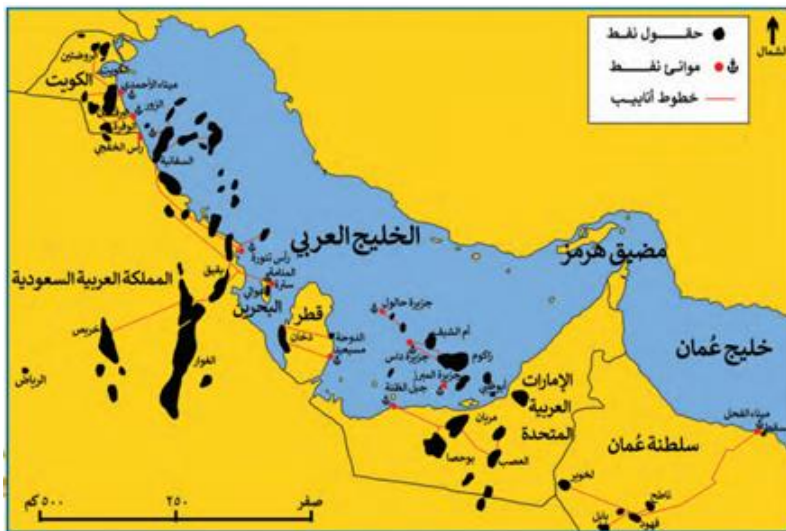
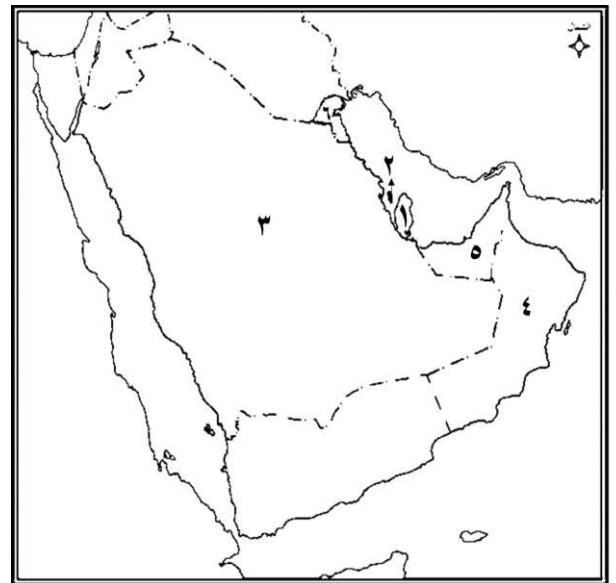
٤/ علل (اذكر السبب) :-

١- ظهور الحاجة إلى إقامة العديد من الموانئ النفطية في دول الخليج العربية ص ٩٠  
أ. تزايد إنتاج النفط - ب. تزايد الطلب العالمي

٢- لا يتم تصدير جميع الإنتاج من النفط للخارج ص ٩٠  
فلاحتفاظ بجزء منه كاحتياطي للأجيال القادمة

٥/ حدد على الخريطة المعلومات التالية :-

الدولة	حقل النفط	ميناء التصدير
١- الإمارات	مريان	جبل الظنة
٢- البحرين	عوالي	سترة
٣- السعودية	الغوار	رأس تنورة
٤- عمان	ناطح	الفحل
٥- قطر	دخان	إمسعيد
٦- الكويت	برقان	الأحمدي



## بـ الموارد الزراعية من ص ٩٢ الى ص ٩٤

الوحدة الثالثة  
أ/ الموارد الاقتصادية  
لدول الخليج العربية

### ١/ أكمل العبارات التالية بما يناسبها فيما درست :

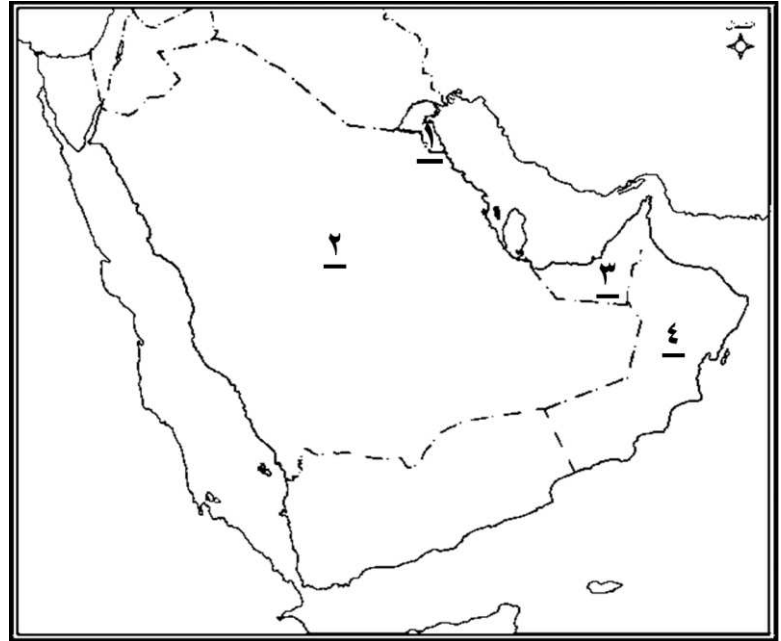
١. نجحت المملكة العربية السعودية في زراعة و انتاج محصول زراعي اسمه القمح ص ٩٢
٢. الدولة الخليجية التي نجحت في زراعة و انتاج محصول القمح اسمها المملكة العربية السعودية ص ٩٢

### ٢/ عرف المفاهيم والمصطلحات التالية :

الزراعة بدون تربة <u>ص ٩٤</u>	هي الزراعة التي تتم في بيئة مائية، أو رملية أو حصى أو نشارة خشب تضاف اليها المحاليل الغذائية
بيوت بلاستيكية <u>ص ٩٤</u>	يزرع فيها الخضروات في غير مواسمها وتقوم بحماية المحاصيل من تقلبات الطقس


### ٣/ حدد على الخريطة المعلومات التالية :-

الدولة	المناطق الزراعية <u>ص ٩٢</u>
١/ الكويت	العبدلي والوفرة
٢/ السعودية	الإحساء وسهل تهامة
٣/ الإمارات	العين وليوا
٤/ عمان	سهل الباطنة وصلالة



### لاحظ الصور ثم أجب عن الأسئلة التالية :

- الصورة التي تمثل الزراعة بدون تربة تحمل الرقم ١  
الصورة التي تمثل الزراعة في البيوت البلاستيكية تحمل الرقم ٢



## ج- الموارد الصناعية د- الموارد التجارية ف

من ص ٩٥ الى ص ٩٩

الوحدة الثالثة  
أ/ الموارد الاقتصادية  
لدول الخليج العربية

### ١١ أكمل العبارات التالية بما يناسبها فيما درست :

١. من أهم الصناعات بمدينة صحار في دولة عمان صناعة اسمها النحاس ٩٦
٢. من أهم الصناعات بمدينة الرياض في المملكة العربية السعودية صناعة اسمها تكرير النفط ٩٦

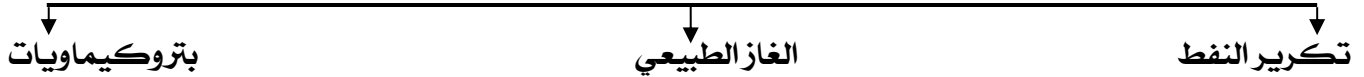
### ١٢ عرف المفاهيم والمصطلحات التالية :

الصناعة	ص ٩٥	تحويل المواد الخام الى مواد يمكن الاستفادة منها .
الدخل القومي	ص ٩٥	هو مجموع الدخل التي تحصل عليها الدولة خلال عام

موقع  
المناهج الكويتية  
almanahj.com/kw

### ١٣ أكمل المخططات السهمية التالية :

الصناعات القائمة على النفط في دول الخليج العربية ص ٩٦



### ١٤ علل (اذكر السبب) :-

١- تزدهر الصناعة في دول الخليج العربي .  
نتيجة لاكتشاف النفط وتصديره مما يؤدي الى زيادة الدخل القومي

٢- اهتمام حكومات دول الخليج العربية بالتوسع في صناعة تكرير النفط  
لزيادة الدخل القومي - زيادة الكميات المصدرة

١- انتعاش الموانئ التجارية في دول الخليج العربية ص ٩٠  
بسبب الصادرات والواردات بين دول الخليج العربية ودول العالم

### ١٥ صنف الكلمات التالية في مكانها الصحيح : ص ٩٦

الجبيل / إمسييد / الرويس / الفحل / الشعيبه

الدولة	الكويت	السعودية	البحرين	قطر	الإمارات	عمان
المناطق الصناعية	الشعيبة	الجبيل / الرياض / ينبع	شمال سترة	إمسييد	الرويس / جبل علي	الفحل / صحار

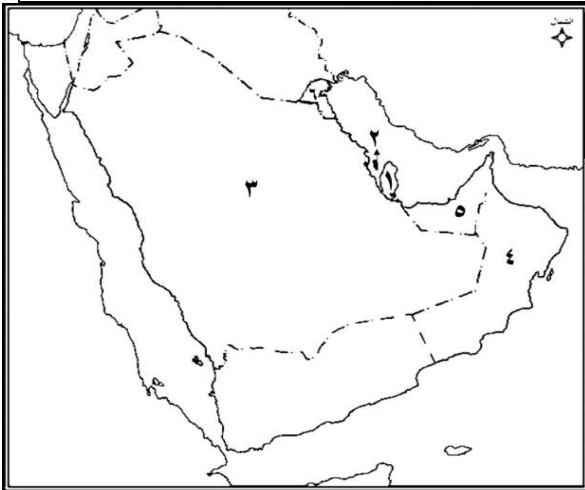
### ١٦ لاحظ خريطة شبه الجزيرة العربية الصماء

ثم اجب عما يليها من أسئلة :

- منطقة الشعيبه يمثلها على الخريطة الرقم ٦
- منطقة الفحل يمثلها على الخريطة الرقم ٤
- منطقة الرياض يمثلها على الخريطة الرقم ٢

### ١٧ عرف المفاهيم والمصطلحات التالية :

الصادرات	ص ٩٩	السلع والمنتجات التي تبيعها دولنا في الخارج
الواردات	ص ٩٩	البضائع والسلع التي تشتريها دولنا من الخارج
الترانزيت	ص ٩٩	إعادة تصدير البضائع المستوردة



أ. السكان في المنطقة العربية في  
(الأصول السكانية) / الهجرات من ص ١٠٥ الى ص ١٠٩

الوحدة الرابعة  
دول الخليج العربية  
تنمو سكانيا  
وتتشابه ثقافيا

### ١/ أكمل العبارات التالية بما يناسبها فيما درست :

١. البعثات التي كشفت عن آثار حضارات منطقة الخليج العربية اسمها الدايمركية ص ١٠٥.
٢. ترجع أصول السلالات السكانية في منطقة الخليج العربية إلى جنس البحر المتوسط وشرق أفريقيا ص ١٠٥.
٣. يربط حوض الخليج العربي قارات العالم القديم قارة آسيا وقارة أفريقيا ص ١٠٨.

### ٢/ عرف المفاهيم والمصطلحات التالية :

السلالة ص ١٠٦ | مجموعة من الناس تشترك فيما بينها في الصفات الجسمانية (لون الجلد وشكل الانف والشعر وطول القامة).

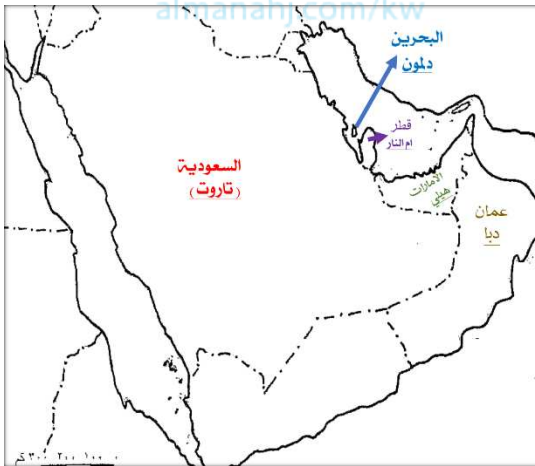
### ٣/ علل (اذكر السبب) :

١. تشابه الآثار الحضارية في منطقتي الخليج العربية. ص ١٠٥  
بسبب وجود اتصال وتقارب بين سكان منطقة الخليج العربية

### ٤/ صنف المناطق التاريخية حسب مكانها الصحيح في الجدول : ص ١٠٥

(تاروت / دلمون / أم النار / هيلي / ودبا)

السعودية	البحرين	قطر	الإمارات	عمان
تاروت	دلمون	أم النار	هيلي	دبا



### ١/ أكمل العبارات التالية بما يناسبها فيما درست :

### ٢/ علل :

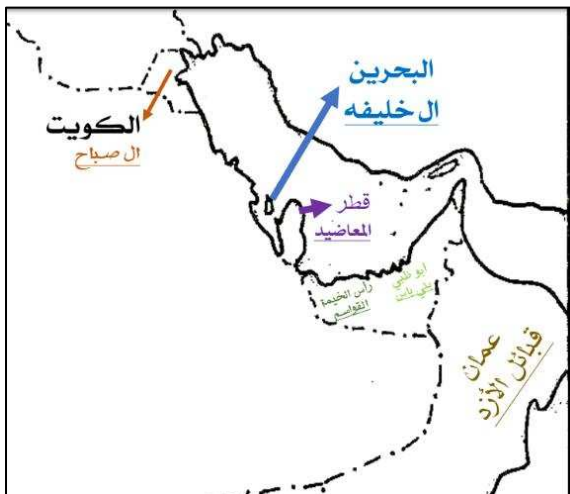
١. استقرار السكان في أطراف منطقة شبه الجزيرة العربية ومنطقة الخليج العربية. ص ١٠٧ - ١٠٨  
بسبب الظروف الطبيعية القاسية. (الجفاف الصحراوي)

٢. استقبال حوض الخليج العربي موجات سكانية من كل المناطق المجاورة  
بسبب موقعه الجغرافي المهم بين قارات العالم القديم.

### ٣/ صنف هجرات العربية إلى دول الخليج العربية : ص ١٠٨

١. (ال صباح / آل خليفة / المعاضيد / القواسم / بني ياس / قبائل الأزد)

الكويت	البحرين	قطر	رأس الخيمة	أبو ظبي	عمان
ال صباح	آل خليفة	المعاضيد	القواسم	بني ياس	قبائل الأزد



أ. السكان في المنطقة العربية في  
النمو السكاني من ص ١١٠ الى ص ١١٦ في

الوحدة الرابعة  
دول الخليج العربية  
تنمو سكانيا  
وتتشابه ثقافيا

## ١/ فرق بين كل مما يأتي :

الكثافة السكانية	النمو السكاني
عدد السكان مساحة الدولة كم	هو التغيير الذي يحدث لعدد السكان نتيجة للزيادة الطبيعية وغير الطبيعية

الزيادة الطبيعية	الزيادة غير الطبيعية
عدد المواليد - عدد الوفيات	الزيادة بسبب الهجرة

## ٢/ علل (اذكر السبب) :-

١/ شهدت منطقة الخليج العربية بعد اكتشاف النفط نموًا سكانيًا فجائيًا

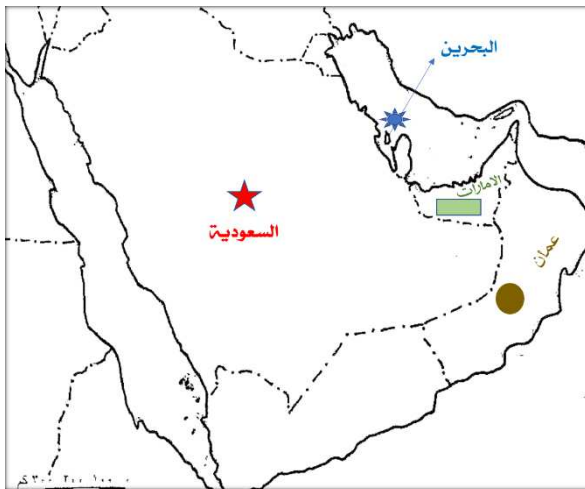
نتيجة لارتفاع دخل الفرد - توفر الرعاية الصحية - توفر فرص العمل  
الأمن والأمان - السماح للوافدين باصطحاب عائلاتهم زيادة عدد المواليد

٢/ عدد السكان في دولة الكويت ودول الخليج العربية في تزايد مستمر  
بسبب الزيادة الطبيعية والزيادة غير الطبيعية

٣/ الكثافة السكانية منخفضة في دول الخليج العربية .  
لأنه إقليم صحراوي وظل طوال القرون الماضية في فقر شديد

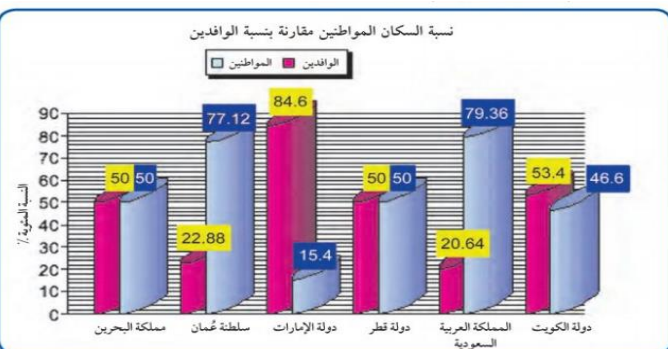
## ٤/ صنف الدول في الجدول من حيث الأعلى والأقل :

فالمعيار	فنسبة المواطنين	فالأقاربين	فعدد السكان	فالكثافة السكانية	فمعدل النمو السكاني
فأكثر	فالسعودية	فالامارات	فالسعودية	فالبحرين	فعمان
فأقل	فالامارات	فالسعودية	فالبحرين	فعمان	فالامارات



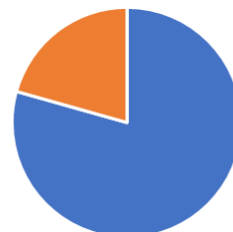
## ٥/ حدد على خريطة شبه الجزيرة العربية التي أمامك التالي :

	فأكبر دولة خليجية في عدد السكان (السعودية) فأكبر دولة خليجية في إنتاج النفط (السعودية) فأكبر دولة خليجية في نسبة المواطنين (السعودية) فأقل دولة خليجية في نسبة الوافدين (السعودية)
	فأقل دولة خليجية في عدد السكان (البحرين) فأكبر دولة خليجية في الكثافة السكانية (البحرين)
	فأقل دولة خليجية في الكثافة السكانية (عمان)
	فأكبر دولة خليجية في نسبة الوافدين (الامارات) فأقل دولة خليجية في نسبة المواطنين (الامارات)



شكل (٣١) توزيع السكان في دول الخليج العربية وفقاً لإحصاء (٢٠٠٦) تقريباً

فاستعن بالدائرة البيانية ثم ظلل نسبة المواطنين في المملكة العربية السعودية





الوحدة الرابعة  
دول الخليج العربية  
تنمو سكانيا  
وتتشابه ثقافيا

التشابه الثقافي بين سكان ف  
دول الخليج العربية من ص ١١٧ الى ص ١٢٣

### ١١ أكمل العبارات التالية بما يناسبها فيما درست :

١. لفظ يطلق للدلالة على سكان منطقة الخليج العربي يسمى خليجيين
٢. الدولة الخليجية التي لم تتعرض للاستعمار الاجنبي تسمى السعودية
٣. تم تسميت تقويم العجيري بهذا الاسم نسبة الى الدكتور صالح العجيري
٤. يطلق على قلعة البحرين اسم قلعة البرتغال

ص ١١٧  
ص ١٢٠  
ص ١٢٢  
ص ١٢٠



شكل (٣٣) صورة توضح قلعة البحرين وتسمى بقلعة البرتغال

### ١٢ عرف المفاهيم التالية:

الثقافة ص ١١٨ مجموعة من العادات والتقاليد و القيم في مجتمع من المجتمعات .

### ١٣ أكمل المخطط السهمي التالي :



### ١٤ عدد أمثلة عن العادات والتقاليد الخليجية. ص ١١٨

أ. الزي ب. الاحتفال بالأعياد والأعراس والمناسبات الوطنية ج. العلاقات الأسرية د. القرقيعان

الوحدة الخامسة  
الكويت ودول  
الخليج العربية في  
مواجهة التحديات

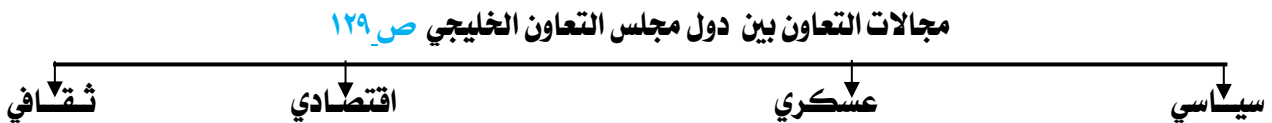
أ. تتعاون دولة الكويت مع دول الخليج العربية من  
اجل تحقيق اهداف مشتركة ف  
من ص ١٢٩ الى ص ١٣٢

### ١١ أكمل العبارات التالية بما يناسبها فيما درست :

١. العام الذي أنشأ فيه مجلس التعاون الخليجي قوات درع الجزيرة ١٩٨٤ م
٢. مقر قوات درع الجزيرة في دولة خليجية تسمى السعودية
٣. صدر إعلان الدوحة بشأن قيام السوق الخليجية المشتركة في يناير من عام ٢٠٠٨ م
٤. يجتمع وزراء التربية والتعليم لدول الخليج العربي كل عامين
٥. المدينة التي يوجد بها مقر مكتب التربية العربي اسمها الرياض

ص ١٢٩  
ص ١٢٩  
ص ١٣٠  
ص ١٣٠  
ص ١٣٠

### ١٢ أكمل المخطط السهمي التالي:



### ٣. اكتب ثلاثة أهداف لكل من مظاهر التعاون بين دول الخليج العربية في المجالات التالية: ص ١٢٩-١٣٠

التعاون السياسي	التعاون العسكري	التعاون الاقتصادي	التعاون الثقافي
١. توحيد الموقف السياسي الخليجي اتجاه عدوان النظام العراقي ٢. مناصرة قضية الشعب الفلسطيني. ٣. ادانته احتلال الجزر الإماراتية الثلاث	١. إنشاء قوة مشتركة. ٢. قبول أبناء دول مجلس التعاون في الكليات العسكرية ٣. المناورات العسكرية ٤. المشاركة في حرب تحرير الكويت	١. صدور اعلان الدوحة بشأن قيام السوق الخليجية المشترك في يناير ٢٠٠٨ ٢. زيادة التبادل التجاري.	١. توحيد المناهج التعليمية ٢. إنشاء مكتب التربية العربي ومقره الرياض. ٣. اجتماع وزراء التربية والتعليم كل عامين لوضع سياسات تربوية

#### ٤. علل (اذكر السبب): -

١- اجتماع وزراء التربية والتعليم لدول الخليج العربية كل عامين  
لوضع سياسات تربوية

٢- إنشاء قوات درع الجزيرة عام ١٩٨٤م

بهدف حماية أو مساندة اي دولة عضو في المجلس تتعرض للعدوان

#### ١٥ اكتب ما يلي:



١- التحديات التي تواجه دول الخليج العربية.

أ. الاخطار الخارجية والداخلية بد الاعتماد على الموارد النفطية ج. تحديات اللغة العربية بوجود ثقافات أخرى (الغزو العراقي) د. الأمن الغذائي والتلوث البيئي و. ندرة المياه الجوفية. ص ١٣٢

٢- دور دولة الكويت ودول مجلس التعاون الخليجي في مواجهة التحديات.

أ. ترسيخ الأمن والاستقرار بد تعزيز التكامل الاقتصادي ص ١٣٢

بد المشكلات التي تواجه دول الخليج العربية في  
١. المشكلات البيئية ٢. التلوث الضوضائي ف  
من ص ١٢٣ الى ص ١٣٦

الوحدة الخامسة  
الكويت ودول  
الخليج العربية في  
مواجهة التحديات



#### ١١ أكمل العبارات التالية بما يناسبها فيما درست:

١/ وحدة قياس شدة الضوضاء التي تتعرض لها الاذن البشرية اسمها الديسيبل ص ١٣٤

٢/ الضرر الذي يصيب عناصر البيئة الأساسية فتتحول من عناصر مفيدة إلى عناصر ضارة تسمى التلوث ص ١٣٣

#### ١٢ عرف المفاهيم والمصطلحات التالية:

التلوث	ص ١٣٣	هو الضرر الذي يصيب عناصر البيئة الأساسية (هواء- ماء- تربة) فتتحول من عناصر مفيدة الى عناصر ضارة
التلوث الضوضائي	ص ١٣٤	الأصوات المتنافرة غير المرغوب فيها بسبب مصادر داخلية او خارجية مما تؤثر على صحة الانسان
الديسيبل	ص ١٣٤	وحدة قياس شدة الضوضاء التي تتعرض لها الاذن البشرية
التلوث الأرضي	ص ١٣٤	دخول مواد غريبة في التربة مما يلحق الضرر في خواصها ومكوناتها

#### ١٣ أكمل المخطط السهمي التالي



#### ٤ / عدد:

١/ مصادر الضوضاء ص ١٣٤ مصادر داخلية - مصادر خارجية

٢/ آثار تلوث التربة. ص ١٣٤ ضعف قدرة التربة على الإنتاج الزراعي بد تلوث الإنتاج الزراعي مما يؤثر على صحة الانسان

٣/ أسباب التلوث الضوضائي ص ١٣٨ أجهزة التسجيل / أعمال النجارة / الآلات الكهربائية

الوحدة الخامسة  
الكويت ودول  
الخليج العربية في  
مواجهة التحديات

بـ المشكلات التي تواجه دول الخليج العربية في  
٣- التلوث الهوائي ٤- التلوث المائي في  
من ص ١٢٤ الى ص ١٢٨

### ١/ أكمل العبارات التالية بما يناسبها فيما درست:

- ١- الدرع الواقي للأحياء ضد خطر الأشعة فوق البنفسجية الضارة تسمى طبقة الأوزون ص ١٢٥  
٢/ عرف المصطلحات التالية:

التلوث الهوائي ص ١٢٤	تعرض الغلاف الجوي لمواد تسبب الضرر للإنسان والكائنات الحية وتؤدي الى اضرار بالبيئة الطبيعية.
طبقة الأوزون ص ١٢٥	هي درع واق للأحياء ضد خطر الاشعة فوق البنفسجية الضارة.
التلوث المائي ص ١٣٦	احداث افساد لنوعية المياه من خلال ادخال مواد ضارة بها من قبل الانسان مما يؤدي الى حدوث خلل في النظام المائي

### ٣/ اختر للمجموعة (أ) ما يرتبط بها من المجموعة (ب) بوضع الرقم المناسب.

المجموعة (أ)	المجموعة (ب)
مصادر تلوث الهواء الطبيعية	١- براكين- عواصف ترابية-
مصادر تلوث الهواء غير الطبيعية	٢- سيارات وطائرات- الصناعة- حرق النفايات- مبيدات حشرية

### ٤/ عدد أسباب التلوث المائي ص ١٣٦

- ١- مخلفات المصانع  
٢- مياه الصرف الصحي غير المعالجة  
٣- مياه الصرف الزراعي  
٤- النفط ومشتقاته  
٥- النفايات الخطرة  
٦- الامطار الحمضية

الوحدة الخامسة  
الكويت ودول الخليج  
العربية في مواجهة  
التحديات

أثر الغزو العراقي الغاشم على البيئة الكويتية في  
من ص ١٢٩ الى ص ١٤٠

### ١/ أكمل العبارات التالية بما يناسبها فيما درست:

- ١- التاريخ الذي تعرضت فيه دولة الكويت للغزو العراقي الغاشم ١٩٩٠/٨/٢ م ص ١٣٩  
٢- عدد الآبار النفطية الكويتية المحترقة بلغ ٧٣٧ بئراً ص ١٣٩

### ٢/ عدد

- ١/ الآثار التي سببها الغزو العراقي على البيئة الكويتية ص ١٣٩
- تلوث هوائي نتيجة احراق ابار النفط وكثرت كميات الدخان
  - تلوث مائي نتيجة ضخ النفط في مياه البحر
  - تلوث تربة نتيجة تساقط الرذاذ النفطي وتحول التربة من اللون الأصفر الى الأسود
  - تدمير البيئة البرية والبحرية تدمير الحياة الفطرية
  - الاضرار التي أثرت على صحة الانسان والكائنات الحية
- ٢/ التحديات البيئية لدول الخليج العربية ص ١٤٠
- ✓ مشكلة التغير المناخي
  - ✓ حماية الحياة الفطرية والحيوانية والنباتية
  - ✓ كيفية التعامل مع اخطار التلوث الاشعاعي والنفايات

### ٣/ طرق التعامل مع اخطار التلوث الاشعاعي والنفايات ص ١٤٠

- ✓ معالجة او تدوير النفايات اختيار مواصفات بيئية ذات جودة رفع مستوى وعي المجتمع بقضايا البيئة

الوحدة الخامسة  
الكويت ودول الخليج  
العربية في مواجهة  
التحديات

ج. المشكلات الاجتماعية في  
مشكلة العمالة المنزلية + العنف من ص ١٤١ الى ص ١٥١

### ١- أكمل المخطط السهمي التالي:



### ٢- عرف المفاهيم والمصطلحات التالية:

العمالة المنزلية: ص ١٤٢	انهم مجموعة من الافراد الذين يشاركون الاسرة في دور او اكثر داخل المنزل او خارجه من المربيات و الطباخين و السائقين والخدم . ص ١٤٢
العنف ص ١٤٤	هو ذلك السلوك العدواني الموجه ضد الغير والذي يتسم بالتخريب والتدمير سواء كان ذلك السلوك اقوالا او افعالا.

### ٣- أكمل العبارات التالية بما يناسبها فيما درست:

ص ١٤٦

١. يرى العلماء أن العنف يعتبر أكثر من جريمة إنما هو مرض اجتماعي

ص ١٤٦

٢. الإنسان ليس بطبعه عدوانيا إنما هي عادة متعلمة

ص ١٤٦

٣. تربية الطفل الخاطئة + الإحباط يؤدي إلى مشكلة تسمى عنف

٤ عدد:-

ص ١٤٢

١/ الآثار المترتبة على زيادة العمالة المنزلية.

أ) السلوكيات الخاطئة ب) التأثير بعاداتهم وتقاليدهم

ص ١٤٦

٢/ أسباب العنف.

أ) تربية الطفل الخاطئة ب) الإحباط.

ص ١٤٩

٣/ المظاهر المسببة للعنف

وقت الفراغ وأصحاب السوء - التوتر والحرمان العاطفي - نقص وسائل الرعاية الاجتماعية  
عدم وعي الاسرة بأهمية التعليم والتربية-

ص ١٤٩

٤/ أسباب العنف .

أ) أسباب أسرية ب) أسباب نفسية ج) أسباب بيئية عامة

ص ١٥٠

٥/ جهود دول الخليج العربية لحل المشكلات الاجتماعية

أ) عقد ندوات ومؤتمرات خليجية ب) وضع مؤسسات اجتماعية لحل هذه المشكلات  
ج) دار القرآن د) الأندية الصيفية

ص ١٥٠

٦/ حلول المشكلات الاجتماعية - العنف - العمالة المنزلية

التمسك بالقرآن الكريم والسنة النبوية / القدوة الحسنة / الوعي الاسري

## التلوث الضوضائي

الأصوات  
المتنافرة غير  
المرغوب فيها  
بسبب مصادر  
داخلية او  
خارجية مما  
تؤثر على صحة  
الانسان

أسباب التلوث:

الآلات كهربائية /  
أجهزة التسجيل/  
أعمال النجارة

## تلوث التربة

دخول مواد  
غريبة مما  
يلحق الضرر  
في خواصها  
ومكوناتها

نتائجه

ضعف القدرة على  
الإنتاج الزراعي

تلوث الإنتاج الزراعي  
مما يؤثر على صحة  
الانسان

## التلوث الهوائي

هو تعرض  
الغلاف الجوي  
لمواد تسبب  
الضرر للإنسان  
والكائنات الحية  
وتؤدي الى  
اضرار بالبيئة  
الطبيعية .

أسباب التلوث:

طبيعية:براكين /  
عواصف ترابية

غير طبيعية: - حرق  
النفايات السيارات و  
طائرات

## التلوث المائي

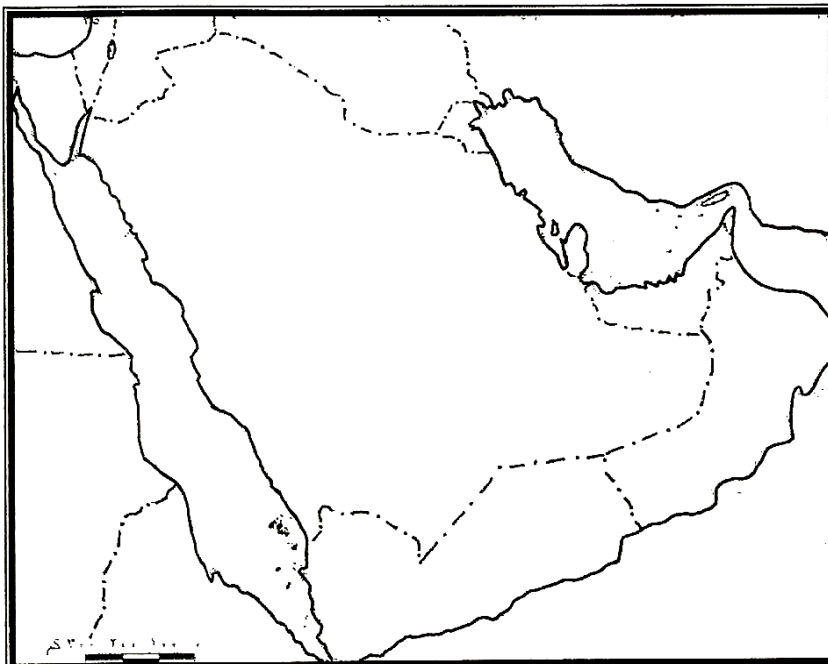
هو احداث افساد  
لنوعية المياه من  
خلال ادخال مواد  
ضارة بها من قبل  
الانسان مما يؤدي  
الى حدوث خلل  
في النظام المائي.

أسباب التلوث:

مخالفات المصانع /  
نفايات خطرة /النفط  
مشتقاته / مياه الصرف  
الزراعي / الأمطار  
الحمضية / مياه  
الصرف الصحي

## تدريب على الخريطة

## ملحق الأحداث الهامة:



الحدث
التنقيب عن النفط في الكويت ( حقل بحر) ١٩٣٤ م
تصدير أول شحنة من النفط الكويتي ١٩٤٦ م
إعلان الدوحة بشأن قيام السوق الخليجية المشتركة ٢٠٠٨ م
تأسيس قوات درع الجزيرة ١٩٨٤ م
الغزو العراقي على دولة الكويت ١٩٩٠/٨/٢ م