

تم تحميل هذا الملف من موقع المناهج الكويتية



منطقة الفروانية التعليمية

الملف نموذج أسئلة منطقة الفروانية

[موقع المناهج](#) ← [المناهج الكويتية](#) ← [الصف السادس](#) ← [علوم](#) ← [الفصل الثاني](#)

روابط مواقع التواصل الاجتماعي بحسب الصف السادس



روابط مواد الصف السادس على تلغرام

[الرياضيات](#)

[اللغة الانجليزية](#)

[اللغة العربية](#)

[التربية الاسلامية](#)

المزيد من الملفات بحسب الصف السادس والمادة علوم في الفصل الثاني

<a href="#">بنك أسئلة</a>	1
<a href="#">دليل المعلم</a>	2
<a href="#">دليل المعلم</a>	3
<a href="#">كتاب الطالب 6</a>	4
<a href="#">تحضير درس مخطط حسمك</a>	5

المؤال الثالث : في الجدول التالي اختر العبارة أو الشكل من المجموعة ( ب ) و اكتب رقمها أمام ما يناسبها من عبارات المجموعة ( أ ) : (١×٦)

الرقم	المجموعة ( أ )	المجموعة ( ب )
(....)	- خلايا تنقبض وتنسبط لتساعد الجسم على الحركة.	١. الخلايا العضلية
(....)	- خلايا كثيرة التفرع تعمل على نقل الإشارات والمعلومات بين أجزاء الجسم .	٢. الخلايا العصبية ٣. الخلايا العمادية
(....)	- التكاثر اللاجنسي في الخميرة.	٤. الانشطار الثنائي
(....)	- التكاثر اللاجنسي في البكتيريا.	٥. المشيخ ٦. التبرعم
(....)	- مزيج من مادتين سائلتين أو أكثر لا تذوبان ولا تمتزجان.	٧. الراسب
(....)	- مزيج متجانس ناتج عن ذوبان مادة أو أكثر في مادة أخرى	٨. المحلول ٩. المستحلب

**السؤال الرابع (أ) : علل لما يأتي تعليلاً علمياً سليماً :- (٢×٣)**

١. خلايا الجلد مسطحة وتتنظم معاً بشكل متراس.

٢. دور البكتيريا في الصناعة.

٣. عملية التكاثر مهمة في حياة الكائن الحي.

**السؤال الرابع (ب) : قارن بين كل من (٢×٣):**

وجه المقارنة	الميتوكوندريا	النواة
أهمية العضية في الخلية	.....	.....
نوع الكائن الذي يصيبه	فيروس الحصبة	فيروس الحمى القلاعية
طريقة الفصل	مخلوط الرمل والماء	مشتقات النفط
	.....	.....

**السؤال الخامس (أ): أي مما يلي لا ينتمي للمجموعة مع ذكر السبب :- (٢×٣)**

من خلال دراسته لوحدة :- الخلايا والأنسجة والأعضاء.

١. جدار الخلية - غشاء الخلية - الجسم المركزي - النواة.

الذي لا ينتمي هو ..... السبب: .....

من خلال دراسته لوحدة :- الفيروسات وحدة البكتيريا.

٢. الكوليرا - الإنفلونزا - التهاب البلعوم - السعال الديكي.

الذي لا ينتمي هو ..... السبب: .....

من خلال دراسته لوحدة :- المحاليل وطرق الفصل.

٣. الحبر والماء - الهواء الجوي - المكسرات - عصير الفواكة.

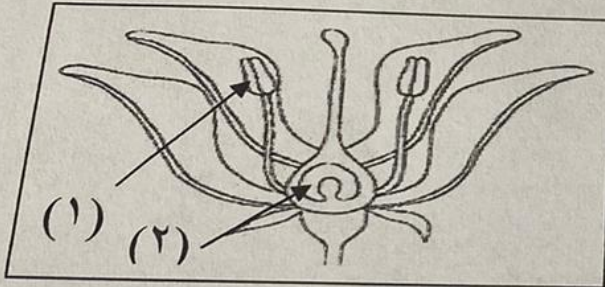

الذي لا ينتمي هو ..... السبب: .....

**السؤال الخامس (ب): ادرس الشكل أو الرسم التالي ثم أجب عن المطلوب :- (٢×٣)**

(١) ادرس الشكل المجاور ثم أجب عن المطلوب:

أ- الشكل يمثل كائن حي يسمى .....

ب- السهم يشير إلى تركيب .....



(٢) ادرس الشكل المجاور ثم أجب عن المطلوب

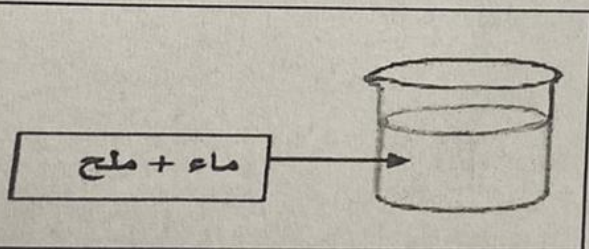
أ- تعتبر الزهرة عضو ..... في النبات الزهري .

ب- السهم (٢) يشير الى .....

(٣) ادرس الشكل المجاور ثم أجب عن المطلوب:

يسمى الماء في هذا المخلوط .....

- يمكن فصل المخلوط باستخدام عملية .....



انتهت الأسئلة

السؤال الأول: اختر الإجابة الصحيحة علمياً لكل من العبارات التالية وضع إشارة (√) في المربع المقابل لها (١×٨):

١. عضية توجد في الخلية النباتية ولا توجد في الخلية الحيوانية :

الشبكة الإندوبلازمية

الفجوة العصارية  البلاستيدات الخضراء  غشاء الخلية

٢. مجموعة من الأنسجة التي تعمل متضافرة لتأدية وظائف معينة تسمى :

الجهاز

العضو

النسيج

الخلية

٣. الفيروس في الشكل المجاور متخصص في إصابة :

الحيوان

النبات

الإنسان

البكتيريا

٤. تركيب يساعد البكتيريا على الحركة في السوائل هو:

الغشاء البلازمي

المحفظة

السوط

السيتوبلازم

٥. البكتيريا النافعة في أمعاء الإنسان تساعد في هضم المواد :

الفيتامينات

البروتينات

السكريات

الدهون

٦. أحد الكائنات الحية يتكاثر لا جنسياً :

الجزر

البطريق

الفول

عفن الخبز

٧. أول مستحلب استخدم في إنتاج الغذاء :

البيض

الشيكولاتة

المايونيز

الخبز

٨. طريقة لفصل وتنقية المواد الكيميائية المختلطة :

الترشيح

التقطير

الاستشراب

التبلور

امتحان نهاية الفترة الدراسية الثانية الفصل الدراسي الثاني في مجال العلوم للصف السادس للعام الدراسي ٢٠٢٣-٢٠٢٤  
السؤال الثاني (أ) : اكتب بين القوسين كلمة ( صحيحة ) للعبارة الصحيحة وكلمة ( خطأ ) للعبارة غير الصحيحة علمياً في كل مما يأتي : (٨×١)

(.....)

١. الجهاز المناعي يضخ الدم في كافة أنحاء جسم الإنسان.

(.....)

٢. الفيروسات لا تستطيع الحركة أو النمو خارج جسم الكائن الحي.

(.....)



٣. الشكل المجاور يمثل مرحلة حقن المادة الوراثية في تكاثر الفيروس.

(.....)

٤. جميع أنواع البكتيريا غير ذاتية التغذية.

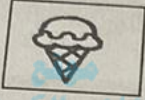
(.....)

٥. يستخدم العلماء البكتيريا في إنتاج هرمون الأنسولين.

(.....)

٦. يتكاثر نبات البصل تكاثراً لاجنسياً.

(.....)



٧. الشكل المجاور يمثل مستحلب.

(.....)

٨. يظهر التبلور واضحاً في الطبيعة في صواعد وهوابط الكهوف.

(.....)

المنهج الكويتية  
almanahj.com/kw

٨

السؤال الثاني (ب) : أكمل العبارات التالية بما يناسبها علمياً: (٤×١)

١. الفجوة العصارية في الخلية النباتية ..... الحجم في وسط الخلية.

٢. تنتقل الفيروسات من شخص إلى آخر بواسطة .....

٣. تتركب الفيروسات من مادة ..... محاطة بغلاف بروتيني.

٤. تعتبر مكونات السلطة من المخاليط .....

درجة السؤال الثاني

١٢