



وزارة التربية

الإدارة العامة لمنطقة الفر وانية التعليمية

مدرسة سلمان الفارسي بنين

قسم الاجتماعيات (علم نفس وفلسفة)

(جديد)

(مذكرة اجتماعيات -

تاريخ الكويت - الصف

العاشر)

WWW.KweduFiles.Com

(٢٠١٦ / ٢٠١٧ م)

الفصل الدراسي الأول


مراجعة :

الأستاذ / أشرف مصطفى

إشراف رئيس القسم الأستاذ/ نواف المطيري

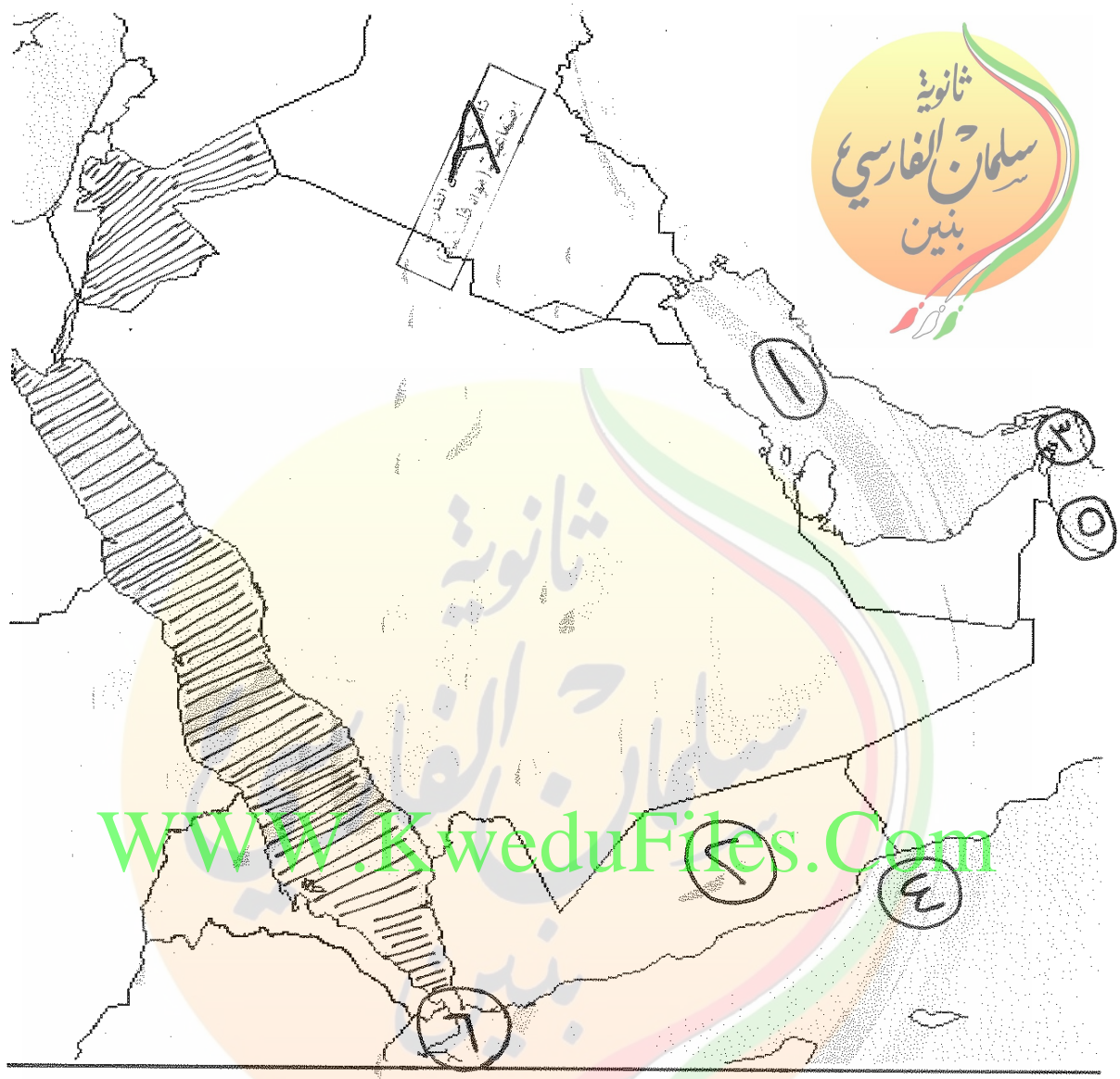
مدير المدرسة الأستاذ / طارق الشطي





لاحظ خريطة الكويت السابقة ثم أجب عما يلي :

- (أ) ظلل جزيرة بوبيان
- (ب) ضع الرقم ١ على حافة جال الزور
- (ج) سهل الدبديبة يحمل على الخريطة الرقم ٢
- (د) ظلل وادي الباطن
- (هـ) ضع الرقم ٣ على تلال كراع المرو
- (و) جزيرة وربة تحمل على الخريطة الرقم ٤
- (ز) ضع الرقم ٥ على جزيرة فيلكا
- (ح) خور عبدالله يحمل على الخريطة الرقم ٦
- (ك) ضع الرمز A على سهل الروضتين



لاحظ الخريطة السابقة ثم أجب عما يلي :

- (أ) ضع الرقم ١ على الخليج العربي
- (ب) ظلل البحر الأحمر
- (ج) الرقم ٢ يشير إلى دولة عربية تسمى اليمن
- (د) مضيق هرمز يحمل على الخريطة الرقم ٣
- (هـ) ضع الرقم ٤ على بحر العرب
- (و) خليج عمان يحمل على الخريطة الرقم ٥
- (ز) ضع الرقم ٦ على مضيق باب المنديب
- (ح) ضع الرمز A على جمهورية العراق
- (ك) ظلل المملكة الأردنية الهاشمية

مملكة عمان (موارد طبيعية)
مملكة البحرين (موارد طبيعية)




لاحظ خريطة الكويت السابقة ثم أجب عما يلي :

- (أ) ضع الرقم ١ على جزيرة مسكان
- (ب) ضع الرقم ٢ على جزيرة أم النمل
- (ج) المملكة العربية السعودية تحمل على الخريطة الرقم ٣
- (د) ضع الرقم ٤ على منطقة الصبية
- (هـ) ضع الرقم ٥ على تلال وارة
- (و) جزيرة عوثة تحمل على الخريطة الرقم ٦
- (ز) ضع الرقم ٧ على جزيرة كبير
- (ي) جزيرة قاروة تحمل على الخريطة الرقم ٨
- (ك) ضع الرقم ٩ على جزيرة أم المرادم
- (م) ضع الرمز X على موقع معركة الرقة بين الكويت وبنى كعب
- (ن) ضع الرمز A على منطقة كاظمة

ثانوية سلمان الفارسي
بنين (بنو العتيبة)

❖ حدد على خريطة التي امامك ما يلي :-

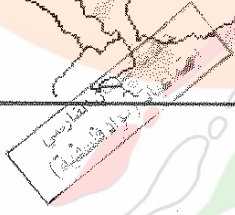
• اهم المناطق الزراعية في الكويت





❖ حدد على الخريطة التي امامك ما يلي :-


• طريق هجرة العتوب





أكمل العبارات التالية بما يناسبها :

- ١- تقع الكويت بالنسبة للجزيرة العربية في الجزء... الشمالي... الشرقي.....
- ٢- يحد الكويت من الجنوب والجنوب الغربي... المملكة العربية السعودية.....
- ٣- تقع دولة الكويت بالنسبة للخليج العربي في الجزء... الشمالي... الغربي.....
- ٤- تقع الكويت بين خطي عرض ٢٨° و ٤٥° و ٣٠° و ٣٥° شمال خط الاستواء.....
- ٥- تقع الكويت بين خطي طول ٣٠° و ٤٦° و ٣٠° و ٤٨° شرق خط غرينتش.....
- ٦- الحد الفاصل بين الحدود الكويتية العراقية بمسافة ١٥٠ كم يسمى... وادي الباطن.....
- ٧- سهل يمتد من جون الكويت باتجاه الجنوب موازياً لخط الساحل يسمى... سهل البرقان.....
- ٨- سهل يقع في شمال الكويت وهي أرض منبسطة تتحدر نحو الشرق والشمال الشرقي يسمى... سهل البروضيتين.....
- ٩- أكبر الجزر الكويتية هي جزيرة... بيو بيان.....
- ١٠- جزيرة أصبحت غير مأهولة بالسكان بعد أحداث الغزو العراقي البائد للكويت عام ١٩٩٠ هي جزيرة... فيلكا.....
- ١١- في فصل الشتاء يصل معدل درجة الحرارة في الكويت حوالي... ١٨... مئوية
- ١٢- رياح تكون رطبة دافئة تهب من الجنوب الشرقي تتأثر في المنخفض السوداني وتتسبب في رفع درجة الحرارة تسمى... رياح الكوسين.....
- ١٣- رياح جافة تهب في الظهيرة حيث تنخفض الرطوبة النسبية وهي رياح ذات درجات حرارة عالية تسمى... رياح السموم.....
- ١٤- رياح تهب في أواخر الربيع وأوائل الصيف فتثير الغبار وتكون مصحوبة بعواصف رعدية تسمى... العواصف الترابية.....
- ١٥- يعود الوجود البشري في منطقة الكويت إلى أكثر من... ٤٠٠٠٠... آلاف سنة قبل الميلاد
- ١٦- اقتصرت المعلومات السكانية لعدد سكان الكويت خلال الفترات التاريخية القديمة على التقديرات المبكرة التي ذكرها بعض... الرحالة.....
- ١٧- أجرى أول تعداد رسمي لسكان الكويت في عهد الشيخ الراحل... عبداللّه المبارك الصباح.....
- ١٨- بلغ عدد سكان الكويت عام ١٩٩٠ حوالي... ٤٦٥... ٤١... ٢... نسوة



- ١٩- في عام ١٩٩٠ بلغت نسبة عدد السكان غير الكويتيين (الوافدين) حوالي ٧٠٪.
- ٢٠- أجرى تعداد لسكان الكويت في عام ٢٠١٤ م في عهد الشيخ صباح الأحمد الصباح.
- ٢١- بلغ عدد السكان غير الكويتيين (الوافدين) حسب تعداد عام ٢٠١٤ م حوالي ٣٠٧٨٩٠ نسمة.
- ٢٢- جمع النشاط الاقتصادي للمجتمع الكويتي القديم بين النشاط البري والنشاط البحري.
- ٢٣- أحد أذرع المحيط الهندي في شبه الجزيرة العربية يسمى الخليج العربي.
- ٢٤- أحد أهم الطرق التجارية القديمة والاكثر استخداماً للتجارة الدولية في العالم القديم يسمى طريق الحرير.
- ٢٥- طريق شمالي يبدأ من الصين وينتهي بأوروبا يسمى طريق الحرير البري.
- ٢٦- طريق غربي يبدأ من أحد الموانئ الصينية ثم يلتف حول سواحل شبه القارة الهندية ليدخل البحار المحيطة بشبه الجزيرة العربية يسمى طريق الحرير البحري.
- ٢٧- الصيد بالإضاءة قديماً كان يعرف باسم القومبار.
- ٢٨- الذي يقوم بإعداد المواد اللازمة لصناعة وبناء السفينة يسمى القلاف.
- ٢٩- أشهر حرفة مارسها أهل الكويت منذ نشأة مدينتهم وحتى أوائل الخمسينيات من القرن العشرين تسمى الغوص على اللؤلؤ.
- ٣٠- تعني انتهاء موسم الغوص تسمى القفال.
- ٣١- منابت المحار المحتوى على اللؤلؤ تسمى الهبرانت.
- ٣٢- كسدت تجارة الغوص على اللؤلؤ بسبب ظهور اللؤلؤ الصناعي.
- ٣٣- يبدأ مع نهاية موسم الغوص وينتهي مع هبوب الرياح الموسمية يسمى موسم السفر.
- ٣٤- كانت الحياة السائدة في الكويت منذ القدم حياة تتسم بالبراوة.
- ٣٥- تصنف الكويت جغرافياً ضمن المناطق الصحراوية.
- ٣٦- يبدأ موسم المطر في الكويت عادة في شهر أكتوبر ويستمر حتى أواخر شهر أبريل.
- ٣٧- في فصل الربيع في الكويت تنتشر قطعان الأغنام والماعز والأبل طلباً للمرعى.
- ٣٨- يطلق على البرسيم قديماً اسم الجنت.
- ٣٩- أشجار استخدمها الكويتيين قديماً كمصدات للرياح تسمى أشجار السدر.



٤٠- حرفة يدوية لعب العاملون بها دوراً كبيراً في توفير مواد البناء والمستلزمات المنزلية قديماً تسمى الخارية

٤١- أداة تستخدم للحفر والجدوم والهبب والسكاكين والسلاسل تسمى الصخين

٤٢- حرفة يدوية يقوم العاملون بها بصنع وتلميع القدور المستخدمة في الطبخ تسمى الصفارة

٤٣- حرفة يدوية يقوم العاملون بها باستخدام الصفيح المعدني لصناعة الدوة والتنك وعلب الجاز والسطول والطشوت تسمى .. التناك ..

٤٤- حرفة يدوية يستخدم العاملون بها جريد النخيل لصناعة أشكال مختلفة من الأقفاص تسمى القفاص

٤٥- السرير الذي ينام عليه الطفل قديماً يسمى المنز

٤٦- صندوق له فتحه من الأعلى لوضع بعض المأكولات يسمى .. البرك ..

٤٧- يقوم بتجديد وصناعة المساند والفرش مستخدماً القطن يسمى .. الزراف ..

٤٨- أساس مكونات بيت الشعر الذي يسكنه أهل البادية يسمى .. غزل السرير ..

٤٩- أكياس كبيرة لحفظ بعض أنواع الطعام توضع على ظهر الدابة تسمى .. العرول ..

٥٠- أكياس متوسطة لحفظ الطعام والملابس تسمى .. المزاور ..

٥١- يرجع تاريخ أقدم الحفريات الجيولوجية في منطقة الصبية إلى الفترة ما بين ١٥٠ و ٣٠٠ مليون سنة

٥٢- الرحي الحجرية كانت تستخدم في .. طحن الغلال ..

٥٣- عثر على العديد من الكتابات على الصخور كحجر .. إيكاروس ..

٥٤- تعتبر جزيرة فيلكا مركزاً من مراكز حضارة .. وامون ..

٥٥- وقعت معركة ذات السلاسل عام ١٦٠٠ هجرية ٦٣٣ م


٥٦- وقعت معركة ذات السلاسل في منطقة الكويت تسمى .. صاطمة ..

٥٧- عثر على مسكوكات إسلامية أهمها عملة أموية مؤرخة بعام ١٦٣ هجرية

٥٨- الكويت أرض فقراء نزلها جدنا صباح عام ١٠٢٢ هجرية عبارة قالها الشيخ مبارك الصباح

٥٩- كانت جماعات العتوب تسكن في نجد بمنطقة تسمى .. الهبار ..

مؤرخ الكويت هو .. عبدالعزیز الرشيد ..



٦١- الكويت تصغير لكلمة كوت وهى تعنى .القلعة أو الحصن

٦٢- أصل كلمة العتوب الفعل عتب ومعناه الأكثر من .الرجال

٦٣- شكلت محطة الاستقرار الأولى بالنسبة للعتوب هى .قطر

٦٤- قبيلة امتد نفوذها من قطر جنوباً حتى البصرة شمالاً تسمى .بنى خالد

٦٥- كان اختياره حاكماً للكويت يعد البداية الحقيقية لظهور الكويت ككيان سياسى منظم

هو .الشيخ صباح الأول بنى جابر

٦٦- تولى الشيخ عبدالله الأول بن صباح بن جابر الحكم عام ١٧٠٦٣ م

٦٧- حدثت معركة الرقة فى عهد الشيخ .عبدالله الأول بن صباح بن جابر

٦٨- معركة الرقة كانت بين الكويت وبنى كعب كانت عام ١٧٠٨٢ م

٦٩- تم بناء سور الكويت الأول عام ١٨٠١١ م

٧٠- عرف عنه الحكمة وهدوء الطبع وحبه لشعبه اشتهر بجابر العيش هو الشيخ جابر الأول بن عبد الله الصباح

٧١- الخى الرسوم على الضائع احتراماً لرغبة شعبه هو الشيخ .صباح بن جابر

٧٢- زار المعتمد البريطانى فى الخليج العربى لويس بيلى الكويت عام ١٨٦٥ م

٧٣- من أهم الأحداث السياسية فى عهده ترحيبه وتسهيله لاستقرار أسرة الأمير عبدالرحمن آل سعود هو الشيخ .محمد بن صباح

٧٤- تسهيلات كانت تمنح لتجار البادية تسمى .تجارة المسابغة

٧٥- مؤسس الدولة السعودية الثالثة هو الملك .عبدالعزیز آل سعود

٧٦- أحد موظفى شركة الهند الشرقية البريطانية هو فرنسيس واردين

٧٧- تولى الحكم فى الكويت قديماً حسب تقسيم المهام أسرة آل صباح

٧٨- تولى آل خليفة فى الكويت قديماً شؤون .التجارة

٧٩- اشتهر بالنزاهة والوقار والتواضع وساعده فى الحكم أخواه الشيخان جراح ومبارك هو

الشيخ .محمد بن صباح

تصف بحسن السيرة ودمائة الأخلاق وكان محبوباً لدى الجميع هو الشيخ عبد الله بن صباح الثانى

مدرسة سلمان الفارسي
بنين

- قولني الحكم بعد وفاة والده على الرغم من كونه أصغر أبنائه لكنه كان ذا سيرة حسنة بونباهة وحزم ومحبا للعدالة هو الشيخ عبد الله الأول بن صباح بن جابر

٨٣- دولة تعد مركزاً للتوابل في جنوب شرق آسيا تسمى... الهنز

٨٤- خرج أول أسطول هولندي إلى آسيا في عام..... ١٥٩٥ م

٨٥- تأسست شركة الهند الشرقية البريطانية في عام..... ١٦٠٠ م

٨٦- الدولة الخليجية التي ظهرت فيها قوة اليعاربة تسمى... عمان

اختر الإجابة الصحيحة من الاجابات التالية :

١- يحده الكويت من الشمال والشمال الغربي

(المملكة العربية السعودية - اليمن - جمهورية العراق)

٢- تبلغ مساحة الكويت حوالي

(١٨,٨١٨ ألف كم - ١٩,٨١٨ ألف كم - ١٧,٨١٨ ألف كم)

٣- يبلغ عدد الجزر الكويتية

(١١ - ١٠ - ٩)

٤- تصل أحياناً درجة الحرارة بدولة الكويت في فصل الصيف

(٥٠ درجة - ٤٩ درجة - ٤٨ درجة)

٥- تمثل جزيرة بوبيان من مساحة الكويت

(٦% - ٧% - ٥%)

٦- رياح تهب معظم أيام السنة وهي رياح جافة بفعل المرتفع السيبيري تسمى

(الشمالية الغربية - السموم - رياح الكوس)

٧- أول تعداد رسمي لسكان الكويت كان عام

(١٩٥٥ م - ١٩٥٦ م - ١٩٥٧ م)

٨- بلغ عدد سكان الكويت عام ٢٠١٤ م

(١٢٦٣١٠٠ نسمة - ٢٦٦٣١٠٠ نسمة - ٣٢٦٣١٠٠ نسمة)



٩- مضيق يربط بين خليج عمان والخليج العربي يسمى

(باب الملدب - جبل طارق - هرمز)

١٠- حرفة كانت من مصدراً من مصادر الدخل في الكويت قبل اكتشاف النفط تسمى

(الزراعة - صيد الأسماك - الرعي)

١١- الذي يقوم بتصميم السفينة يسمى

(القلاب - الأستاذ - النهام)

١٢- السفينة التي اتخذت صورتها لتكون شعاراً للدولة الكويت والعملة الوطنية تسمى

(الجالبوت - البوم - البقارة)

١٣- تعنى دخول البحر تسمى

(القفال - الهيرات - الدشة)

١٤- حرفة ضمت أغلب رجال الكويت وشبابها تسمى

(الغوص على اللؤلؤ - التجارة - الزراعة)

١٥- ظهر اللؤلؤ الصناعي في الكويت عام

(١٩٢٦م - ١٩٢٧م - ١٩٢٨م)

١٦- حرفة يدوية يقوم العاملون بها بصناعة المسامير اللازمة لصناعة السفن تسمى

(النجارة - الحدادة - الصفارة)

١٧- يقوم بخياطة الملابس كالبنوت يسمى

(النداف - الحياكة - التناك)

١٨- إحدى الحرف التي كانت تزاولها المرأة في البادية قديماً تسمى

(الصفارة - القفاص - حياكة الصوف)

١٩- توجد القلعة الهلنستية في جزيرة تسمى

(فيلكا - بوبيان - قاروة)



٢٠ - تأسست الكويت في الجزء الشمالي الغربي من الخليج العربي عام

(١٦١٤م - ١٦١٣م - ١٦١٢م)

٢١- العتوب ترجع في أصلها إلى عدة قبائل أبرزها قبيلة

(عنزة - شمر - آل جلاهمة)

٢٢- حاكم الكويت الأول هو الشيخ

(جابر الأول بن عبدالله الصباح - محمد بن صباح - صباح الأول بن جابر)

٢٤- تولى الشيخ عبدالله الأول بن صباح بن جابر الحكم عام

(١٧٥٢م - ١٧٦٣م - ١٨١٤م)

٢٥- ساعد العثمانيون في حملتهم على الإحساء بقيادة مدحت باشا هو الشيخ

(عبدالله بن صباح الثاني - صباح الثاني بن جابر - جابر الأول بن صباح)

٢٦- تولى الشيخ محمد بن صباح الحكم عام

(١٨٩٠م - ١٨٩١م - ١٨٩٢م)

٢٧- من الزيارات التي حدثت في عهده زيارة المعتمد البريطاني لويس بيلي هو

الشيخ

(عبدالله الأول بن صباح بن جابر - صباح الثاني بن جابر)

(جابر الأول بن عبدالله بن صباح)

٢٨- وقعت معركة ذات السلاسل عام ١٢ هجرية وكانت بين

(المسلمين والبيزنطيين - المسلمين والفرس - المسلمين والروم)

٢٩- عقدت بريطانيا اتفاقية الحماية البريطانية على الكويت عام

(١٨٩٩م - ١٨٩٨م - ١٨٩٧م)

٣٠- العام الذي اتجهت فيه حملة مدحت باشا للسيطرة على إقليم الإحساء

(١٨٧٠م - ١٨٧١م - ١٨٧٢م)

٣١- أول دولة استعمارية في منطقة الخليج العربي تسمى

(هولندا - بريطانيا - البرتغال)



فرق من حيث المفهوم بين :

(القلاف)	(الأسناذ)
هو الذى يقوم بعملية أعداد المواد اللازمة لصناعة السفينة	هو الذى يقوم بتصميم السفينة
(القفال)	(الدشة)
انتهاء موسم الغوص	تعنى دخول البحر
(السموم)	(الكوس)
رياح جافة جداً تهب فى الظهيرة	رياح تتميز بأنها رطبة دافئة تهب من الجنوب الشرقى وتتأثر بالمنخفض السودانى
(الهيرات)	(السرايات)
أماكن تكثر فيها منابت المحار المحتوى على اللؤلؤ	رياح تهب فى أواخر الربيع وأوائل الصيف فتثير الغبار

فرق من حيث المفهوم بين :

(المرازيم)	(الصخين)
تصنع من ألواح الخشب أو الصفيح لتصريف مياه الأمطار	أداة تستخدم للحفر والجدوم والهييب والمنقاش والسكاكين والسلاسل
(الرك)	(المنز)
صندوق له فتحة من الأعلى لوضع بعض المأكولات به	السريير الذى ينام عليه الطفل
(المزاود)	(العدول)
عبارة عن أكياس متوسطة لحفظ الطعام والملابس	عبارة عن أكياس كبيرة لحفظ بعض أنواع الطعام توضع على ظهر الدابة



قارن بين أهم الحرف اليدوية في الكويت قديماً من حيث التعريف وأهم الأعمال :

أهم الأعمال	التعريف	الحرفة
الأبواب - النوافذ - حواجز الباسجيل- الشداخة - السحارة - كرسي البرمة - المرازيم	حرفة يدوية لعب العاملون بها دوراً كبيراً لتوفير مواد البناء والمستلزمات المنزلية	النجارة
صناعة الصخين	يقوم العاملون بالحدادة بصناعة المسامير اللازمة لصناعة السفن وأدوات البناء	الحدادة
تلميع الأواني المنزلية وتنظيفها وطلانها من الداخل	صنع وتلميع القدور المستخدمة في الطبخ	الصفارة
صنع المحقان والدوة وعلب الجاز والسطول والطشوت	يقوم العاملون بهذه الحرفة باستخدام الصفائح المعدنية	التناك
الأقفاص - المنز - الرك - أسرة للكبار	استخدام جريد النخل حيث يشبك بعضه ببعض ذلك بثقبه وإدخال أطرافه في الثقوب	القفاص
البشوت	يقوم الحياك بخياطة الملابس	الحياك
حياكة العدول - المزود - المفروشات - السجاد - العباءات النسائية - البشوت الرجالية	إحدى الحرف السائدة التي تزاولها المرأة في البادية	غزل السدو



فرق بين المميزات المناخية لدولة الكويت في الفصول الأربعة:

الخریف	الربیع	الشتاء	الصیف
ترتفع فيه نسبة الرطوبة وتقل فيه درجة الحرارة نسبياً عن الصيف	قصير معتدل	دافئ قصير ممطر أحياناً وتصل درجة الحرارة إلى ١٨ درجة مئوية وقد تنخفض للصفر	طويل حار جاف وتهب رياح مثيرة للغبار وترتفع نسبة الرطوبة وتصل درجة الحرارة إلى ٥٠ درجة

قارن بين أنواع الرياح في دولة الكويت حسب الجدول :

الرياح	المميزات	آثارها المناخية
الشمالية الغربية	تهب معظم أيام السنة وهي رياح جافة بفعل المرتفع السيبيري	خفض درجة الحرارة في الصيف والجو قارس البرودة في الشتاء
الجنوبية الشرقية (الكوس)	رطبة دافئة تهب من الجنوب وتتأثر بالمنخفض السوداني	ترتفع درجة الحرارة وتزيد نسبة الرطوبة في الصيف وفي الشتاء يعتدل الجو ويسقط المطر
السموم	رياح جافة تهب في الظهرية وتنخفض معها نسبة الرطوبة	في الصيف ترتفع درجة الحرارة إلى مستوى عالي جداً
العواصف الترابية (السرايات)	تهب في أواخر الربيع وأوائل الصيف	تكون مصحوبة بعواصف رعدية يسقط بسببها المطر الشديد

فرق بين مسارات طريق الحرير:

طريق الحرير البحري	طريق الحرير البري
غربي يبدأ من أحد الموانئ الصينية ثم يلتف حول سواحل شبه القارة الهندية ليدخل البحار المحيطة بشبه الجزيرة العربية ويتفرع إلى فرعين	شمالي يبدأ من الصين وينتهي بأوروبا



قارن بين حكام دولة الكويت حسب الجدول :

ترتيب الحاكم	اسم الحاكم	تاريخ توليه الحكم	سماته الشخصية	اهم الأحداث في عصره	تاريخ نهاية حكمه
الحاكم الأول	الشيخ صباح الأول بن جابر	١٧٥٢م	الشجاعة والحكمة	ظهور الكويت ككيان سياسي منظم - توطيد الأمن - نشر العدل - ترسيخ أنشطة الكويت التجارية	١٧٦٣م
الحاكم الثاني	الشيخ عبدالله الأول بن جابر بن صباح	١٧٦٣م	سيرة حسنة - نباهة - حزم - قريب من الحق - محب للعدالة	معركة الرقة - بناء سور الكويت الأول	١٨١٤م
الحاكم الثالث	جابر الأول بن عبدالله الصباح	١٨١٤م	الحكمة - هدوء الطبع - حبه لشعبه - اشتهر بجابر العيش	تطور صناعة السفن - نقل البضائع	١٨٥٩م
الحاكم الرابع	الشيخ صباح الثاني بن جابر	١٨٥٩م	حبه لشعبه - العدل	تقدمت التجارة - ألغى الرسوم على البضائع - زيارة المعتمد البريطاني للكويت	١٨٦٦م
الحاكم الخامس	الشيخ عبدالله بن صباح الثاني	١٨٦٦م	حسن السيرة - دمائه الأخلاق	مساعدته العثمانيين في حملتهم على الإحساء	١٨٩٢م
الحاكم السادس	الشيخ محمد بن صباح	١٨٩٢م	النزاهة والوقار والتواضع	ترحيبه وتسهيله لاستقرار أسرة الأمير عبدالرحمن آل سعود	١٨٩٦م

صنف الكلمات التالية حسب الجدول :

كراع المرو - الباطن - البرقان - اللياح - الروضتين - جال الزور - الدببة

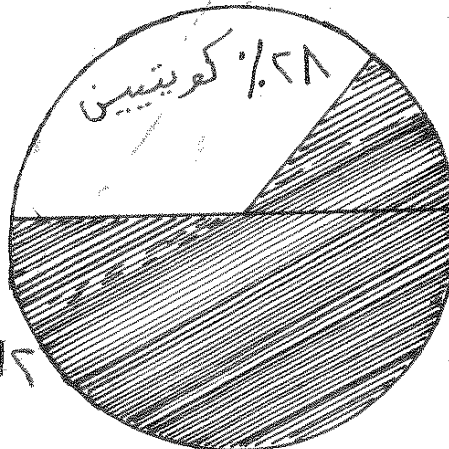
التلال	الأودية	السهول
كراع المرو جال الزور اللياح	الباطن	الدببة الروضتين البرقان

صنف الكلمات التالية حسب الجدول :

الخليج العربي - هرمز - بوبيان - خليج عمان - باب المنذب - قاروة - بحر العرب - جبل طارق - أم المرادم

مضيق	جزيرة	مسطح مائي
هرمز باب المنذب جبل طارق	بوبيان قاروة أم المرادم	الخليج العربي خليج عمان بحر العرب

عام ١٩٩٠م بلغ عدد سكان دولة الكويت ٢١٤١٤٦٥ نسمة منهم ٧٢% من غير الكويتيين (الوافدين) ارسم دائرة بيانية تمثل ذلك .



٧٩% غير كويتييين (الوافدين)



من قائل العبارات التالية :

١- الكويت أرض فقراء نزلها جدنا صباح عام ١٠٢٢ الموافق ١٦١٣م

القائل : الشيخ مبارك الصباح

لمن : للمقيم البريطاني في الخليج العربي

المناسبة : بيان حدود الكويت

٢- سكن الكويت قبل نزول العتوب قليل من البدو وصيادي الأسماك .

القائل : عبدالعزيز الرشيد في كتابه تاريخ الكويت

المناسبة : بعد استقرار العتوب ظهرت الحاجة إلى قيام سلطة تؤول لها القيادة وتتوافرها الشرعية

٣- دخلت ثلاث أسر عربية ذات شأن هي آل صباح وآل جلاهمة وآل خليفة تحدوهم عوامل

المصالحة والطموح في التحالف واستقرت على بقعة من الأرض على الساحل الشمالي

الغربي من الخليج العربي .

القائل : فرنسيس و اردن

المناسبة : اختيار آل صباح للحكم


٤- لو كانت تحت يدي ثروة طائلة لقلت بحاجة الفقراء والمحتاجين منها إلى أن يمويوا

القائل : جابر الأول بن عبدالله بن صباح

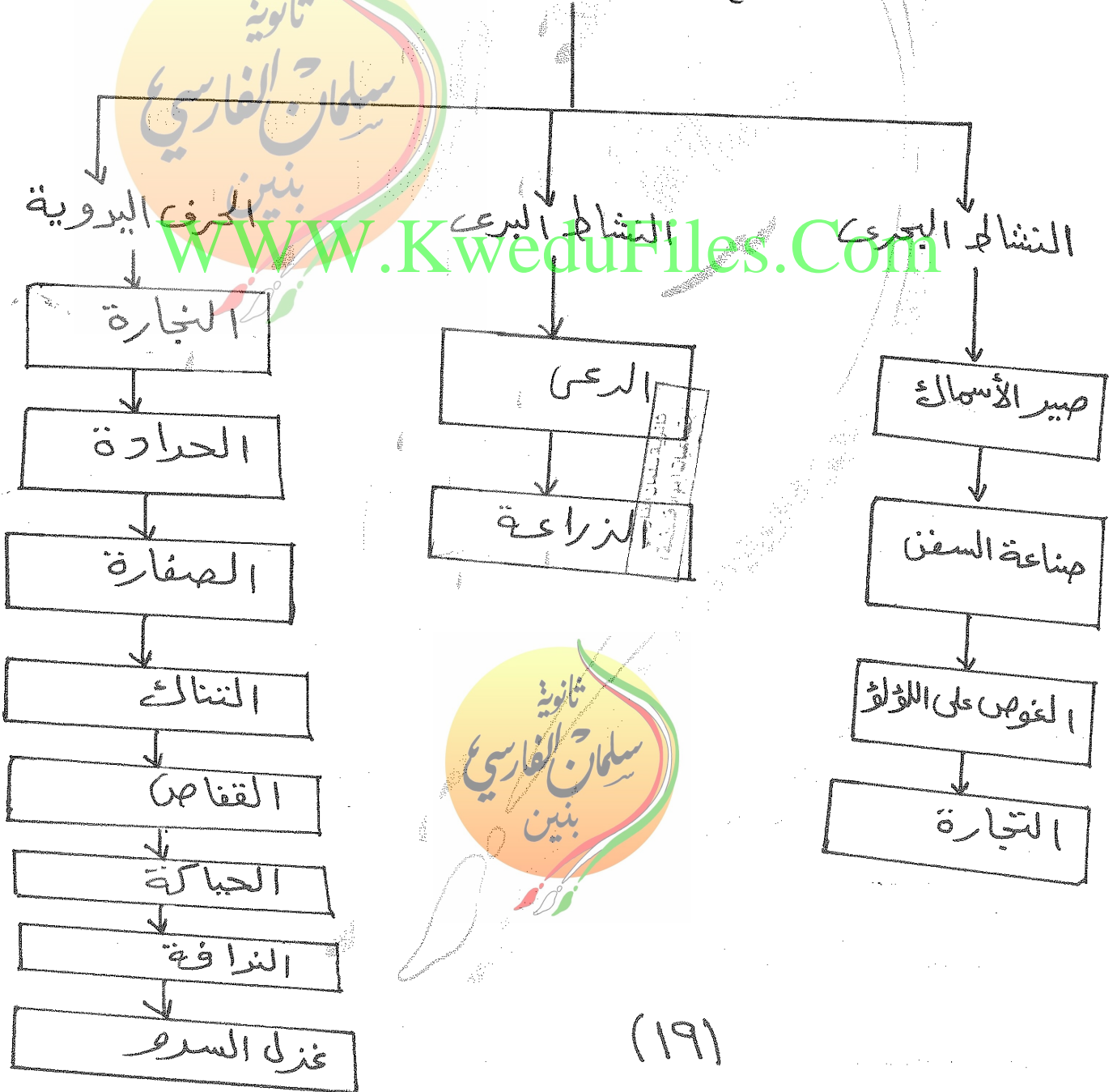
المناسبة : لأنه اشتهر بجابر العيش وكثرة ما يتصدق به على الفقراء والمساكين

أكمل المخططات السهمية التالية :

أنواع الرياح في دولة الكويت



أنواع الأنشطة الاقتصادية في دولة الكويت قديماً





أهم مسارات طريق الحرير

طريق الحرير البحري

طريق الحرير البري

أهم أنواع الأسماك في دولة الكويت

الريبيان

السيح

البياح

النقرور

الصبور

الهامور

الزبيدي

WWW.KweduFiles.Com

أهم الأدوات والمعدات المستخدمة في عملية الصيد

القرقور

التشباك

أنواع السفن الكويتية

البوم

البقارة

البقلة

الشوعى

الحالبوت

البتيل

العاملون في حرفة الغوص

الغزال

السيب

الفواشق

النهام

الغيص

المجرى

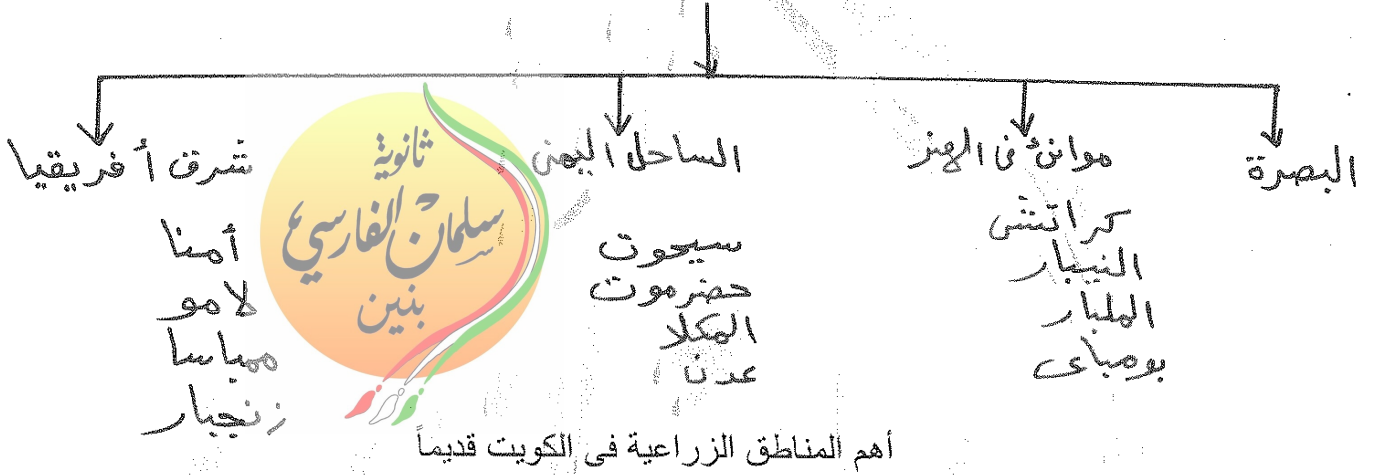
الجعرد

النوخة

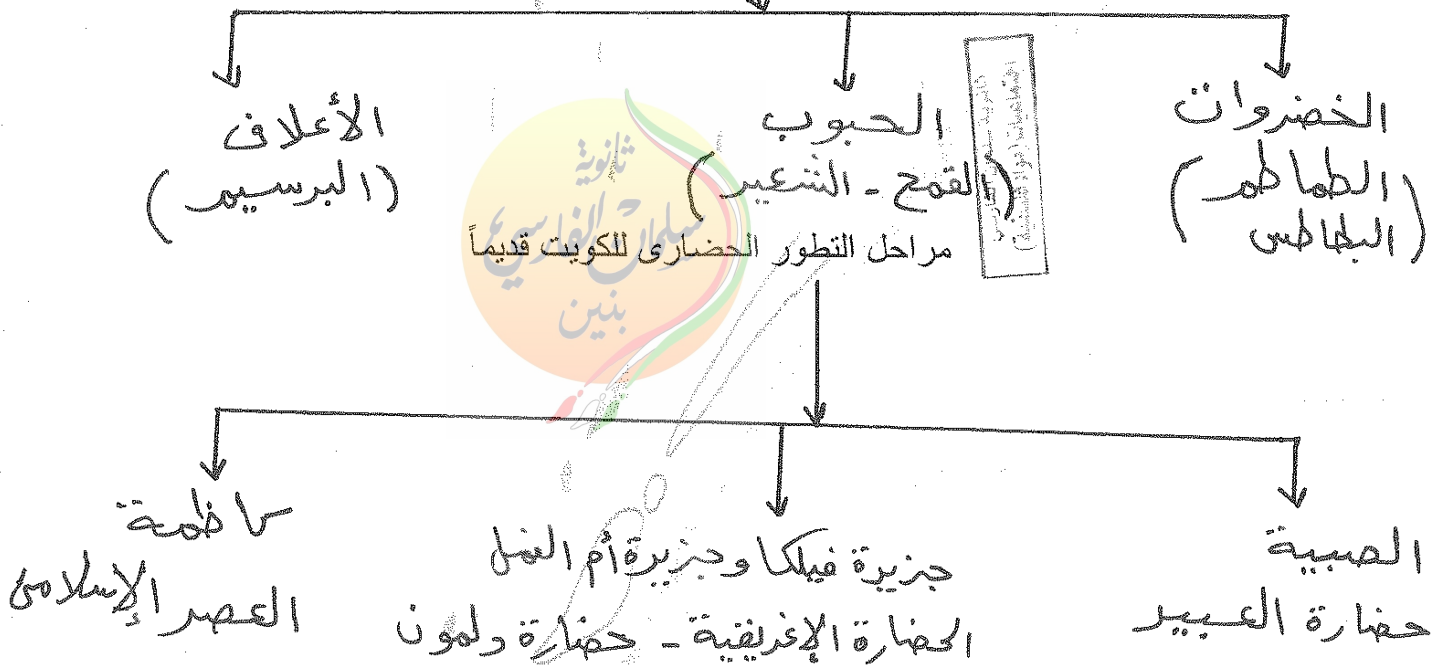
الرضيف

البتاب

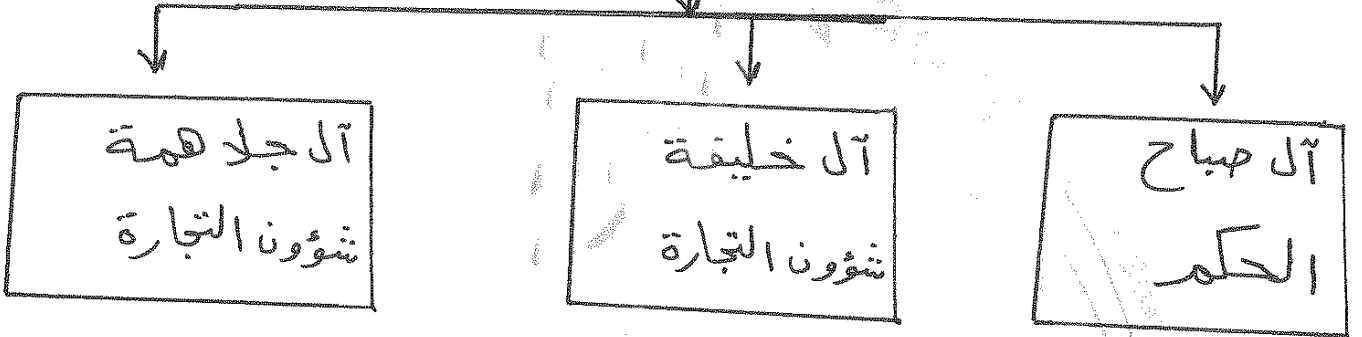
أهم الموانئ التي كان يجول إليها الأسطول الكويتي قديماً



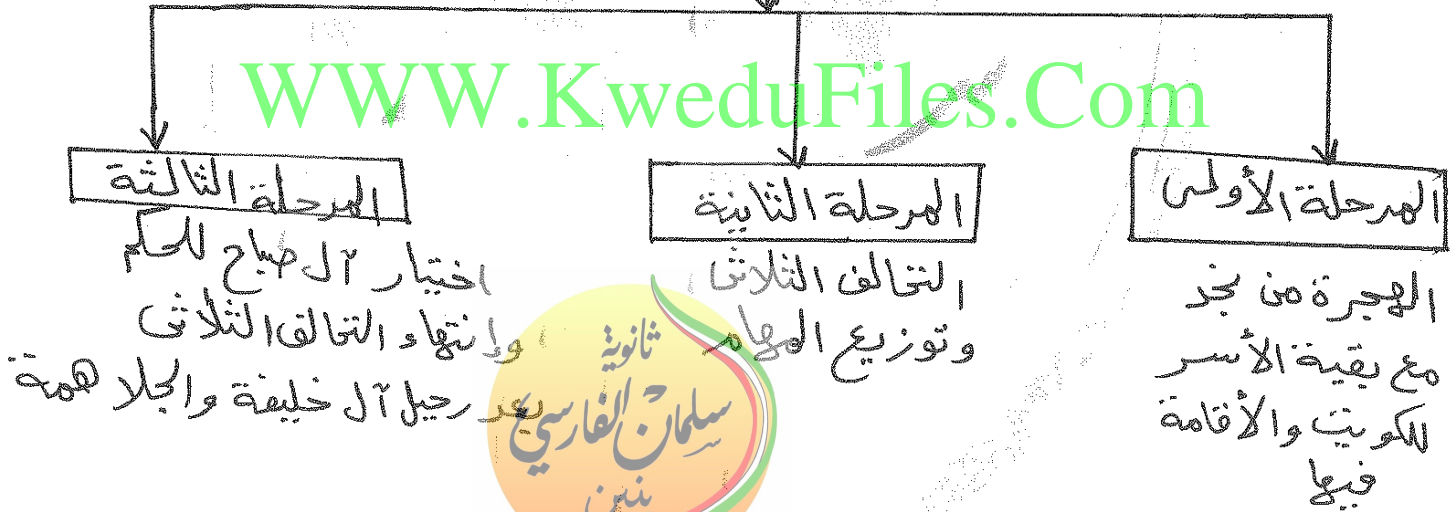
أهم المحاصيل التي كانت تزرع في الكويت قديماً



تقسيم المهام بين الأسر الثلاث الكبيرة



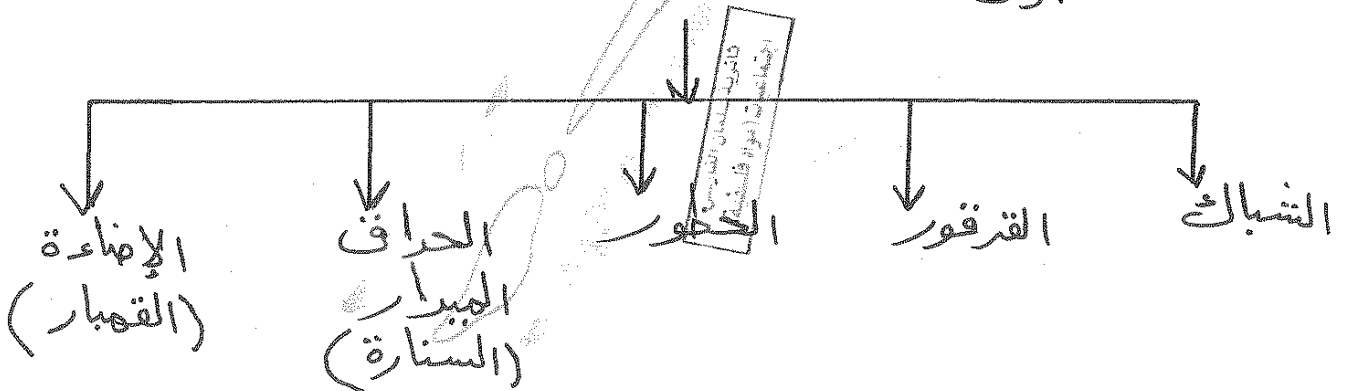
مراحل استقرار الحكم لآل صباح



WWW.KweduFiles.Com



لحق الصبير قديماً في الكويت



علل لما يأتي :

١- قلة الوافدين في دولة الكويت بعد عام ١٩٩٠ م .

تعرض وضع السكان لتغيرات كبيرة

- هجرة كبيرة من اللوافدين من العرب وغيرهم إلى اوطانهم

٢- الخليج العربي أحد أسباب الأهمية الاقتصادية للمنطقة العربية قديماً

- لأنه يقع في موقع متوسط لقارات العالم الثلاثة

- وجود مضيق هرمز

- الخليج العربي أحد أذرع المحيط الهندي

- توفر الموارد الطبيعية

- توفر وسائل نفل التجارة

٣- اتجاه معظم السكان الكويتيين قديماً إلى العمل في النشاط البحري .

بسبب الموقع الجغرافي المتميز لدولة الكويت

٤- انتعاش حرفة صيد الأسماك في الكويت .

- لأن حرفة صيد الأسماك مصدراً من مصادر الدخل في الكويت قبل النفط

- السمك الغذاء الرئيسي لسكان الكويت

- مياه الخليج العربي تعج بالأسماك الجيدة

٥- العوامل التي ساعدت على ازدهار صناعة السفن .

-هبوب الرياح الموسمية

- توفر اليد العاملة

- تمتع الكويت بواجهة بحرية طويلة

- براعة الأستاذ والقلاف

- توفر المواد المستخدمة في صناعة السفن



WWW.KiweduFiles.Com

٦- سبقت حرفة الغوص على اللؤلؤ غيرها من الأنشطة البحرية .

لأن تجارة اللؤلؤ كانت التجارة الرابحة في ذلك الوقت وأن الكويت بلد صحراوي يعانى من شح المياه وعدم خصوبة التربة لذلك اتجه سكان الكويت إلى ممارسة حرفة الغوص على اللؤلؤ .

٧- كساد تجارة الغوص على اللؤلؤ في الكويت .

-بسبب ظهور اللؤلؤ الصناعي عام ١٩٢٨م

- اكتشاف النفط في دولة الكويت

٨- الكويت قديماً من المراكز التجارية المهمة .

-بسبب الموقع الجغرافي

- الكويت حلقة وصل تربط بين الشرق والغرب

- الكويت نقطة ترانزيت

- عمل أهلها في صناعة السفن والغوص على اللؤلؤ

٩- قلة الزراعة في دولة الكويت .

-لأن الكويت بلد صحراوي يعانى من قلة المياه

- ارتفاع درجة الحرارة

- عدم خصوبة التربة

١٠- للكويت دوراً في التواصل الحضارى بين حضارات شمال الخليج وجنوبه .

-بسبب الموقع الجغرافي المتميز على الخليج العربي

- الإنسان القديم رصدت آثاره في الكويت

- جزيرة فيلكا مركزاً من مراكز حضارة دلمون



WWW.KweduFiles.Com

١١- الأهمية الأثرية لمنطقة الصبية

- ظهر بها أقدم الحفريات الجيولوجية
- أقدم القرى السكنية
- آبار المياه القديمة
- العثور على جزار فخارية
- العثور على الرحي الحجرية

١٢- الأهمية الأثرية لجزيرة فيلكا

- مركزاً من مراكز حضارة دلمون
- القلعة الهلنستية وتل الخزنة
- العملات النحاسية
- الكتابات على الصخور مثل حجر إيكاروس
- أختام مستديرة
- كنيستين متجاورتين
- صورة لختم دلموني

١٣- اختيار الشيخ صباح الأول للحكم

- لسماته الشخصية من شجاعة وحكمة
- والده كانت له الزعامة على قومه

١٤- اختار الشيخ صباح الأول يعد البداية الحقيقية لظهور الكويت ككيان سياسي منظم

- حيث بدأ بالعمل على توطيد الأمن ونشر العدل
- تنظيم أمور السكان
- ترسيخ أنشطة الكريت التجارية

١٥- تتميز الرياح الشمالية الغربية بالجفاف

بفعل المرتفع السيبيري المتمركز في شمال القارة الآسيوية

١٦- تتميز الرياح الجنوبية الشرقية (الكوس) بأنها رطبة دافئة .

لأنها تتأثر بالمنخفض السوداني وتتسبب في رفع درجة الحرارة وتزيد من نسبة الرطوبة في فصل الصيف .

١٧- الأهمية الحضارية لدولة الكويت .

ان الإنسان القديم رصدت آثاره في كل من واره والقرين وسهل البرقان ورصدت بعض المواقع في نل الصليبيخات ومنطقتي كاظمة والصبية وجزيرة فيلكا .

١٨- للموقع الجغرافي للكويت دوراً في تطور صناعة السفن .

لأن الموقع الجغرافي للكويت جعلها من المراكز التجارية المهمة وحلقة وصل بين الشرق والغرب حيث تعد الكويت نقطة ترانزيت (إعادة تصدير الواردات) – توفر الأيدي العاملة – وتمتع الكويت بواجهة بحرية طويلة - وتوفر المواد الخام اللازمة لصناعة السفن

WWW.KweduFiles.Com

١٩- شكلت قطر محطة الاستقرار الأولى بالنسبة للعتوب .

بسبب القحط الذي أصاب مناطقهم الأصلية وكذلك الصراعات القبلية .

٢٠- الأسباب التي زادت في أهمية النشاط الاقتصادي للكويت قديماً



- ١- الخليج العربي
- ٢- طريق الحرير
- ٣- أنواع الأنشطة الاقتصادية



٢١- النظام البرتغالي من أسوأ النظم الاستعمارية في الخليج العربي .

-تدمير البرتغاليين القاعدة الاقتصادية لمنطقة الخليج العربي ودويلاتها .

- احتلال المدن والقرى بطريقة وحشية .

٢٢- تعرض الوجود البرتغالي في منطقة الخليج العربي للانهايار التدريجي .

-بسبب المنافسة التجارية بينه وبين الهولنديين والبريطانيين .

- جهود اليعاربة في عمان .

- وقوع البرتغال تحت الاحتلال الأسباني .

٢٣- أهمية اليعاربة في منطقة الخليج العربي في أواخر القرن السادس

ساهمت في تصفية الوجود البرتغالي في الخليج وطردهم من المنطقة .

WWW.KweduFiles.Com

٢٤- انهيار النفوذ الهولندي في منطقة الخليج العربي .

-بسبب التنافس البريطاني الهولندي الذي قضى على آمالهم في النهاية وأخرجهم من المنطقة .

٢٥ - اهتمام بريطانيا بمنطقة الخليج العربي .

لأنه طريق حيوى لحماية إمبراطوريتهم في الهند والقشرة الواقية التي تحمى مصالحهم

٢٦- أهمية الكويت بالنسبة لبريطانيا في نهاية القرن الثامن عشر الميلادي .

-بسبب المشاكل التجارية والسياسية بين العثمانيين والوكالة البريطانية .

- أهمية الكويت كمكان آمن .



اكتب فيما درست عن :

١-مدى تأثير حرفة الغوص على أهل الكويت .

تقوية العلاقات بين السكان

- الاحترام المتبادل

- التعاون والتعاقد بالمجتمع

- الالتزام والطاعة

٢- الأسطول الكويتي التجاري

جال الأسطول الكويتي مياه الخليج العربي والمحيط الهندي والبحر الأحمر حيث كان السفر يبدأ بتوجه السفن إلى البصرة ومن ثم إلى الموانئ العديدة في الهند والساحل اليمني وشرق أفريقيا

WWW.KweduFiles.Com

٣- أهم آثار العصر الإسلامي في الكويت .

-معركة ذات السلاسل حدثت في منطقة كاظمة

- العثور على مسكوكات إسلامية

- مبانى ترجع إلى الفترة الإسلامية

- مستوطنات متتالية

٤- علاقة الكويت ببني خالد .

كان هناك صراع بين قبيلة بني خالد والعثمانيين من جهة وصراع بين قبيلة بني خالد والسعوديين ممن جهة كل تلك الصراعات شغلت هذه القوى عن الإمارة الوليدة (الكويت) وجعلتها تنمو وتزدهر في جو أكثر استقراراً وهدوءاً وتمتعت الكويت بالأمن والحماية في ظل بني خالد .



٥- حرص حكام الكويت على اتخاذ قرارات ذات أبعاد اقتصادية ساعدت على النمو

الاقتصادي والتجاري

- قلة الضرائب على البضائع
- تشجيع بناء سفن الغوص
- اجتذاب الوكالات التجارية التابعة للشركات الأوروبية العاملة في الخليج العربي
- لعب التجار الكويتيين دور الوطاء التجاريين

٦- عوامل نمو وازدهار الكويت تحت حكم آل صباح

- موقع الكويت الاستراتيجي
- طبيعة نظام الحكم المعتمد على الحكم والشورى
- وجود علاقات متوازنة مع القوى المجاورة
- التسهيلات التي كانت تمنح لتجار البادية
- النظام الاقتصادي وتوزيع المهام
- الصفات التي تميز بها أهل الكويت من التسامح والانفتاح على الآخرين



www.KweduFiles.Com

٧- أهم بنود فرمان العثماني الذي استصدره مدحت باشا الوالي العثماني الخاص بالكويت

شيخ الكويت مستقل في شؤونه الداخلية.

- منح شيخ الكويت لقب قائم مقام

- أهالي الكويت لا يلتزمون بدفع رسوم أو ضرائب للباب العالي .

- إلزام السفن الكويتية برفع العلم العثماني مع إعفاء السفن الكويتية من دفع أى رسوم .

٨- تناول فرمان الوالي العثماني من حيث الإيجابيات على الكويت .

- أن شيخ الكويت مستقل في شؤونه .

- سمح للكويت بممارسة قضائها الخاص .

- لم يتضمن فرمان وجود قوات عسكرية أو جنود تابعين للدولة العثمانية

- لم يتدخل في فرض الحاكم أو اختياره .

