



وزارة التربية
الإدارة العامة لمنطقة الأحمدية التعليمية
مدرسة هدية الابتدائية بنين



الوحدة الثانية عشر

www.KweduFiles.Com

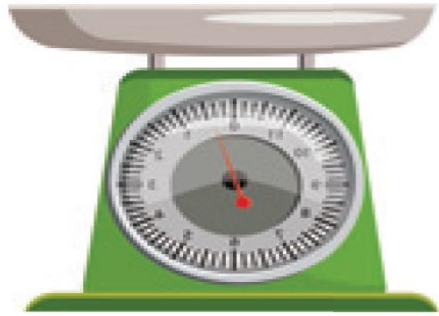
للمصف الرابع



أ. شيمه صقر المطيري

رئيسة القسم

www.الطويل.com



بند (١٢-١)



اختر وحدة القياس المترية الأنسب لقياس الأبعاد الحقيقية



WWW.KweduFiles.Com

سنتيمتر

متر

اختر وحدة القياس المترية الأنسب لقياس الأبعاد الحقيقية



www.KweduFiles.Com

ديسيمتر

متر

اختر وحدة القياس المترية الأنسب لقياس الأبعاد الحقيقية



سنتيمتر

كيلومتر

اختر وحدة القياس المترية الأنسب لقياس الأبعاد الحقيقية



WWW.KweduFiles.Com

كيلومتر

ديسيمتر

أَكْمَل

١٥ _____ = ٢٠ ♦ ♦ ♦

WWW.KweduFiles.Com

١٥ _____ = ٢٦ ♦



أكمل

٧٩ م = _____ م

WWW.KweduFiles.Com

٤ م = _____ م




أكمل

١٠٠٠ = ٢٠٠ ♦ ♦ ♦ ♦

WWW.KweduFiles.Com

١٠٠٠ = ١٠٠



ضع رمز العلاقة المناسبة (> أو < أو =)

٤٠ م ٤٠ م

WWW.KweduFiles.Com

٦ م ٦ م



ضع رمز العلاقة المناسبة (> أو < أو =)

٦ م ٠٠٠ م

WWW.KweduFiles.Com

١٠ سم ١٣ سم



ضع رمز العلاقة المناسبة (> أو < أو =)

٣ سم ٣ سم

WWW.KweduFiles.Com

٥ سم ٥ سم



تبعد مدرسة ناصر عن منزله

٢٠٠٠ م بينما تبعد الحديقة

WWW.KweduFiles.Com

العامة ٢ كم عن منزله .

أيهما أقرب لمنزل ناصر . وضح .

طول نبئة أحمد ١٥ سم و طول

نبئة ماجد ١٥٠ مم .

WWW.KweduFiles.Com

هل لهما الطول نفسه ؟

فسر إجابتك .

قال سعود : طولي ١٥٠ مم .

هل قوله معقول ؟

WWW.KweduFiles.Com

فسر إجابتك .

مع ساري شريط طوله ٢٥ سم،

قال أحتاج ٢ أشرطة أخرى

WWW.KweduFiles.Com

ليصبح طول الشريط متصلاً ١ م

هل توافقه الرأي؟




اختر الإجابة الصحيحة بوضع


القياس المختلف هو :

WWW.KweduFiles.Com


٧٠ نسمة




٧٠ مم



٧ م




٧٠٠ سم






اختر الإجابة الصحيحة بوضع

طول الخيط بعد الفرد:




www.KweduFiles.Com


٧ سم




٥ سم



٨ سم



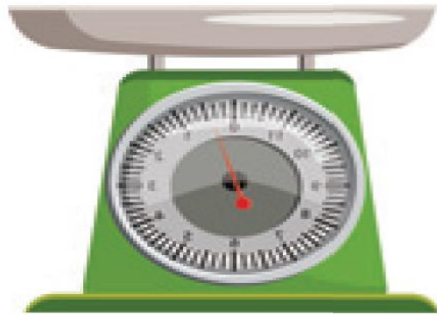
٦ سم



www.KitaboSunnat.com

الوزن

www.KitaboSunnat.com



بند (۱-۲)



أكمل

٨ كجم = _____ جم
WWW.KweduFiles.Com

_____ كجم = ٢٠٠٠ جم



أَكْمَل

١٣ كجم = ١٣٠٠ جم

WWW.KweduFiles.Com

١٢ جم = ١٢٠٠ جم



أكمل

$$170 \text{ كجم} = \text{_____} \text{ ج}$$

WWW.KweduFiles.Com

$$\text{_____} \text{ كجم} = 44 \text{ ج} \cdot \cdot \cdot \cdot$$





وزن مشبك الورق

٢ جرام .

WWW.KweduFiles.Com

فكم عدد مشابك الورق في

١ كيلوجرام منها؟

تساوي



وزن قطعة النقود

ه جرامات .

WWW.KweduFiles.Com

فكم وزن ٤٠٠ قطعة نقود

بالكيلوجرامات؟

تساوي



وزن قطعة النقود

١١ جرامات .

WWW.KweduFiles.Com

ما عدد قطع النقود التي وزنها


٢٢ كيلو جرام ؟

وزن سامي مع حقيته ٦٢ كجم


، وزنه بدون الحقية ٥٠ كجم .

WWW.KweduFiles.Com

كم وزن الحقية ؟



www.الفئةFiles.Com



بند (۱۲-۳)



اكتب وحدة قياس السعة (لتر أو مل)



اكتب وحدة قياس السعة (لتر أو مل)



اكتب وحدة قياس السعة (لتر أو مل)



WWW.KweduFiles.Com

حوظ التقدير الأنسب لكمية السائل



WWW.KweduFiles.Com

١
—
٢



١
—
٤

حوظ التقدير الأنسب لكمية السائل



$$\frac{1}{4}$$

$$\frac{3}{4}$$

لون لتبين الكميات الموضحة



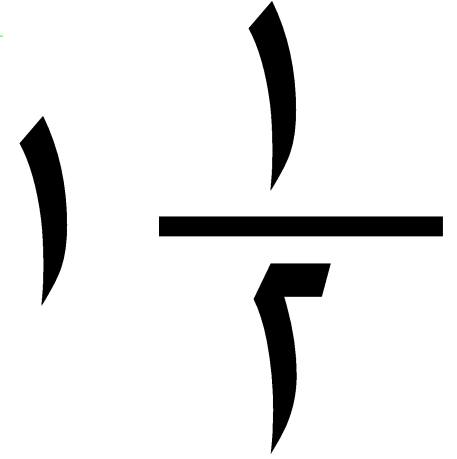
www.KweduFiles.Com

٤ ١ ٤

لون لتبين الكميات الموضحة



WWW.KweduFiles.Com



أَكْمَلْ

١٠٠٠ مل = _____ لتر

WWW.KweduFiles.Com

٢٥٠ مل = _____ لتر



أَكْمَل

٦٠٠٠٠ مل = لتر

WWW.KweduFiles.Com

١ لتر = ١٠٠٠ مل



أكمل

٥٠٠ مل = لتر

WWW.KweduFiles.Com

$\frac{٣}{٤}$ لتر = مل



يستهلك مبارك ١٠ ليمونات لعمل

نصف لتر من عصير الليمون ، كم


ليمونة يحتاج لعمل لتر واحد من

عصير الليمون ؟ وضح إجابتك ؟



استخدام النقود

WWW.KweduFiles.Com



بند (٢-٤)



أَكْمَل

دینار _____ = ۲۰۰۰ فلس

WWW.KweduFiles.Com

۵ دنانیر = _____ فلس



أَكْمَل

دینار _____ = ۱۲۰۰۰ فلس

WWW.KweduFiles.Com

۷۰ دنانیر = _____ فلس



استخدم العملات النقدية الموضحة بالجدول لتكوين دينار واحد بطرق مختلفة



استخدم الجدول و أجب عما يلي



الصنف

١٠٠
فلس

٨٠٠
فلس

٧٥٠
فلس

١٥٠
فلس

السعر

ما الأصناف المختلفة التي يمكنك شراؤها

بدينار واحد؟

استخدم الجدول و أجب عما يلي



الصنف

١٠٠
فلس

٢٥٠
فلس

٧٥٠
فلس

١٥٠
فلس

السعر

كم علبة عصير و فشار يمكنك شراؤهما

بنصف دينار واحد؟

استخدم الجدول و أجب عما يلي



الصنف

١٠٠
فلس

٢٥٠
فلس

٧٥٠
فلس

١٥٠
فلس

السعر

كم تفاحة يمكنك شراؤها

ببيع دينار؟ _____