

تم تحميل هذا الملف من موقع المناهج الكويتية



التعليم الخاص

الملف نموذج إجابة التعليم الخاص

[موقع المناهج](#) ← [المناهج الكويتية](#) ← [الصف السابع](#) ← [علوم](#) ← [الفصل الأول](#)

روابط مواقع التواصل الاجتماعي بحسب الصف السابع



روابط مواد الصف السابع على تلغرام

[الرياضيات](#)

[اللغة الانجليزية](#)

[اللغة العربية](#)

[التربية الاسلامية](#)

المزيد من الملفات بحسب الصف السابع والمادة علوم في الفصل الأول

كتاب الطالب في مادة العلوم لعام 2018	1
تلخيص وحدة المغذيات	2
تلخيص مهم للكورس اول في مادة العلوم	3
اوراق عمل مهمة في مادة العلوم	4
اوراق عمل ممتازة في مادة العلوم لعام	5



امتحان نهاية الفصل الدراسي الأول في مجال العلوم للصف السابع
للعام الدراسي ٢٠٢٣/٢٠٢٤ م

السؤال الأول :

اختر الإجابة الصحيحة علمياً لكل من العبارات التالية وضع علامة (✓) في المربع المقابل لها: (٢×٨)

١- عند ذلك ساق الأيونيت بقطعة صوف تصبح شحنته : ص ١٨

عديم الشحنة موجبة سالبة متعادل

٢- الظاهرة الجوية التي تحدث بين السحب وجسم مرتفع عن سطح الأرض نتيجة اختلاف الشحنت: ص ٢٠

البرق الرعد المطر الصاعقة

٣- عند تسخين الهواء الجوي يزداد حجمه وبالتالي فان ضغطه : ص ٦٩

يقبل يزيد ثابت لا يوجد علاقة

٤- وحدة في النظام المترى تستخدم لقياس الضغط ورمزها Pa : ص ٧٢

الباسكال المتر الهيكو باسكال نيوتن

٥- جهاز يستخدم لقياس معدل النتح : ص ٩٧

الترمومتر البارومتر البوتومتر الفولتمتر

٦- صبغة في النبات ذات لون أخضر مزرق : ص ١٠١

كلوروفيل (أ) كلوروفيل (ب) كاروتين الزانثوفيل

٧- الفيتامين الأساسي لتخثر الدم ووقف النزيف: ص ١٢٦

C K E D

٨- طريقة لحفظ الطعام تعتمد على إضافة كمية كبيرة من السكر اليه لوقف نشاط البكتيريا: ص ١٣٧

التعليق التجفيف التسخير التجميد

السؤال الثاني : أكتب بين القوسين كلمة (صحيحة) للعبارة الصحيحة وكلمة (خطأ) للعبارة

غير الصحيحة علمياً في كل مما يأتي: (٨ × ١)



(...خطأ...)

١- في الشكل المقابل الجزء (س) هو مصدر الطاقة في الدارة الكهربائية . ص ٢٤

(...صحيحة...)

٢- توصل الدارات الكهربائية في المدرسة بطريقة التوصيل على التوازي . ص ٢٥

(...خطأ...)

٣- الأعمدة الكهروكيميائية تحول الطاقة الكهربائية الى طاقة كيميائية . ص ٣٠

(...صحيحة...)

٤- المنديل بالشكل المقابل لا يبتل بالماء لان الهواء يملأ الكوب . ص ٤٣

(...صحيحة...)

٥- يستخدم غاز الأكسجين في إلحام وقطع المعادن . ص ٥٤

(...خطأ...)

٦- تزيد مقاومة الهواء على الأجسام ذات الشكل المغزلي . ص ٥٧

(...خطأ...)

٧- أوعية الخشب نسيج حي ينقل السكر والمغذيات التي يصنعها النبات . ص ٩٥

(...صحيحة...)

٨- عدد الثغور بالطبقة السفلية للبشرة في ورقة النبات أكثر من عددها بالطبقة

العلوية . ص ٩٨

www.almanahj.com/kw

درجة السؤال الثاني

٨

السؤال الثالث: في الجدول التالي اختر العبارة أو الشكل من المجموعة (ب) وأكتب رقمها أمام

ما يناسبها من عبارات المجموعة (أ): (٦ × ١)

الرقم	المجموعة (أ)	المجموعة (ب)
(٢)	- الشحنات المتراكمة على الجسم نتيجة عملية الدلك تسمى . ص ١٦	١- التيار الكهربائي
(١)	- حركة تدفق الإلكترونات في الدارة الكهربائية تسمى . ص ٢٤	٢- الكهرباء الساكنة
		٣- التفريغ الكهربائي
(٦)	- مركب كيميائي يعكر ماء الجير . ص ٤٨	٤- N ₂
(٥)	- عنصر كيميائي يوجد بالغلغلاف الجوي ويساعد على الاشتعال.	٥- O ₂
		٦- CO ₂
(٩)	- مطفأة تستخدم لإطفاء حرائق الأجهزة الكهربائية . ص ٦١	٧- مطفأة الماء
		٨- مطفأة الرغوة
(٧)	- مطفأة تستخدم لإطفاء حرائق الأقمشة والأخشاب والبلاستيك.	٩- مطفأة CO ₂

درجة السؤال الثالث

٨

السؤال الرابع:

(أ) : علل لما يلي تعليلاً علمياً دقيقاً : (٢×٢)

٤

١- نرى البرق قبل سماع الرعد على الرغم من حدوثهما في وقت واحد . ص ٢٠

..... لان سرعة الضوء بالهواء أكبر من سرعة الصوت.....



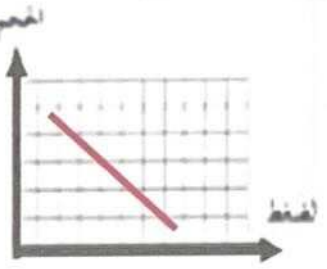
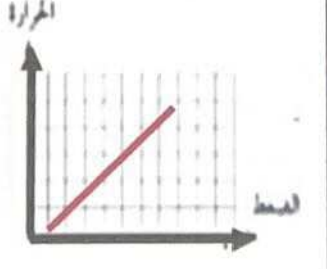
٢- تسقط البيضة في القارورة رقم (٢) بسهولة . ص ٦٧

... لان ضغط الهواء خارج القارورة اكبر من ضغط الهواء داخلها ..



(ب) قارن بين كل مما يأتي وفقاً للجدول التالي بما يناسبه علمياً : (٢×٣)

٦

		وجه المقارنة
كبيرة	صغيرة	قوة جذب المغناطيس الكهربائي (صغيرة - كبيرة) ص ٣٠
العلاقة بين الضغط والحجم عند ثبات درجة الحرارة	العلاقة بين الضغط ودرجة الحرارة عند ثبات الحجم	وجه المقارنة
		رسم العلاقة ص ٦٩
ثايلاكويد	الستروما	وجه المقارنة
ضوئية	لاضوئية	نوع التفاعلات فيها ص ٨٩

تم التحميل من شبكة باكويت التعليمية



Telegram:
ykuwait_net_home



السؤال الخامس:

(أ) : أي مما يلي لا ينتمي للمجموعة مع ذكر السبب : (٢x٢)

١- ثاني أكسيد الكربون - ضوء الشمس - ماء - سكر .

الذي لا ينتمي للمجموعة هو : سكر..... درجة . ص ٨٩

السبب :لأنه من المواد الناتجة عن النبات أو الباقي من المواد الداخلة الى النبات ... درجة.

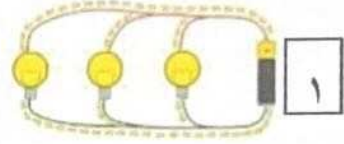
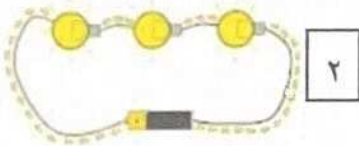
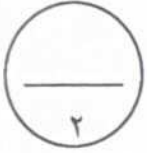
٢- الأملاح المعدنية - الفيتامينات - الكربوهيدرات - البروتينات.

الذي لا ينتمي للمجموعة هو:.....الأملاح المعدنية درجة ص ١١٦

السبب :لأنه من المغذيات اللاعضوية أو الباقي مغذيات عضوية..... درجة.

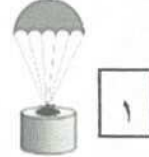
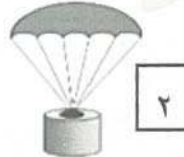
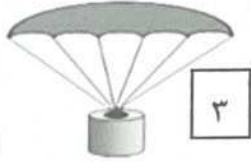
موقع
المنهج الكويتية
almanahj.com/kw

(ب) أدرس الرسومات التالية جيدا ثم أجب عن المطلوب : (٢x٣)



ص ٢٥

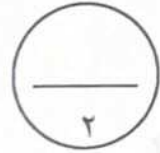
(١) - طريقة التوصيل على التوالي يمثلها الشكل رقم ٢.....
- عند تلف أحد المصابيح لا تتأثر باقي المصابيح في الشكل رقم ١.....



ص ٥٦

(٢) - المظلة التي تلاقي أكبر مقاومة من الهواء رقم ٣.....

- تتناسب مقاومة الهواءطرديا ...مع مساحة السطح.



(٣) - الشكل يمثل الثغر الجزء (س) يشير لتركيب يسمىخلايا حارسة.....

تحتوي علىبلاستيديات خضراء...ص ٩٨

س

انتهت الأسئلة

درجة السؤال الخامس