

هنا جميع روابط وقنوات صفوف الكويت التعليمية المميزة

<https://t.me/joinchat/AAAAAE040LBCM5TO6wNB2w>

إيكم التطبيق الرسمي لموقع المناهج الكويتية على متجرجوجل
بلاي

[https://play.google.com/store/apps/details?
id=com.almanahj.myapplication](https://play.google.com/store/apps/details?id=com.almanahj.myapplication)

للانضمام على التلغرام ماعليكم سوى الضغط على اسم الصف
المطلوب:

[قناة المناهج الكويتية / قروب مدرسون في الكويت](#)

[الصف الأول](#)

[الصف الثاني](#)

[الصف الثالث](#)

[الصف الرابع](#)

[الصف الخامس](#)

[الصف السادس](#)

[الصف السابع](#)

[الصف الثامن](#)

[الصف التاسع](#)

[الصف العاشر](#)

[الصف الحادي عشر العلمي / الصف الحادي عشر الأدبي](#)

[الصف الثاني عشر العلمي / الصف الثاني عشر الأدبي](#)

قياس نهاية الوحدة التعليمية الأولى للصف الثالث الابتدائي
الفصل الدراسي الثاني


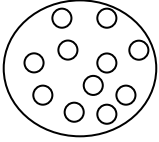
الكفايات الخاصة المتضمنة في الوحدة التعليمية : (١ - ٣) (٢ - ١)

س ١ : ضع بين القوسين علامة (✓) عند العبارة الصحيحة وعلامة (✗) عند العبارة
غير الصحيحة فيما يلي :

- ١ - التربة الرملية هي السائدة في بلادي . ()
٢ - النباتات الصحراوية جذورها قصيرة. ()

WWW.KweduFiles.Com

س ٢ : اختر من العمود (ب) ما يتناسب مع عبارات العمود (أ) وصل بينهما:

المجموعة (أ)	المجموعة (ب)
● نباتات تنمو وتزدهر بعد هطول الأمطار	- نباتات معمرة - نباتات حولية
● حبيبات التربة الرملية تكون	-  - 

س ٣ : أكمل العبارات التالية بما يناسبها علمياً :

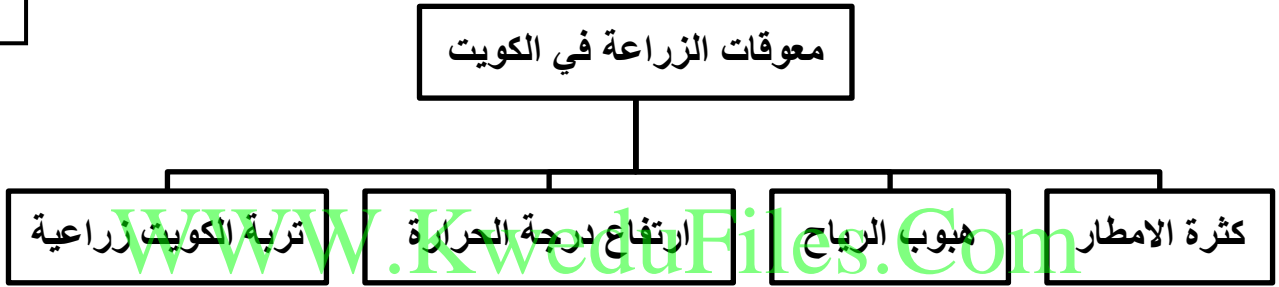
٢

١-نباتات بلادي أوراقها (صغيرة – كبيرة)

٢-النباتات التي تنمو طوال السنة تعرف بالنباتات (الحولية – المعمرة)

س ٤ : امامك مخطط سهمي ظللي الأسباب التي تعيق الزراعة في الكويت :

٢



س ٥ : ألقب اسم شكل سطح الأرض الذي تمثله كل صورة :

٢



وارة -----



الأحمدي -----

قياس نهاية الوحدة التعليمية الثانية للصف الثالث الابتدائي

الفصل الدراسي الثاني

الكفايات الخاصة المتضمنة في الوحدة التعليمية : (١ - ٥) (٢ - ٧) (٢ - ٤)

السؤال الأول : ضع بين القوسين علامة (√) عند العبارة الصحيحة وعلامة (x) عند العبارة

غير الصحيحة فيما يلي :

٢

()

١- البحر هو المصدر الاساسي لمياه الشرب في دولة الكويت .

()

٢- تكثر النباتات في دولة الكويت بسبب الظروف المناخية القاسية .

السؤال الثاني : اختر الاجابة الصحيحة علميا لكل من العبارات التالية بوضع علامة (√) في المربع

المقابل لها :

١- من مشاكل التربة في دولة الكويت :

الأمطار الغزيرة انخفاض درجة الحرارة التربة الزراعية الرياح

٢- من الأدوات التي تساعدنا عند الذهاب في رحلة بحرية:



السؤال الثالث : اكمل كل من العبارات التالية بما يناسبها علميا :

(سترة النجاة - الخيمة - التكثيف - التبخير)

- ١- من الأدوات اللازمة لرحلة التخييم ----- .
- ٢- تحول المادة من الحالة الغازية الى الحالة السائلة عند درجة حرارة معينة هي ----- .

السؤال الرابع : صل الكلمات التالية بما يناسبها :



سلوك صحيح



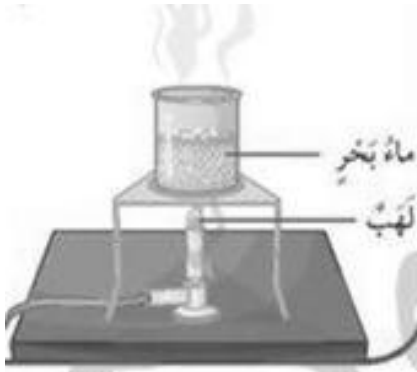
سلوك غير صحيح

السؤال الخامس : اجب عن الاسئلة التالية :

من خلال التجربة العلمية (تجربة اختفاء الماء)

قم بغلي ماء البحر الى أن يختفي :

- ماذا بقي في الكأس؟



- ماذا حدث للماء في الكأس ؟

WWW.KweduFiles.Com

قياس الوحدة التعليمية الثالثة للصف الثالث الابتدائي

الفصل الدراسي الثاني

الكفايات الخاصة المتضمنة في الوحدة التعليمية : (٣ - ٣) (١ - ٣)

السؤال الأول: اختر الإجابة الصحيحة علمياً لكل من العبارات التالية بوضع علامة (✓) في المربع

المقابل لها:

٢

١- مصدر الطاقة الرئيسي في دولة الكويت هو :

النفط الغاز الرياح الماء

٢- منتج نفطي يستخدم للقضاء على الحشرات :

أصباغ مبيدات حشرية بلاستيك الكبريت

السؤال الثاني: ضع بين القوسين علامة (✓) عند العبارة الصحيحة وعلامة (X) عند العبارة

غير الصحيحة فيما يلي :

٢

١- يتميز النفط بأن قوامه خفيف . ()

٢- يجب ارتداء القفازات عند استخدام ألوان الحائط . ()

السؤال الثالث: أكمل كلا من العبارات التالية بما يناسبها علمياً :-

١- النفط يتكون من ----- و الحيوانات بعد موتها . (النباتات – الانسان)

٢- استخدم النفط في المصابيح الزيتية ----- . (حديثا – قديما)

السؤال الرابع: اختر من العمود (ب) ما يتناسب مع عبارات العمود (أ) وصل بينهما:


المجموعة (أ)	المجموعة (ب)
- من مشتقات النفط	- بنزين - ورق
- من ملوثات الهواء الجوي	- الدراجات الهوائية - الدراجات النارية

السؤال

الخامس : ادرس الرسومات التالية ثم أجب عن المطلوب فيما يلي



٣



٢



١

- جهاز يستخدم في البحث عن النفط هو رقم -----

- نوع من المنتجات النفطية هو رقم -----

١٠

نموذج إجابة قياس نهاية الوحدة التعليمية الأولى للصف الثالث الابتدائي
الفصل الدراسي الثاني
الكفايات الخاصة المتضمنة في الوحدة التعليمية : (١ - ٣) (٢ - ١)

٢


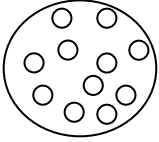
س ١ : ضع بين القوسين علامة (✓) عند العبارة الصحيحة وعلامة (x) عند العبارة غير الصحيحة فيما يلي :

- ١ - التربة الرملية هي السائدة في بلادي . (✓)
٢ - النباتات الصحراوية جذورها قصيرة . (x)

WWW.KweduFiles.Com

٢

س ٢ : اختر من العمود (ب) ما يتناسب مع عبارات العمود (أ) وصل بينهما:

المجموعة (أ)	المجموعة (ب)
● نباتات تنمو وتزدهر بعد هطول الأمطار	- نباتات معمرة - نباتات حولية
● حبيبات التربة الرملية تكون	-  - 

س ٣ : أكمل العبارات التالية بما يناسبها علمياً :

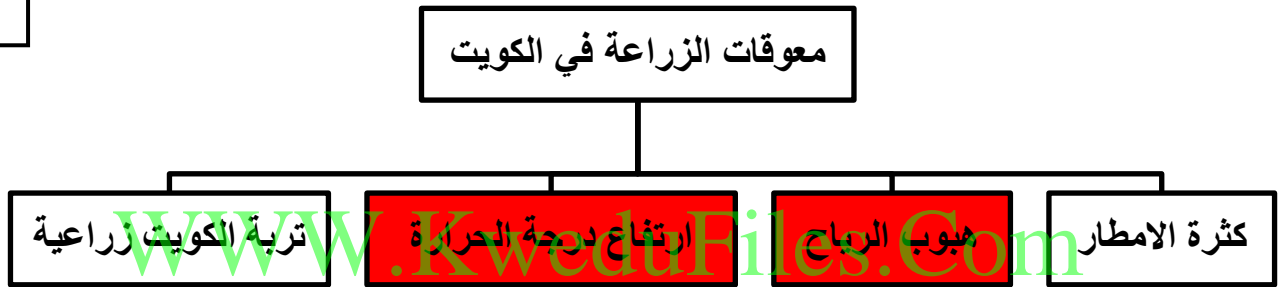
٢

١-نباتات بلادي أوراقها **صغيرة** (صغيرة – كبيرة)

٢-النباتات التي تنمو طوال السنة تعرف بالنباتات **المعمرة** (الحولية – المعمرة)

س ٤ : امامك مخطط سهمي ظللي الأسباب التي تعيق الزراعة في الكويت :

٢



س ٥ : ألقب اسم شكل سطح الأرض الذي تمثله كل صورة :

٢



----- **تلال** ----- وارة



----- **هضبة** ----- الأحمدى

قياس نهاية الوحدة التعليمية الثانية للصف الثالث الابتدائي

الفصل الدراسي الثاني

الكفايات الخاصة المتضمنة في الوحدة التعليمية : (١ - ٥) (٢ - ٧) (٢ - ٤)

السؤال الأول : ضع بين القوسين علامة (√) عند العبارة الصحيحة وعلامة (x) عند العبارة

غير الصحيحة فيما يلي :

١- البحر هو المصدر الاساسي لمياه الشرب في دولة الكويت . (√)

٢- تكثر النباتات في دولة الكويت بسبب الظروف المناخية القاسية . (x)

السؤال الثاني : اختر الاجابة الصحيحة علميا لكل من العبارات التالية بوضع علامة (√) في المربع

المقابل لها :

١- من مشاكل الزراعة في دولة الكويت :

الأمطار الغزيرة انخفاض درجة الحرارة التربة الزراعية الرياح

٢- من الأدوات التي تساعدنا عند الذهاب في رحلة بحرية:



السؤال الثالث : اكمل كل من العبارات التالية بما يناسبها علميا :

(سترة النجاة - الخيمة - التكثيف - التبخير)

- ١- من الأدوات اللازمة لرحلة التخييم ----- **الخيمة** ----- .
- ٢- تحول المادة من الحالة الغازية الى الحالة السائلة عند درجة حرارة معينة هي ----- **التكثيف** ----- .

السؤال الرابع : صل الكلمات التالية بما يناسبها :



سلوك صحيح



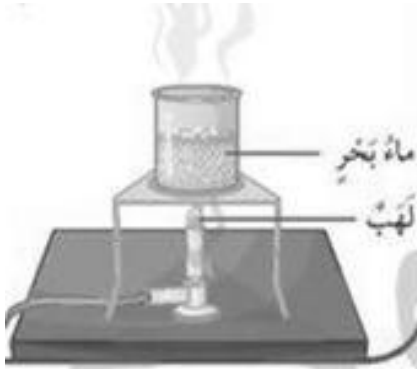
سلوك غير صحيح

WWW.KweduFiles.Com

السؤال الخامس : اجب عن الاسئلة التالية :

من خلال التجربة العلمية (تجربة اختفاء الماء)

قم بغلي ماء البحر الى أن يختفي :



- ماذا بقي في الكأس؟

----- **ملح** -----

- ماذا حدث للماء في الكأس؟

----- **تبخر** -----

نموذج إجابة قياس الوحدة التعليمية الثالثة للصف الثالث الابتدائي

الفصل الدراسي الثاني

الكفايات الخاصة المتضمنة في الوحدة التعليمية : (٣ - ٣) (١ - ٣)

السؤال الأول: اختر الإجابة الصحيحة علمياً لكل من العبارات التالية بوضع علامة (✓) في المربع

المقابل لها:

٢

١- مصدر الطاقة الرئيسي في دولة الكويت هو :

النفط الرياح الغاز الماء

٢- منتج نفطي يستخدم للقضاء على الحشرات :

أصباغ مبيدات حشرية بلاستيك الكبريت

السؤال الثاني: ضع بين القوسين علامة (✓) عند العبارة الصحيحة وعلامة (x) عند العبارة

غير الصحيحة فيما يلي :

٢

١- يتميز النفط بأن قوامه خفيف . (x)

٢- يجب ارتداء القفازات عند استخدام ألوان الحائط . (✓)

السؤال الثالث: أكمل كلا من العبارات التالية بما يناسبها علمياً :-

- ١- النفط يتكون من --- **النباتات** --- و الحيوانات بعد موتها . (النباتات – الانسان)
- ٢- استخدم النفط في المصابيح الزيتية ----- **قديمًا** ----- . (حديثًا – قديمًا)

السؤال الرابع: اختر من العمود (ب) ما يتناسب مع عبارات العمود (أ) وصل بينهما:


المجموعة (أ)	المجموعة (ب)
- من مشتقات النفط	- بنزين
	- ورق
- من ملوثات الهواء الجوي	- الدراجات الهوائية
	- الدراجات النارية

السؤال

الخامس : ادرس الرسومات التالية ثم أجب عن المطلوب فيما يلي



٣



٢



١

- جهاز يستخدم في البحث عن النفط هو رقم ١ -----

- نوع من المنتجات النفطية هو رقم ٣ -----

وزارة التربية

التوجيه الفني العام للعلوم

اللجنة الفنية المشتركة للمرحلة الابتدائية

نموذج إجابة قياس نهاية الوحدة التعليمية الرابعة للصف الثالث الابتدائي

الفصل الدراسي الثاني

الكفايات الخاصة المتضمنة في الوحدة التعليمية : (٣-٤)

س١ : ضع بين القوسين علامة (✓) عند العبارة الصحيحة وعلامة (x) عند العبارة غير الصحيحة فيما يلي :

١- قراءة شروط الأمن والسلامة المصاحبة للمنتج غير مهمة. (x)

٢- يفضل استخدام الأكياس الورقية بدلاً من الأكياس البلاستيكية. (✓)

س٢ : اختر الاجابة الصحيحة مما يلي و وضع علامة (✓) في المربع المقابل لها :

١ - يمكن التقليل من تلوث الهواء الجوي باستخدام :



٢ - تصنع من مادة :



الزجاج

المطاط

البلاستيك

الفلين

س ٣ : أكمل المخطط السهمي التالي :



منتجات النفط



بلاستيك

بنزين

س ٤ : ادرس الشكل الموضح أمامك ثم ارسم البديل الامن لها :-

البديل الآمن

المستخدم



WWW.KweduFiles.Com

س ٥ : لون مسببات تلوث الهواء :

