

تم تحميل هذا الملف من موقع ملفات الكويت التعليمية



[com.kwedufiles.www//:https](https://www.kwedufiles.com)

*للحصول على أوراق عمل لجميع الصفوف وجميع المواد اضغط هنا

* للحصول على أوراق عمل لجميع مواد الصف السادس اضغط هنا

<https://kwedufiles.com/6>

* للحصول على جميع أوراق الصف السادس في مادة اجتماعيات ولجميع الفصول, اضغط هنا

<https://kwedufiles.com/6social>

* للحصول على أوراق عمل لجميع مواد الصف السادس في مادة اجتماعيات الخاصة بـ الفصل الأول اضغط هنا

<https://www.kwedufiles.com/6social1>

* لتحميل كتب جميع المواد في جميع الفصول للـ الصف السادس اضغط هنا

<https://www.kwedufiles.com/grade6>

* لتحميل ملفات المدرس مدرسة سعد بن أبي وقاص المتوسطة بنين اضغط هنا

[bot_kwlinks/me.t//:https](https://t.me/bot_kwlinks)

للحصول على جميع روابط الصفوف على تلغرام وفيسبوك من قنوات وصفحات: اضغط هنا

الروابط التالية هي روابط الصف السادس على مواقع التواصل الاجتماعي

مجموعة الفيسبوك

صفحة الفيسبوك

مجموعة التلغرام

بوت التلغرام

قناة التلغرام

رياضيات على التلغرام

* بعد قراءة فـ1 صـ (24) بالكتاب المدرسي ،، بم تفسر (اذكر السبب) :

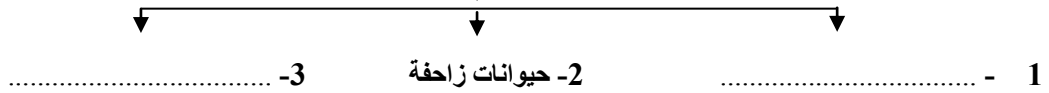
- فقر الحياة النباتية والحيوانية بدول الخليج العربية .

* بعد دراسة فـ2 صـ (24) بالكتاب المدرسي ،، أكمل الجدول التالي :

النبات الحولي	النبات المعمر	
نباتات يرتبط وجودها بموسم سقوط المطر.	التعريف
.....	الصبار - العرفج - الرمث - الثندا	أمثلة

* بعد قراءة الفقرة الأخيرة صـ (24) ك.م ،، أكمل المخطط التالي :

* حيوانات تعيش بدول الخليج العربية



* بعد قراءة فـ1 صـ (24) بالكتاب المدرسي ،، بم تفسر (اذكر السبب) :

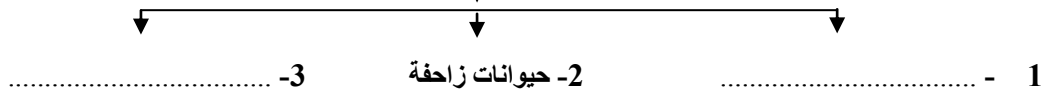
- فقر الحياة النباتية والحيوانية بدول الخليج العربية .

* بعد دراسة فـ2 صـ (24) بالكتاب المدرسي ،، أكمل الجدول التالي :

النبات الحولي	النبات المعمر	
نباتات يرتبط وجودها بموسم سقوط المطر.	التعريف
.....	الصبار - العرفج - الرمث - الثندا	أمثلة

* بعد قراءة الفقرة الأخيرة صـ (24) ك.م ،، أكمل المخطط التالي :

* حيوانات تعيش بدول الخليج العربية



* بعد دراسة صـ (23) بالكتاب المدرسي اجب عما يلي:

س1 : عرف المناخ :

س2 : أكمل الجملة التالية :

- ينتمي المناخ في دول الخليج العربية إلي مناخ الإقليم

س3 : أكمل الجدول التالي :

وجه المقارنة	فصل الصيف	فصل الشتاء
درجة الحرارة	أقل من 4 درجات مئوية
طول الفصل	طويل' يمتد معظم شهور السنة
الصفات المناخية	يمتاز بالدفء

* بعد دراسة صـ (23) بالكتاب المدرسي اجب عما يلي:

س1 : عرف المناخ :

س2 : أكمل الجملة التالية :

- ينتمي المناخ في دول الخليج العربية إلي مناخ الإقليم

س3 : أكمل الجدول التالي :

وجه المقارنة	فصل الصيف	فصل الشتاء
درجة الحرارة	أقل من 4 درجات مئوية
طول الفصل	طويل' يمتد معظم شهور السنة
الصفات المناخية	يمتاز بالدفء

بنك الأسئلة

السؤال الأول : أكمل الجمل التالية :

- القرن يساوي سنة .
- ظهرت المنافسة الاستعمارية الأوروبية علي منطقة الخليج العربي منذ القرن
- عرف الخليج العربي قديماً باسم
- يبدأ موسم الغوص في شهر يونيو وينتهي في شهر
- أعلن عن قيام مجلس التعاون لدول الخليج العربية في مدينة تسمى
- ألغيت معاهدة الحماية البريطانية علي الكويت في عهد الشيخ
- من المناطق الزراعية في دولة الكويت الوفرة و
- عقد الاجتماع التاسع والعشرون لمجلس التعاون الخليجي في عام 2008 م بمدينة اسمها
- ينتمي المناخ في دول الخليج العربية إلي مناخ الإقليم
- وقعت دولة الكويت اتفاقية الحماية مع بريطانيا في عام

السؤال الثاني : اختر الإجابة الصحيحة من بين البدائل الموجودة بين الأقواس :

1. تقع دولة الكويت بالنسبة للخليج العربي في جهة :
(الشمال الشرقي - الشمال الغربي - الجنوب الشرقي - الجنوب الغربي)
2. حصلت دولة الكويت علي استقلالها في عام :
(1951م - 1961م - 1971م - 1981م)
3. توجد منطقة سهل الباطنه في دولة عربية خليجية تسمى :
(عمان - السعودية - الإمارات - قطر)
4. أعلن عن قيام السوق الخليجي المشتركة في عام :

(2004م - 2006م - 2008م - 2010م)

5. يطلق علي مطرب سفينة الغوص اسم :

(المجدمي - الطواش - النوخذه - النهام)

6. عقدت القمة السابعة والعشرون لمجلس التعاون الخليجي في عام 2006م بمدينة تسمي :

(الرياض - الدوحة - مسقط - المنامة)

7. استقلت سلطنة عمان في عام :

(1941م - 1951م - 1961م - 1971م)

8. ظهرت حضارة دلمون في دولة عربية خليجية :

(عمان - السعودية - البحرين - قطر)

9. الحضارة التي اشتهرت بصهر المعادن قديماً تسمي :

(مجان - فيلكا - دلمون - تاروت)

السؤال الثالث : صحح الكلمة الخاطئة التي تحتها خط ، واكتب الاجابة الصحيحة بين القوسين :

- ظهر الإسلام في القرن العاشر الميلادي . ()
- خضعت معظم دول الخليج العربية للإستعمار الفرنسي . ()
- يوجد مقر الأمانة العامة لمجلس التعاون الخليجي في مدينة تسمي أبو ظبي . ()
- تسقط الأمطار في فصل الصيف بسلطنة عمان علي منطقة تسمي تهامه . ()
- تقع شبه الجزيرة العربية بالنسبة لقارة آسيا في الجهة الشمالية الشرقية . ()

• أعلن عن قيام مجلس التعاون لدول الخليج العربية في عام 1971م .

()

- () • من صادرات دول الخليج العربية قديماً إلى الهند وشرق إفريقيا الشاي.
- () • تم توقيع اتفاقية الحماية البريطانية علي الكويت في عهد الشيخ صباح السالم.
- () • تشغل شبه الجزيرة العربية 26 دائرة عرضية .
- () • الدولة العربية الخليجية التي لم تتعرض للإستعمار الأجنبي هي الإمارات.

السؤال الرابع : بم تفسر (اذكر السبب) :

• خروج الهجرات في أزمنة مختلفة إلي منطقة الخليج العربي .

..... * *

• انصراف سكان دول الخليج العربية عن مهنة الغوص عن اللؤلؤ .

..... *

• سفينة البغلة هي أفضل أنواع السفن المستخدمة في رحلة السفر .

..... * *

• تنافس الدول الإستعمارية الأوروبية في السيطرة علي منطقة الخليج العربي .

.....

• توافر النباتات المعمرة طوال العام .

.....

• فقر الحياة النباتية والحيوانية بدول الخليج العربية .

.....

- كانت حياة الناس في البيئة الصحراوية لدول الخليج العربية قاسية وخشنة .

*

*

السؤال الخامس : قارن بين كل (دوائر العرض - وخطوط الطول) حسب الجدول التالي :

خطوط الطول	دوائر العرض	وجه المقارنة
		التعريف
		العدد

السؤال السادس : اختر من المجموعة (أ) ما يناسبها من المجموعة (ب) بكتابة الرقم المناسب :

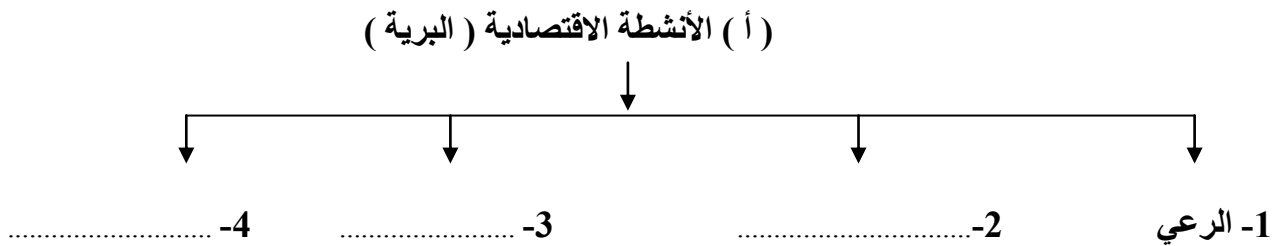
الرقم	المجموعة (أ)	الرقم المناسب	المجموعة (ب)
1	العواص	يسحب الغاصة من أعماق البحر
2	النوخذه	ربان السفينة
3	السيب	تاجر اللؤلؤ
4	المجدمي	يغوص في الأعماق بحثاً عن اللؤلؤ

رئيس البحرية

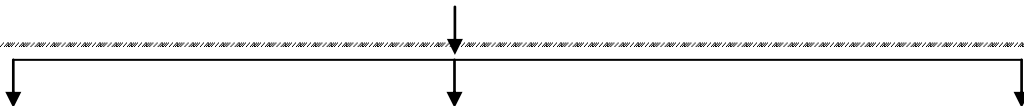
.....

الرقم	المجموعة (أ)	الرقم المناسب	المجموعة (ب)
1	هاجر المعاضيد إلي	رأس الخيمة
2	هاجر آل الصباح إلي	عمان
3	هاجر القواسم إلي	أبو ظبي
4	هاجر بني ياس إلي	قطر
		الكويت

السؤال السابع : أكمل المخططات السهمية التالية :

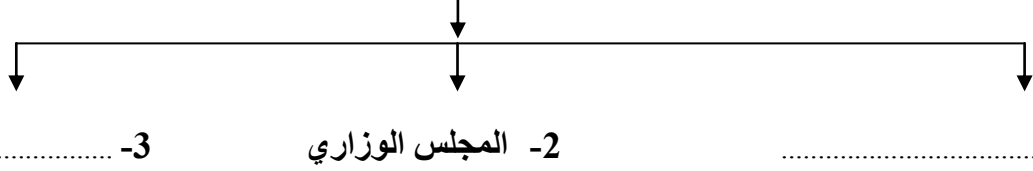


(ب) مظاهر الحضارة الاسلامية



.....-3 -2 -1

(ج) الهيكل التنظيمي لمجلس التعاون الخليجي



السؤال الثامن: وزع الظواهر التضاريسية التالية على الجدول الذي يليها:

(جال الزور - نجد - عسير)

.....
هضاب	تلال	جبال

السؤال التاسع : فرق بين كل من:

(1)

الموقع النسبي	الموقع الفلكي
.....
.....

(2)

الاستعمار	الاستقلال
.....
.....

(3)

المسطحات المائية	المياه الجوفية
.....
.....

(4)

الدشة	القفال
.....
.....

السؤال العاشر: : اكتب اسم المصطلحات التالية بين القوسين :

- منطقة تقع في الصحراء ' فيها مياه عذبة صالحة للزراعة . ()
- أرض مرتفعة سطحها مستوي وتمتد علي مساحة كبيرة . ()
- أشكال سطح الأرض من المرتفعات والمنخفضات كالجبال ' الهضاب و السهول . ()
- نباتات يرتبط وجودها بموسم سقوط المطر . ()
- الاسم الذي يطلق علي صانع السفينة . ()

السؤال الحادي عشر: : اكتب نقطتين فيما يلي:

1. الصفات (الروابط) المشتركة بين دول الخليج العربية

أ- ب -

2. وسائل صيد الأسماك قديماً .

3. أهداف مجلس التعاون لدول الخليج العربية

أ-

ب -

أ-

ب -

4. أنواع الرياح التي تهب على دول الخليج العربية .

أ-

ب -

5. العوامل التي أثرت في نشأة حضارات منطقة الخليج العربية قديماً .

أ-

ب -

6. إنجازات مجلس التعاون الخليجي .

أ-

ب -

السؤال الثاني عشر : ما المقصود بكل من :

(1) الجبال:

.....

(2) مجلس التعاون لدول الخليج العربية :

.....

(2) الحضارة :

.....

(3) البضائع المستوردة:

.....

(4) السهول :

.....

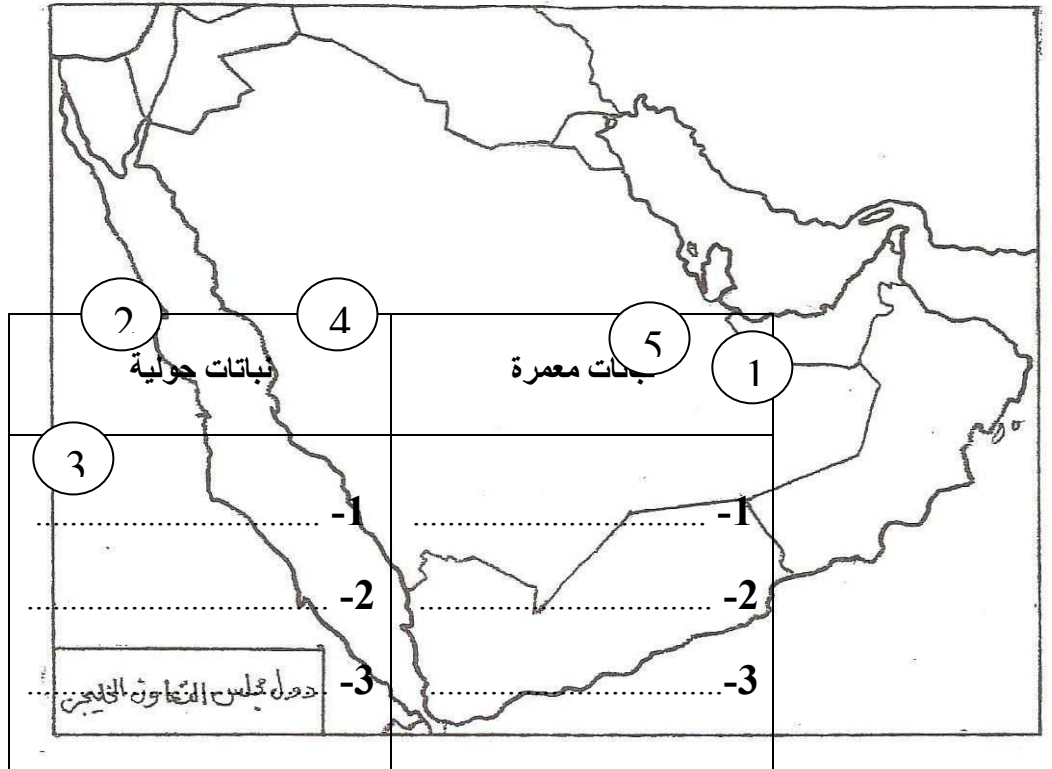
(5) المناخ :

.....

السؤال الثالث عشر : صنف النباتات التالية حسب الجدول الذي يليها :

(الخبيزة - العرفج - الصبار - الحويذان - العنصيل - الرمث)

السؤال الرابع عشر : لاحظ خريطة دول مجلس التعاون الخليجي الصماء ،، ثم نفذ عليها المطلوب منك:



• الرقم (1) علي الخريطة يشير إلى جبل يسمى

• الرقم (2) علي الخريطة يشير إلى سهل يسمى

- الرقم (3) علي الخريطة يشير إلي مسطح مائي يسمى
- الرقم (4) علي الخريطة يشير إلي هضبة تسمى
- الرقم (5) علي الخريطة يشير إلي دولة تسمى



- حدد موقع الخليج العربي وضع عليه الرمز



- حدد موقع دولة الكويت وضع عليها الرمز



- حدد موقع بحر العرب وضع عليه الرمز



- حدد موقع جبال عسير وضع عليها الرمز