

تم تحميل هذا الملف من موقع المناهج الكويتية



الملف نموذج إجابة التعليم الخاص

[موقع المناهج](#) ← [المناهج الكويتية](#) ← [الصف السابع](#) ← [اجتماعيات](#) ← [الفصل الثاني](#)

روابط مواقع التواصل الاجتماعي بحسب الصف السابع



روابط مواد الصف السابع على تلغرام

[الرياضيات](#)

[اللغة الانجليزية](#)

[اللغة العربية](#)

[التربية الاسلامية](#)

المزيد من الملفات بحسب الصف السابع والمادة اجتماعيات في الفصل الثاني

مذكرة موضوعية محلولة	1
حل الكتاب	2
حل الوحدة الرابعة في مادة الاجتماعيات	3
بنك اسئلة التربة سابع	4
مراجعات الصف السابع	5



وزارة التربية
الإدارة العامة للتعليم الخاص
التوجيه الفني للاجتماعيات

امتحان نهاية الفترة الدراسية الثانية
لمادة الاجتماعيات مقرر (الكويت والوطن العربي)
للمصف السابع المتوسط

العام الدراسي ٢٠٢١ - ٢٠٢٢ م
الزمن : ساعة ونصف
عدد الأوراق: ٥

أجب عن جميع الأسئلة التالية :

السؤال الأول : يتكون من (أ - ب - ج) :

(أ) أكمل العبارات التالية بما يناسبها: (١ × ٥ = ٥ درجات)

- ١- الصناعات التي تقتصر على استخراج مصادر الطاقة والخامات من باطن الأرض تسمى الاستخراجية.
ص ١٤١
- ٢- أول مؤسسة للتنمية في الوطن العربي تسمى الصندوق الكويتي للتنمية . ص ١٨٤
- ٣- أقل الدول العربية من حيث عدد السكان تسمى جزر القمر. ص ١٠٠
- ٤- تبلغ نسبة إنتاج النفط الخام في الوطن العربي من نسبة إنتاج العالم حوالي ٣٠% . ص ١٢٧
- ٥- الدولة التي عقد بها أكبر مؤتمر للأمم المتحدة عام ١٩٩٢ م تسمى البرازيل . ص ١٦٧

(ب) اكتب المفاهيم أو المصطلحات الدالة على العبارات التالية: (١ × ٥ = ٥ درجات)

م	المفهوم	العبرة
١	الغلات النقدية	الغلات التي تزرع بهدف بغرض التجارة والحصول على نقد . ص ١١٣
٢	الموارد البشرية	ترتبط بالسكان من حيث أعدادهم وتوزيعهم ومناسبة أعدادهم لمساحة الأرض التي يستغلونها . ص ١٠٩
٣	الكثافة السكانية	نسبة عدد السكان الكلي في دولة ما إلى المساحة الكلية لهذه الدولة . ص ١٠٢
٤	الغاز الطبيعي	غاز مصاحب للنفط الخام ، أو يوجد منفرداً ، يتم إرساله لاستخدامات عديدة . ص ١٢٥
٥	التبادل التجاري	عملية التصدير والاستيراد بين الدول . ص ١٥١

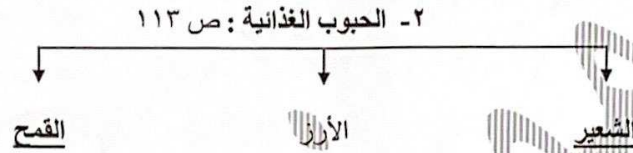
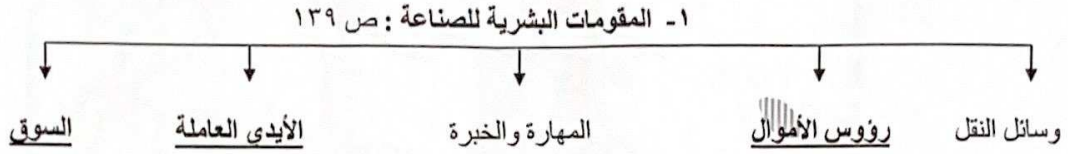
(ج) صنف مقومات الصناعة التالية حسب الجدول التالي :- (١ × ٥ = ٥ درجات)

(البترول - نباتية - حيوانية - معدنية - الغاز الطبيعي) ص ١٣٩

المواد الخام	الطاقة
نباتية - حيوانية - معدنية	البترول - الغاز الطبيعي

السؤال الثاني :- يتكون من (أ - ب - ج):

(أ) اكمل المخططات السهمية التالية : (١ × ٥ = ٥ درجات)



موقع
المناهج الكويتية
almanahj.com/kw

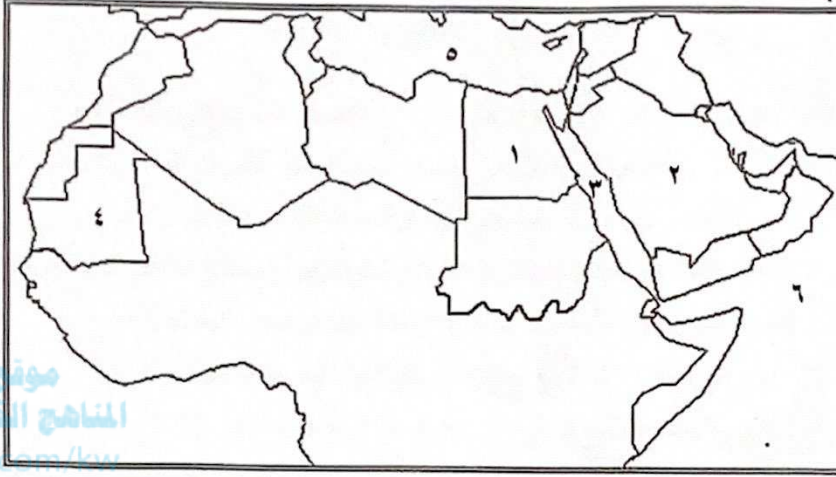
(ب) ضع خطأ تحت الخيار الصحيح من بين الخيارات التي تلي كل عبارة :- (١ × ٥ = ٥ درجات)

- ١- الدولة العربية التي تحتل المرتبة الأولى عربياً في إنتاج معدن الرصاص : ص ١٣٢
- المغرب - موريتانيا - السعودية - مصر
- ٢- نسبة الموارد المائية في العالم العربي والتي تأتي من خارج حدوده : ص ١٦٤
- ٥٠% - ٦٠% - ٧٠% - ٨٠%
- ٣- العام الذي استضافة فيه دولة الكويت أكبر وأهم مؤتمر قمة عربية : ص ١٨٦
- ٢٠٠٦ م - ٢٠٠٧ م - ٢٠٠٨ م - ٢٠٠٩ م
- ٤- أكثر أنواع التلوث انتشاراً : ص ١٦٦
- البقايا الصلبة - الكيميائي - تراكم النفايات - المواد البلاستيكية
- ٥- عدد الدول العربية : ص ٩٩
- ٢٠ - ٢١ - ٢٢ - ٢٣

تابع / السؤال الثاني : -

(ج) لاحظ خريطة الوطن العربي التي أمامك ثم استخراج منها الرقم الدال على العبارات التالية :

(١ × ٥ = ٥ درجات)



- الدولة العربية الأولى في إنتاج النفط الخام يمثلها على الخريطة الرقم (٢) ص ١٢٩
- الدولة العربية الأولى في إنتاج معدن الحديد يمثلها على الخريطة الرقم (٤) ص ١٣٢
- أكثر الدول العربية من حيث السكان يمثلها على الخريطة الرقم (١) ص ١٠٠
- البحر الأحمر يمثل على الخريطة الرقم (٣) ص ١٣٣
- بحر العرب يمثل على الخريطة الرقم (٦) ص ١٣٣

السؤال الثالث : يتكون من (أ - ب - ج) :

(أ) نفذ المطلوب من بين الأقواس :

١ - حاجات الإنسان التي تؤمنها الصناعات التحويلية . (اذكرها) ص ١٤٢ (درجتان ويكتفى بنقطتين)
- المسكن . - الغذاء . - اللبس . - الأدوات . - الآلات .

٢ - طرق المحافظة على ثروة المياه . (عددها) ص ١٦٥ (ثلاث درجات ويكتفى بثلاث نقاط)
- ترشيد استخدام المياه والحد من التبذير في المنازل . - تطوير استعمال مياه الصرف الصحي المعالجة في الزراعة .
- الحد من هدر المياه في عمليات الري وذلك باستخدام الوسائل الحديثة كالرش بالتنقيط والمحوري .
- تنظيم عملية الاستفادة من المياه الجوفية ومنع تسرب الأملاح الملوثة إليها واستثمارها على الوجه الأمثل .
- إقامة البحيرات والسدود لتجميع مياه الأمطار والسيول للاستفادة منها في فصل الجفاف .
- توقيع اتفاقيات مع الدول المشاركة ودول المنبع لتحقيق مصالح الدول العربية المعنية .

(ب) عرف المفاهيم والمصطلحات التالية : (١ × ٥ = ٥ درجات)

م	المفهوم	العبارة
١	التوازن البيئي	بقاء عناصر الطبيعية في حالة من التوازن لتؤدي وظائفها على اكمل وجه . ص ١٧٠
٢	التصحّر	زحف رمال الصحراء على المناطق الجافة وشبه الجافة . ص ١٦٢
٣	الموارد الطبيعية	الثروات التي منحها الله لإقليم من دون أن يكون للإنسان أي دور في وجودها . ص ١٠٩
٤	التلوث	الضرر الذي يلحق بالتربة والهواء والماء، ويصيب التلوث عناصر البيئة من عدة مصادر للملوثات . ص ١٦٦
٥	التنمية	التطور والتطوير ، وهي عملية تتطلب التخطيط والمشاركة من الجميع . ص ١٧٢

(ج) علل لما يلي :

- ١- تعد الصناعات الحرفية الصناعات الأولى في العالم . ص ١٤٣ (٣ درجات)
- تستخدم مواد أولية محلية .
- تعتمد على المجهود البشري .
- تختص بعض العائلات باحتراف بعض منها حيث يتوارث فيها الأبناء الخبرة عن آباءهم .
- ٢- تختلف أنواع المنتوجات الزراعية من دولة عربية إلى أخرى . ص ١١٠ (درجتان ويكتفى بنقطتين)
- اختلاف المناخ . - التربة . - مدى توافر المياه في هذه الدول .

السؤال الرابع: يتكون من (أ - ب - ج):

(أ) برهن على صحة العبارات التالية :

١- تحتل الأغنام مكاناً مهماً ضمن الثروة الرعوية. ص ١١٨ (درجتان ويكتفى بنقطتين)
- الأكثر انتشاراً في المراعي العربية.

- أكثر الحيوانات المستأنسة والملائمة لمراعي الوطن العربي ، وذلك لتحملها الجفاف والانتقال .

- لأهمية منتجاتها بالنسبة للسكان . - لأنها مصدر أساسي من مصادر الثروة القومية .

٢- العقبات التي تواجه الإنتاج الزراعي في الوطن العربي . ص ١٦١ (درجتان ويكتفى بنقطتين)

- عدم استغلال الأراضي القابلة للزراعة لندرة مياه الري أو تذبذب الأمطار أو قلة الأيدي العاملة .

- اتباع طرق الزراعة التقليدية في معظم أجزاء الوطن العربي .

- زحف الرمال (التصحر) وانجراف التربة . - الرعي الجائر .

- تلوث التربة نتيجة للإسراف في استخدام المبيدات الحشرية وارتفاع نسبة الملوحة بالتربة .

(ب) قارن بين كل من :

وجه المقارنة	منظمة الدول المصدرة للنفط	منظمة الأقطار العربية المصدرة للنفط
سنة التأسيس	أوبك ص ١٣٤	أوابك ص ١٣٥
المقر	١٩٦٠ م (درجة)	١٩٦٨ م (درجة)
الدول المؤسسة (يكتفى بدولة واحدة)	- الكويت - السعودية - العراق	- الكويت - السعودية - ليبيا (درجة)
	إيران - فنزويلا (درجة)	

(ج) اقرأ الفقرة التالية ثم أجب عن الأسئلة التالية : ص ١٦٣

عالجت الدول العربية المشكلات المرتبطة بالزراعة بسياسة تنموية وخطط استراتيجية حققت زيادة في الإنتاج وزيادة المساحة المزروعة .

١- استنتج ما حققته الدول العربية في معالجة مشاكل الزراعة . (ثلاث درجات ويكتفى بثلاث نقاط)

- زيادة الإنتاج . - زيادة المساحات المزروعة . - إقامة مشروعات الري .

٢- ما النتائج المترتبة على غياب سياسة زراعية على صعيد العالم العربي ؟ (درجتان ويكتفى بنقطتين)

- تشابه المحاصيل . - تنافسها في الأسواق العربية . - غياب محاصيل أخرى أساسية يمكن إنتاجها محلياً .



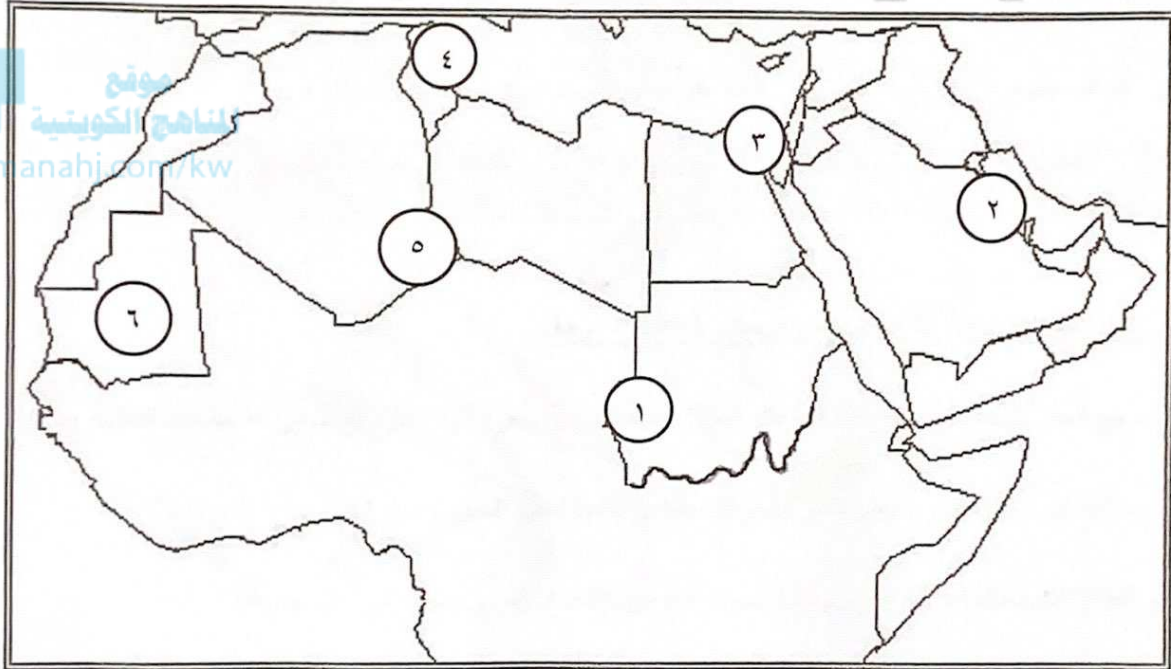
وزارة التربية
الإدارة العامة للتعليم الخاص
التوجيه الفني للاجتماعيات

امتحان المنهج الكامل
لمقرر الكويت والوطن العربي
للمستوى السابع
(نموذج الإجابة)

العام الدراسي: ٢٠٢١/٢٠٢٢ م
الزمن: ساعة ونصف
عدد الصفحات: (٥)

- السؤال الأول: ويتكون من (أ - ب - ج):

أ- أمامك خريطة الوطن العربي الصماء - أكتب الرقم الدال على العبارات التالية:



- ١- قناة السويس يمثلها على الخريطة الرقم (٣). ص ٢٨
- ٢- جبل مره يمثلها على الخريطة الرقم (١). ص ٣٨
- ٣- نهر المجردة يمثلها على الخريطة الرقم (٤). ص ٤٢-٥٨
- ٤- حضارة دلمون يمثلها على الخريطة الرقم (٢). ص ٧١
- ٥- الدولة العربية الأولى في إنتاج الحديد يمثلها على الخريطة الرقم (٦). ص ١٣٢-١٣٣

تابع/ السؤال الأول:

ب- اكتب المفهوم أو المصطلح الدال على العبارات التالية: $٥ \times ١ = ٥$ درجات

المفهوم أو المصطلح	العبارات
التنمية	تعني التطور والتطوير وهي عملية تتطلب التخطيط والمشاركة من الجميع. ص ١٧٢
التصحّر	زحف رمال الصحراء على المناطق الجافة وشبه الجافة. ١٦٢
الضغط الجوي	وزن الهواء فوق أي مكان. ص ٤٤
النبات الطبيعي	النبات الذي ينمو تلقائياً عقب سقوط المطر دون تدخل من الإنسان. ص ٥١
الجبل	هو كل ما ارتفع من الأرض وله قمة لا يقل ارتفاعها عن ١٠٠٠ متر. ص ٣٨

ج- أكمل العبارات التالية بما يناسبها مما درست: $٥ \times ١ = ٥$ درجات

- ١- جميع أشكال المياه على سطح الأرض مثل البحار والمحيطات والبحيرات والأنهار.. الخ تسمى المسطحات المائية. ص ٢٨
- ٢- مساحة كبيرة من سطح الأرض تتميز باستوائها وقلة ارتفاعها تسمى السهول. ص ٤٢
- ٣- القطاع الذي يحتل المرتبة الأولى ويشكل نسبة ٥٠٪ من الاقتصاد العربي يسمى الزراعي. ص ١١٠
- ٤- بقاء عناصر الطبيعة في حالة من التوازن لتؤدي وظائفها على أكمل وجه يسمى التوازن البيئي. ص ١٧٠
- ٥- تم انشاء الصندوق الكويتي للتنمية الاقتصادية العربية في عام ١٩٦١ م. ص ١٧٩

- السؤال الثاني: ويتكون من (أ - ب - ج):

أ- ظلل (أ) إذا كانت العبارة صحيحة و الحرف (ب) إذا كانت العبارة خاطئة فيما يلي: $٥ \times ١ = ٥$ درجات

ب	أ	العبارات
		١- أكثر الأشكال التضاريسية انتشارا في الوطن العربي هي التلال. ص ٤٠
		٢- يتركز سكان جمهورية مصر العربية في (وادي النيل ودلتاه). ص ١٠٢
		٣- تبلغ نسبة إنتاج النفط الخام ٣٠٪ في الوطن العربي بالنسبة للعالم. ١٢٧
		٤- الطقس هو حالة الجو في مكان لمدة زمنية طويلة. ص ٤٤
		٥- أصبحت دولة الكويت تعتمد اعتمادا كاملا على تحلية مياه البحار منذ عام ١٩٥٣م. ص ٦١



ب- ضع خطا تحت الكلمة التي لا تنتمي الى المجموعات التالية: $٥ \times ١ = ٥$ درجات

- ١- دول الجناح الأفريقي في الوطن العربي. (موريتانيا - تونس - جيبوتي - لبنان) ص ٢٣
- ٢- المقومات البشرية للصناعة. (رؤوس الأموال - المواد الخام - الأيدي العاملة - السوق) ص ١٣٩
- ٣- جوهر التنمية المستدامة. (المحسوبة - الحرية - المعرفة - العمل الجماعي) ص ١٧٦
- ٤- الحضارات في الوطن العربي. (بلاد اليمن - بلاد الرافدين - الفارسية - مصر القديمة) ص ٧١
- ٥- مراكز انتقال الحضارة العربية الإسلامية الى أوروبا. (الأندلس - صقلية - بلاد الشام - الصين) ص ٩٢

ج- صنّف الكلمات الواردة ما بين القوسين بمكانها الصحيح في الجدول التالي: $٥ \times ١ = ٥$ درجات ص ١٤١-١٤٢

(الخشب والأوراق - النفط - الغذائية - المعادن - الإنشائية)

صناعات تحويلية	صناعات استخراجية
الخشب والأوراق الغذائية الإنشائية	النفط المعادن

- السؤال الثالث: ويتكون من (أ - ب - ج):

أ- أجب عن الأسئلة التالية: (يكتفى بإجابتين لكل سؤال فقط) $3 \times 2 = 6$ درجات

١- عدد مقومات الهوية العربية؟ ص ٢٦

- الدين - اللغة

- التراث - الأهداف المشتركة

٢- ما اهم مميزات النباتات الصحراوية؟ ص ٥٢

- تقاوم الجفاف من خلال عدة وسائل. - جذورها طويلة.

- القدرة على تخزين المياه. - تحمي نفسها بلحاء سميك وأوراق إبرية.

٣- أذكر أهم الإحصاءات السكانية؟ ص ٩٩

- التعداد السكاني.

- الإحصاء الحيوي.

ب- فرّق بين كل من المفاهيم والمصطلحات التالية: $6 \times 1 = 6$ درجات

الموارد البشرية ص ١٠٩	الموارد الطبيعية ص ١٠٩
هي التي ترتبط بالسكان من حيث أعدادهم وتوزيعهم ومناسبة أعدادهم لمساحة الأرض التي يستغلونها.	الثروات التي منحها الله لإقليم من دون أن يكون للإنسان أي دور في وجودها. مثل: الثروات المعدنية والغابات والمراعي والموارد المائية وموقع الإقليم.
المضيق ص ٢٨	القناة ص ٢٨
ممر مائي يصل بين بحرين أو محيطين أو أي مساحتين كبيرتين نسبياً من الماء.	مجرى مائي صناعي ضيق يشق لأغراض الري أو النقل.
الاستبس ص ٥٢	السافانا ص ٥٢
هي حشائش قصيرة نوعاً ما تنمو في الشتاء خلال موسم سقوط الأمطار.	هي حشائش طويلة يختلف نوعها حسب كمية الأمطار.

ج- عرّف ما يلي: $3 \times 1 = 3$ درجات

١- الكثافة السكانية العامة: عدد السكان الكلي في دولة ما أو منطقة ما إلى المساحة الكلية لهذه الدولة أو المنطقة. ص ١٠٢

عدد السكان الكلي

المساحة الكلية

٢- النهر: مجرى مائي عذب ينحدر على الدوام لينتهي إلى بحر أو إلى نهر آخر أو ينتهي تدريجياً في الصحراء. ص ٥٨

٣- الحضارة: كل ما يطرأ على المجتمع من تقدم وتطور في جميع نواحي الحياة الدينية والسياسية والاقتصادية والاجتماعية والفكرية. ص ٧

- السؤال الرابع: ويتكون من (أ - ب - ج):

أ- اقرأ الفقرة التالية ثم أجب عن الأسئلة التي تليها: ص ١٨٦ $٤ \times ١ = ٤$ درجات

"عقد أكبر وأهم مؤتمر قمة عربية منذ تاريخ نشأة جامعة الدول العربية في دولة الكويت، ولقد كان الأمير الراحل الشيخ صباح الأحمد الجابر الصباح - رحمه الله - هو صاحب المبادرة لعقد القمة، إيماناً منه بأن العالم العربي يمر بمرحلة حرجة وتحديات خطيرة."

١- ما اسم الدولة المستضيفة للمؤتمر؟

- دولة الكويت.

٢- في أي عام عقد هذا المؤتمر؟

- يومي ١٩ - ٢٠ يناير ٢٠٠٩م.

٣- من هو صاحب المبادرة لعقد المؤتمر؟

- الأمير الراحل الشيخ صباح الأحمد الجابر الصباح.

٤- ما هي أولويات هذا المؤتمر؟

- إعادة تعمير قطاع غزة بعد تعرضه للغزو الإسرائيلي الغاشم.

ب- علل لما يلي: ٧ درجات

١- الأهمية الحضارية والثقافية للوطن العربي. ص ٣٦ (درجتان)

- قامت على أرض الوطن العربي حضارات عديدة. - وهبطت على أرضه الديانات السماوية التي انتشرت في أنحاء العالم.

٢- اختلاف المنتجات الزراعية من دولة عربية إلى أخرى. ص ١١٠ (درجتان) يكتفى بنقطتين

- بسبب اختلاف المناخ والتربة. - ومدى توافر المياه في هذه الدول.

٣- يعاني الوطن العربي من عدة مشكلات تواجه التنمية البشرية. ص ١٧٥ يكتفى بنقطتين (درجتان)

- ضعف الاستفادة من القدرات البشرية في المنطقة العربية. - نقص ومحدودية مشاركة المرأة في المنظمات السياسية.

- مشكلة الأمية. - الاختلاف الكبير في مستويات المعيشة بين دولة وأخرى، وفي داخل الدولة الواحدة.

٤- كانت أوروبا منذ القرن العاشر الميلادي تعيش في عصور الظلام. ص ٩٢ (درجة واحدة)

- بسبب سيطرة الكنيسة على عقول الناس.

ج- قارن بين كل من: ص ١٣٤ - ١٣٥ ٤ درجات

أوجه المقارنة	تاريخ التأسيس	مقرها
أوبك	١٩٦٠م	فيينا
أوابك	١٩٦٨م	الكويت