

تم تحميل هذا الملف من موقع المناهج الكويتية



مذكرات الصفوة

الملف مذكرة الصفوة للوحدة الأولى (الوطن العربي مقومات وملامح جغرافية)

موقع المناهج ← المناهج الكويتية ← الصف السابع ← اجتماعيات ← الفصل الأول

روابط مواقع التواصل الاجتماعي بحسب الصف السابع



روابط مواد الصف السابع على تلغرام

[الرياضيات](#)

[اللغة الانجليزية](#)

[اللغة العربية](#)

[التربية الاسلامية](#)

المزيد من الملفات بحسب الصف السابع والمادة اجتماعيات في الفصل الأول

كتاب الطالب في مادة الاجتماعيات للعام الدراسي 2018	1
حل الوحدة الاولى في مادة الاجتماعيات	2
تلخيص رائع في مادة الاجتماعيات	3
حل الوحدة الثانية في مادة الاجتماعيات	4
تلخيص ممتاز في مادة الاجتماعيات	5

غير مصدق
بالتصوير

للتوصيل

60431360


الفصل الدراسي الأول 2023م



مذكرات

الصفوة

إختيارك الأول



اجتماعيات

اطادة

السابع

الصف

سلسلة مذكرات الصفوة لجميع المراحل

الوحدة الأولى: الوطن العربي مقومات وملامح جغرافية

الدرس الأول : البيئة الطبيعية في الوطن العربي

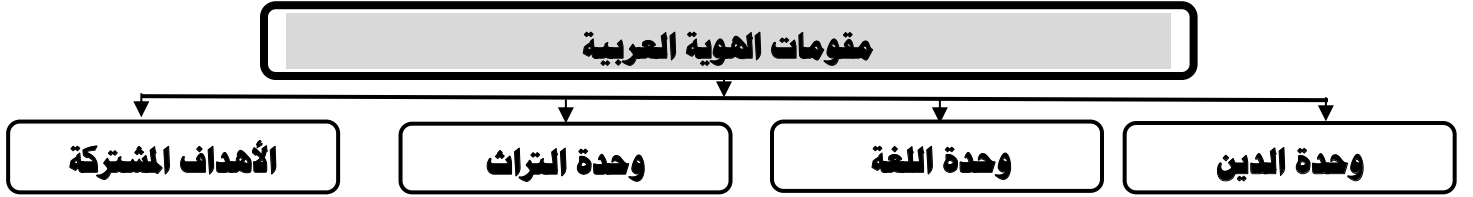
- **عرف المفاهيم التالية:**
- **((الوطن العربي)):** مجموعة الدول العربية التي يجمعها عدد من السمات المشتركة (الدين واللغة) .



- **لاحظ اعلام الدول العربية التالية ثم أكتب اسم الدولة وعاصمتها**

الدول العربية في الجناح الأفريقي									
موريتانيا	الصومال	جيبوتي	السودان	مصر	المغرب	الجزائر	تونس	ليبيا	مصر
موروني	مقديشو	جيبوتي	الخرطوم	القاهرة	الرباط	الجزائر	تونس	طرابلس	القاهرة

الدول العربية في الجناح الآسيوي											
الأردن	سوريا	فلسطين	لبنان	العراق	اليمن	البحرين	الإمارات	عمان	السعودية	قطر	الكويت
عمان	دمشق	القدس	بيروت	بغداد	صنعاء	المنامة	أبو ظبي	مسقط	الرياض	الدوحة	الكويت



• **أكمل الجمل التالية بما يناسبها :**

1. موقع الوطن العربي بالنسبة لقارات العالم في ((وسط القارات))
2. القارات التي يمتد فيها الوطن العربي قارة آسيا وقارة أخرى تسمى ((أفريقيا))
3. السمات المشتركة بين الدول العربية الدين و ((اللغة))
4. إجمالي عدد الدول العربية في قارتي آسيا وأفريقيا ((22)) دولة
5. عدد الدول العربية في قارة آسيا يقدر بنحو ((12)) دولة
6. عدد الدول العربية في قارة أفريقيا يقدر بنحو ((10)) دول
7. أكبر الدول العربية من حيث المساحة تسمى ((الجزائر))
8. أصغر الدول العربية من حيث المساحة تسمى ((البحرين))
9. أكبر الدول العربية مساحة في الجناح الآسيوي تسمى ((السعودية))
10. أكبر الدول العربية مساحة في الجناح الأفريقي تسمى ((الجزائر))
11. أصغر الدول العربية مساحة في الجناح الأفريقي تسمى ((جزر القمر))
12. أصغر الدول العربية مساحة في الجناح الآسيوي تسمى ((البحرين))
13. العام الذي انضمت فيه دولة جزر القمر إلى الجامعة العربية هو ((1993)) ميلادياً
14. عدد الجزر التي تتكون منها جزر القمر يقدر بنحو ((4)) جزر
15. المحيط الذي تقع فيه دولة جزر القمر يسمى ((المحيط الهندي))
16. تقع جزر القمر شمال غرب جزيرة تسمى ((مدغشقر))
17. عاصمة دولة جزر القمر تسمى ((موروني))
18. نسبة مساحة الوطن العربي من إجمالي مساحة العالم تقدر بنحو ((10)) %
19. مساحة الوطن العربي من إجمالي مساحة العالم يقدر بنحو ((13,500)) مليون كم²
20. البحر الذي يفصل الجناح الآسيوي عن الجناح الأفريقي يسمى ((البحر الأحمر))
21. الدولة التي انضمت حديثاً لجامعة الدول العربية تسمى ((جزر القمر))

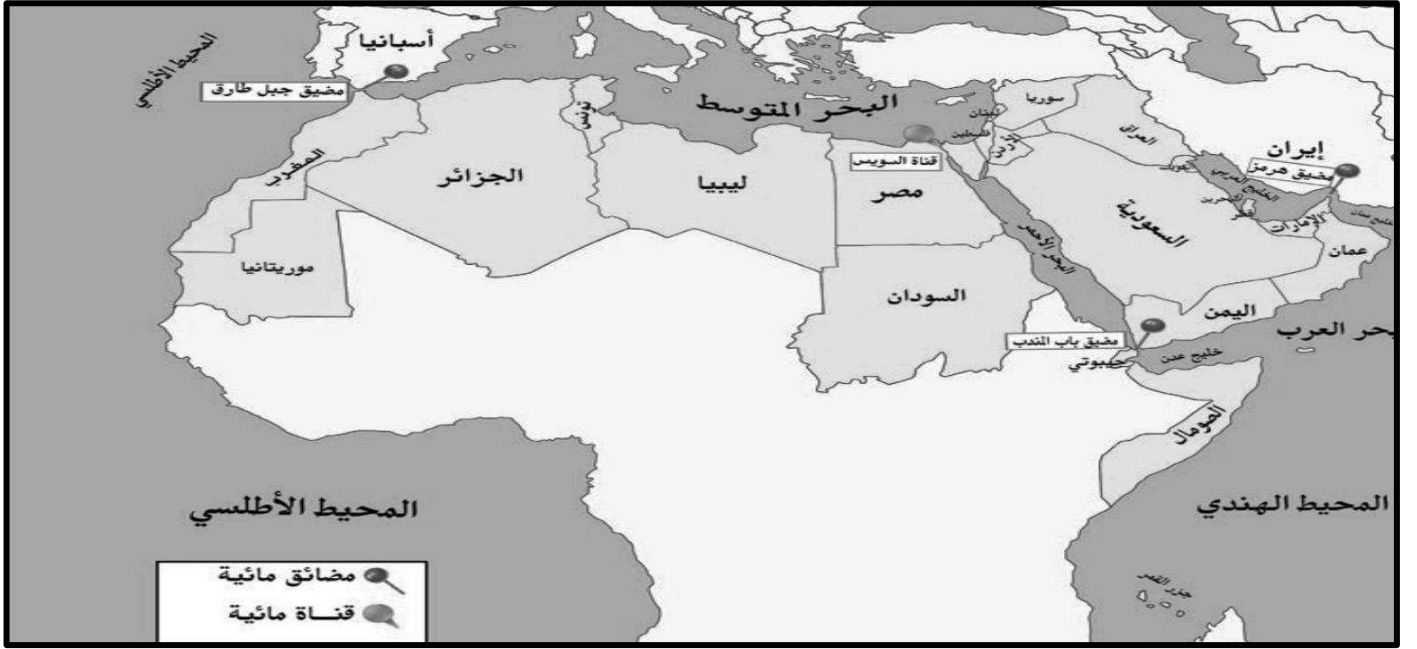
الدرس الثاني : موقع الوطن العربي

• عرف المفاهيم التالية:

• ((اطوِّع الاستراتيجي)): موقع ذات مكانة مهمة بين دول العالم.

• علل : تمتع الوطن العربي بموقع استراتيجي على مر العصور.

- حيث يقع في منتصف العالم
- يتحكم في العديد من المضائق البحرية والقنوات.
- يطل على العديد من المسطحات المائية.
- يتحكم في منافذ التجارة العالمية.



• فرق بين كل من :

المضيق	القناة	المسطحات المائية
- ممر مائي ضيق يصل بين بحرين او محيطين	- مجرى مائي صناعي ضيق لأغراض الري او النقل	- جميع أشكال المياه على سطح الأرض محيطات ، بحار ، أنهار

• عدد المسطحات المائية التي يطل عليها الوطن العربي.

القنوات	المحيطات	الخلجان	البحار
- قناة السويس.	- المحيط الهندي - المحيط الأطلسي.	- الخليج العربي - خليج عدن - خليج عمان	- البحر المتوسط - البحر الأحمر - بحر العرب

• عدد أهم المضائق والقنوات التي يتحكم فيها الوطن العربي



قناة السويس

تصل بين البحر الأحمر
والبحر المتوسط



مضيق جبل طارق

يصل بين البحر المتوسط
والمحيط الأطلسي



مضيق باب المندب

يصل بين خليج عدن
والبحر الأحمر



مضيق هرمز

يصل بين الخليج
العربي وخليج عمان

• عرف المفاهيم التالية:

- ((الموقع الفلكي)): موقع الدول بالنسبة لخطوط الطول ودوائر العرض.
- ((خطوط الطول ودوائر العرض)): خطوط وهمية طولية وعرضية ترسم على مجسم الكرة الأرضية والخرائط.
- ((الموقع النسبي)): موقع الدول بالنسبة لليابس والماء.

• أكتب مما درست عن الموقع الفلكي للوطن العربي.

- يمتد الوطن العربي من المحيط الأطلسي غرباً حتى الخليج العربي وبحر العرب شرقاً ومن خط الاستواء جنوباً حتى البحر المتوسط شمالاً

• قارن بين خطوط الطول ودوائر العرض من حيث الجدول التالي.

دوائر العرض	خطوط الطول	وجه المقارنة
خطوط وهمية ترسم على الكرة الأرضية وتقسّم الأرض لقسمين شمالي وجنوبي.	خطوط وهمية ترسم على الكرة الأرضية وتقسّم الأرض لقسمين شرقي وغربي.	التعريف
180	360	العدد
خط الاستواء	خط جرينتش	الخط الرئيسي
- تفيد في تحديد الأقاليم المناخية.	- تفيد في معرفة الوقت	الأهمية

• عدد الأهمية الجغرافية للوطن العربي.

- يتمتع بموقع استراتيجي مهم .
- يشغل مكاناً وسطاً بين قارات العالم الثلاث.
- يطل على مسطحات مائية واسعة ذات أهمية كبيرة.

• ما النتائج المترتبة على : الأهمية الجغرافية للوطن العربي.

- تنافس الدول الاستعمارية للاستيلاء عليه منذ القرن ال 18 الميلادي .

• عدد الأهمية الاقتصادية للوطن العربي.

- منطقة عبور لحركة الملاحة والتجارة العربية .
- يربط قارات العالم الثلاث بمواردها الضخمة.
- يشكل سكان الوطن العربي 5% من إجمالي سكان العالم.
- ظهور النفط بكميات كبيرة.

• عدد الأهمية الحضارية للوطن العربي.

- قامت على أرضه العديد من الحضارات.
- هبطت على أرضه الديانات السماوية الثلاث (الإسلام - المسيحية - اليهودية)

60431360

• **أكمل الجمل التالية بما يناسبها :**

1. موقع ذات مكانة مهمة بين دول العالم يعرف باسم ((**الموقع الاستراتيجي**))
2. القارة التي يقع بها القسم الأكبر من الوطن العربي تسمى ((**أفريقيا**))
3. جميع أشكال المياه على سطح الأرض من محيطات ، بحار ، أنهار تعرف باسم ((**المسطحات المائية**))
4. مجرى مائي صناعي ضيق لأغراض الري أو النقل يعرف باسم ((**القناة**))
5. ممر مائي ضيق يصل بين بحرين أو محيطين يعرف باسم ((**المضيق**))
6. مضيق بحري يصل بين الخليج العربي وخليج عمان يسمى ((**مضيق هرمن**))
7. مضيق بحري يصل بين خليج عدن والبحر الأحمر يسمى ((**مضيق باب المندب**))
8. مضيق بحري يصل بين البحر المتوسط والمحيط الأطلسي يسمى ((**مضيق جبل طارق**))
9. قناة مائية تصل بين البحر الأحمر والبحر الأبيض المتوسط تسمى ((**قناة السويس**))
10. موقع الدول بالنسبة لخطوط الطول ودوائر العرض يعرف بـ ((**الموقع الفلكي**))
11. خطوط وهمية طولية وعرضية ترسم على مجسم الكرة الأرضية والخرائط تعرف بـ ((**خطوط الطول ودوائر العرض**))
12. دائرة العرض الرئيسية التي تقسم الكرة الأرضية إلى قسمين متساويين شمالي وجنوبي تسمى ((**خط الاستواء**))
13. خط الطول الرئيسي الذي يقسم الكرة الأرضية إلى قسمين متساويين شرقي وغربي يسمى ((**خط جرينتش**))
14. الدولة العربية التي يمر بها خط الاستواء تسمى ((**الصومال**))
15. الدولة العربية التي يمر بها خط جرينتش تسمى ((**الجزائر**))
16. الدولة العربية التي تشرف على قناة السويس اسمها ((**جمهورية مصر العربية**))
17. القارة المجاورة للوطن العربي من جهة الشمال تسمى ((**أوروبا**))
18. المسطح المائي الذي يحده الوطن العربي من جهة الغرب يسمى ((**المحيط الأطلسي**))
19. المسطح المائي الذي يحده الوطن العربي من جهة الجنوب الشرقي يسمى ((**المحيط الهندي**))
20. المسطح المائي الذي يحده الوطن العربي من جهة الشمال يسمى ((**البحر المتوسط**))
21. المسطح المائي الذي يحده الوطن العربي من جهة الشرق يسمى ((**الخليج العربي**))
22. يقع الوطن العربي بالنسبة لقارة آسيا في الجهة ((**الجنوبية الغربية**))
23. يقع الوطن العربي بالنسبة لقارة أفريقيا في الجهة ((**الشمالية**))
24. نسبة سكان الوطن العربي من إجمالي سكان العالم تقريباً ((**5**)) %