

تم تحميل هذا الملف من موقع المناهج الكويتية



التعليم الخاص

الملف نموذج اختبار تقويمي أول متبوع بالإجابة

[موقع المناهج](#) ← [المناهج الكويتية](#) ← [الصف الثاني](#) ← [رياضيات](#) ← [الفصل الثاني](#)

روابط مواقع التواصل الاجتماعي بحسب الصف الثاني



روابط مواد الصف الثاني على تلغرام

[الرياضيات](#)

[اللغة الانجليزية](#)

[اللغة العربية](#)

[التربية الاسلامية](#)

المزيد من الملفات بحسب الصف الثاني والمادة رياضيات في الفصل الثاني

تدريبات	1
وسائل الوحدة الحادية عشر	2
مذكرة	3
مذكرة مهمة	4
مذكرة مهمة	5



وزارة التربية
الإدارة العامة للتعليم الخاص
التوجيه الفني للرياضيات


الاختبار التقويمي الأول للصف الثاني

الفصل الدراسي الثاني - للعام الدراسي ٢٠٢٢ / ٢٠٢٣ م

محتوى الاختبار	توزيع درجات الاختبار		درجة الاختبار	مدة الاختبار	موعد الاختبار
الوحدة الثامنة	مقال	موضوعي	٥	لا تتجاوز ١٥ دقيقة من زمن الحصة .	الأسبوع الثالث
	٣	٢			

إشراف الموجه الفني : أ. أسماء الفيكاوي

السؤال الأول : (أ) أوجد الناتج :-




$$\underline{\hspace{2cm}} = ٢ + ٢ + ٢$$

$$\underline{\hspace{2cm}} = ٢ \times ٣$$

(ب) أوجد الناتج مستخدماً الرسم بالصور .

$$\underline{\hspace{2cm}} = ٤ \times ٣$$

السؤال الثاني : حوط الإجابة الصحيحة :



(أ) عبارة الضرب المناسبة

$$١٥ = ٥ \times ٣$$

$$٢٠ = ٤ \times ٥$$

$$١٠ = ٥ \times ٢$$

(ب) ٢ × ٦ لها نفس ناتج .

٦

٤ ×

٦


٢ ×

٢

٧ ×

انتهت الأسئلة،،،

السؤال الأول : (أ) أوجد الناتج :-



$$\underline{6} = 2 + 2 + 2$$


$$\underline{6} = 2 \times 3$$

(ب) أوجد الناتج مستخدماً الرسم بالصور .



$$\underline{12} = 4 \times 3$$

السؤال الثاني : حوّل الإجابة الصحيحة :



(أ) عبارة الضرب المناسبة

$$15 = 5 \times 3$$

$$20 = 4 \times 5$$

$$10 = 5 \times 2$$

(ب) 2×6 لها نفس ناتج .

$$\begin{array}{r} 6 \\ 4 \times \\ \hline \end{array}$$

$$\begin{array}{r} 6 \\ 2 \times \\ \hline \end{array}$$

$$\begin{array}{r} 2 \\ 7 \times \\ \hline \end{array}$$

انتهت الأسئلة،،،

السؤال الأول :

نسق محمد ٤ مزهريات في كل منها ٥ أزهار .
كم عدد كل الأزهار ؟



عدد كل الأزهار = _____ × _____ = _____

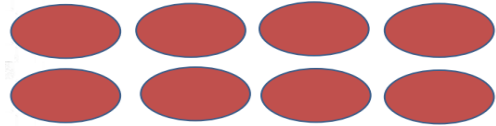
السؤال الثاني :

صل بعبارة الضرب المناسبة .

٨ = ٤ × ٢



٦ = ٢ × ٣



انتهت الأسئلة،،،

السؤال الأول :

نسق محمد ٤ مزهريات في كل منها ٥ أزهار .
كم عدد كل الأزهار ؟



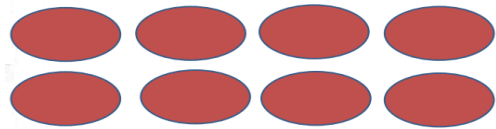
عدد كل الأزهار = ٤ × ٥ = ٢٠

السؤال الثاني :

صل بعبارة الضرب المناسبة .

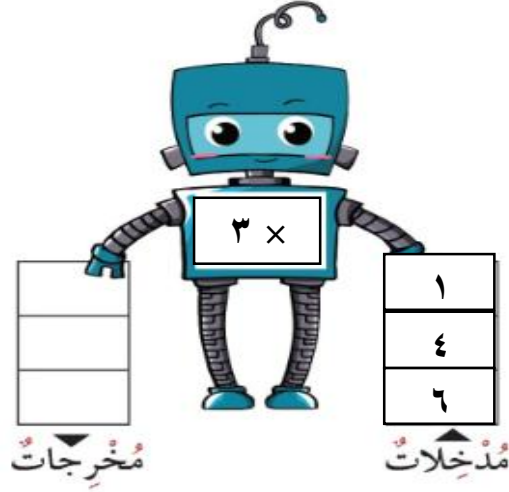
$$٨ = ٤ \times ٢$$

$$٦ = ٢ \times ٣$$



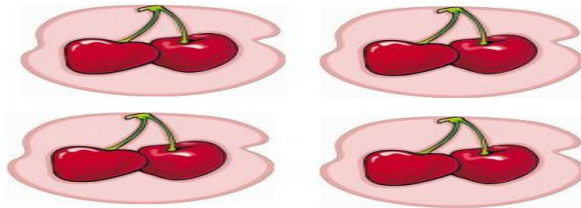
انتهت الأسئلة،،،

السؤال الأول : أكمل :-



السؤال الثاني : حوظ الإجابة الصحيحة .

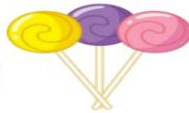
(أ) عبارة الضرب التي تعبر عن الصورة هي



$$١٠ = ٢ \times ٥$$

$$١٢ = ٤ \times ٣$$

$$٨ = ٢ \times ٤$$



$$١٢$$

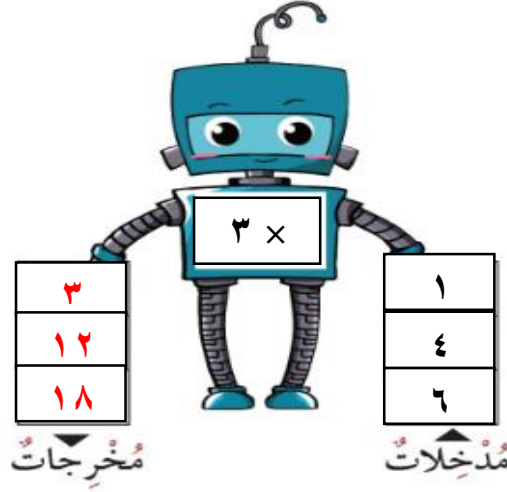
$$٩$$

$$= ٣ \times ٣ \text{ (ب)}$$

$$٦$$

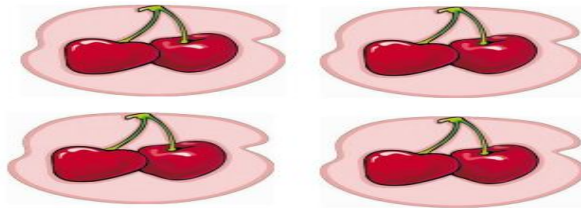
انتهت الأسئلة،،،

السؤال الأول : أكمل :-



السؤال الثاني : حوظ الإجابة الصحيحة .

(أ) عبارة الضرب التي تعبر عن الصورة هي



$$١٠ = ٢ \times ٥$$

$$١٢ = ٤ \times ٣$$

$$٨ = ٢ \times ٤$$



$$١٢$$

$$٩$$

$$= ٣ \times ٣ \text{ (ب)}$$

$$٦$$

انتهت الأسئلة،،،،