

تم تحميل هذا الملف من موقع المناهج الكويتية



منطقة مبارك الكبير التعليمية

الملف نموذج إجابة منطقة مبارك الكبير التعليمية

[موقع المناهج](#) ← [المناهج الكويتية](#) ← [الصف السادس](#) ← [اجتماعيات](#) ← [الفصل الأول](#)

روابط مواقع التواصل الاجتماعي بحسب الصف السادس



روابط مواد الصف السادس على تلغرام

[الرياضيات](#)

[اللغة الانجليزية](#)

[اللغة العربية](#)

[التربية الاسلامية](#)

المزيد من الملفات بحسب الصف السادس والمادة اجتماعيات في الفصل الأول

<a href="#">نموذج اجابة اختبار لمنطقة مبارك الكبير عام 2016</a>	1
<a href="#">اوراق عمل مهمة في مادة الاجتماعيات</a>	2
<a href="#">بنك اسئلة ممتاز في مادة الاجتماعيات</a>	3
<a href="#">بنك معلومات مهم في مادة الاجتماعيات</a>	4
<a href="#">تلخيص اجتماعيات بشكل مبسط</a>	5



وزارة التربية  
MINISTRY OF EDUCATION

الإدارة العامة لمنطقة مبارك الكبير التعليمية

## امتحان نهاية الفترة الدراسية الاولى

2024 \ 2023

السادس

الصف

الاجتماعيات

المادة

موقع  
المناهج الكويتية  
almanahj.com/kw



نموذج اجابة

الإدارة العامة لمنطقة مبارك الكبير التعليمية

امتحان نهاية الفترة الدراسية الأولى  
للمواد السادسة لمادة الاجتماعيات  
لمقرر الكويت ودول الخليج العربية

(أجب عن جميع الأسئلة)

السؤال الأول : موضوعي ويتكون من ( أ - ب - ج ) : ( درجة لكل سؤال : ١ × ١٢ = ١٢ )

أ) ضع خطأ تحت الخيار الصحيح من بين الخيارات التي تلي كل عبارة مما يلي :

١- العام الذي أعلن فيه قيام مجلس التعاون لدول الخليج العربية :

أ - ١٩٨٠ م      ب- ١٩٨١ م      ج - ١٩٨٢ م      د- ١٩٨٣ م      ص ٧٠

٢- اسم يطلق على مطرب السفينة قديماً :

موقع  
المناهج الكويتية  
almanahj/kw

أ - القلاف      ب- المجنمي      ج - النهام      د- النوخة      ص ٣٢

٣- أول دولة أوروبية استعمارية وصلت إلى الخليج العربي :

أ - البرتغال      ب- هولندا      ج - إنجلترا      د- فرنسا      ص ٦٠

٤- موقع الدولة بالنسبة لليابس والماء :

أ - الموقع الفلكي      ب- الموقع المكاني      ج - الموقع الجغرافي      د- الموقع النسبي      ص ٢٠

ب) صنف الحيوانات التالية حسب مكانها الصحيح في الجدول التالي : ص ٢٦

( الإبل - الضب - الثعبان - الماعز )

١- حيوانات مستأنسة	٢- حيوانات غير مستأنسة
الإبل الماعز	الضب الثعبان

ج) أكمل العبارات التالية بما يناسبها :

١- المنطقة التي هاجر منها العتوب إلى منطقة الخليج العربية تسمى ..... الهدار ص ٥٩

٢- تطور ورقي المجتمع في جميع نواحي الحياة يسمى ..... حضارة ص ٤٥

٣- الرياح الجنوبية الشرقية التي تهب على منطقة الخليج العربية تسمى .... الكوس ص ٢٥

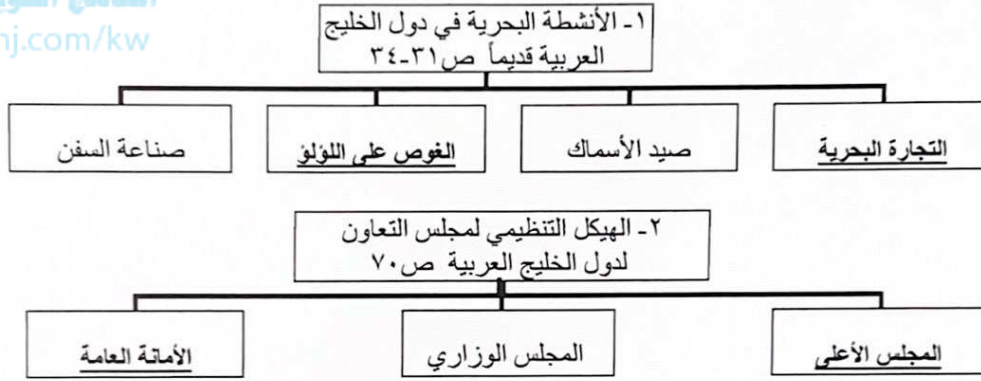
٤- المياه التي توجد في باطن الأرض تسمى ..... المياه الجوفية ص ٢٨

السؤال الثاني : موضوعي ويتكون من ( أ - ب - ج ) : ( درجة لكل سؤال : ١ × ١٢ = ١٢ )

( أ ) اختر من المجموعة ( أ ) ما يناسبها للمجموعة ( ب ) بوضع الرقم الصحيح في المكان المناسب: ص ٥٧

م	( أ ) الهجرات	الرقم الصحيح	( ب ) المنطقة
١	آل خليفة	-	عمان
٢	آل الصباح	٤	رأس الخيمة
٣	المعاضيد	١	البحرين
٤	القواسم	٣	قطر
	-	٢	الكويت

( ب ) أكمل المخططات السهمية التالية :



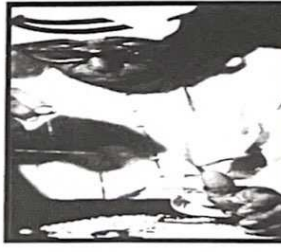
( ج ) أمامك مجموعة من الصور أكتب ما تدل عليها في الفراغات أدناه :




صناعة الخوص  
ص ٢٩



القليب / الجليب  
ص ٥١



الطواش /  
تاجر اللؤلؤ ص ٣٦



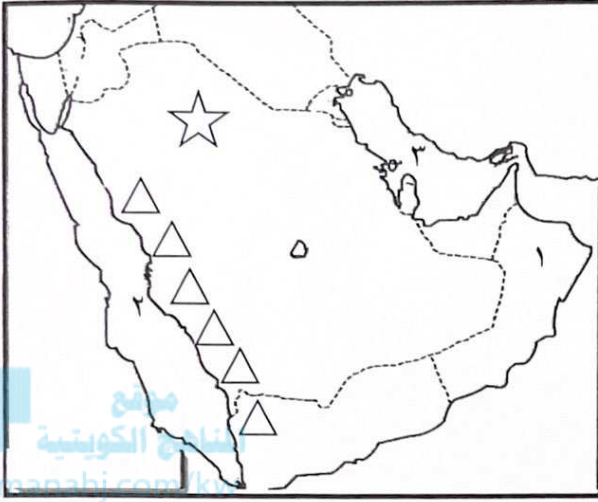
آثار جزيرة فيلكا  
الحضارة الهلينستية ص ٤٧





السؤال الثالث : موضوعي ويتكون من ( أ - ب - ج ) : ( درجة لكل سؤال : ١٢ × ١ = ١٢ )

أ ) لاحظ خريطة شبه الجزيرة العربية الصماء التي أمامك ثم اكتب مدلولات الأرقام والرموز التالية :



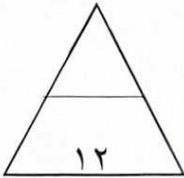
- الدولة الخليجية التي ظهرت فيها حضارة مجان  
يمثلها على الخريطة الرقم ١... ص ٤٩
- جبال عسير والحجاز يمثلها على  
الخريطة الرمز  $\triangle$ .. ص ٢٣
- هضبة نجد يمثلها على  
الخريطة الرقم ٥.. ص ٢٣
- المسطح المائي الذي تطل عليه دول الخليج  
العربية يمثلها على الخريطة الرقم ٣.. ص ٢٣

ب ) صحح ما تحته خط في العبارات التالية وذلك بكتابة الإجابة الصحيحة في مكانها المناسب حسب الجدول:

م	العبارة	التصويب
١	يطلق على بداية موسم الغوص اسم <u>القفال</u> .	ص ٣٢ الدشة
٢	أطلق قديماً على الخليج العربي اسم بحر <u>غروب الشمس</u> .	ص ٤٧ شروق الشمس البحر الأدنى
٣	حالة الجو في مكان ما خلال فترات زمنية طويلة يسمى <u>الطقس</u> .	ص ٢٥ المناخ
٤	حصلت دولة قطر على استقلالها في عام ١٩٧٣ م.	ص ٦٥ م ١٩٧١


ج ) اكتب المفاهيم أو المصطلحات الدالة على العبارات التالية:

- ١- (.... الاستقلال ..... ) تحرر الدولة من المستعمر الأجنبي وقيامها بمسؤولية إدارة شؤونها الداخلية والخارجية . ص ٦٣
- ٢- (.. السهول / السهل ... ) أجزاء فسيحة من سطح الأرض تتميز باستوائها وقلّة ارتفاعها . ص ٢٣
- ٣- ( مجلس التعاون لدول الخليج العربية ) منظمة سياسية اقتصادية إقليمية تضم ست دول عربية خليجية . ص ٧٠
- ٤- (.... الرضيف ..... ) صغار السن وهو المساعد للسيف في السفن الكبيرة . ص ٣٢



**السؤال الرابع : مقالتي ويتكون من ( أ - ب - ج - د ) :**

**أ) لاحظ الصورة التي أمامك ثم أجب عن الأسئلة التي تليها :**



١- اذكر نوع السفينة التي أمامك . ص ٣٣ (درجة واحدة)  
- البغلة

٢- علل: تعتبر هذه السفينة من أفضل أنواع السفن المستعملة  
في رحلة السفر. ص ٣٤ (درجتان)

- لمتانتها وقدرتها على نقل الحمولة الكبيرة .
- قلة تعرضها للأخطار البحرية .

٣- اذكر أشهر السفن البحرية في منطقة الخليج العربية . ص ٣٣ (درجة واحدة)

- البوم - السنوك - الجاليوت - الشوعي - البغلة .

**ب) قارن بين كل من حسب المطلوب منك في الجدول التالي : (لكل نقطة درجة ، المجموع ٤ درجات)**

أوجه المقارنة	نبات معمر ص ٢٦	نبات حولي ص ٢٦
المفهوم	نباتات متوفرة طول العام لأنها تتحمل الجفاف وارتفاع درجة الحرارة .	نباتات يرتبط وجودها بموسم سقوط المطر .
مثال	الصبار / العرفج / الثندا / الرمث .	الخبيزة / الحويذان / العنصيل

**ج) عدد اثنين لكل مما يلي :**

١- إنجازات مجلس التعاون الخليجي . ص ٧٧ (درجتان)

- اقامة الاتحاد الجمركي .
- انطلاق السوق الخليجي المشترك في يناير ٢٠٠٨ م .
- التنسيق في المجال السياسي في المحافل الدولية لكل القضايا التي تهم المجلس .
- وثيقة التطوير الشامل للتعليم .
- اتفاقية الدفاع المشتركة واستمرار تعزيز قوة درع الجزيرة .
- التعاون في مجال العمل البيئي لحل المشكلات ذات الاهتمام المشترك ، وتوحيد الرؤى في المحافل الدولية البيئية بما يخدم دول المجلس .

**د) علل لما يلي :**

١- كانت حياة السكان في منطقة الخليج العربية قاسية وخشنة . ص ٢٧ (درجتان)

- لفقر البيئة .
- قلة الموارد فيها وخاصة المياه .
- فقر النباتات والحياة الحيوانية .



**السؤال الخامس: مقالى و يتكون من ( أ - ب - ج ):**

**( أ ) اقرأ الفقرة التالية ثم أجب عما يليها من أسئلة :** ص ٦٣ (مجموع درجات السؤال ٤ درجات)

" وقع الشيخ مبارك الصباح مع بريطانيا في عام ١٨٩٩م اتفاقية الحماية والتي تنص على ألا يتنازل أو يبيع أو يؤجر أي جزء من أراضيه لدولة أجنبية دون موافقة من الحكومة البريطانية وألا يستقبل هو أو خلفاؤه من بعده ممثل أي دولة أجنبية دون إذن من السلطات البريطانية مقابل حماية بريطانيا لإمارة الكويت من أي خطر خارجي ، وتم إلغاء هذه المعاهدة في عهد الشيخ عبد الله السالم الصباح واستبدلت بمعاهدة الاستقلال التي أعلنت في ١٩ / يونيو / ١٩٦١ م ."

١- ضع عنواناً للفقرة السابقة . (درجة واحدة)

- استقلال دولة الكويت - اتفاقية الحماية ١٨٩٩م - معاهدة الحماية ١٨٩٩م .  
أو ما يكتبه المتعلم ويراه المصحح مناسباً .

٢- أذكر شروط اتفاقية الحماية البريطانية لدولة الكويت عام ١٨٩٩ م . (درجتان)

- ألا يتنازل أو يبيع أو يؤجر أي جزء من أراضيه لدولة أجنبية دون موافقة من الحكومة البريطانية .  
- ألا يستقبل هو أو خلفاؤه من بعده ممثل أي دولة أجنبية دون إذن من السلطات البريطانية مقابل حماية إمارة الكويت .

٣- أذكر تاريخ استقلال دولة الكويت. (درجة واحدة)  
- ١٩ / يونيو / ١٩٦١ م

**( ب ) فرق بين كل مما يلي من حيث التعريف :** ( لكل نقطة درجة واحدة ، المجموع ٤ درجات )

الهبضية ص ٢٣	الجبل ص ٢٣
أرض مرتفعة سطحها مستوى وتمتد مساحة كبيرة .	هو كل مرتفع له قمة لا يقل ارتفاعه عن ١٠٠٠ متر تقريبا .
الديمقراطية ص ٦٤	الاستعمار ص ٦١
حكم الشعب لنفسه.	هو أن تسيطر دولة قوية على دولة ضعيفة بهدف استغلال موقعا ومواردها ( خيراتها )

**( ج ) اذكر اثنين لكل مما يلي :**

١- مظاهر الحضارة الإسلامية. ص ٥٥ (درجتان)  
- الفن - العمران - الصناعة.

٢- الصفات المشتركة بين دول مجلس التعاون الخليجي . ص ٧٠ (درجتان)  
- وحدة التراث - الانتماء - الدين - المصالح المشتركة.

،، انتهت الأسئلة ،،

