

تم تحميل هذا الملف من موقع المناهج الكويتية



منطقة الفروانية التعليمية

الملف نموذج إجابة اختبار منطقة الفروانية التعليمية

[موقع المناهج](#) ← [المناهج الكويتية](#) ← [الصف السادس](#) ← [اجتماعيات](#) ← [الفصل الثاني](#)

روابط مواقع التواصل الاجتماعي بحسب الصف السادس



روابط مواد الصف السادس على تلغرام

[الرياضيات](#)

[اللغة الانجليزية](#)

[اللغة العربية](#)

[التربية الاسلامية](#)

المزيد من الملفات بحسب الصف السادس والمادة اجتماعيات في الفصل الثاني

<a href="#">مراجعة</a>	1
<a href="#">مراجعة</a>	2
<a href="#">مراجعة</a>	3
<a href="#">مذكرة في مادة الاجتماعيات</a>	4
<a href="#">مراجعة محلولة ومفيدة في مادة الاجتماعيات</a>	5

تم التحميل من شبكة ياكويت التعليمية



Telegram:  
[ykuwait\\_net\\_home](https://t.me/ykuwait_net_home)

موقع  
المنهج الكويتية  
[almanahj.com/kw](http://almanahj.com/kw)





تم التحميل من شبكة بأكويت التعليمية



Telegram:  
ykuwait\_net\_home



السؤال الأول ( موضوعي ) : يتكون من ( أ - ب - ج - د - هـ - و ) :-

( أ ) أكمل العبارات التالية بما يناسبها : - ( ٦ × ١ = ٦ )

١- الحقل الذي بدأ فيه التنقيب عن النفط بدولة الكويت عام ١٩٣٤ م يسمى بحرة ص ٨٧

٢- المحصول الزراعي الذي نجحت المملكة العربية السعودية في إنتاجه يسمى القمح ص ٩٢

٣- الصورة المقابلة تمثل أحد أنواع التلوث البيئي ويسمى التلوث الهوائي ص ١٣٣

٤- العام الذي صدر فيه اعلان الدوحة بشأن قيام السوق الخليجية المشتركة هو ٢٠٠٨ م ص ١٣٠

٥- تم اكتشاف النفط بكميات ضخمة في دولة الكويت في حقل يسمى برفان ص ٨٧

٦- استقبلت منطقة الخليج العربية هجرات من المناطق المجاورة منها هجرة المعاضيد الى دولة تسمى قطر ص ١٠٨

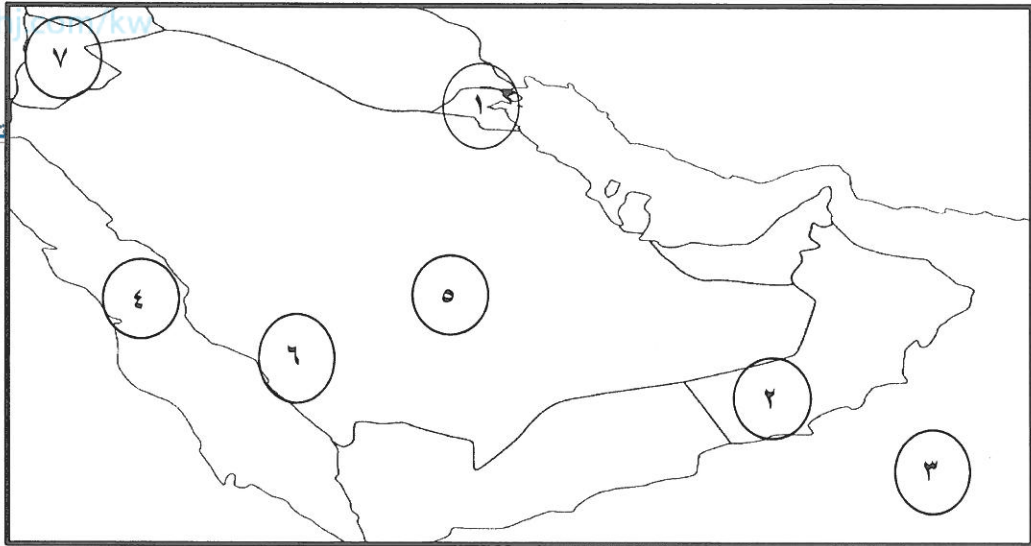
( ب ) اكتب المصطلحات الدالة على العبارات التالية : ( ٦ × ١ = ٦ )

م	اسم المصطلح	العبارة
١	البيوت البلاستيكية	تزرع فيها الخضروات في غير مواسمها لحمايتها من تقلبات الطقس . ص ٩٤
٢	السلالة	مجموعة من الناس تشترك فيما بينها في الصفات الجسمانية الرئيسية . ص ١٠٦
٣	النمو السكاني	التغيير الذي يحدث لعدد السكان نتيجة الزيادة الطبيعية وغير الطبيعية . ص ١١١
٤	الثقافة	مجموعة من العادات والتقاليد والقيم في مجتمع من المجتمعات . ص ١١٨
٥	العمالة المنزلية	مجموعة من الأفراد يشاركون الأسرة في دور أو أكثر من أدوارها . ص ١٤٢
٦	طبقة الاوزون	درع واقٍ للأحياء ضد خطر الأشعة فوق البنفسجية الضارة . ص ١٣٥

( ج ) صحح ما تحته خط بكتابة الإجابة الصحيحة بين الأقواس : ( ٦ = ١ × ٦ )

- ص ٩٤
- ١- الزراعة التي تتم في بيئة مائية أو رملية أو نشارة خشب تضاف إليها المحاليل الغذائية الترانزيت. ( الزراعة بدون تربة
- ٢- وحدة قياس شدة الضوضاء التي تتعرض لها الأذن البشرية ريختر. ( الديسيبل ) ص ١٣٤
- ٣- يعتبر إدانة دول الخليج العربية لإحتلال الجزر الإماراتية الثلاث من مظاهر التعاون العسكري. ( السياسي ) ص ١٢٩
- ٤- يعتبر العنف عادة موروثة. ( متعلمة ) ص ١٤٦
- ٥- يوجد سهل الباطنة في دولة عربية خليجية تسمى الكويت. ( عمان ) ص ٩٢
- ٦- ورد ذكر حضارة أم النار وآثارها المتشابهة في دولة عُمان. ( قطر ) ص ١٠٥

( د ) لاحظ خريطة دول مجلس التعاون الخليجي الصماء التالية ، ثم أجب : ( ٦ = ١ × ٦ )



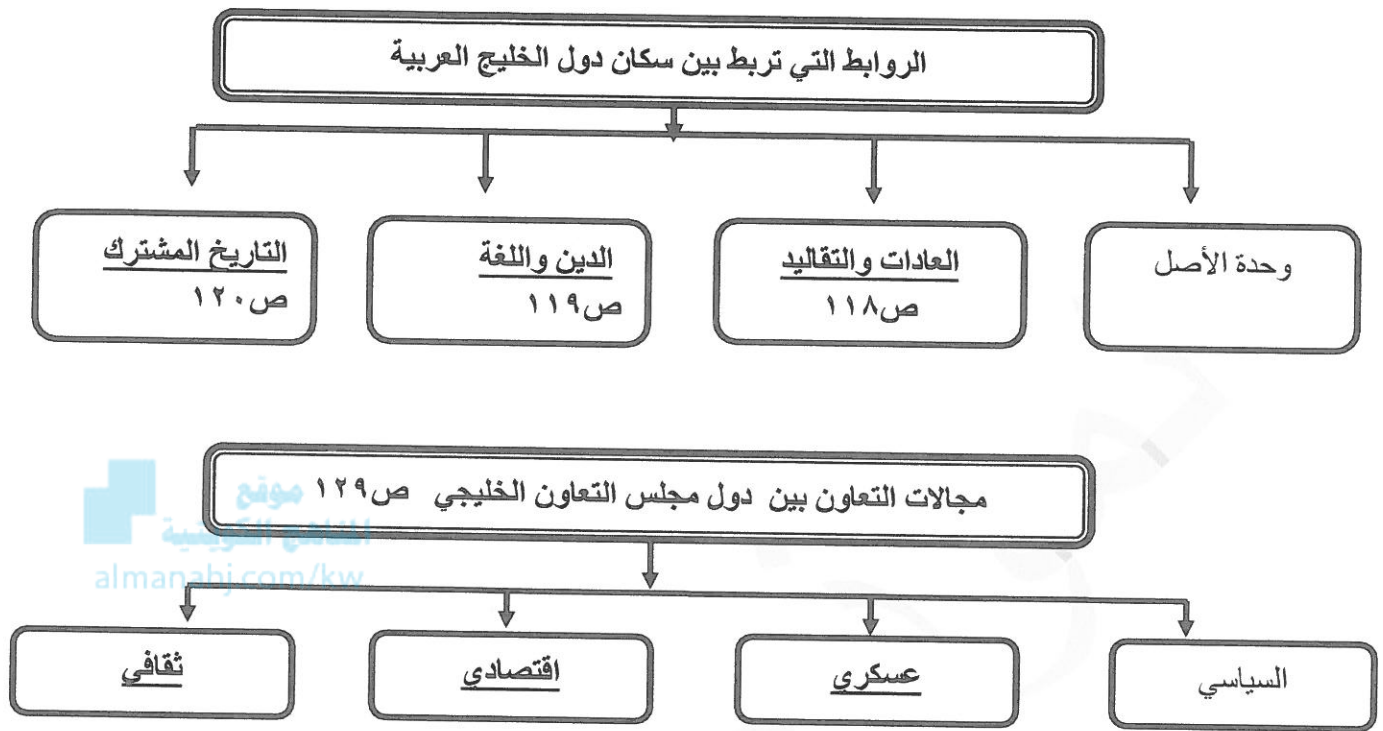
تم التحميل من شبكة ياكويت التعليمية



- ١- منطقة صلالة في دولة عمان يمثلها على الخريطة الرقم
- ٢- بحر العرب يمثلها على الخريطة الرقم
- ٣- تقع منطقة الوفرة الزراعية في دولة يمثلها على الخريطة الرقم
- ٤- منطقة نجد يمثلها على الخريطة الرقم
- ٥- سهل تهامة يمثلها على الخريطة الرقم
- ٦- مسطح مائي يطلق عليه اسم البحر الأحمر يمثلها على الخريطة الرقم
- ( ٢ ) ص ٩٢
- ( ٣ ) ص ٩٢
- ( ١ ) ص ٩٢
- ( ٥ ) ص ١٠٧
- ( ٦ ) ص ٩٢
- ( ٤ ) ص ٩٢

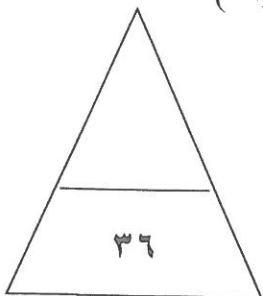
( ٦ = ١ × ٦ )

( هـ ) أكمل المخططات السهمية التالية :



( و ) اختر البديل المناسب من بين البدائل التي تلي كل عبارة فيما يلي : ( ٦ = ١ × ٦ )

- ١- اتجهت هجرة القواسم في شبه الجزيرة العربية الى منطقة تسمى: -  
( رأس الخيمة - الكويت - أبو ظبي - قطر ) ص ١٠٨
- ٢- الدولة الخليجية الوحيدة التي لم تتعرض للاستعمار الأجنبي هي: ص ١٢٠  
( الكويت - البحرين - السعودية - قطر )
- ٣- دخول مواد غريبة في التربة مثل المبيدات الحشرية والصرف الصحي مما يلحق الضرر في خواصها ومكوناتها: ص ١٣٤  
( التلوث الضوضائي - التلوث المائي - التلوث الأرضي ( التربة ) - التلوث الهوائي )
- ٤- المدينة العربية الخليجية التي يوجد بها مقر مكتب التربية العربي تسمى: ص ١٣٠  
( الدوحة - أبو ظبي - المنامة - الرياض )
- ٥- بلغ عدد آبار النفط الكويتية التي أحرقها النظام العراقي البائد: ص ١٣٩  
( ٧٣٧ بئراً - ٧٤٧ بئراً - ٧٥٧ بئراً - ٧٦٧ بئراً )
- ٦- مصطلح يطلق على مجموع الدخول التي تحصل عليها الدولة خلال عام يسمى ص ٩٥  
( الدخل القومي - الصادرات - الصناعة - ترانزيت )



السؤال الثاني (مقالتي) : يتكون من ( أ - ب - ج ) :-

٥ درجات ( أ ) لاحظ الصورة المقابلة ، ثم أجب عن الأسئلة التي تليها :-



١- ما هي المناسبة التي تمثلها الصورة المقابلة؟

• تصدير أول شحنة من النفط الكويتي ص ٩٠

٢- في أي عام حدثت هذه المناسبة؟

• ١٩٤٦م ص ٩٠

٣- ما هو اسم حاكم دولة الكويت الذي يظهر في الصورة؟

• الشيخ أحمد الجابر الصباح رحمه الله ص ٩٠

٤- علل/ الحاجة إلى إقامة العديد من الموانئ النفطية في دول الخليج العربية. ص ٩٠

• نتيجة تزايد الإنتاج الخليجي من النفط.

• تزايد الطلب العالمي عليه كمصدر أساسي للطاقة.

( ب ) عرف المفاهيم والمصطلحات التالية :

( ٣ = ١ × ٣ )

١- الترانزيت: إعادة تصدير البضائع المستوردة. ص ٩٩

٢- الكثافة السكانية: عدد السكان في الكيلو متر المربع وتقاس بقسمة عدد السكان على مساحة الدولة. ص ١١٤

٣- العنف: ذلك السلوك العدواني الموجه ضد الغير والذي يتسم بالتخريب والتدمير سواء كان ذلك السلوك أقوالاً أو أفعالاً. ص ١٤٤

( ج ) عدد اثنين مما يلي:

( ٤ = ٢ × ٢ )

١- مجالات التعاون الثقافي بين دول الخليج العربية. يكتفى بنقطتين ص ١٣٠

- توحيد المناهج التعليمية وتطويرها.

- إنشاء مكتب التربية العربية ومقره الرياض.

- اجتماع وزراء التربية والتعليم لدول الخليج العربية كل عامين لوضع السياسات التربوية.

٢- أسباب التلوث المائي. يكتفى بنقطتين ص ١٣٦

- مخلفات المصانع . - النفط ومشتقاته . - مياه الصرف الصحي غير المعالجة

- النفايات الخطرة . - مياه الصرف الزراعي . - الأمطار الحمضية .

١٢

السؤال الثالث (مقالى) : يتكون من ( أ - ب - ج ) :-

( أ ) علل لما يأتي :- ٤ درجات

- ١- اهتمام دول الخليج العربية بالتوسع في صناعة التكرير. ص ٩٥  
- لزيادة الكميات المصدرة ، وبالتالي زيادة الدخل القومي .
- ٢- استقبلت منطقة الخليج العربية موجات سكانية من كل المناطق المجاورة. ص ١٠٨  
- بحكم موقعها الجغرافي المهم بين قارات العالم القديم.
- ٣- زيادة الهجرة إلى دول الخليج العربية. ص ١١٠ ، ١١١ .  
يكتفى بنقطتين  
- الأمان والأمان. - ارتفاع الأجور. - السماح للوافدين باصطحاب عائلاتهم.  
- توفر فرص العمل. - توفر الرعاية الصحية.

( ب ) اكتب اثنين فيما يلي مما درست :- ( ٤ = ٢ × ٢ )

- ١- أهم الدول المستوردة للنفط الكويتي. يكتفى بنقطتين  
- هولندا  
- اليابان
- ٢- المؤسسات الاجتماعية التي تسعى لحل المشكلات الاجتماعية في دول الخليج العربية. يكتفى بنقطتين  
- هيئة الشباب والرياضة. - الأندية الصيفية  
- دار القرآن.

( ج ) فرق بين المفاهيم التالية من حيث التعريف : ( ٤ = ١ × ٤ )

احتياطي النفط ص ٨٨	انتاج النفط ص ٨٨
كميات النفط المخزونة في باطن الأرض.	كميات النفط التي يتم استخراجها للاستفادة منها.
الواردات ص ٩٩	الصادرات ص ٩٩
البضائع والسلع التي تشتريها دولنا من الخارج.	السلع والمنتجات التي تبيعها دولنا في الخارج.

تمت الأسئلة ،،،