

تم تحميل هذا الملف من موقع المناهج الكويتية



الملف نموذج اختبار تحصيلي ثاني

[موقع المناهج](#) ⇨ [المناهج الكويتية](#) ⇨ [الصف الثالث](#) ⇨ [رياضيات](#) ⇨ [الفصل الثاني](#)

روابط مواقع التواصل الاجتماعي بحسب الصف الثالث



روابط مواد الصف الثالث على تلغرام

[الرياضيات](#)

[اللغة الانجليزية](#)

[اللغة العربية](#)

[التربية الاسلامية](#)

المزيد من الملفات بحسب الصف الثالث والمادة رياضيات في الفصل الثاني

[وسائل الصف الثالث في مادة الرياضيات](#)

1

[وسائل الصف الثالث في مادة الرياضيات](#)

2

[وسائل الوحدة التاسعة في مادة الرياضيات](#)

3

[مذكرة رائعة في مادة الرياضيات](#)

4

[مذكرة رياضيات للصف الثالث](#)

5



# الاختبار التحصيلي الثاني للصف الثالث

الفصل الدراسي الثاني للعام الدراسي 2024-2025

بنود الاختبار	توزيع درجات الاختبار		درجة الاختبار	مدة الاختبار	موعد الاختبار
	مقالي	موضوعي			
الوحدة العاشرة من البنود : (٦-١٠) إلى (٩-١٠) + الوحدة الحادية عشرة + الوحدة الثانية عشرة	١٥	٥	٢٠ درجة	حصة دراسية	الأسبوع ١٦

إشراف الموجهة الفنية : أ. شيمه المطيري



# نموذج (١) الاختبار التحصيلي الثاني للفصل الثالث في مادة الرياضيات الفصل الدراسي الثاني ٢٠٢٤ / ٢٠٢٥ م



## السؤال الأول :



(ب) حوِّط القطع النقدية التي تحتاجها  
لشراء هذه السلعة :



(أ) أكمل :

٣ أسابيع = \_\_\_\_\_ يوم

٧٠٠ م = \_\_\_\_\_ كم

٦ كجم = \_\_\_\_\_ جم

## السؤال الثاني :



(ب) أوجد الناتج :

$$\begin{array}{r} \square \text{ ب} \\ 7 \overline{) 835} \end{array}$$

(أ) صل بوحدة القياس الأنسب :

- طول قلم الحبر
- المسافة من الرقة إلى قرطبة
- طول حديقة المنزل
- م
- سم
- كم

## السؤال الثالث :



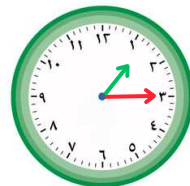
(ب) ارسم عقارب الساعة ثم اكتب الوقت :



الساعة الخامسة إلا ربع

(أ) اكتب الوقت مستخدماً (ق.ظ أو ب.ظ) :



نهاية الدوام المدرسي



يتبع ...

## السؤال الرابع:

أولاً: ظلل (✓) إذا كانت العبارة صحيحة و ظلل (✗) إذا كانت العبارة غير صحيحة :

<input type="checkbox"/>	<input type="checkbox"/>	ساعتان و ربع = ١٤٥ دقيقة .
<input type="checkbox"/>	<input type="checkbox"/>	١٠ سم = ١ دسم

ثانياً: اختر الإجابة الصحيحة بوضع (✓) :

			• اليوم الذي يأتي قبل يوم الأحد مباشرة هو يوم
<input type="radio"/> الاثنين	<input type="radio"/> السبت	<input type="radio"/> الجمعة	
• قيمة ٥ قطع من  هي			
<input type="radio"/> ٣٠٠ فلساً	<input type="radio"/> ٢٥٠ فلساً	<input type="radio"/> ٣٥٠ فلساً	
			$٢٤ = \square \times ٢$
<input type="radio"/> ١٣	<input type="radio"/> ١٢	<input type="radio"/> ١١	

انتهت الأسئلة ...





# إجابة نموذج (أ) الاختبار التحصيلي الثاني للمصف الثالث في مادة الرياضيات الفصل الدراسي الثاني ٢٠٢٤ / ٢٠٢٥ م



## السؤال الأول :



(أ) أكمل :

٣ أسابيع = ٢١ يوم بند (٦-١٢)

٧٠٠ م = ٧ كم بند (٣-١٢)

٦ كجم = ٦٠٠٠ جم بند (٤-١٢)

(ب) حوّل القطع النقدية التي تحتاجها  
لشراء هذه السلعة :



بند (٧-١٢)

## السؤال الثاني :



(أ) صل بوحدة القياس الأنسب :

- طول قلم الحبر : كم  
المسافة من الرقعة إلى قرطبة : م  
طول حديقة المنزل : سم

(ب) أوجد الناتج :

$$\begin{array}{r} \boxed{2} \text{ ب } 119 \\ 7 \overline{) 835} \\ \underline{7 \phantom{0}} \phantom{0} \\ 13 \phantom{0} \\ \underline{07 \phantom{0}} \phantom{0} \\ 65 \phantom{0} \\ \underline{65 \phantom{0}} \phantom{0} \\ 0 \phantom{0} \\ 2 \phantom{0} \end{array}$$

بند (٦-١٠)

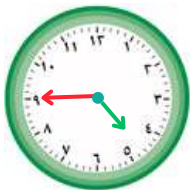
بند (٣-١٢)

## السؤال الثالث :



(أ) اكتب الوقت مستخدماً (ق.ظ أو ب.ظ) :

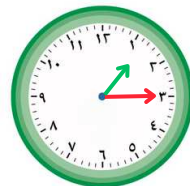
(ب) ارسم عقارب الساعة ثم اكتب الوقت :



الساعة الخامسة إلا ربع

٤:٤٥

بند (٢-١١)



نهاية الدوام المدرسي

١:١٥ ب.ظ

بند (٣-١١)

يتبع ،،،

السؤال الرابع: 

أولاً: ظلل (✓) إذا كانت العبارة صحيحة و ظلل (✗) إذا كانت العبارة غير صحيحة :

<input checked="" type="radio"/>	<input type="radio"/>	بند(٢-١١)	ساعتان و ربع = ١٤٥ دقيقة .
<input type="radio"/>	<input checked="" type="radio"/>	بند(١-١٢)	١٠ سم = ١ دسم

ثانياً: اختر الإجابة الصحيحة بوضع (✓) :

بند(٦-١٢)			• اليوم الذي يأتي قبل يوم الأحد مباشرة هو يوم
<input type="radio"/> الجمعة	<input checked="" type="radio"/> السبت	<input type="radio"/> الاثنين	
بند(٧-١٢)			• قيمة ٥ قطع من  هي
<input type="radio"/> ٣٥٠ فلساً	<input checked="" type="radio"/> ٢٥٠ فلساً	<input type="radio"/> ٣٠٠ فلساً	
بند(٨-١٠)			 $٢٤ = \square \times ٢$
<input type="radio"/> ١١	<input checked="" type="radio"/> ١٢	<input type="radio"/> ١٣	

◆—————◆  
انتهت الأسئلة ،،،



## نموذج (٢) الاختبار التحصيلي الثاني للفصل الثالث في مادة الرياضيات الفصل الدراسي الثاني ٢٠٢٤ / ٢٠٢٥ م



السؤال الأول :



(أ) أوجد الناتج :

$$\begin{array}{r} \square \text{ ب} \\ 3 \overline{) 345} \end{array}$$

(ب) ارسم عقارب الساعة :



17:15

السؤال الثاني :



(أ) أكمل :

(ب) اكتب القيمة :


• \_\_\_\_\_ فلساً



• \_\_\_\_\_ فلساً



\_\_\_\_\_ كجم



\_\_\_\_\_ مل

السؤال الثالث :



(أ) اكتب الوقت بطريقتين مختلفتين :

(ب) أكمل:

• ٣ م = \_\_\_\_\_ دسم

• ٤٠ مم = \_\_\_\_\_ سم

• ٩ كم = \_\_\_\_\_ م



\_\_\_\_\_ .

\_\_\_\_\_ .






يتبع ،،،

السؤال الرابع: 

أولاً: ظلل (✓) إذا كانت العبارة صحيحة و ظلل (✗) إذا كانت العبارة غير صحيحة :

<input type="checkbox"/>	<input type="checkbox"/>	• الساعة ٢ بعد الظهر هي منتصف اليوم.
<input type="checkbox"/>	<input type="checkbox"/>	• الطول = ٣٠ مم 

ثانياً: اختر الإجابة الصحيحة بوضع (✓) :

			$٤٨ = \square \times ٤$
١٢ <input type="checkbox"/>	١١ <input type="checkbox"/>	٩ <input type="checkbox"/>	
قيمة ٨ قطع من  هي			
٢٤٠ فلس <input type="checkbox"/>	١٦٠ فلس <input type="checkbox"/>	١٤٠ فلس <input type="checkbox"/>	
• الأداة المستخدمة لقياس الطول هي :			
 <input type="checkbox"/>	 <input type="checkbox"/>	 <input type="checkbox"/>	

انتهت الأسئلة ...





# إجابة نموذج (٢) الاختبار التحصيلي الثاني للفصل الثالث في مادة الرياضيات الفصل الدراسي الثاني ٢٠٢٤ / ٢٠٢٥ م



## السؤال الأول :



(أ) أوجد الناتج :

$$\begin{array}{r} 1 \text{ ب } 172 \\ 3 \overline{) 345} \\ \underline{3} \phantom{0} \\ 4 \phantom{0} \\ \underline{4} \phantom{0} \\ 0 \phantom{0} \\ \underline{0} \phantom{0} \\ 5 \\ \underline{5} \\ 0 \end{array}$$

(ب) ارسم عقارب الساعة :



17:15

بند (٣-١١)

بند (٦-١٠)

## السؤال الثاني :



(أ) أكمل :

(ب) اكتب القيمة :

٥٠٠ فلساً



٦٠٠ فلساً



بند (٤-١٢)



٦ كجم



٣٠٠ مل

بند (٩-١٢)

بند (٥-١٢)

## السؤال الثالث :



(أ) اكتب الوقت بطريقتين مختلفتين :

(ب) أكمل :

٣ م = ٣٠٠ دسم

٤٠ مم = ٤ سم

٩ كم = ٩٠٠٠ م



١٠:٢٠

العاشرة و الثلث

يتبع ،،،

بند (٢-١٢)

بند (٣-١٢)





بند (٢-١١)

السؤال الرابع: 

أولاً: ظلل (✓) إذا كانت العبارة صحيحة و ظلل (✗) إذا كانت العبارة غير صحيحة :

<input checked="" type="radio"/>	<input type="radio"/>	بند (٣-١١)	• الساعة ٢ بعد الظهر هي منتصف اليوم.
<input checked="" type="radio"/>	<input type="radio"/>	بند (٢-١٢)	• الطول = ٣٠ مم 

ثانياً: اختر الإجابة الصحيحة بوضع (✓) :

بند (٨-١٠)	٤٨ = <input type="text"/> × ٤	
	١٢ <input checked="" type="radio"/>	١١ <input type="radio"/>
بند (٧-١٢)	قيمة ٨ قطع من  هي	
	٢٤٠ فلس <input type="radio"/>	١٦٠ فلس <input checked="" type="radio"/>
بند (١-١٢)	• الأداة المستخدمة لقياس الطول هي :	
	 <input checked="" type="radio"/>	 <input type="radio"/>
		 <input type="radio"/>

انتهت الأسئلة ...

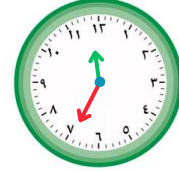


## نموذج (٣) الاختبار التحصيلي الثاني للفصل الثالث في مادة الرياضيات الفصل الدراسي الثاني ٢٠٢٤ / ٢٠٢٥ م



### السؤال الأول :

(أ) اكتب الوقت بطريقتين مختلفتين:



\_\_\_\_\_ .  
\_\_\_\_\_ .

(ب) أوجد الناتج :

$$\begin{array}{r} \square \text{ ب} \\ 3 \overline{) 458} \end{array}$$

موقع  
المناهج الكويتية  
almanahj.com/kw


### السؤال الثاني : أكمل :

(أ)

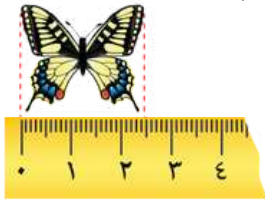
ساعتان = \_\_\_\_\_ دقيقة

٧٥ دقيقة = \_\_\_\_\_ ساعة و \_\_\_\_\_

(ب)



\_\_\_\_\_ كجم .



\_\_\_\_\_ مم .

### السؤال الثالث :

(أ) عد و اكتب القيمة :



\_\_\_\_\_ فلساً .



\_\_\_\_\_ فلساً .

(ب) اكتب رمز العلاقة المناسب (< أو > أو =)

٦ م ○ ٦ دسم

٥ م ○ ٥٠ سم







يتبع ...

السؤال الرابع: 

أولاً: ظلل (✓) إذا كانت العبارة صحيحة و ظلل (✗) إذا كانت العبارة غير صحيحة :

<input type="checkbox"/>	<input checked="" type="checkbox"/>	• في الساعة الواحدة ٦٠ دقيقة .
<input checked="" type="checkbox"/>	<input type="checkbox"/>	• ناتج ضرب عددين أحدهما فردي و الآخر زوجي هو عدد فردي

ثانياً: اختر الإجابة الصحيحة بوضع (✓) :

			٤ أسابيع =
<input type="checkbox"/> ١٤ يوم	<input type="checkbox"/> ٢٨ يوم	<input type="checkbox"/> ٢١ يوم	
اللعبة التي تستطيع شراؤها بـ 			
<input type="checkbox"/> 	<input type="checkbox"/> 	<input type="checkbox"/> 	
قيمة ما جمع وليد من النقود 			
<input type="checkbox"/> ٨ دنانير	<input type="checkbox"/> ٧ دنانير	<input type="checkbox"/> ٥ دنانير	

انتهت الأسئلة ...

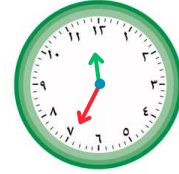


## إجابة نموذج (٣) الاختبار التحصيلي الثاني للفصل الثالث في مادة الرياضيات الفصل الدراسي الثاني ٢٠٢٤ / ٢٠٢٥ م



### السؤال الأول :

(أ) اكتب الوقت بطريقتين مختلفتين:



١١:٣٥

الساعة ١١ و ٣٥ دقيقة .

بند (١-١١)

(ب) أوجد الناتج :

$$\begin{array}{r} 152 \text{ ب } \\ 3 \overline{) 458} \\ \underline{3} \phantom{00} \\ 15 \phantom{0} \\ \underline{15} \phantom{0} \\ 08 \\ \underline{6} \phantom{0} \\ 28 \\ \underline{27} \\ 1 \end{array}$$

بند (٦-١٠)

### السؤال الثاني : أكمل :


(أ)

ساعتان = ١٢٠ دقيقة

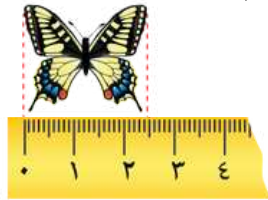
٧٥ دقيقة = ١ ساعة و ربع

بند (٢-١١)

(ب)



١ كجم



٢٥ مم

بند (٤-١٢)

بند (٢-١٢)

### السؤال الثالث :

(أ) عد و اكتب القيمة :



٣٥٠ فلساً



٢٧٥ فلساً

بند (٩-١٢)

(ب) اكتب رمز العلاقة المناسب (< أو > أو =)

٦ م < ٦ دسم

٥٠ سم = ٥ م

بند (٢-١٢)





يتبع ...

السؤال الرابع: 

أولاً: ظلل (✓) إذا كانت العبارة صحيحة و ظلل (✗) إذا كانت العبارة غير صحيحة :

<input checked="" type="checkbox"/>	<input type="checkbox"/>	بند (١٠-١١)	• في الساعة الواحدة ٦٠ دقيقة .
<input checked="" type="checkbox"/>	<input type="checkbox"/>	بند (٧-١٠)	• ناتج ضرب عددين أحدهما فردي و الآخر زوجي هو عدد فردي

ثانياً: اختر الإجابة الصحيحة بوضع (✓) :

بند (٦-١٢)			٤ أسابيع =
<input type="checkbox"/>	<input checked="" type="checkbox"/>	<input type="checkbox"/>	
١٤ يوم	٢٨ يوم	٢١ يوم	
بند (٩-١٢)			
اللعبة التي تستطيع شراؤها بـ			
<input type="checkbox"/>	<input type="checkbox"/>	<input checked="" type="checkbox"/>	
			
بند (٨-١٢)			قيمة ما جمع وليد من النقود
<input checked="" type="checkbox"/>	<input type="checkbox"/>	<input type="checkbox"/>	
٨ دنانير	٧ دنانير	٥ دنانير	

انتهت الأسئلة ،،،



## نموذج (٤) الاختبار التحصيلي الثاني للفصل الثالث في مادة الرياضيات الفصل الدراسي الثاني ٢٠٢٤ / ٢٠٢٥ م



السؤال الأول : 

(أ) أكمل :

ب   $\overline{) 394}$   
3

(ب) أوجد الناتج :

موقع  
المناهج الكويتية  
almanahj.com/kw



مل \_\_\_\_\_



كجم \_\_\_\_\_

السؤال الثاني : 

(أ) أكمل :

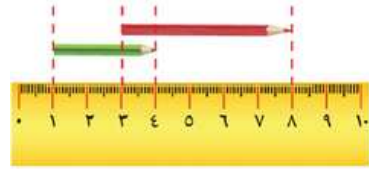
(ب) اكتب قيمة الكل ، ثم حوّل السلعة التي  
يمكن أن تشتريها باستخدام معطيات الصورة :



٧٢٠ فلس

٦١٥ فلس

فلس \_\_\_\_\_



• طول القلم الأحمر = \_\_\_\_\_ سم

• طول القلم الأخضر = \_\_\_\_\_ سم

السؤال الثالث : 

(أ) ارسم عقارب الساعة :

(ب) اكتب الوقت بطريقتين مختلفتين :



\_\_\_\_\_ .  
\_\_\_\_\_ .




10:30

السؤال الرابع: 

أولاً: ظلل (✓) إذا كانت العبارة صحيحة و ظلل (✗) إذا كانت العبارة غير صحيحة :

<input type="checkbox"/>	<input checked="" type="checkbox"/>	٣٥ يوماً = ٦ أسابيع
<input type="checkbox"/>	<input checked="" type="checkbox"/>	مجموع عددين فرديين هو عدد زوجي

ثانياً: اختر الإجابة الصحيحة بوضع (✓) :

<p>موقع المنهج الكويتية almanahj.com/kw</p>			• الأداة المستخدمة لقياس الوزن هي :
	<input type="checkbox"/>		<input type="checkbox"/>
			• الساعة التي تشير عقاربها إلى ٦:٤٠ هي :
	<input type="checkbox"/>		<input type="checkbox"/>
			• قيمة النقود هي 
٨٠٠ فلس	<input type="checkbox"/>	٩٥٠ فلس	<input type="checkbox"/>
			دينار واحد <input type="checkbox"/>

انتهت الأسئلة ،،





# إجابة نموذج (٤) الاختبار التحصيلي الثاني للفصل الثالث في مادة الرياضيات الفصل الدراسي الثاني ٢٠٢٤ / ٢٠٢٥ م



## السؤال الأول :

$$\begin{array}{r} 131 \\ 3 \overline{) 394} \\ \underline{3} \phantom{0} \\ 09 \\ \underline{9} \phantom{0} \\ 04 \\ \underline{3} \phantom{0} \\ 10 \\ \underline{9} \phantom{0} \\ 10 \\ \underline{9} \phantom{0} \\ 1 \end{array}$$

(ب) أوجد الناتج :

بند (٥-١٢)

(أ) أكمل : بند (٤-١٢)



١٠٠ مل



٤ كجم

بند (٦-١٠)

## السؤال الثاني :

(ب) اكتب قيمة الكل ، ثم حوط السلعة التي  
يمكن أن تشتريها باستخدام معطيات الصورة :

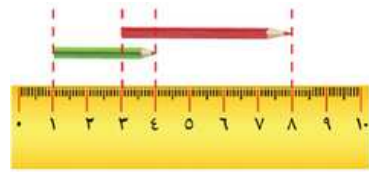
بند (١-١٢)

(أ) أكمل :



٧٢٠ فلس

بند (٩-١٢)



• طول القلم الأحمر = ٥ سم

• طول القلم الأخضر = ٣ سم

## السؤال الثالث :

(ب) اكتب الوقت بطريقتين مختلفتين :

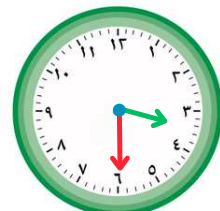
(أ) ارسم عقارب الساعة :

بند (٢-١١)



٢:٢٠

الساعة ٢ و ٢٠ دقيقة



١٥:٣٠

بند (٣-١١)


يتبع ...

السؤال الرابع: 

أولاً: ظلل (✓) إذا كانت العبارة صحيحة و ظلل (✗) إذا كانت العبارة غير صحيحة :

<input checked="" type="checkbox"/>	<input type="checkbox"/>	بند (٦-١٢)	٣٥ يوماً = ٦ أسابيع
<input checked="" type="checkbox"/>	<input type="checkbox"/>	بند (٧-١٠)	مجموع عددين فرديين هو عدد زوجي

ثانياً: اختر الإجابة الصحيحة بوضع (✓) :

بند (٤-١٢)			• الأداة المستخدمة لقياس الوزن هي :
	<input type="checkbox"/>		<input type="checkbox"/>
			<input checked="" type="checkbox"/>
بند (٢-١١)			• الساعة التي تشير عقاربها إلى ٦:٤٠ هي :
	<input type="checkbox"/>		<input checked="" type="checkbox"/>
			<input type="checkbox"/>
بند (٩-١٢)			قيمة النقود هي 
٨٠٠ فلس	<input type="checkbox"/>	٩٥٠ فلس	<input type="checkbox"/>
		دينار واحد	<input checked="" type="checkbox"/>

◆————◆  
انتهت الأسئلة ،،،