

تم تحميل هذا الملف من موقع المناهج الكويتية



منطقة حولي التعليمية

الملف نموذج أسئلة منطقة حولي التعليمية

موقع المناهج ← المناهج الكويتية ← الصف السابع ← اجتماعيات ← الفصل الثاني

روابط مواقع التواصل الاجتماعي بحسب الصف السابع



روابط مواد الصف السابع على تلغرام

[الرياضيات](#)

[اللغة الانجليزية](#)

[اللغة العربية](#)

[التربية الاسلامية](#)

المزيد من الملفات بحسب الصف السابع والمادة اجتماعيات في الفصل الثاني

مذكرة موضوعية محلولة	1
حل الكتاب	2
حل الوحدة الرابعة في مادة الاجتماعيات	3
بنك اسئلة التربية سابع	4
مراجعات الصف السابع	5

السؤال الثالث مقالي ويتكون من (أ - ب - ج) :

(أ) اقرأ الفقرة التالية ثم أجب عما يليها من أسئلة:

التلوث ظاهرة تصيب عناصر البيئة من عدة مصادر منها صناعية ، زراعية ، منزلية ومن أكثر الملوثات إنتشاراً التلوث الكيميائي وتعد هذه الظاهرة من المشكلات التي تهدد الكائنات الحية على سطح الأرض.

١- عرف ما تحته خط .

هو الغبار الذي يلحق بالتراب والهواء والماء. ويسبب التلوث كغبار البسة من
٢- استخرج من الفقرة السابقة ما يلي : عدة مصادر للملوثات

* مصادر تلوث البيئة.

- عوادم السيارات - محطات التحلية - دخان المصانع

٣- ضع عنواناً مناسباً للفقرة السابقة .

(مفتوح)

(ب) قارن بين كل من :

وجه المقارنة	أوبك	أوابك
سنة التأسيس	١٩٦٠ م	١٩٦٨ م
المقر الحالي	فيينا	الكويت

(ج) علل لما يلي :

- ١- تحتل الأغنام العربية مكاناً مهماً ضمن الثروة الرعوية
- الأبقار تنتشر أكثر من الماعز العربية
- الأبقار منتجاتها بالنسبة للكلب
- لأنها مصدر ألبانها من مصادر الثروة الرعوية
- ٢- اختلاف المنتجات الزراعية من دولة عربية إلى أخرى
- تربية الحمير الأصغار على الإنتاج الزراعي (خلطات صناعية وتجارية)
- هناك منتجات... تطلب... وأيضاً... فاصد... حوض البصر المتوسط
- ٣- ارتفاع معدل النمو السكاني في الوطن العربي
- الزيادة الطبيعية (العوامل الديموغرافية)
- الزيادة غير طبيعية (الهجرة)

انتهت الأسئلة مع تمنياتنا لكم بالنجاح والتوفيق

لاحظ الجدول المقابل ثم أجب عن الأسئلة التالية :

الدولة العربية	تقديرات عدد السكان (الف نسمة)
السعودية	٣٠,٧٧٠
البحرين	١,٣٩٩
العراق	٣٦,٠١٥
الكويت	٣,٧١٥

(إحصائية تقديرات عدد السكان في عام ٢٠١٤ م)

ستخرج من الجدول ما يلي :

١- أعلى دولة عربية من حيث عدد السكان.

العراق ٣٦,٠١٥

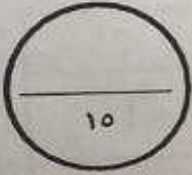
٢- أقل دولة عربية من حيث عدد السكان.

البحرين ١,٣٩٩

٣- ماذا تستنتج من الجدول المقابل ؟

دولة العراق لديها عدد سكان

> دولة البحرين أقل عدد سكاناً

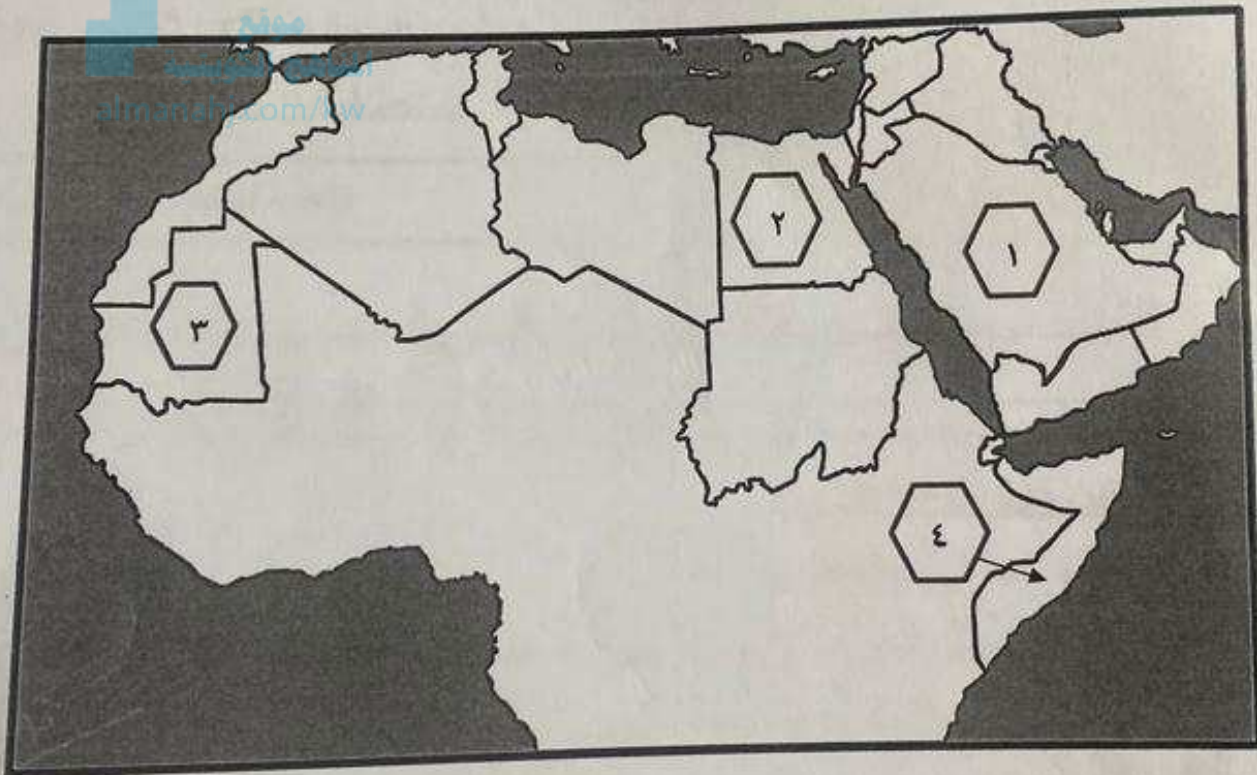


(٨) صنف المحاصيل الزراعية التالية حسب ماهو مطلوب منك في الجدول :

(القطن - الشعير - العنب - القمح - قصب السكر - التمور)

الحبوب الغذائية	الغلات الصناعية تصارية	الفواكه والأشجار
القمح.....	قصب السكر.....	العنب.....
الشعير.....	القطن.....	التمور.....

(٩) أمامك خريطة الوطن العربي - أكتب الرقم الدال على العبارات التالية :



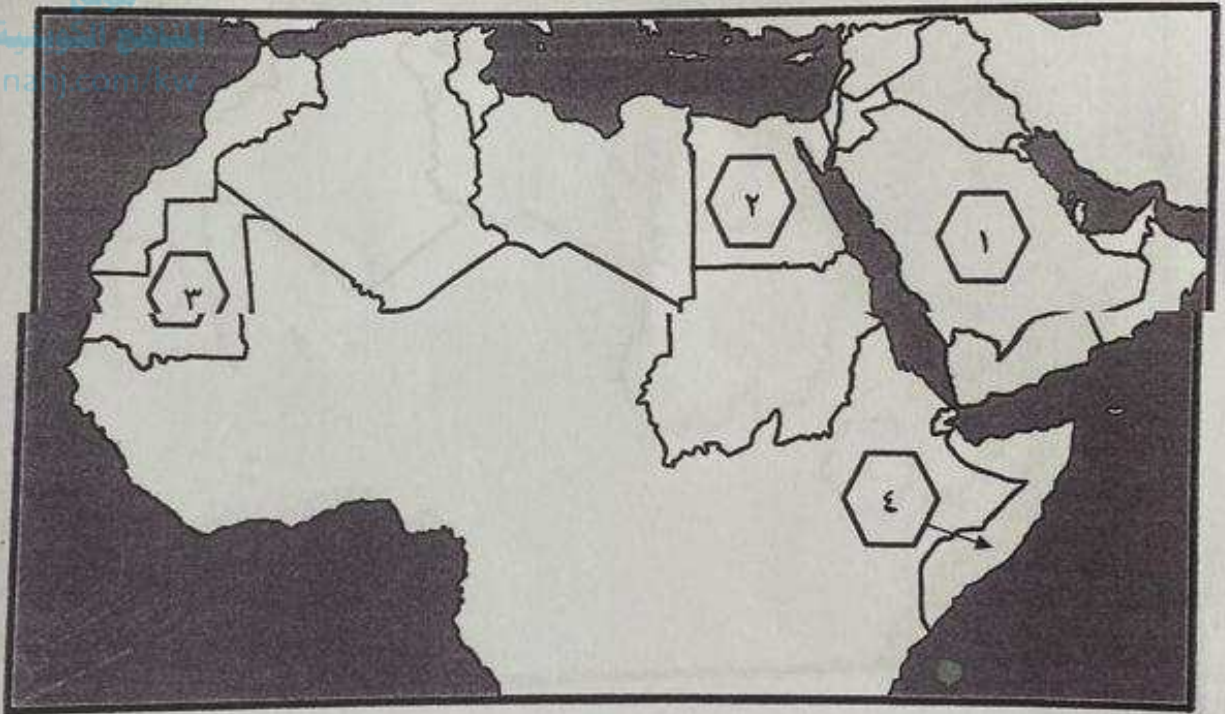
- الدولة الأولى في إنتاج معدن الحديد يمثلها على الخريطة الرقم (٣...)
- دولة تحتل المركز الأول في زراعة القمح يمثلها على الخريطة الرقم (١...)
- دولة تحتل المركز الأول في تربية الإبل يمثلها على الخريطة الرقم (٤...)

صنف المحاصيل الزراعية التالية حسب ماهو مطلوب منك في الجدول :

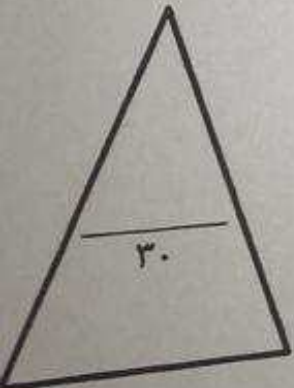
(القطن - الشعير - العنب - القمح - قصب السكر - التمور)

الحبوب الغذائية	الغلات الصناعية تمارة	الفواكه والأشجار
القمح.....	قصب السكر.....	العنب.....
الشعير.....	القطن..... حلاب	التمور.....

(و) أمامك خريطة الوطن العربي - أكتب الرقم الدال على العبارات التالية :



- الدولة الأولى في إنتاج معدن الحديد يمثلها على الخريطة الرقم (٣٠٠..)
- دولة تحتل المركز الأول في زراعة القمح يمثلها على الخريطة الرقم (٣٠٠..)
- دولة تحتل المركز الأول في تربية الإبل يمثلها على الخريطة الرقم (٤٠٠..)

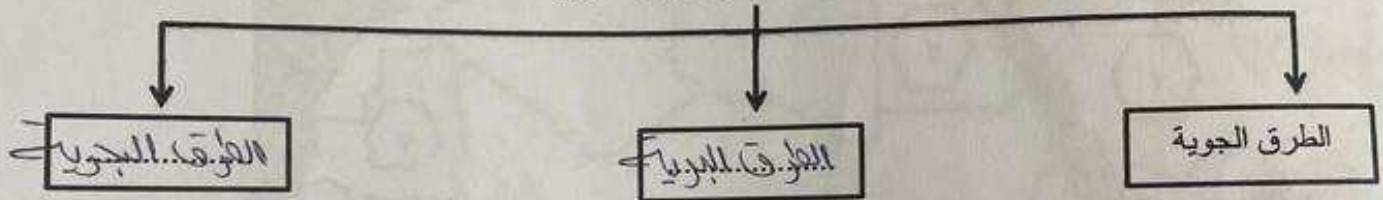


ظلل الحرف (أ) إذا كانت العبارة صحيحة أو الحرف (ب) إذا كانت العبارة خاطئة :


العبارة	(أ)	(ب)
الموارد الطبيعية هي الثروات التي منحها الله لإقليم من دون أن يكون للإنسان أي دور في وجودها		
الثروة المائية في دول الوطن العربي قليلة و محدودة .		
نسبة احتياط النفط الخام في دول الجناح الأفريقي تبلغ ٩٠٪ .		
أكبر تجمع للسكان يكون حول الأنهار والبحار ومصادر المياه .		
المنظمة العربية للتنمية الزراعية من المنظمات العربية التي شاركت فيها دولة الكويت.		

(د) أكمل المخططات السهمية التالية بما يناسبها فيما درست :

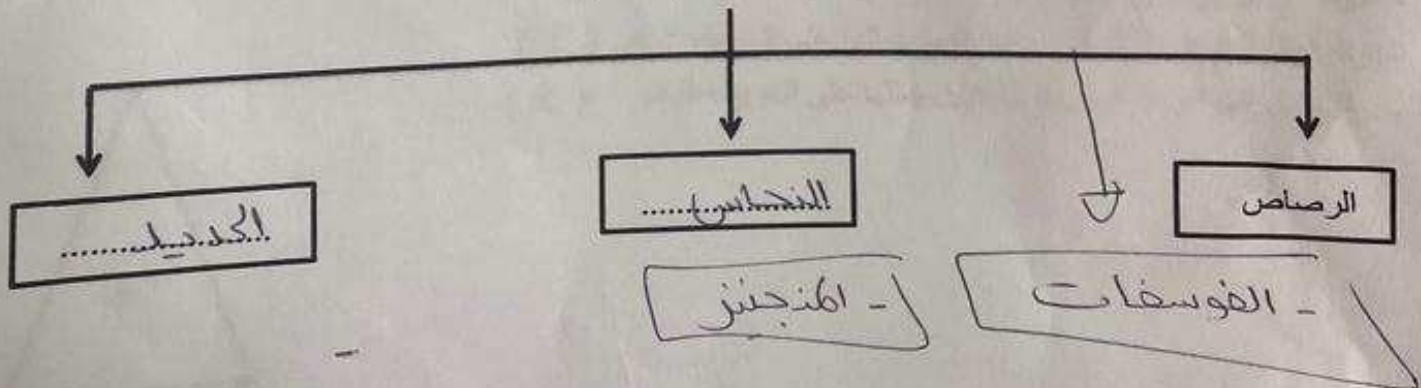
١- طرق النقل في الوطن العربي



٢- مراحل عملية التصنيع



٣- المعادن التي يمتلكها الوطن العربي



سؤال الثاني مقالي ويتكون من (أ - ب - ج) :

(أ) فرق بين كل من :

صناعات تجميعية مثال	صناعات حرفية مثال
هي عمليات تركيب وجمع المواد المصنعية... على يد أشخاص ذوي مهارات عالية... لإنتاج سلع متنوعة.	تتميز بصغر حجمها واستخدام اليد العاملة، وتستخدم مواد أولية محلية وتستخدم على يد الصغار واليهود... وتنتج سلعاً معينة ذات مهارات متخصصة.
التقط مثال	الغاز الطبيعي مثال
تتطلبها عتبات عالية... بناء على... في عصور قديمة... وتحوّلها إلى... والحرارة... الخ.	غاز متاح للنقل... أو... لاستخدامات عديدة.
التبادل التجاري مثال	التجارة البينية مثال
عمليات التصدير والاستيراد بين الدول	التبادل التجاري بين الدول العربية

(ب) اذكر نقطتين حول كل مما يلي :

١٦٤ م

١ - أسباب تدني وفرة المياه في الوطن العربي.

- ١ - النمو السريع للسكان الذي يشكل ضغطاً متزايداً على المياه المتوفرة لكل فرد.
- ٢ - المشكلات التي تواجه التنمية البشرية.

منفذ الاستفادة من القدرات البشرية في المنطقة العربية -
 مشكلة الأمية والتخلف وجمودية مشاركة المرأة في المنظمات السياسية -
 المحاور الرئيسية للتنمية في الوطن العربي - الاختلاف الجغرافي مستويات المعيشة بين رواد التنمية الاقتصادية -
 التنمية المستدامة - التنمية البشرية

- ٣ - الطرق التقليدية المستخدمة في استغلال المياه « استخدام الري بالغمر والاستهلاك غير المسؤول في حالات المياه الشحيحة »
- ٤ - المشكلات المعقدة لنقل المياه شبكات قديمة
- ٥ - افتقار الدول العربية إلى برامج لإدارة المياه، كما أنها لا تستخدم الأدوات الاقتصادية اللازمة



وزارة التربية

الإدارة العامة لمنطقة حولي التعليمية
التوجيه الفني للاجتماعيات

امتحان نهاية الفترة الدراسية الثانية
مقرر / الكويت والوطن العربي
للمصف السابع

العام الدراسي: ٢٠٢٢/٢٠٢٣ م
الزمن: ساعة و ٤٥ دقيقة
عدد الصفحات: (٦)

السؤال الأول موضوعي ويتكون من (أ - ب - ج - د - هـ - و) :

(أ) ظلل الخيار الصحيح من بين الخيارات التي تلي كل عبارة:

١- صاحب المبادرة لعقد المؤتمر الدولي الأول للمانحين لدعم الوضع الإنساني في سوريا عام ٢٠١٣م الشيخ :

صباح السالم الصباح	جابر الأحمد الصباح	صباح الأحمد الصباح	نواف الأحمد الصباح
--------------------	--------------------	--------------------	--------------------

٢- غاز ناتج عن عوادم السيارات ويؤدي إلى ارتفاع متزايد في حرارة الأرض وإلى تغيير مناخي:

أول أكسيد الكربون	أوكسيد الكربون	أكسجين	ثاني أكسيد الكربون
-------------------	----------------	--------	--------------------

٣- العام الذي عقد فيه "مؤتمر قمة الأرض" بمدينة ريو دي جانيرو بالبرازيل :

١٩٩٠م	١٩٩١م	١٩٩٢م	١٩٩٣م
-------	-------	-------	-------

٤- تحتل جمهورية مصر العربية المركز الأول في الإنتاج :

السمكي	الرعي	المعدني	الزراعي
--------	-------	---------	---------

٥- يشكل القطاع الزراعي بالنسبة للاقتصاد العربي نسبة :

٢٠%	٣٠%	٤٠%	٥٠%
-----	-----	-----	-----

(ب) أكمل العبارات التالية بما يناسبها فيما درست :

١- برامج تحسين نوعية الحياة ولا تتحقق إلا بمشاركة جميع المواطنين تسمى التنمية المستدامة.

٢- الغلات التي تزرع بغرض التجارة والحصول على النقد تسمى الغلات النقدية أو الغلات الصناعية.

٣- هجرة الأفراد من دولة إلى دولة أخرى تسمى الهجرة الخارجية.

٤- الدولة الأولى في زراعة العنب بالوطن العربي اسمها مصر.

٥- الطبقة التي تحمي الأرض من الأشعة فوق البنفسجية الضارة تسمى طبقة الأوزون.