

تم تحميل هذا الملف من موقع المناهج الكويتية



التوجيه الفني العام للاجتماعيات

الملف بنك الأسئلة المقرر للتاريخ الإسلامي

موقع المناهج ← المناهج الكويتية ← الصف الحادي عشر الأدبي ← تاريخ ← الفصل الأول

روابط مواقع التواصل الاجتماعي بحسب الصف الحادي عشر الأدبي



روابط مواد الصف الحادي عشر الأدبي على تلغرام

[الرياضيات](#)


[اللغة الانجليزية](#)

[اللغة العربية](#)

[التربية الاسلامية](#)

المزيد من الملفات بحسب الصف الحادي عشر الأدبي والمادة تاريخ في الفصل الأول

مراجعة هامة في مادة التاريخ	1
توزيع مقرر التاريخ لعام	2
مذكرة ثانوية الفارسي في مادة التاريخ	3
نماذج مجمعة لثانوية سلمان الفارسي في مادة التاريخ	4
دليل التاريخ الالكتروني للمرحلة الثانوية	5



وزارة التربية
التوجيه الفني العام للاجتماعيات

بنك الأسئلة
لمقرر (التاريخ الإسلامي)
لنهاية الفترة الدراسية الأولى
العام الدراسي 2022 / 2023 م

إشراف

الموجه الفني الأول

أ. أحمد الشيخة

الموجه الفني الأول للاجتماعيات

أحمد الشيخة

إعداد

الموجه الفني

أ. وليد خميس

الإشراف العام
الموجه الفني العام للاجتماعيات
الأستاذة / إيمان السويحل

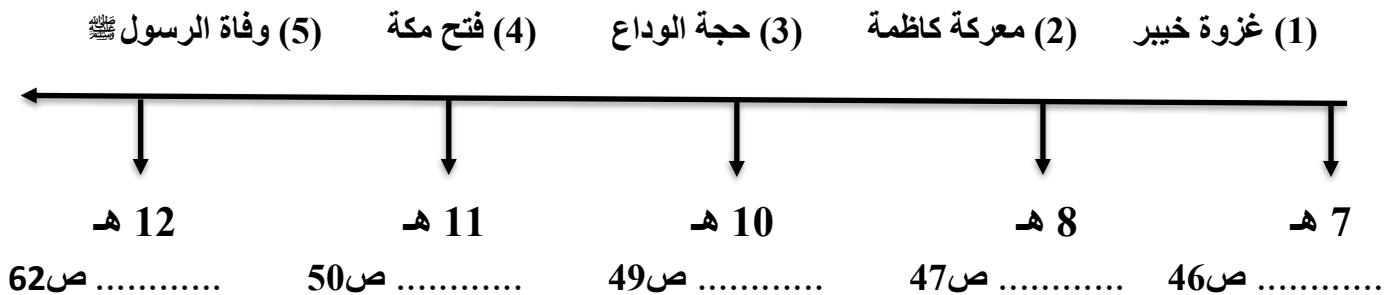
الموجه الفني العام للاجتماعيات

أ. إيمان السويحل

أكمل العبارات التالية بما يناسبها مما درست:

- المنطقة التي ظهر فيها المتنبي الأسود العنسي اسمها ص 58
- الاسم الذي أطلق على اليوم الثالث لمعركة القادسية ص 66
- العام الذي وقعت فيه معركة أجنادين ص 63
- أول ديوان في الإسلام يسمى ص 77
- الغار الذي نزل فيه جبريل عليه السلام بالوحي على الرسول صلى الله عليه وسلم يسمى ص 26
- القرية التي بُني فيها أول مسجد في الإسلام اسمها ص 32
- المدينة التي رفض سكانها من قبائل هوازن وثقيف الدعوة الإسلامية اسمها ص 30
- النظام السياسي الأكثر انتشاراً في شبه الجزيرة العربية قبيل ظهور الإسلام يسمى ص 15
- عاصمة الفرس التي سقطت بيد المسلمين عام 16 هـ اسمها ص 67
- الملك الذي مزق كتاب الرسول صلى الله عليه وسلم الذي يدعو فيه للإسلام اسمه ص 45
- الغزوة التي تحالفت فيها القبائل العربية مع قريش ضد المسلمين تسمى ص 42
- زعيم قريش الذي نظم رحلتي الشتاء والصيف اسمه ص 16
- يطلق على العام الذي ولد فيه الرسول صلى الله عليه وسلم اسم ص 21
- القائد الذي أرسل لقتال كسرى في حلوان اسمه ص 67
- آخر الحروب التي وقعت بين الأوس والخزرج تسمى ص 35
- قائد جيش الكفار في غزوة بدر اسمه ص 39
- الصحابي الذي أعطي سوارى كسرى بعد فتح المدائن اسمه ص 67
- البلدة التي تنبأ فيها الراهب بحيرا بالشأن العظيم لمحمد صلى الله عليه وسلم اسمها ص 23

أعد ترتيب الأحداث التاريخية التالية ترتيباً تصاعدياً في الخط الزمني التالي:



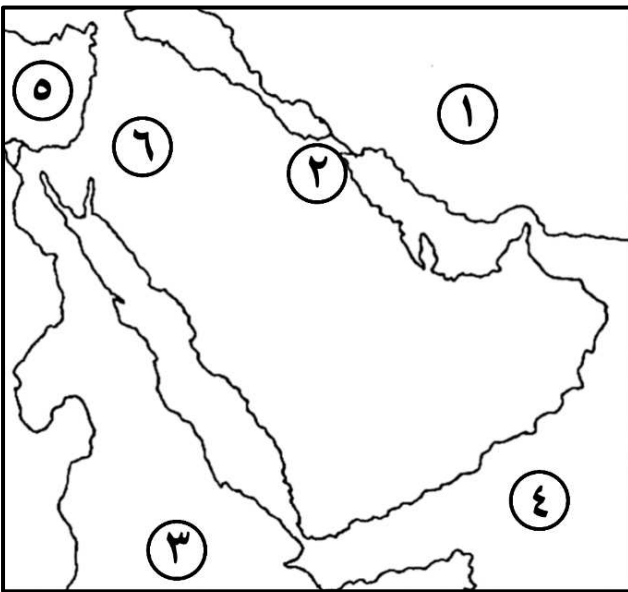
ضع خطأً تحت الخيار الصحيح من بين الخيارات التي تلي كل عبارة:

- 1- الفترة الزمنية التي تولى فيها أبو بكر الصديق الخلافة: ص55
أ- (11 - 13 هـ) ب- (13 - 23 هـ) ج- (23 - 35 هـ) د- (35 - 40 هـ)
- 2- من أهم الأحداث التي وقعت في العام الثامن للهجرة: ص46
أ- غزوة خيبر ب- فتح مكة ج- بيان براءة د- وفاة الرسول ﷺ
- 3- تشير الآية القرآنية (لَقَدْ رَضِيَ اللَّهُ عَنِ الْمُؤْمِنِينَ إِذْ يُبَايِعُونَكَ تَحْتَ الشَّجَرَةِ) إلى بيعة: ص43
أ- العقبة الأولى ب- العقبة الثانية ج- الرضوان د- السقيفة
- 4- القائد الذي استحدث طريقة تقسيم الجيش إلى كتائب: ص68
أ- سويد بن مقرن ب- عكرمة بن أبي جهل ج- خالد بن الوليد د- المقداد بن الأسود
- 5- اتسمت المرحلة الثانية للدعوة الإسلامية بأنها: ص28
أ- سرية ب- استمرت 3 سنوات ج- خاصة بأقرباء النبي د- جهرية
- 6- العمل الذي قام به قصي بن كلاب: ص21
أ- السقاية والرفادة ب- أعاد حفر بئر زمزم ج- اللواء في الحرب د- توحيد قريش
- 7- الرجل الذي دخل الرسول ﷺ في حمايته بعد عودته من الطائف: ص30
أ- عبدالله بن حنش ب- العباس بن عبد المطلب ج- المطعم بن عدي د- مصعب بن عمير
- 8- لقب الخليفة عمر بن الخطاب: ص65
أ- العتيق ب- أبو حفص ج- ذي النورين د- الفاروق
- 9- زوجة الرسول وأم جميع أبناءه ما عدا إبراهيم: ص23
أ- عائشة بنت أبي بكر ب- خديجة بنت خويلد ج- ميمونة بنت الحارث د- سودة بنت زمعة
- 10- مدينة في العراق كانت مخزناً لغلل الفرس: ص62
أ- الأنبار ب- الحيرة ج- النمارق د- المذار
- 11- نزل الوحي على الرسول ﷺ وهو في سن: ص26
أ- الخامسة والعشرين ب- الثلاثين ج- الخامسة والثلاثين د- الأربعين

انسب المقولات التاريخية التالية لقائلها في الجدول التالي:

القائل	العبرة
	(السلام عليك يا سورية سلاماً لا لقاء بعده) ص70
	(كان عمر أعلمنا بكتاب الله وأفقهنا في دين الله) ص65
	(من كان يعبد محمداً فإن محمداً قد مات، ومن كان يعبد الله فالله حي لا يموت) ص55
	(إنا لا نكذبك لكن نكذب ما جئت به) ص26
	(اذهب يا ابن اخي فافعل ما أحببت وحدث بما شئت) ص29
	(لقد شهدت في دار عبدالله بن جدعان حلفاً ما أحب أن لي به حمر النعم) ص24
	(جنتك بقوم يحبون الموت كما تحبون الحياة) ص62
	(فارجع به إلى بلده واحذر عليه من اليهود) ص23

لاحظ خريطة شبه الجزيرة العربية ثم اكتب الرقم الدال على العبارات التالية:



- بحر العرب يمثلته الرقم ص19
- معركة كاظمة يمثلها الرقم ص62
- الحبشة يمثلها الرقم ص29
- بحر الروم يمثلته الرقم ص71
- غزوة مؤتة يمثلها الرقم ص38
- الدولة الفارسية يمثلها الرقم ص62

ظل العنصر الذي لا ينتمي لكل مجموعة من المجموعات التالية:

1- معارك وقعت في عهد الخليفة أبوبكر الصديق. ص73

بزاخة	حديقة الموت	عين شمس	ذات السلاسل
-------	-------------	---------	-------------

2- الأنشطة الاقتصادية التي مارسها العرب قبل ظهور الإسلام. ص16+17

الرعي	التجارة	الزراعة	الصناعة
-------	---------	---------	---------

موقع
المنهج الكويتية
almanhaj.com/kw

3- قادة فتح الغرب. ص66

عمرو بن العاص	سعد بن أبي وقاص	يزيد بن أبي سفيان	شريحيل بن حسنة
---------------	-----------------	-------------------	----------------

4- أعمال الخليفة عمر بن الخطاب. ص64

وضع التاريخ الهجري	جمع القرآن الكريم	تدوين الدواوين	تمصير الأمصار
--------------------	-------------------	----------------	---------------

5- طبقات المجتمع العربي قبل ظهور الإسلام. ص18

التجار	الأحرار	الموالي	العبيد
--------	---------	---------	--------

صنف الشخصيات التالية وفقاً للأحداث التاريخية المرتبطة بها في الجدول الذي يليها:

(عثمان بن عفان – أبو عبيد الثقفي – ورقة بن نوفل – سجاح – الزبير بن العوام)

حركة الردة ص58	معركة الجسر ص62	نزول الوحي ص26	صلح الحديبية ص43	فتح مصر ص73

عرف المفاهيم والمصطلحات التالية:

- العرب: ص13
- العرب البائدة: ص13
- العرب العاربة: ص13
- العرب المستعربة: ص13
- القبيلة: ص15
- طبقة العرب الصرحاء: ص18
- طبقة الموالي: ص18
- طبقة العبيد: ص18
- زواج المقت: ص18
- الجاهلية: ص18
- الوثنية: ص19
- المتحنفين: ص19
- المعلقات: ص19
- عام الحزن: ص30
- السرية: ص37
- الخلافة: ص53
- الردة: ص58
- المتنبية: ص58
- عام الرمادة: ص78

فرق بين كل مما يلي:

مكانة المرأة بالبادية في الجاهلية ص18	مكانة المرأة بالنظام الملكي في الجاهلية ص18
.....
.....

أعمال الرسول ﷺ قبل البعثة ص22-24	أعمال الرسول ﷺ في المدينة المنورة ص34-36
.....
.....
.....

أسباب غزوة بدر لدى المسلمين ص39	أسباب غزوة بدر لدى الكفار ص41
.....
.....

أفضال المهاجرين في الإسلام ص56	أفضال الأنصار في الإسلام ص56
.....
.....
.....

أسباب حركة الفتوحات الإسلامية الدينية ص61	أسباب حركة الفتوحات الإسلامية السياسية
.....
.....

قارن بين كل من حسب المطلوب:

غزوة مؤتة ص46	غزوة خيبر ص46	أوجه المقارنة
.....	العام
.....	الأسباب
.....	النتائج

موقع
المنهج الكويتي

almanahj.com/kw

معركة القادسية ص66	معركة أجنادين ص63	أوجه المقارنة
.....	قائد جيش المسلمين
.....	الأطراف
.....	النتائج

بيعة السقيفة ص55+56	بيعة الشجرة ص43	أوجه المقارنة
.....	العام
.....	المضمون

غزوة أحد ص41	غزوة بدر ص39+41	أوجه المقارنة
.....	عدد جيش المسلمين
.....--	النتائج
.....--	

عدد كل مما يلي:

ص 28-30

1- أساليب مقاومة قريش للدعوة الإسلامية.

..... -
..... -
..... -

ص 37

2- مهام السرية.

..... -
..... -
..... -

موقع
المنهج الكويتي
www.almanhaj.com/kw

ص 36

3- بنود الصحيفة التي وضعها الرسول ﷺ في المدينة المنورة.

..... -
..... -
..... -

ص 44

4- بنود صلح الحديبية.

..... -
..... -
..... -

ص 74

5- شروط الصلح بين المقوقس حاكم مصر وعمرو بن العاص.

..... -
..... -
..... -

ص 75

6- العوامل الحربية التي ساعدت المسلمين على الانتصار على الفرس والروم.

..... -
..... -
..... -

برهن على صحة العبارات التالية:

1- يعتبر صلح الحديبية نصراً عظيماً للمسلمين. ص45

..... -
..... -
..... -

2- ضرب الأنصار أروع الأمثلة في التضحية والإيثار في استقبال المهاجرين بالمدينة. ص35

موقع
المنهج الكويتي
almanhaj.com/kw

..... -
..... -

3- تميز الرسول ﷺ بشخصية فذة جعلته قائداً للأمة. ص36

..... -
..... -
..... -

فند العبارات التالية:

1- تمتعت الدولة البيزنطية باستقرار أوضاعها الداخلية قبيل حركة الفتوحات الإسلامية. ص75

..... -
..... -
..... -

2- أسفرت معركة اليرموك عن نتائج سلبية على الجيش الإسلامي. ص70

..... -
..... -

3- لم تكن شبه الجزيرة العربية مهياًة لتقبل رسالة الإسلام. ص20

..... -
..... -
..... -

علل لما يلي:

1- معارضة قريش للدعوة الإسلامية. ص28

..... -
..... -
..... -

2- اتفاق قريش مع جميع القبائل على قتل الرسول ﷺ. ص23

..... -

موقع
المنهج الكويتي
almanhaj.com/kw

3- وضع النبي ﷺ للصحيفة في المدينة المنورة. ص36

..... -
..... -

4- هزيمة المسلمين في غزوة أحد. ص42

..... -

5- أصبح المسلمون في حل من صلح الحديبية بعد أقل من سنتين من عقده. ص47

..... -

6- تسمية دولة الخلفاء المسلمين بهذا الاسم. ص53

..... -
..... -

7- قيام حركة الردة في أواخر أيام النبي ﷺ. ص58

..... -
..... -

8- صعوبة فتح العراق. ص68

..... -
..... -

9- امتدت فترة حصار المسلمين لحصن بابلين في مصر إلى عدة أشهر. ص74

..... -
..... -

كون فقرة تاريخية مترابطة مستعيناً بالكلمات التالية:

1- (سرية نخلة - قافلة قريش - الشهر الحرام) ص37

.....

.....

.....

2- (عام 621 م - 12 رجلاً - مصعب بن عمير) ص31



.....

.....

.....

3- (صلح الحديبية - قبيلة بكر - 10 آلاف مسلم) ص47

.....

.....

.....

4- (أبوبكر الصديق - جيش أسامة - معارضة الصحابة) ص57

.....

.....

.....

5- (القدس - شهرين - عمر بن الخطاب) ص70

.....

.....

.....

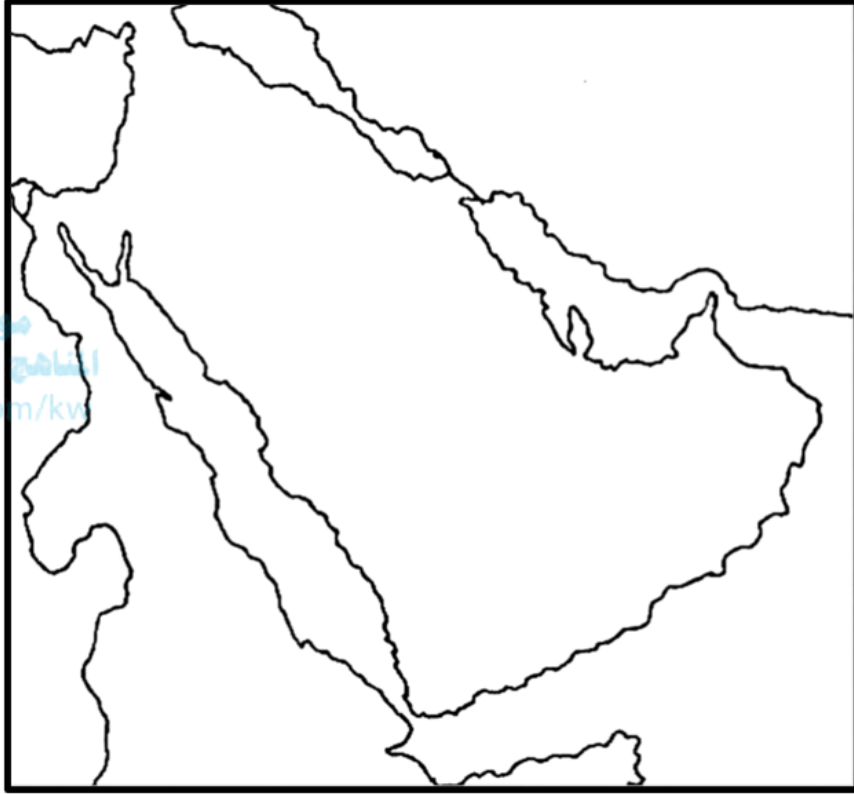
6- (مصر - الغلال - الصراع المذهبي) ص73

.....

.....

.....

لاحظ خريطة شبه الجزيرة العربية ثم نفذ المطلوب منك:



- 14ص - ظلل بحر الروم
- 13ص - حدد بحر القلزم الرمز (▲)
- 62ص - عين موقع عاصمة الفرس بالرمز (●)
- 68ص - حدد موقع معركة اليرموك بالرمز (X)
- 58ص - ضع دائرة على موقع ظهور المنتبى لقيط بن مالك
- 29ص - تتبع خط هجرة المسلمين الأولى إلى الحبشة بالرمز (←)

ارسم مخططاً سهماً لكل مما يلي:

1- الممالك العربية في جنوب شبه الجزيرة العربية قبل ظهور الإسلام. ص15



2- أنظمة الحكم السياسية في شبه الجزيرة العربية قبيل ظهور الإسلام. ص15

3- مراحل الدعوة الإسلامية. ص27+28

4- المشاكل التي واجهت الخليفة أبوبكر الصديق في بداية حكمه. ص55 - ص58

5- القبائل التي ينتسب لها الخلفاء الراشدين. ص53

أجب عن الأسئلة التالية:

59ص

1- ما أوجه الشبه بين معركتي بزاخة وعقرباء؟

..... -
..... -
..... -

68ص

2- لماذا سميت معركة نهاوند بفتح الفتوح؟

موقع
المناهج الكويتية
almanahi.com/kw

..... -
..... -

14ص

3- كيف تصف شبه الجزيرة العربية جغرافياً؟

..... -
..... -
..... -

31ص

4- بماذا اختلفت بيعة العقبة الثانية عن الأولى؟

..... -
..... -

34ص

5- لماذا قام الرسول ﷺ ببناء المسجد فور وصوله المدينة المنورة؟

..... -
..... -

40ص

6- كيف استخدم الرسول ﷺ مهارته في التخطيط لغزوة بدر؟

..... -
..... -
..... -

7- ما هي الأدلة التي ساقها عمر بن الخطاب في السقيفة لأحقية أبوبكر الصديق بالخلافة؟ ص 56

..... -
..... -
..... -