

تم تحميل هذا الملف من موقع ملفات الكويت التعليمية



[com.kwedufiles.www//:https](https://www.kwedufiles.com)

\*للحصول على أوراق عمل لجميع الصفوف وجميع المواد اضغط هنا

\* للحصول على أوراق عمل لجميع مواد الصف الخامس اضغط هنا

<https://kwedufiles.com/5>

\* للحصول على جميع أوراق الصف الخامس في مادة اجتماعيات وجميع الفصول, اضغط هنا

<https://kwedufiles.com/5social>

\* للحصول على أوراق عمل لجميع مواد الصف الخامس في مادة اجتماعيات الخاصة بـ الفصل الأول اضغط هنا

<https://www.kwedufiles.com/5social1>

\* لتحميل كتب جميع المواد في جميع الفصول للصف الخامس اضغط هنا

<https://www.kwedufiles.com/grade5>

[bot\\_kwlinks/me.t//:https](https://t.me/bot_kwlinks)

للحصول على جميع روابط الصفوف على تلغرام وفيسبوك من قنوات وصفحات: اضغط هنا

الروابط التالية هي روابط الصف الخامس على مواقع التواصل الاجتماعي

مجموعة الفيسبوك

صفحة الفيسبوك

مجموعة التلغرام

بوت التلغرام

قناة التلغرام

رياضيات على التلغرام



وزارة التربية



الإدارة العامة لمنطقة العاصمة التعليمية

# معلومات

# الاجابة



السؤال الأول : (موضوعي ) ويتكون من ( أ - ب - ج - د - هـ ) :- ( درجة لكل سؤال = ٢٤ درجة )

( أ ) ظلل الإجابة (ص) إذا كانت العبارة صحيحة والإجابة (خ) إذا كانت العبارة خاطئة لكل مما يلي :

الرقم	العبارة	الإجابات
١-	المحيط هو مسطح كبير جدا من الماء المالح . ص ١٩	ص خ
٢-	قارة أمريكا الشمالية أكبر قارات العالم مساحة وأكثرها سكانا . ص ٢١	ص خ
٣-	تقع بلادي الكويت في وسط العالم الاسلامي . ص ٣٠	ص خ
٤-	العمل التطوعي هو استخدام الموارد المتاحة بالشكل الأمثل . ص ٦٤	ص خ
٥-	تقع بلادي الكويت في الجنوب الغربي لشبه الجزيرة العربية . ص ٢٣	ص خ
٦-	تتميز الحيوانات البرية في الكويت بقدرتها على التكيف مع الظروف البيئية القاسية . ص ٤٨	ص خ

(ب) اختر البديل الصحيح من بين البدائل التي تلي كل عبارة مما يلي :

١- الحاكم الذي تم تصدير أول شحنة من النفط الخفيف عالي الجودة في عهده عام ٢٠١٨م اسمه الشيخ : ص ٦٠  
أ - احمد الجابر الصباح      ب - عبدالله السالم الصباح      ج - صباح السالم الصباح      د - صباح الأحمد الصباح

٢- مسطح مائي أصغر من المحيط يفصل بين القارات يعرف بإسم : ص ١٩

أ - الخليج      ب- البحر      ج- البحيرة      د- المضيق

٣- اكتشف النفط الخفيف العالي الجودة في حقل كويتي يسمى : ص ٦٠

أ - المقوع      ب - برقان      ج - الصابرية      د - بحرة

٤ - عدد دول الوطن العربي يبلغ : ص ٢٦

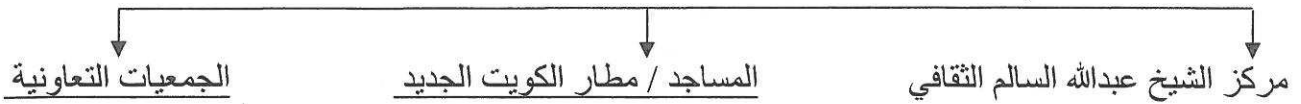
أ - ٢٢ دولة      ب - ٣٢ دولة      ج - ٤٢ دولة      د - ٥٢ دولة

٥ - نوع من النباتات المعمرة ( الدائمة ) التي تنمو في بلادي الكويت اسمه : ص ٤٢

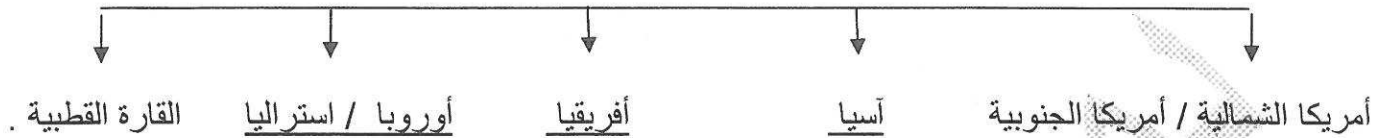
أ - العرفج      ب - الخزامى      ج - الربلة      د - الكمأ

( ج ) اكمل المخططات السهمية التالية :

١- المنشآت التي استخدمت فيها دولة الكويت الطاقة الشمسية لترشيد استهلاك الكهرباء. ص ٨٢



٢- قارات العالم . ص ٢١



٣- أهم مناطق تربية الحيوانات في بلادي الكويت . ص ٥١



( د ) اقرأ كل عبارة مما يلي ثم اكتب " من أنا ؟ " في الفراغات التالية :

١- أنا أعتبر مصدر الطاقة الأساسي والأول في العالم .

النفط ص ٥٥

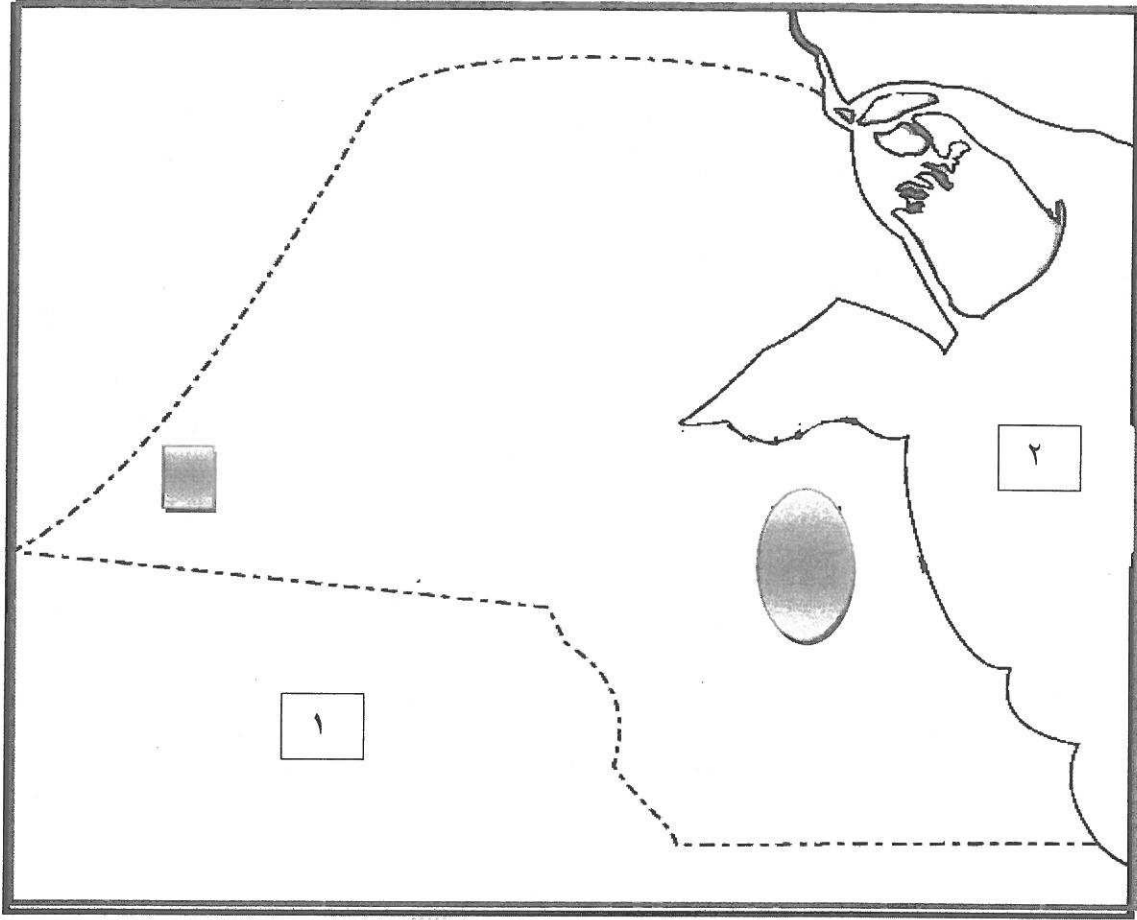
٢- أنا المكان الذي نعيش فيه ونمارس فيه نشاطاتنا المختلفة



البيئة ص ٦٣

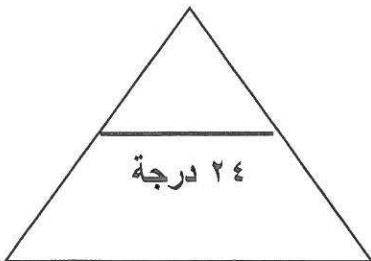
٣- أنا أقدم مصادر الطاقة التي عرفها الإنسان ويستخدموني حديثا في توليد الكهرباء .

الرياح ص ٧٦

( هـ ) لاحظ خريطة دولة الكويت ، ثم استعن بالمدلولات التي عليها لإكمال العبارات التالية :



- الخليج العربي يمثله على الخريطة الرقم ٢ . ص ٥١
- حقل برقان يمثله على الخريطة الشكل  . ص ٦١
- منطقة الشقايأ أحد مناطق تربية الثروة الحيوانية في دولة الكويت يمثله الشكل  . ص ٥١



مجموع درجات السؤال الأول -----

**السؤال الثاني : ( مقال ) يتكون من ( أ - ب - ج ) :**

**( أ ) أجب على الاسئلة التالية : ( نصف درجة لكل إجابة = ٣ درجات ) ( يكتفى بنقطتين )**

- ١- ماهي استخدامات النفط . ص ٥٥
  - استخدم في الإضاءة والتدفئة . / مشتقاته مثل البنزين والكيروسين .
  - يستخدم في تشغيل المصانع وتحريك وسائل النقل المختلفة .
- ٢- أذكر الأدوات القديمة التي كان يستخدمها الكويتيون في صيد الأسماك . ص ٥٣ .
  - الحضرة / القرقور
  - الشباك
- ٣- ماهي الخصائص التي يتميز بها الغاز الطبيعي . ص ٧٨
  - آمن جدا وصديق للبيئة . / يعد من الغازات غير السامة .
  - أكثر أنواع الطاقة استخداما / ليس له رائحة ولا لون .

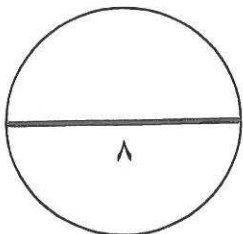
**( ب ) علل ما يلي ( اذكر السبب ) :**

- ١- سميت دول الخليج العربية بهذا الاسم . ص ٢٣
  - لأنها تطل على مسطح مائي يسمى الخليج العربي .
- ٢- تنمو معظم النباتات في فصل الربيع وتقل في فصل الصيف . ص ٤٢
  - شدة الحرارة / قلة الأمطار
  - فقر التربة .

**( ج ) عرف ما يلي في الجدول التالي :**

الطاقة ص ٧٣	الموارد الطبيعية ص ٣٨
القدرة على القيام بعمل معين .	كل ما أوجده الله في الطبيعة دون أن يكون للإنسان دخل في وجودها .

مجموع درجات السؤال الثاني -----





**السؤال الثالث : ( مقال ) يتكون من ( أ - ب - ج ) :**

**( أ ) عدد ( اثنين ) لكل مما يلي : ( نصف درجة لكل إجابة = ٣ درجات ) ( يكتفى بنقطتين )**

١- أنواع الأسماك التي تتميز مياه الخليج العربي بوفرتها . ص ٥٣

أ - الزبيدي / الهامور  
ب - الميد / الشعم / الربيان

٢- أهمية النباتات الطبيعية . ص ٤٢

أ - رعي الحيوانات / الحصول على الاخشاب والوقود  
ب - صناعة الادوية والصابون .

٣- جهود دولة الكويت في المحافظة على الثروة السمكية. ص ٥٤


أ - تحديد مواسم صيد الأسماك / سن القوانين .  
ب - منع الدولة لبعض أنواع أدوات صيد الأسماك / الاهتمام باستزراع الأسماك .

**( ب ) قارن بين كل مما يلي حسب المطلوب في الجدول التالي : ص ٧٣ - ( ٣ درجات )**

المقارنة	الطاقة المتجددة	الطاقة غير المتجددة
المفهوم	هي التي لا تنتهي ولا تنفذ وتسمى الطاقة النظيفة . درجة	هي التي تنتهي ولا يمكن تعويضها في زمن قصير . درجة
المصادر	-الرياح / المياه / الشمس ( نصف درجة / يكتفى بنقطة )	- الفحم / النفط / الغاز الطبيعي ( نصف درجة / يكتفى بنقطة )

**( ج ) استعن بالدائرة البيانية ثم نفذ المطلوب : ص ١٧ ( درجة لكل إجابة = درجتين )**

١- تمثل نسبة مساحة الماء على الكرة الارضية. ٧٠ %



٢- تمثل نسبة مساحة اليابس على الكرة الارضية. ٣٠ %

مجموع درجات السؤال الثالث -----

انتهت الاجابة ،،،،