

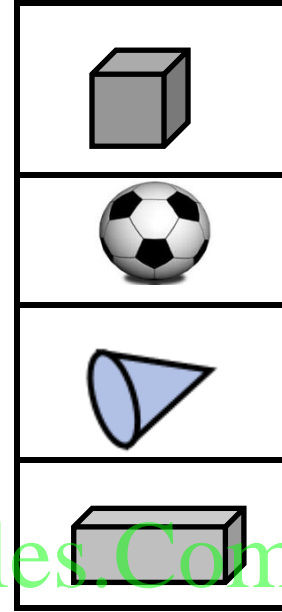


الأستاذ حسين المعاني
للمزيد من أوراق العمل انضموا
إلى قناة الأستاذ حسين المعاني
على اليوتيوب وادخل قوائم
التشغيل واختار الصف الثاني



السؤال الأول: صل الاشكال بأسمائها:


شبة مكعب
مخروط
مكعب
كرة



WWW.KweduFiles.Com

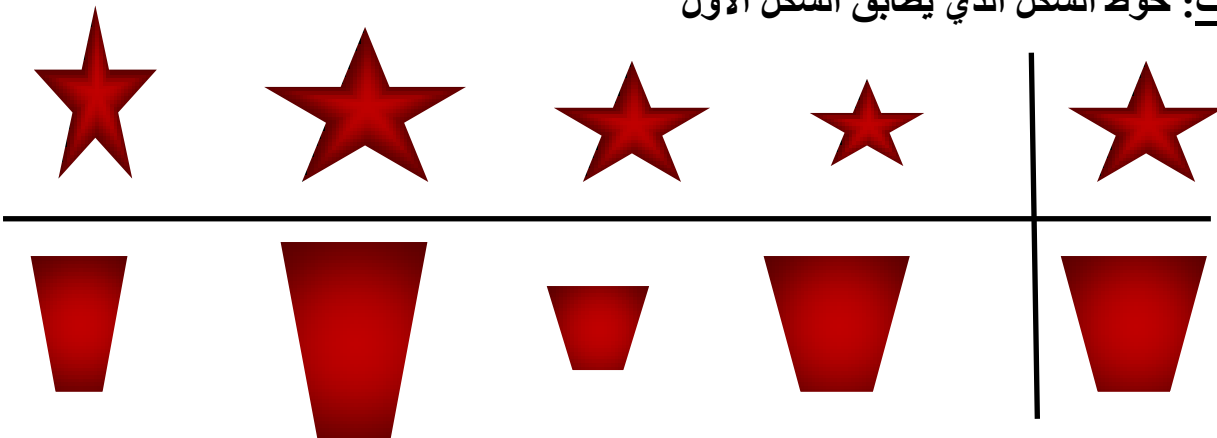



اسم الشكل.....
عدد الرؤوس.....
عدد الاضلاع.....



السؤال الثاني : أكمل
اسم الشكل.....
عدد الرؤوس.....
عدد الاضلاع.....

السؤال الثالث: حوط الشكل الذي يطابق الشكل الأول





إِسْمُ الشَّكْلِ
عَدَدُ الرَّؤُوسِ
عَدَدُ الْأَضْلَاعِ



إِسْمُ الشَّكْلِ
عَدَدُ الرَّؤُوسِ
عَدَدُ الْأَضْلَاعِ

اِسْتِخْدِمِ الْمُجَسَّمَاتِ، اكْمِلِ:

			
			إِسْمُ الْمَجَسَّمِ
			عَدَدُ الْأَوْجِهَةِ
			عَدَدُ الرَّؤُوسِ
			عَدَدُ الْأَحْرَفِ

WWW.KweduFiles.Com

WWW.KweduFiles.Com