

تم تحميل هذا الملف من موقع المناهج الكويتية



مدرسة الملا سليمان محمد السليماناً. بنين

الملف تعلم مهارة الطرح

[موقع المناهج](#) ← [المناهج الكويتية](#) ← [الصف الأول](#) ← [رياضيات](#) ← [الفصل الثاني](#)

روابط مواقع التواصل الاجتماعي بحسب الصف الأول



روابط مواد الصف الأول على تلغرام

[الرياضيات](#)

[اللغة الانجليزية](#)

[اللغة العربية](#)

[التربية الاسلامية](#)

المزيد من الملفات بحسب الصف الأول والمادة رياضيات في الفصل الثاني

اوراق عمل	1
مذكرة الوحدة السابعة	2
توزيع مقترح لمنهج الرياضيات	3
اوراق عمل	4
نموذج اختبار أول	5



١

الصف الأول

المهارات الأساسية

almanahj.com/kw

الطرح

٣

يتعرف المتعلم في هذه المهارة على :


- يتعرف مفهوم الطرح .
- يوجد ناتج الطرح عن طريق شطب بعض العناصر .
- يطرح عددين مكون رمز كل منهما من رقمين على الأكثر .
- يطرح مستخدماً خط الأعداد .
- يربط بين الجمع والطرح .
- يوظف القاعدة لإكمال الناقص .





مهارة الطرح المستوى الأول

١



$$\square = \square - \square$$



١. أكمل:

$$\square = \square - \square$$

٢. اشطب لتطرح:

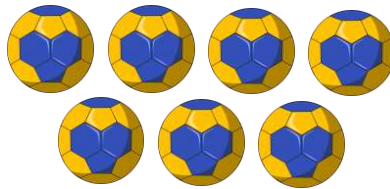
٤



١ -



\square



$$\square = 2 - 7$$



$$\square = 3 - 6$$



$$\square = 7 - 12$$

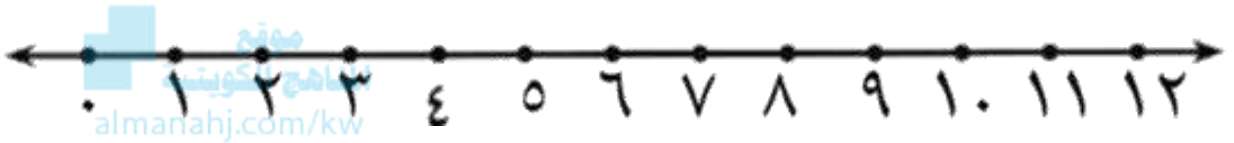




مهارة الطرح المستوى الثاني

١

١. استخدم خط الأعداد . اطرح :



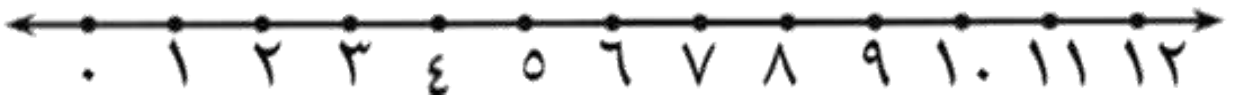
$$\underline{\quad} = 3 - 4$$

$$\underline{\quad} = 2 - 6$$

$$\underline{\quad} = 4 - 12$$

$$\underline{\quad} = 5 - 11$$

٢. استخدم خط الأعداد . اطرح :



٧

١١

١٣

٢ -

٧ -

٤ -

$\underline{\quad}$

$\underline{\quad}$

$\underline{\quad}$

$$\square = 3 - 10$$

$$\square = 6 - 9$$

$$\square = 1 - 5$$





مهارة الطرح المستوى الثالث

١

١. أكمل . اربط بين الجمع والطرح :



almanahj.com/kw

$$\square = \square + \square$$

$$\square = \square - \square$$



$$\square = \square + \square$$

$$\square = \square - \square$$

٢. أكمل :

اطرح ٣

١٠
٩
١٢

مخرجات

مدخلات

مخرجات

٠

مدخلات

٦
٨
١٠
١٢

٦ -