

تم تحميل هذا الملف من موقع المناهج الكويتية



الملف الإجابة النموذجية لمنطقة الأحمدية التعليمية

[موقع المناهج](#) ← [المناهج الكويتية](#) ← [الصف الثامن](#) ← [اجتماعيات](#) ← [الفصل الأول](#)

روابط مواقع التواصل الاجتماعي بحسب الصف الثامن



روابط مواد الصف الثامن على تلغرام

[الرياضيات](#)

[اللغة الانجليزية](#)

[اللغة العربية](#)

[التربية الاسلامية](#)

المزيد من الملفات بحسب الصف الثامن والمادة اجتماعيات في الفصل الأول

مسودة كتاب الطالب في مادة الاجتماعيات لعام 2018	1
خطة توزيع منهج العام الجديد في مادة الاجتماعيات	2
حل الوحدة الاولى في مادة الاجتماعيات	3
ورقة عمل في مادة الاجتماعيات	4
ورقة عمل في مادة الاجتماعيات	5

تم التحميل من شبكة ياكويت التعليمية



Telegram:
[ykuwait_net_home](https://t.me/ykuwait_net_home)

اللائحة الدراسية
البرمودة الجديدة

نموذج الإجابة



وزارة التربية

الإدارة العامة لمنطقة الأحمدى التعليمية
التوجيه الفني للاجتماعيات

امتحان الفترة الدراسية الأولى
لمقرر الكويت والعالم الإسلامي
للسف الثامن المتوسط

العام الدراسي: ٢٠٢٤-٢٠٢٥م

الزمن: ساعة وخمس وأربعون دقيقة

عدد الأوراق: (٤)

(أجب عن جميع الأسئلة)

السؤال الأول (موضوعي) يتكون من (أ - ب - ج): (١٥ درجة × درجة واحدة = ١٥ درجة)

(أ) ضع خطأ تحت الخيار الصحيح من بين الخيارات التي تلي كل عبارة:

١- العام الذي توفي فيه الرسول -صلى عليه وسلم: ص ٢٥

أ- ١٠هـ

ب- ١١هـ

ج- ١٢هـ

د- ١٣هـ

٢- صناعة برع بها المسلمين تمثلها الصورة التي أمامك: ص ٢٧

أ- أرابيسك

ب- الخزف

ج- الأوبئة

د- الأسلحة

٣- الجزيرة الكويتية التي رصدت فيها قربتان تعودان للعصر الإسلامي: ص ٢٨

أ- وربه

ب- بوبيان

ج- فيلكا

د- مسكان

٤- المدينة التي يقع بها بيت الحكمة: ص ٣٨

أ- مكة المكرمة

ب- المدينة المنورة

ج- بخاري

د- بغداد

٥- تبلغ عدد الدول الإسلامية التي تقع في قارة آسيا: ص ٥١

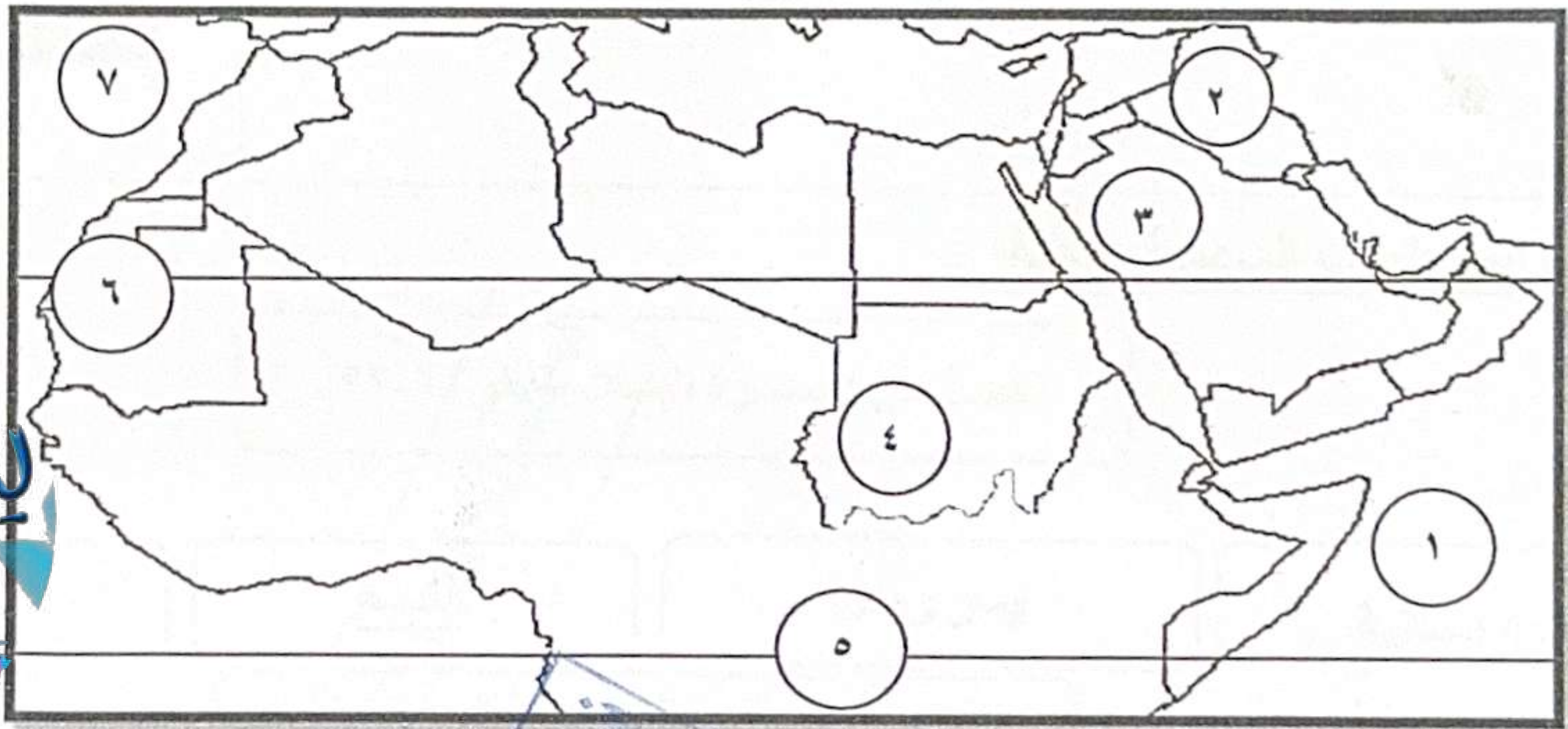
أ- ٢٧

ب- ٣٧

ج- ٤٧

د- ٥٧

(ب) لاحظ خريطة العالم الإسلامي الصماء ثم نفذ المطلوب:



- المدينة التي انطلقت منها قيام الدولة الإسلامية يمثلها على الخريطة الرقم (٣)

ص ١٧

- جبل مره يمثل على الخريطة الرقم (٤)

ص ٥٤

- المحيط الأطلسي يمثل على الخريطة الرقم (٧)

ص ٥٦

- سهول دجلة والفرات تقع في دولة عربية يمثل على الخريطة الرقم (٢)

ص ٥٩

- مدار السرطان يمثل على الخريطة الرقم (٦)

ص ٦٣


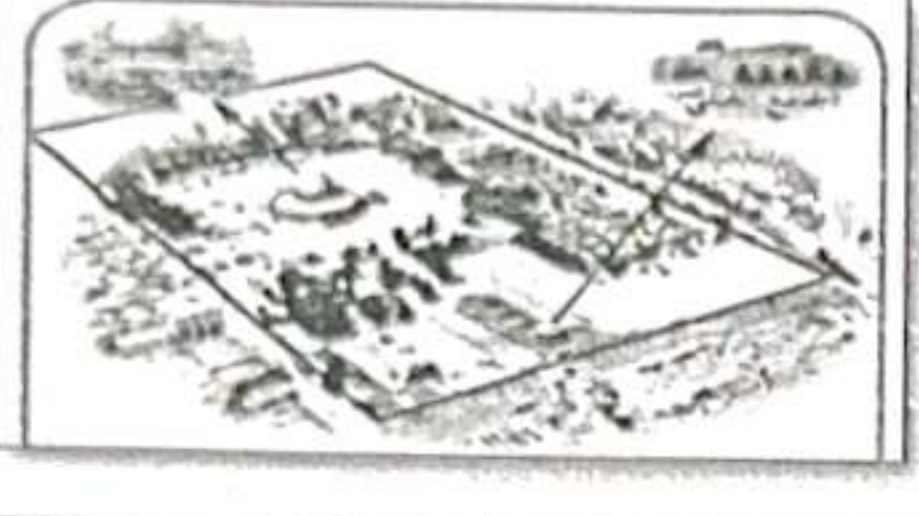



(ج) صنف العناصر التالية حسب مكانها الصحيح في الجدول الذي يليها:

(النحاس - الجوت - اليورانيوم - المطاط الطبيعي - القطن)

الثروة المعدنية ص ٧٠	الغلات النقدية ص ٧٣
النحاس - اليورانيوم	القطن - الجوت - المطاط الطبيعي

السؤال الثاني (موضوعي) يتكون من (أ - ب - ج): (١٥ درجة x درجة واحدة = ١٥ درجة)

(أ) أكمل العبارات التالية مستعيناً بالصور والأشكال المقابلة:

	١- الشيخ الذي لقب بقائد العمل الإنساني في عام ٢٠١٤ م اسمه <u>الشيخ صباح الأحمد الصباح</u> ص ٢٤
	٢- أكبر المساجد وأولى القبلتين في الإسلام يسمى <u>المسجد الأقصى</u> ص ٣٣
	٣- الخريطة المقابلة توضح كروية الأرض لعالم مسلم اسمه <u>الشيخ الشريف الإدريسي</u> ص ٤٢
	٤- عالم مسلم ألف ٣٥٠ كتاب منها كتاب الحيوان اسمه <u>الجاحظ</u> ص ٤٠
	٥- توجد قمة جبال جوليا ناتوب في قاره اسمها <u>أمريكا الجنوبية</u> ص ٥٤

(ب) أكمل المخططات السهمية التالية:

خصائص الحضارة الإسلامية ص ٢٢-٢٣

شمولية

عالمية

إيمان وعمل

تسامح / إنسانية

الأقاليم المناخية في الدول الإسلامية ص ٦٤

المعتدل الدافئ/ القاري الصحراوي

الموسمي / المداري

الإستوائي

(ج) اكتب المفاهيم أو المصطلحات الدالة على كل العبارات التالية:

الرقم	المفهوم	العبرة
١-	<u>الحضارة</u>	كل ما يطرأ على المجتمع من تقدم وتطور ورقي سواء في الجانب المادي أو الروحي. ص ١٨
٢-	<u>الوقف الإسلامي</u>	صدقة جارية يوقفها المرء في حياته لوجوه الخير والبر ويكون أجرها ونفعها مادامت باقية ويستمر الأجر حتى بعد وفاته. ص ٢٩
٣-	<u>أهل الذمة</u>	هم النصارى واليهود الذين ظلوا على دينهم مع دفع الجزية. ص ٣٦
٤-	<u>القصور</u>	مقر الحاكم والمكان الذي يضم المؤسسات الإدارية كالوزارة والدواوين. ص ٣٤
٥-	<u>التضاريس</u>	أشكال سطح الأرض ص ٥٣

السؤال الثالث (مقالى) يتكون من (أ - ب - ج) :
(أ) لاحظ الجدول المقابل الذى أمامك ثم أجب عن الأسئلة التالية: (٥ درجات لكل نقطة درجة واحدة)

ص ٧٠

١- أقل دولة فى نسب إنتاج اليورانيوم.

- باكستان

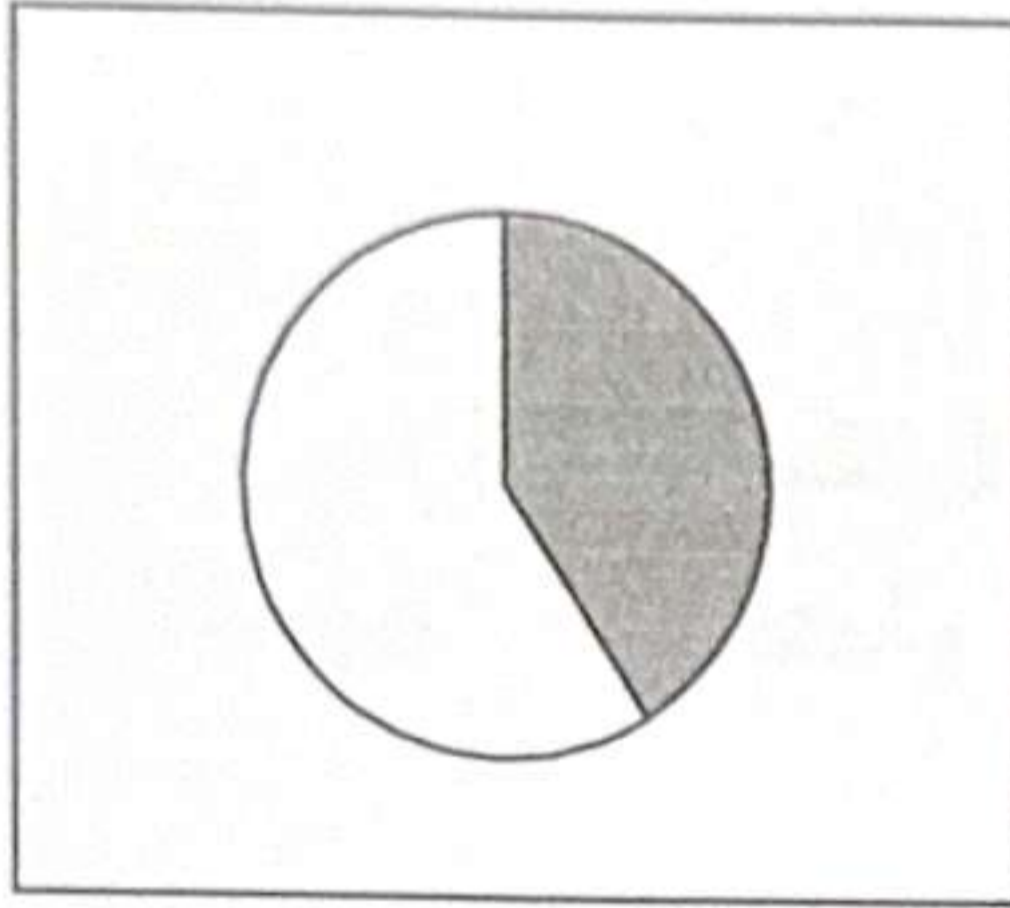
٢- رتب الدول الثلاث الأولى ترتيباً تنازلياً حسب إنتاجها.

١- كازاخستان	٢- النيجر	٣- أوزباكستان
--------------	-----------	---------------

كازاخستان	%٤١
اوزباكستان	%٤,٣
النيجر	%٧,٢
باكستان	%٠,١


نسبة إنتاج اليورانيوم من جملة إنتاج دول العالم الإسلامي حسب إحصاء ٢٠١٤م

٣- حول نسبة إنتاج كازاخستان فى اليورانيوم لدائرة بيانية.



(٤ درجات لكل نقطة درجة)

(ب) لاحظ الصور ثم أجب عما يليها من أسئلة:



اسم القصر:	قصر الخضراء
موقع القصر:	دمشق ص ٣٤

(٦ درجات لكل نقطة درجة)



اسم المسجد:	المسجد الكبير
موقع المسجد:	الكويت ص ٣١

(ج) عدد اثنين لكل مما يلى :

١- أسس الحضارة الإسلامية.

- الدين الإسلامي .

- اللغة العربية .

- الحضارات الأخرى .

٢- العوامل التى ساهمت فى تنوع المناخ فى دول العالم الإسلامي .

- امتداد دول العالم الإسلامي على مساحة شاسعة .

- الإطلالة على عدة مسطحات مائية فى معظم أجزائه .

٣- مصادر إنتاج الأسماك.

- مصادر طبيعية (المحيطات والبحار - المياه العذبة).

- مصادر غير طبيعية (الاستزراع السمكي) .

ص ٦٣ (يكتفى بنقطتين)

- الموقع بالنسبة لدوائر العرض .

- التنوع فى التضاريس من جبال وهضاب وسهول ووديان .

ص ٧٤ (يكتفى بنقطتين)

السؤال الرابع (مقالى) يتكون من (أ - ب - ج) :

(أ) أقرأ الفقرة التالية ثم أجب عن الأسئلة التالية:

" تعد الثروة الزراعية في العالم الإسلامي المصدر الرئيسي لإنتاج الغذاء ويعمل بها ٧٠٪ من سكان العالم الإسلامي حيث تمثل الدخل الرئيسي للدولة كما تدخل كماده خام في كثير من الصناعات وهناك عدة عوامل تساعد على الإنتاج الزراعي "

١- ضع عنوان مناسب للفقرة

(ما يراه المصحح مناسباً)

ص ٧٢

- الثروة الزراعية في العالم الإسلامي.

٢- كم تبلغ نسبة السكان في العالم الإسلامي الذين يعملون في الإنتاج الزراعي.

٧٠٪

٣- اذكر العوامل التي ساعدت على زيادة الإنتاج الزراعي في دول العالم الإسلامي.

(يكتفي بنقطتين) ص ٧٢

- المناخ .

- التربة الخصبة .

- كثرة السكان والأيدي العاملة .

- سقوط الأمطار .

- وجود البحيرات والأنهار والآبار .

(ب) علل لما يلي:

(٥ درجات لكل نقطة درجة)

(يكتفي بنقطة واحدة) ص ٢٨

١- تشجيع الدولة الإسلامية على النشاط التجاري .

- لدورها الكبير في التبادل التجاري مع المناطق المجاورة .

- يمتلك موقع العالم الإسلامي الاستراتيجي العديد من الخطوط التجارية البرية والبحرية .

٢- ازدهار العلم وظهور العلماء في الحضارة الإسلامية

ص ٣٧

(يكتفي بنقطتين)

- تشجيع العلماء ورعاية وتمويل القيادات السياسية لهم من خلفاء وملوك وسلطين وأمراء .

- التنافس العلمي بين الدول الإسلامية .

- حركة التعريب (الترجمة) للكتب القديمة اليونانية والهندية والفارسية وغيرها .

- الرخاء الاقتصادي .

ص ٥٨ (يكتفي بنقطتين)

٣- أهمية السهول في العالم الإسلامي.

- استخدامها كموانئ طبيعية .

- تشييد المدن .

- تركز السكان فيها لسهولة التنقل .

(ج) اكتب فيما يلي:

(٦ درجات لكل نقطة درجة)

ص ٢٥

(يكتفي بنقطتين)

- الوالي

- القاضي

ص ٢٦

(يكتفي بنقطتين)

١- المناصب الإدارية في العالم الإسلامي.

- الخليفة

- المحتسب

٢- جهود المسلمين في الزراعة.

- شق القنوات المائية والترع .

- إقامة السدود .

- تنظيم وسائل الري .

ص ٤١

(يكتفي بنقطتين)

٣- مراكز إشعاع الحضارة الإسلامية إلى أوروبا.

- بلاد الأندلس .

- بلاد الشام .

- صقلية .

(انتهت الإجابة)