

تم تحميل هذا الملف من موقع المناهج الكويتية



الملف نموذج إجابة حولي

[موقع المناهج](#) ← [المناهج الكويتية](#) ← [الصف السابع](#) ← [اجتماعيات](#) ← [الفصل الأول](#)

روابط مواقع التواصل الاجتماعي بحسب الصف السابع



روابط مواد الصف السابع على تلغرام

[الرياضيات](#)

[اللغة الانجليزية](#)

[اللغة العربية](#)

[التربية الاسلامية](#)

المزيد من الملفات بحسب الصف السابع والمادة اجتماعيات في الفصل الأول

<a href="#">كتاب الطالب في مادة الاجتماعيات للعام الدراسي 2018</a>	1
<a href="#">حل الوحدة الاولى في مادة الاجتماعيات</a>	2
<a href="#">تلخيص رائع في مادة الاجتماعيات</a>	3
<a href="#">حل الوحدة الثانية في مادة الاجتماعيات</a>	4
<a href="#">تلخيص ممتاز في مادة الاجتماعيات</a>	5

ykuwait\_3



اختبار نهاية الفترة الدراسية الأولى  
المنهج الكويتي  
almanahj.com/kw

العام الدراسي 2022/2021م

الصف السابع

نموذج إجابة اختبار مادة

الاجتماعيات

الأحد - 2022 / 1 / 9



وزارة التربية

الإدارة العامة لمنطقة حولي التعليمية

التوجيه الفني للاجتماعيات

نموذج اجابة

امتحان نهاية الفترة الدراسية الأولى

مقرر/ دولة الكويت والوطن العربي

للمصف السابع المتوسط

العام الدراسي : ٢٠٢١/٢٠٢٢ م

الزمن: ساعة و ٤٥ دقيقة

عدد الصفحات : ( ٥ )

السؤال الأول موضوعي ويتكون من ( أ - ب - ج - د - هـ - و ) :

( أ ) ظلل الخيار الصحيح من بين الخيارات التي تلي كل عبارة : ( ٣٠ درجة لكل سؤال درجة )

١- الدولة التي انضمت إلى جامعة الدول العربية عام ١٩٩٣م : ص ٢٣

السودان	مصر	جزر القمر	اليمن
---------	-----	-----------	-------

٢- العام الذي نزل فيه القرآن الكريم على سيدنا محمد ﷺ : ص ٩٠

٥١٠ م	٦١٠ م	٧١٠ م	٨١٠ م
-------	-------	-------	-------

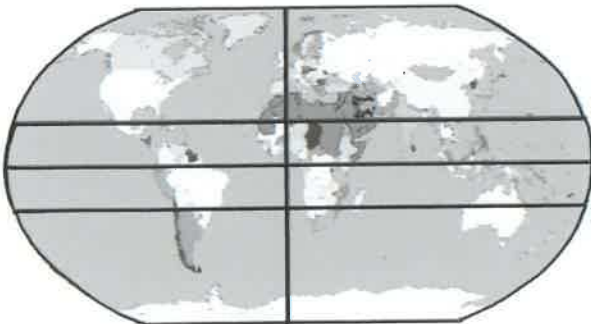
٣- ممر مائي ضيق يصل بين الخليج العربي وخليج عمان : ص ٢٩

هرمز	باب المنذب	قناة السويس	جبل طارق
------	------------	-------------	----------

٤- تعرف حشائش الأستبس في بلاد المغرب العربي باسم : ص ٥٢

الأثل	الأبنوس	العرعر	الحنفا
-------	---------	--------	--------

٥- الخطوط المشار لها على الخريطة المقابلة تمثل موقع الوطن العربي : ص ٣١



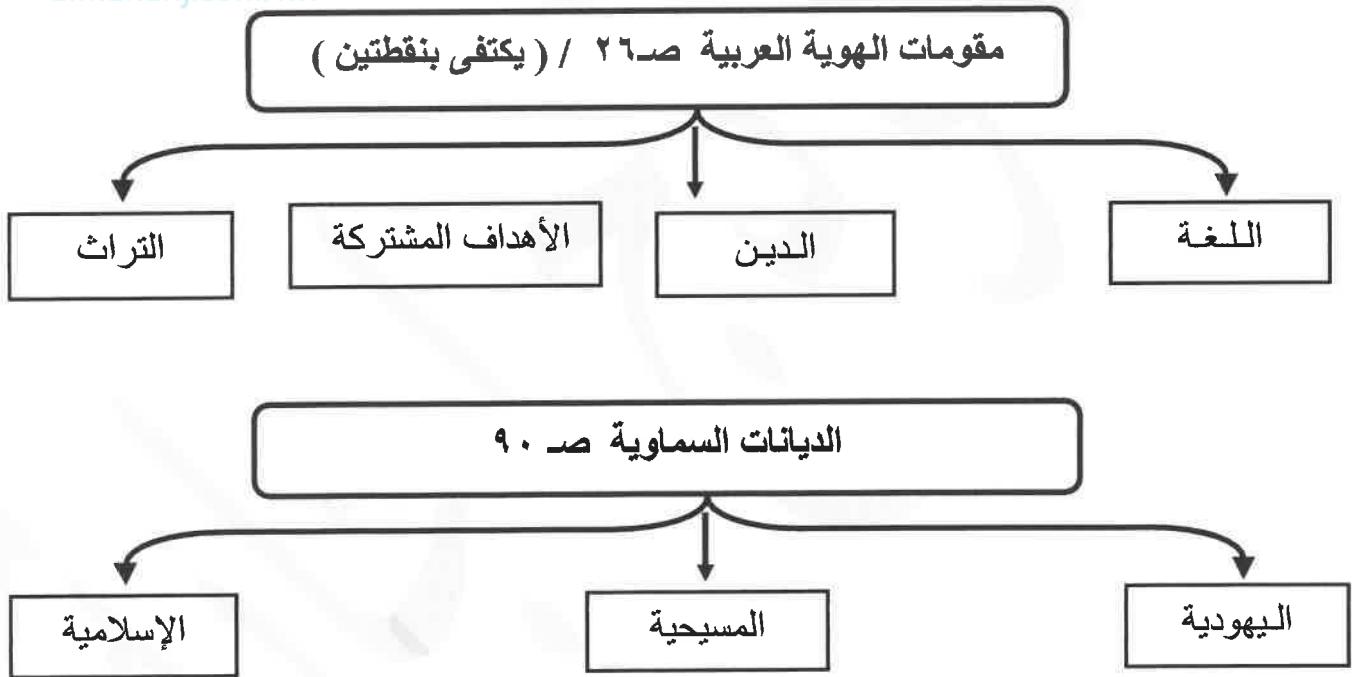
المكاني	النسبي
---------	--------

الفلكي	الاستراتيجي
--------	-------------

( ب ) اكمل العبارات التالية بما يناسبها فيما درست :

- ١- الفصل المناخي الذي تكون فيه الشمس عمودية على المنطقة الواقعة بين خط الاستواء ومدار السرطان اسمه الصيف ص ٤٩
- ٢- نسبة مساحة الوطن العربي من جملة مساحة العالم تبلغ حوالي ١٠ % ص ٢٣
- ٣- المسطح المائي الذي يحد الوطن العربي من جهة الغرب اسمه المحيط الأطلسي ص ٣٤
- ٤- وزن الهواء فوق أي مكان يسمى الضغط الجوي ص ٤٤
- ٥- المحطة التي أنشأت لتحلية مياه البحر في دولة الكويت عام ١٩٥٣ م اسمها الشويخ ص ٦١

( ج ) اكمل المخططات السهمية التالية :



( د ) صنف ملامح السطح في الوطن العربي التالية طبقاً للجدول الذي يليها :

( نجد - النيل - الأخضر - مرة - دجلة - الصحراء الكبرى )

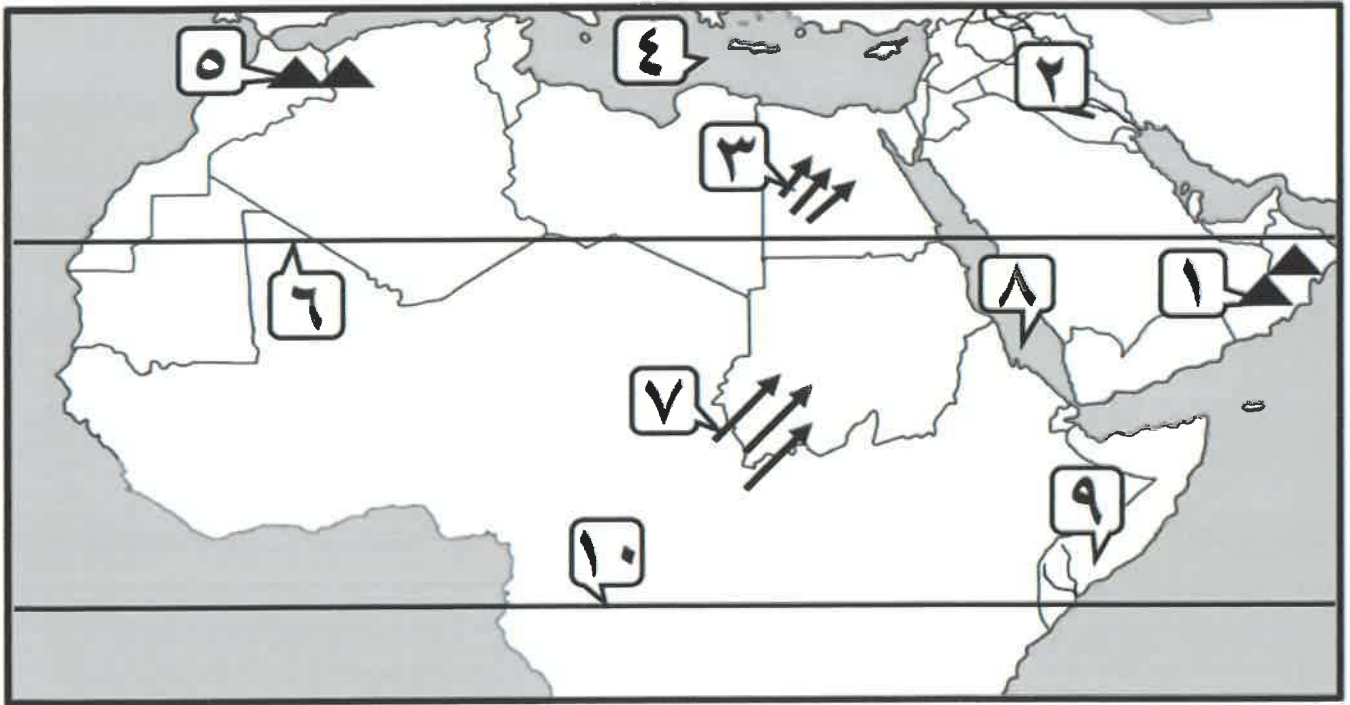
سهول ص ٤٢	هضاب ص ٤٠	جبال ص ٣٨
النيل	نجد	الأخضر
دجلة	الصحراء الكبرى	مُرة

( هـ ) اكتب المفاهيم أو المصطلحات الدالة على العبارات التالية :-

م	المفهوم أو المصطلح	العبرة
١	الوطن العربي	مجموعة الدول العربية التي يجمعها عدد من السمات المشتركة وتمتد ضمن قارتين من أكبر قارات العالم مساحة. ص ٢٢
٢	القناة	مجرى مائي صناعي ضيق يشق لأغراض الري أو النقل . ص ٢٨
٣	النبات الطبيعي	النبات الذي ينمو تلقائياً عقب سقوط المطر دون تدخل من الإنسان . ص ٥١
٤	المياه الجوفية	المياه التي توجد في جوف الأرض ( باطن الأرض ) . ص ٦٠
٥	الموقع النسبي	موقع الدولة بالنسبة لليابس والماء . ص ٣٣

موقع  
المنهج الكويتية  
almanahi.com/kw

( و ) أمامك خريطة الوطن العربي - أكتب مدلولات الارقام التي عليها في العبارات التالية :



- البحر الذي يفصل الجناح الآسيوي عن الجناح الأفريقي من الوطن العربي يمثلته على الخريطة الرقم ( ٨ ) ص ٢٤
- مدار السرطان يمثلته على الخريطة الرقم ( ٦ ) ص ٤٧
- بلاد الرافدين يمثلها على الخريطة الرقم ( ٢ ) ص ٧١
- جبال أطلس ▲▲ يمثلها على الخريطة الرقم ( ٥ ) ص ٣٨
- رياح الهبوب ↗↗↗ يمثلها على الخريطة الرقم ( ٧ ) ص ٤٨

السؤال الثاني مقالي ويتكون من ( أ - ب - ج ) :

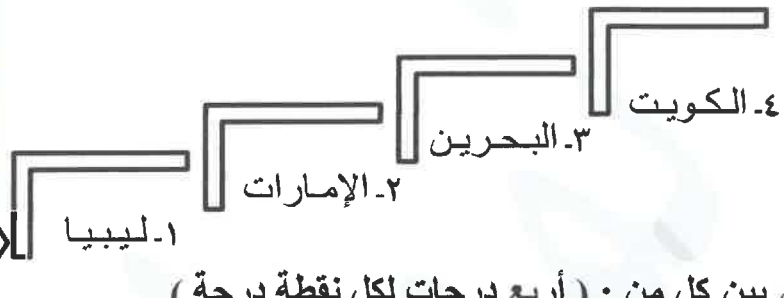
( أ ) لاحظ جدول نسبة استخدام المياه المحلاة التالي ثم اجب عما يلي : ( خمس درجات لكل نقطة درجة )

الدولة	النسبة
الإمارات	٢٧%
ليبيا	٥%
الكويت	٥٥%
البحرين	٣١%

١- استخراج أكثر الدول إنتاجاً للمياه المحلاة . ص ٦٢

-..... الكويت .....

٢- رتب الدول العربية ترتيباً تصاعدياً بالنسبة لاستخدامهم للمياه المحلاة.



( ب ) فرق بين كل من : ( أربع درجات لكل نقطة درجة )

الهضبة ص ٤٠	الجبل ص ٣٨
أرض مرتفعة وسطها مستوي، وتمتد على مساحة كبيرة .	كل ما ارتفع من الأرض وله قمة لا يقل ارتفاعها عن ١٠٠٠ متر .
السهول الساحلية ص ٤٢	السهول الفيضية ( النهرية ) ص ٤٢
الأراضي المنبسطة التي تجاور سواحل البحار والمحيطات .	الأراضي المنخفضة التي تكونت من التربة التي حملتها مياه الأنهار .

( ج ) أكتب نقطتين فيما يلي : ( ست درجات لكل نقطة درجة )

١- صفات الأمطار في الوطن العربي. ص ٥٩ ( يكتفى بنقطتين )

- تذبذب كمية الأمطار بين عام وآخر، كما أنها تسقط في أيام معدودة .

- الأمطار في الوطن العربي تكاد تقتصر على الأطراف الشمالية والأطراف الجنوبية منها .

- تتصف الأمطار بأنها قليلة بصفة عامة، ولا يستثنى من ذلك سوى المناطق التي تقع من ورائها الجبال،

كما هو الحال في سواحل المغرب ولبنان .

٢- العوامل المؤثرة في مناخ الوطن العربي . ص ٤٦ ( يكتفى بنقطتين )

- الموقع بالنسبة لدوائر العرض . - القرب أو البعد عن المسطحات المائية .

- التضاريس . - الرياح .

٣- المقومات الأساسية لقيام الحضارة . ص ٧٣ ( يكتفى بنقطتين )

- الموقع الاستراتيجي . - توافر مصادر المياه العذبة . - اعتدال المناخ .

- توافر الثروات الطبيعية. - توافر العنصر البشري .



السؤال الثالث مقالتي ويتكون من ( أ - ب - ج ) :

( أ ) اقرأ الفقرة التالية ثم أجب عما يليها من أسئلة: ( خمس درجات لكل نقطة درجة )

للحضارة العربية الإسلامية فضل كبير وأثر واضح في إثراء الحضارة الأوروبية منذ القرن العاشر الميلادي، حيث كانت أوروبا تعيش آنذاك في عصور الظلام، وذلك بسبب سيطرة الكنيسة على عقول الناس، وقد انتقلت الحضارة العربية الإسلامية إلى أوروبا بفضل مراكز الإشعاع التي انتشرت بالقرب منها مثل بلاد الأندلس وصقلية أو عن طريق الاحتلال الصليبي لبلاد الشام.

١- عرف ما تحته خط: الحضارة كل ما يطرأ على المجتمع من تقدم وتطور وراقي في جميع نواحي الحياة الدينية والسياسية والاقتصادية والاجتماعية والفكرية. ص ٧١

٢- استخرج من الفقرة السابقة ما يلي:

- أ - سبب عصور الظلام التي كانت تعيشه أوروبا. ص ٩٢  
- بسبب سيطرة الكنيسة على عقول الناس.  
ب - مراكز إشعاع الحضارة العربية الإسلامية إلى أوروبا.

● بلاد الأندلس ● صقلية ● الاحتلال الصليبي لبلاد الشام.

( ب ) قارن بين كل من: ( أربع درجات لكل نقطة درجة ) ص ٥٢

وجه المقارنة	الغابات المدارية الحارة	الغابات المعتدلة
المميزات	- تمتاز بضخامة اشجارها وجذوعها - تشابك اغصانها وأوراقها العريضة - ارتفاعها الكبير ( يكتفى بنقطة واحدة )	- عدم الكثافة - تتساقط أوراقه في فصل الشتاء - دائم الخضرة ( يكتفى بنقطة واحدة )
أهم أشجارها	- الساج - الماهوجني - التاك - الأبنوس - السر - الأثل - السنط. ( يكتفى بنقطة واحدة )	- الأرز - العرعر - الصنوبر الحلبي - البلوط - السنديان - الزيتون - التفاح - الحمضيات - الفواكه البرية الأخرى. ( يكتفى بنقطة واحدة )

( ج ) أجب عما يلي كما هو بين الأقواس: ( ست درجات لكل نقطة درجة )

١- الأهمية الاقتصادية للوطن العربي. ( علل ) ص ٣٥ ( يكتفى بثلاث نقاط )

- كان الوطن العربي منطقة عبور لحركة الملاحة والتجارة العالمية./- الجسر الذي يربط قارات العالم الثلاث ( آسيا ، أفريقيا ، أوروبا ) بمواردها الهائلة والخصمة ./- سكان الوطن العربي يشكلون ٥٪ تقريباً من سكان العالم ./- وجود النفط بكميات كبيرة بمنطقة الخليج العربي وشبه الجزيرة العربية وبعض شمال أفريقيا .

٢- عناصر المناخ. ( عدد ) ص ٤٤ ( يكتفى بثلاث نقاط )

- الحرارة . - الأمطار . - الرطوبة . - الرياح .