

تم تحميل هذا الملف من موقع المناهج الكويتية



منطقة مبارك الكبير التعليمية

الملف نموذج إجابة منطقة مبارك الكبير

[موقع المناهج](#) ← [المناهج الكويتية](#) ← [الصف السادس](#) ← [اجتماعيات](#) ← [الفصل الأول](#)

روابط مواقع التواصل الاجتماعي بحسب الصف السادس



روابط مواد الصف السادس على تلغرام

[الرياضيات](#)

[اللغة الانجليزية](#)

[اللغة العربية](#)

[التربية الاسلامية](#)

المزيد من الملفات بحسب الصف السادس والمادة اجتماعيات في الفصل الأول

<a href="#">نموذج اجابة اختبار لمنطقة مبارك الكبير عام 2016</a>	1
<a href="#">اوراق عمل مهمة في مادة الاجتماعيات</a>	2
<a href="#">بنك اسئلة ممتاز في مادة الاجتماعيات</a>	3
<a href="#">بنك معلومات مهم في مادة الاجتماعيات</a>	4
<a href="#">تلخيص اجتماعيات بشكل مبسط</a>	5



وزارة التربية

الإدارة العامة لمنطقة مبارك الكبير التعليمية



## نموذج إجابة

موقع  
المناهج الكويتية  
almanah.com

# اختبار الفترة الدراسية الأولى

2023/2022

السادس	الصف
الاجتماعيات	المادة

العام الدراسي: ٢٠٢٢ - ٢٠٢٣ م  
عدد الأوراق ( ٥ )  
الزمن : ساعة و ٤٥ دقيقة

امتحان نهاية الفترة الدراسية الاولى  
للفص السادس لمادة الاجتماعيات  
الكويت ودول الخليج العربية

وزارة التربية  
الإدارة العامة لمنطقة مبارك الكبير التعليمية  
التوجيه الفني للاجتماعيات

### ( أجب على جميع الأسئلة )

السؤال الأول: موضوعي و يتكون من ( أ - ب - ج ) : ( درجة لكل سؤال  $1 \times 12 = 12$  )

أ ( ظلل الخيار الصحيح من بين البدائل التي تلي كل عبارة مما يلي :

١- الدولة العربية التي تنتمي لها حضارة دلمون : ص ٤٨

قطر	الإمارات	الكويت	البحرين
-----	----------	--------	---------

٢- عدد درجات العرض التي تشغلها شبه الجزيرة العربية شمال خط الاستواء : ص ١٩

١٧ درجة	١٦ درجة	١٥ درجة	١٤ درجة
---------	---------	---------	---------

٣- من البضائع التي نقلت من منطقة الخليج العربي إلى الهند و اليمن و شرق أفريقيا : ص ٣٤

الأرز	الشاي	التمور	التوابل
-------	-------	--------	---------

٤- العام الذي أصدرت فيه وثيقة الدستور الكويتية : ص ٦٤

١٩٦٢ م	١٩٦١ م	١٩٦٠ م	١٩٥٩ م
--------	--------	--------	--------

ب ( أكمل العبارات التالية بما يناسبها :

١. تقع منطقة الخليج العربية بالنسبة لقارة آسيا في الجهة الجنوبية الغربية . ص ١٩

٢. يطلق على الرياح الجنوبية الشرقية التي تهب على منطقة الخليج العربي اسم الكوس . ص ٢٥

٣. عقدت اتفاقية الحماية بين دولة الكويت وبريطانيا في عهد الشيخ مبارك الصباح في عام ١٨٩٩ م ص ٦٢

٤. أرض مرتفعة و سطحها مستوي وتمتد مساحة كبيرة تسمى الهضبة . ص ٢٣

ج ( صنف أسماء الدول و المناطق التالية حسب مكانهم الصحيح في الجدول التالي :

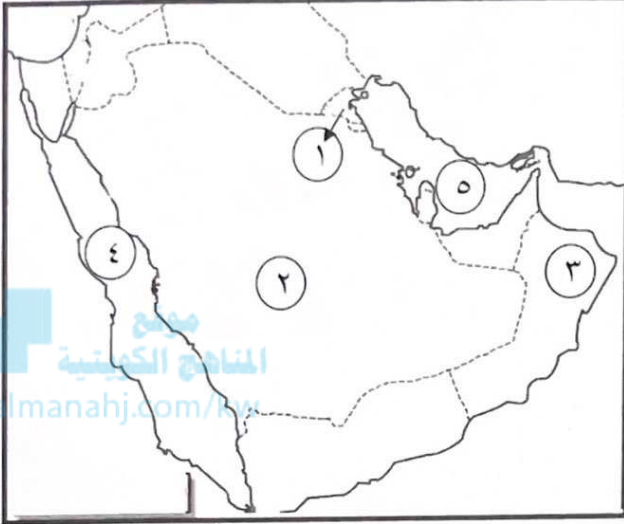
( الكويت - رأس الخيمة - قطر - أبوظبي ) ص ٥٧

المعاصيد	القواسم	آل صباح	بني ياس
قطر	رأس الخيمة	الكويت	أبوظبي



السؤال الثاني : موضوعي و يتكون من ( أ - ب - ج ) : ( درجة لكل سؤال  $1 \times 12 = 12$  )

أ ) لاحظ خريطة شبه الجزيرة العربية الصماء التي أمامك ثم نفذ المطلوب :



١. البحر الأحمر يمثل على الخريطة الرقم - ٤ - ص ٢٣

٢. الحضارة الهيلينية يمثلها على الخريطة الرقم - ١ - ص ٤٩

٢. هضبة نجد يمثلها على الخريطة الرقم - ٢ - ص ٢٣

٤. الدولة الخليجية التي يقع فيها الجبل الأخضر يمثلها على

لخريطة الرقم - ٣ - ص ٢٣

ب ) اختر من المجموعة ( أ ) ما يناسبها من المجموعة ( ب ) بكتابة الرقم المناسب : ص ٣٢

م	المهنة	الرقم	أهم الأعمال
١	النهام	٣	رئيس البحرية
٢	الطواش	٤	يسحب الغاصة من أعماق البحر
٣	المجدي	٢	تاجر اللؤلؤ
٤	السيب	١	مطرب السفينة
٥			ربان السفينة



ج ) اكتب المفهوم أو المصطلح الدال على العبارات التالية:

١- ( المسطحات المائية ) جميع أشكال المياه على سطح الأرض مثل البحار ، الخلجان ، المحيطات ، البحيرات

، الأنهار. ص ٣٤

٢- ( القليب / الجليب ) يطلق على البئر عند سكان منطقة الخليج العربية . ص ٥١

٣- ( الاستقلال ) تحرر الدولة من المستعمر الأجنبي و قيامها بمسؤولية إدارة شئونها الداخلية و الخارجية . ص ٦٣

٤- ( الديمقراطية ) حكم الشعب لنفسه . ص ٦٤

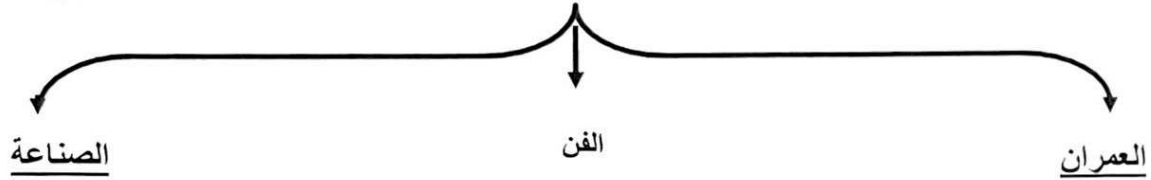




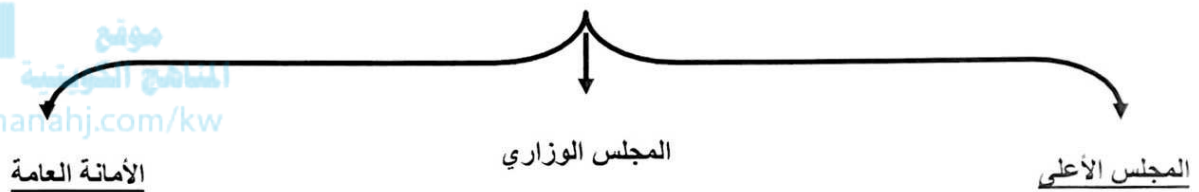
السؤال الثالث : موضوعي و يتكون من ( أ - ب - ج ) :

( أ ) أكمل المخططات السهمية التالية :

١- مظاهر الحضارة الإسلامية ص ٥٥



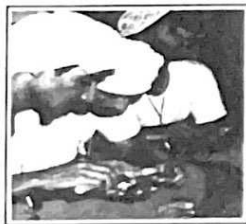
٢- الهيكل التنظيمي لمجلس التعاون لدول الخليج العربية ص ٧٠



ب ( صوب ما تحته خط في العبارات التالية :

م	العبارة	التصويب
١	البلد الخليجي الوحيد الذي لم يتعرض للاستعمار <u>الكويت</u> .	المملكة العربية السعودية ص ٦٥
٢	الموقع بالنسبة لخطوط الطول و دوائر العرض هو <u>الموقع النسبي</u> .	الموقع الفلكي ص ٢٠
٣	أفضل أنواع السفن المستعملة في رحلة السفر هي <u>الشوعي</u> .	البغلة ص ٣٤
٤	القمة الخليجية السابعة و العشرون سميت بقمة <u>الشيخ صباح الأحمد الصباح</u>	الشيخ جابر الأحمد الصباح ص ٧٤

ج) أمامك مجموعة من الصور أكتب ما تدل عليها كل منها :



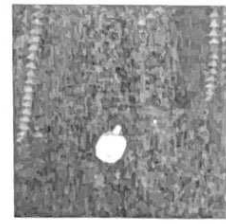
استخراج اللؤلؤ من  
المحار ص ٣٦



خياطة البشوت  
ص ٢٩




صناعة الخوص  
ص ٢٩



حياكة السدو  
ص ٢٩

السؤال الرابع: مقالتي و يتكون من ( أ - ب - ج ) :

أ ) لاحظ الصورة التي أمامك ثم أجب عن الأسئلة التي تليها :



١. ما اسم المنظمة التي يمثلها الشعار الذي أمامك ؟ ص ٧٣

- شعار مجلس التعاون لدول الخليج العربية . (درجة واحدة)

٢. في أي عام أعلن قيام هذه المنظمة ؟ ص ٧٠

- ٢٥ / مايو / ١٩٨١ م . (درجة واحدة)

٣. أذكر الصفات المشتركة بين دول هذه المنظمة . ص ٧٠

- وحدة التراث - الانتماء - الدين - المصالح المشتركة (درجتان)

ب ) علل لما يلي :-

١. انصراف سكان دول الخليج العربية عن حرفة الغوص على اللؤلؤ . ص ٣١ (درجتان)

\* اكتشاف النفط .  
\* ظهور اللؤلؤ الصناعي

٣. توافر النبات المعمر طوال العام في دول الخليج العربية . ص ٢٦ (درجتان)

\* تتحمل الجفاف . \* ارتفاع درجة الحرارة . \* بسبب جذورها الطويلة . \* قلة أوراقها .

\* كثرة الأشواك فيها . \* قدرتها العالية على تخزين المياه .

ج ) قارن بين كل من حسب المطلوب منك في الجدول التالي : ( ٤ درجات )

أوجه المقارنة	خطوط الطول ص ٢١ (درجة واحدة)	دوائر العرض ص ٢١ (درجة واحدة)
المفهوم	عبارة عن خطوط وهمية أي غير موجودة على سطح الأرض ترسم على الكرة الأرضية ، و تقسم الكرة الأرضية إلى قسمين شرقي و غربي .	عبارة عن خطوط وهمية أي غير موجودة على سطح الأرض ترسم على الكرة الأرضية ، و تقسم الكرة الأرضية إلى قسمين شمالي و جنوبي .
العدد	٣٦٠ خطا (درجة واحدة)	١٨٠ دائرة (درجة واحدة)

**السؤال الخامس: مقالي و يتكون من ( أ - ب - ج ) :**  
**( أ ) أقرأ الفقرة التالية ثم أجب عما يليها من أسئلة :**

(إن المنافسة الاستعمارية التي شهدتها منطقة الخليج العربية منذ القرن الخامس عشر كانت نتيجة للتسابق بين الدول الاستعمارية لاستغلال الموقع و إدراكا منها لأهميته ، وتعد البرتغال أول دولة أوروبية استعمارية وصلت للخليج العربي و احتلت أجزاء منه ثم فقدت نفوذها فجاء الهولنديون و استمروا إلى أن ظهر الانجليز و نجحوا في أحكام سيطرتهم على الخليج العربي عن طريق المعاهدات والاتفاقيات ) . ص ٦٠

١. ضع عنوان للفقرة السابقة . (درجة واحدة)

( استعمار منطقة الخليج العربي ) ( المنافسة الاستعمارية الأوروبية على الخليج العربي )  
أو ما يكتبه المتعلم و يراه المعلم مناسباً )



(درجة واحدة)

٢. علل / تسابق الدول الاستعمارية لاستعمار منطقة الخليج العربية.  
لاستغلال الموقع و ادراكا منها لأهميته .

**أذكر ما يلي :**

(درجة واحدة)

( أ ) أول دولة أوروبية استعمارية وصلت للخليج العربي .  
البرتغال

(درجة واحدة)

( ب ) الطرق التي استخدمها الانجليز لأحكام سيطرتهم على الخليج العربي .  
\* عن طريق المعاهدات و الاتفاقيات .

**( ب ) أكتب نقطتين فيما يلي :**

١. العوامل المؤثرة في نشأة الحضارات بمنطقة الخليج العربية . ص ٥١ (درجتان)  
\* الموقع الجغرافي المتميز للخليج العربي . \* توفر آبار مياه الشرب . \* وجود بيئة طبيعية ملائمة .

(درجتان)

٢. الأنشطة البرية التي مارسها سكان دول الخليج العربية قديماً . ص ٢٨  
\* الرعي . \* الزراعة . \* الحرف اليدوية . \* التجارة البرية

( ٤ درجات )

**( ج ) فرق بين كل مما يلي من حيث المفهوم :**

القفال ص ٣٢	الدشة ص ٣٢
نهاية موسم الغوص	بداية موسم الغوص
السهل ص ٢٣	الجبل ص ٢٣
أجزاء فسيحة من سطح الأرض تتميز باستوائها و قلة ارتفاعها	هو كل مرتفع له قمة لا يقل ارتفاعه عن ١٠٠٠ متر تقريبا .

