



وزارة التربية

الإدارة العامة لمنطقة الجهراء التعليمية

اختبار نهاية الفصل الدراسي الثاني

٢٠١٨ / ٢٠١٧

السادس	الصف
الاجتماعيات	المادة

نموذج
إجابته



وزارة التربية
مكتب المدير العام
الإدارة العامة لمنطقة الجهراء التعليمية



وزارة التربية
مكتب المدير العام
الإدارة العامة لمنطقة الجهراء التعليمية



أجب عن جميع الأسئلة التالية :-

السؤال الأول ويتكون من (أ - ب - ج - د - هـ - و) : لكل نقطة درجة

أ) أكمل العبارات التالية بما يناسبها مما درست :-

- ١ - الشيخ الذي تم تصدير أول شحنة من النفط الكويتي في عهده يسمى الشيخ أحمد الجابر . ص ٩٠
- ٢ - الدولة الخليجية التي تحتل المركز الأول في عدد السكان تسمى المملكة العربية السعودية . ص ١١٤
- ٣ - ترجع أصول السلالات السكانية في منطقة الخليج العربية إلى جنس البحر المتوسط وجنس آخر يسمى شرق أفريقيا . ص ١٠٥
- ٤ - المدينة التي تم فيها الإعلان عن قيام السوق الخليجية المشتركة تسمى الدوحة . ص ١٣٠
- ٥ - مجموعة من العادات والتقاليد والقيم في مجتمع من المجتمعات تسمى الثقافة . ص ١١٨
- ٦ - العام الذي قام فيه النظام العراقي البائد بغزو دولة الكويت ١٩٩٠ م . ص ١٣٩

ب) ضع خطاً تحت الخيار الصحيح من بين الخيارات التي تلي كل عبارة :-

- ١ - بدأ التنقيب عن النفط في دولة الكويت عام :
أ- ١٩٣٣ م ب- ١٩٣٤ م ج- ١٩٣٥ م د- ١٩٣٦ م
- ٢ - الدولة الخليجية التي توجد فيها المنطقة الزراعية سهل الباطنة :
أ- الكويت ب- البحرين ج- قطر د- عمان
- ٣ - الدولة الخليجية التي توجد فيها حضارة هيلي :
أ- البحرين ب- قطر ج- الإمارات د- السعودية
- ٤ - عدد آبار النفط الكويتية التي دمرها النظام العراقي البائد :
أ- ٧٣٦ بئر ب- ٧٣٧ بئر ج- ٧٣٨ بئر د- ٧٣٩ بئر
- ٥ - من أهم الدول المستوردة للنفط الكويتي :
أ- بريطانيا ب- الصين ج- البرتغال د- اليابان
- ٦ - الهجرة العربية التي استقرت في دولة قطر :
أ- المعاضيد ب- آل خليفة ج- القواسم د- بني ياس

تابع / السؤال الأول :-

ج (انسب كل من المناطق الصناعية إلى مكانها المناسب في الجدول التالي : ص ٩٦

(الشعبية - الجبيل - شمال سترة - امسيعيد - الرويس - صحار)

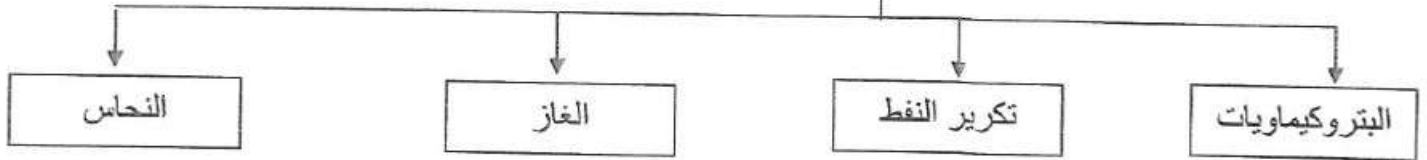
الدولة	الكويت	عمان	قطر	البحرين	الإمارات	السعودية
المنطقة الصناعية	الشعبية	صحار	امسيعيد	شمال سترة	الرويس	الجبيل

د (أكتب المفاهيم أو المصطلحات الدالة عليها العبارات التالية :-

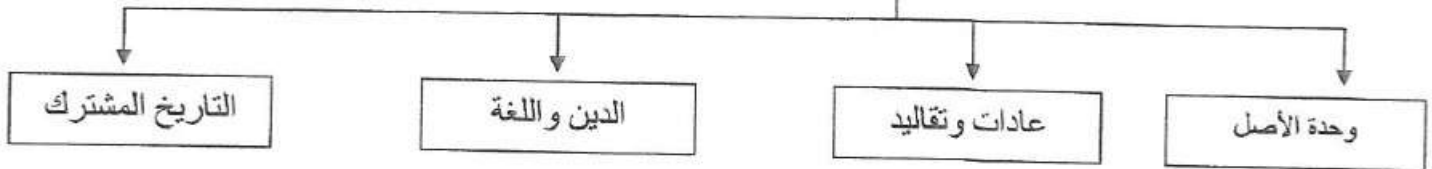
- ١- (صناعة) تحويل المواد الخام إلى مواد يمكن الاستفادة منها . ص ٩٥
- ٢- (تلوث) ضرر يصيب عناصر البيئة الأساسية (ماء/هواء/تربة) فتتحول من عناصر مفيدة إلى عناصر ضارة . ص ١٣٣
- ٣- (عنف) سلوك عدواني موجه ضد الغير يتسم بالتخريب والتدمير سواء كان ذلك السلوك قولاً أو فعلاً . ص ١٤٤
- ٤- (طبقة الأوزون) درع واق للأحياء ضد خطر الأشعة فوق البنفسجية الضارة . ص ١٣٥
- ٥- (نمو سكاني) تغير يحدث لعدد السكان نتيجة للزيادة الطبيعية وغير الطبيعية . ص ١١١
- ٦- (ترانزيت) إعادة تصدير البضائع المستوردة . ص ٩٩

هـ (أكمل المخططات السهمية التالية :-

١- الصناعات القائمة في دول الخليج العربية : ص ٩٦

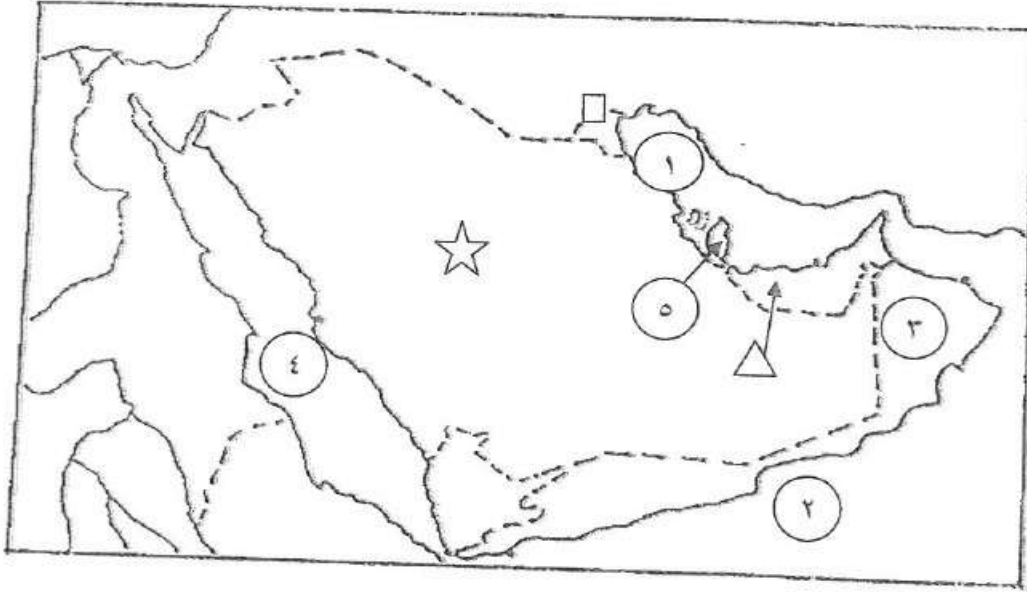


٢- الروابط التي تربط سكان دول الخليج العربية : ص ١١٧ - ص ١٢٠



تابع / السؤال الأول :-

و) أمامك خريطة شبه الجزيرة العربية الصماء نفذ المطلوب عليها :



١- اكتب الرقم الدال على العبارات التالية :

- الخليج العربي يمثله على الخريطة الرقم ١ . ص ٩٢

- هجرة آل بوسعيد واليعاربة يمثلهما على الخريطة الرقم ٣ . ص ١٠٨

- حضارة أم النار يمثلهما على الخريطة الرقم ٥ . ص ١٠٥

٢- حدد كل مما يلي على الخريطة باستخدام الرموز التالية :

- الدولة الخليجية التي لها تجربة رائدة في إنتاج محصول القمح باستخدام الرمز ☆ ص ٩٢

- منطقة العبدلي الزراعية باستخدام الرمز □ ص ٩٢

- الدولة الخليجية الأولى في نسبة الوافدين باستخدام الرمز △ ص ١١٢

السؤال الثاني : ويتكون من (أ ، ب ، ج) :-

أ) فرق بين كل مما يلي :- ٤ درجات

إنتاج النفط ص ٨٨	إحتياطي النفط
كميات النفط التي يتم استخراجها للاستفادة منها .	كميات النفط المخزونة في باطن الأرض .
صادرات ص ٩٩	واردات
السلع والمنتجات التي تبيعها دولنا للخارج .	البضائع والسلع التي تشتريها دولنا من الخارج .

ب) علل لما يأتي :- ٤ درجات لكل سؤال درجتان (يكتفي بنقطتين)

- ١- النمو السكاني المفاجيء في منطقة الخليج العربية بعد اكتشاف النفط . ص ١١٠
- ارتفاع دخل الفرد . - توفير الرعاية الصحية . - توفر فرص العمل .
- ٢- حدوث التلوث البحري . ص ١٣٦
- مخلفات المصانع . - النفط ومشتقاته . - النفايات الخطرة .
- مياه الصرف الصحي غير المعالجة . - الأمطار الحمضية . - مياه الصرف الزراعي .

ج) اكتب مما درست حول : ٤ درجات لكل سؤال درجتان (يكتفي بنقطتين)

- ١ - مظاهر التعاون السياسي بين دول الخليج العربية . ص ١٢٩
- ادانة احتلال الجزر الإماراتية الثلاث .
- مناصرة القضايا العادلة مثل قضية الشعب الفلسطيني وحقه في تقرير مصيره .
- توحيد الموقف السياسي الخليجي تجاه عدوان النظام العراقي البائد على دولة الكويت .
- ٢ - النتائج المترتبة على حرق آبار النفط الكويتية . ص ١٣٩
- تكون بحيرات نفطية أحدثت تلوث للتربة وتدمير للحياة الفطرية .
- إشعال الآبار سبب كميات كبيرة من الدخان محدثا تلوثا هوائيا .
- تساقط الرذاذ النفطي على التربة محدثا تلوثا أرضيا حيث تحول لون الرمال من اللون الأصفر إلى الأسود .
- آثار خطيرة على صحة الإنسان والكائنات الحية .

السؤال الثالث : ويتكون من (أ ، ب ، ج) :-

(أ) علل لما يلي :- ؛ درجات لكل سؤال درجتان (يكتفي بنقطتين)

١ - قيام دول الخليج العربية بإقامة العديد من الموانئ النفطية . ص ٩٠
-زيادة انتاج النفط .
-زيادة الطلب العالمي للنفط .

٢ - انخفاض الكثافة السكانية في دول الخليج العربية قديما . ص ١١٣
-الموقع الصحراوي .
- الفقر الشديد .

(ب) اكتب مما درست حول :- ؛ درجات لكل سؤال درجتان (يكتفي بنقطتين)

١ - الأضرار الناتجة عن التلوث الأرضي (التربة) . ص ١٣٤
- تلوث الإنتاج الزراعي مما يؤثر على صحة الإنسان .
- ضعف قدرتها على الإنتاج الزراعي .

٢ - جهود دول الخليج العربية لحل مشكلة العمالة المنزلية . ص ١٥٠
-الاهتمام الجاد بالقرآن الكريم والسنة النبوية الشريفة .
-يتحمل كل فرد في الأسرة مسؤولية والقيام بدورة خير قيام .
-جعل مهمة الخادم مقصورة على ممارسة دورة الأساسي في المساهمة في تحمل أعماء المنزل لا غير .

(ج) عرف المفاهيم التالية : ؛ درجات

١ - زراعة بدون تربة : الزراعة التي تتم في بيئة مائية أو مائية أو رملية أو نشارة خشب تضاف إليها المحاليل الغذائية .
ص ٩٤

٢ - سلالة : مجموعة من الناس تشترك فيما بينها في الصفات الجسمانية الرئيسية كلون الجلد وشكل الأنف وشكل الشعر وطول القامة وما إليها وتختلف عن غيرها من السلالات في هذه الصفات . ص ١٠٦

٣ - كثافة سكانية : عدد السكان في الكيلو متر المربع وتقاس بقسمة عدد السكان على مساحة الدولة . ص ١١٤

٤ - تلوث ضوضائي : أصوات غير متجانسة تجتاز شدتها المعدل الطبيعي المسموح به للأذن . ص ١٣٤

انتهت الأسئلة مع تمنياتنا لكم بالتوفيق والنجاح ...