



وزارة التربية
MINISTRY OF EDUCATION

الإدارة العامة لمنطقة مبارك الكبير التعليمية

امتحان نهاية الفترة الدراسية الاولى

2024 \ 2023

السابع

الصف

الاجتماعيات

المادة



نموذج اجابة

الإدارة العامة لمنطقة مبارك الكبير التعليمية



وزارة التربية

الإدارة العامة لمنطقة مبارك الكبير التعليمية

التوجيه الفني للاجتماعيات

امتحان نهاية الفترة الدراسية الأولى

مقرر / (الكويت والوطن العربي)

للمصف السابع (نموذج الإجابة)

العام الدراسي : ٢٠٢٣/٢٠٢٤ م

الزمن : ساعة و ٤٥ دقيقة

عدد الأوراق : (٦)

السؤال الأول (موضوعي) يتكون من (أ - ب - ج - د - هـ - و - ز) : (لكل إجابة درجة ١ × ٣٠ = ٣٠ درجة)

(أ) ضع خطأ تحت الخيار الصحيح من بين الخيارات التي تلي كل عبارة مما يلي :

- ٤٢ص ١ - مساحة كبيرة من سطح الأرض تتميز باستوائها و قلة ارتفاعها :
- الجبال - التلال - السهول - الهضاب
- ٢٣ص ٢ - تبلغ مساحة الوطن العربي :
- ١٣ مليون كم - ١٣,٥٠٠ مليون كم - ١٤ مليون كم - ١٤,٥٠٠ مليون كم
- ٦١ص ٣ - الدولة التي توجد بها محطة الشويخ لتحلية مياه البحر :
- قطر - البحرين - الكويت - العراق
- ٢٣ص ٤ - أكبر دولة عربية من حيث المساحة في الجناح الآسيوي :
- السعودية - الامارات - عمان - سوريا
- ٩٠ص ٥ - العام الذي نزل فيه القرآن الكريم على سيدنا محمد عليه الصلاة و السلام :
- ٦٠٠ م - ٦١٠ م - ٦٢٠ م - ٦٣٠ م

(ب) أكمل العبارات التالية بما يناسبها :

- ٨٩ص ١- اسم أطلق على البحرين قديماً نسبة إلى صنم اسمه أوال
- ٤٨ص ٢- الرياح المحلية التي تهب من جهة الغرب على دولة الكويت تسمى طوز
- ٢٨ص ٣- مجرى مائي صناعي ضيق يشق لأغراض الري أو النقل يسمى الفتاة
- ٨٦ص ٤- المملكة التي حكمتها الملكة " بلقيس " اسمها سبأ
- ٣٣ص ٥- موقع الدولة بالنسبة لليابسة و الماء يسمى الموقع النسبي



تابع / السؤال الأول (موضوعي) :

(ج) صنف المظاهر الحضارية التالية حسب مكانها الصحيح في الجدول التالي :

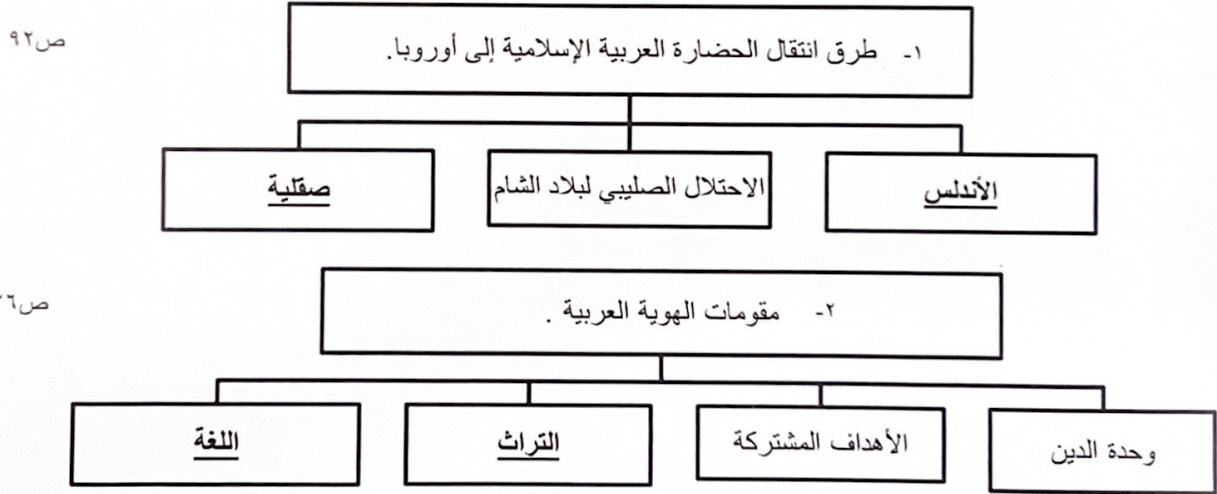
(حدائق بابل المعلقة - مسجد قرطبة - الخط المسند - الكتابة المسمارية)

| بلاد الرافدين | الحضارة العربية الإسلامية | بلاد اليمن |
|---|---------------------------|------------------|
| حدائق بابل المعلقة ص ٨٢ الكتابة المسمارية ص ٨٣ | مسجد قرطبة ص ٩٢ | الخط المسند ص ٨٧ |

(د) صح ما تحته خط في العبارات التالية وذلك بكتابة الإجابة الصحيحة ما بين الأقواس :



- ١- الدولة العربية التي تقع خارج نطاق موقع الوطن العربي اسمها اليمن (جزر القمر) ص ٢٣
- ٢- مجرى مائي عذب ينحدر على الدوام لينتهي إلى بحر أو إلى نهر أو ينتهي تدريجياً في الصحراء يسمى البحيرة (النهر) ص ٥٨
- ٣- بلاد الرافدين تعني بلاد ما بين النهرين و يطلق عليها حالياً اسم الأردن (العراق) ص ٧٩
- ٤- حشائش طويلة يختلف نوعها حسب كمية الأمطار تسمى الحشائش المعتدلة (الاستبس) (الحشائش الحارة) أو (السافانا) ص ٥٢
- ٥- المضيق الذي يصل بين البحر المتوسط والمحيط الأطلسي يسمى باب المنذب . (جبل طارق) ص ٢٩

(هـ) أكمل المخططات السهمية التالية :

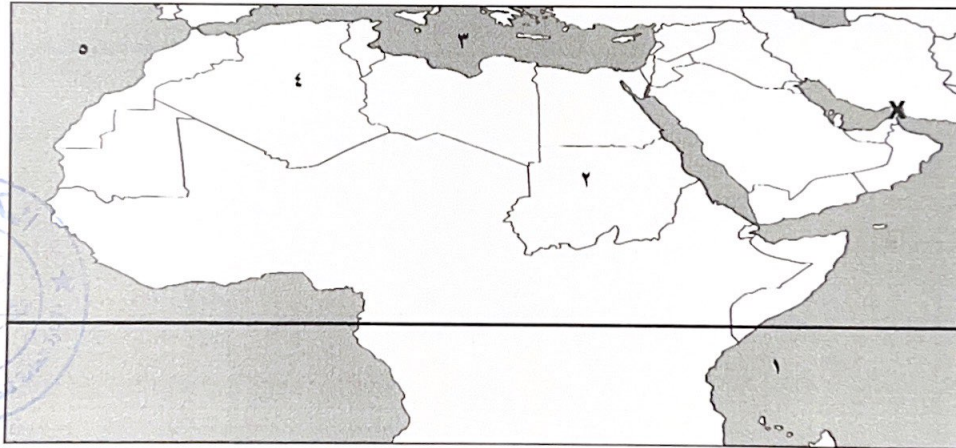


تابع / السؤال الأول (موضوعي):

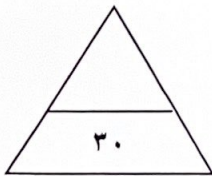
(و) اختر للمجموعة (أ) ما يناسبها من المجموعة (ب) بوضع الرقم الصحيح في المكان المناسب :

| م | المجموعة (أ) | الرقم | المجموعة (ب) |
|---|--|-------|--|
| ١ | جامع المنصور الذي ينتمي للحضارة العربية الإسلامية ص ٩٢ | ٣ |  |
| ٢ | الأهرامات التي تنتمي للحضارة المصرية القديمة ص ٧٧ | ١ |  |
| ٣ | أسد بابل الذي ينتمي لحضارة بلاد الرافدين ص ٧٢ | ٢ |  |

(ز) لاحظ خريطة الوطن العربي الصماء ثم نفذ المطلوب :



- ١- يمثل الرقم (٣) على الخريطة مسطح مائي يسمى البحر المتوسط . ص ٣٣
 - ٢- جمهورية السودان يمثلها على الخريطة الرقم (٢) . ص ٢٣
 - ٣- ضع علامة (X) على موقع مضيق هرمز على الخريطة . ص ٢٨
 - ٤- ارسم خط (—) الاستواء على خريطة الوطن العربي . ص ٣١
- مجموع درجات السؤال الأول بالحروف



السؤال الثاني (المقالى) يتكون من (أ - ب - ج) :

(أ) عرف المفاهيم أو المصطلحات التالية :

- ١- النبات الطبيعي: هو النبات الذي ينمو تلقائياً عقب سقوط المطر دون تدخل من الانسان . ص ٥١ (درجة)
- ٢- الموقع الإستراتيجي : أي موقع ذي مكانة مهمة بين دول العالم . ص ٢٨ (درجة)

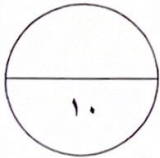
(ب) قارن بين كل من حسب المطلوب منك في الجدول التالي :

| أوجه المقارنة | الإسلام ص ٩٠ | المسيحية ص ٩٠ |
|----------------|---------------------------------|---------------------------------|
| النبي | محمد عليه الصلاة والسلام (درجة) | عيسى بن مريم عليه السلام (درجة) |
| الكتاب السماوي | القرآن الكريم (درجة) | الإنجيل (درجة) |

(ج) علل لما يلي :

- ١- المدن الساحلية أكثر اعتدالاً في المناخ صيفاً و أدفأ نسبياً شتاءً . ص ٤٦ (درجة)
- لأن البحر يلطف من درجة حرارتها .
- ٢ - مقاومة النبات الصحراوي للجفاف . ص ٥٢ (درجتان - يكتفى بنقطتين)
- بسبب جذورها الطويلة - قدرتها على تخزين الماء - تحمي نفسها بلحاء سميك وأوراق إبرية .
- ٣- اهتمام المصريين القدماء بتحنيط جثث موتاهم . ص ٧٦ (درجة)
- بسبب اعتقاد المصريون القدماء أن الحياة تعود إلى الجسم بعد الموت، أي انهم اعتقدوا في " البعث و الخلود " .

مجموع درجات السؤال الثاني بالحروف



السؤال الثالث (المقالى) يتكون من (أ - ب) :

(أ) عدد اثنين لكل مما يلي :

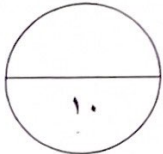
١- العوامل التي ساهمت في ازدهار الزراعة في بلاد الرافدين .
ص ٨١ (درجتان - يكتفى بنقطتين)
- خصوبة تربتها - سعة سهولها - وفرة مياهها - إقامة السدود على الأنهار - جفوا المستنقعات - استصلحوا الأراضي .

٢- عوامل قيام الحضارة .
ص ٧٣ (درجتان - يكتفى بنقطتين)
- الموقع الإستراتيجي - توافر مصادر المياه العذبة - اعتدال المناخ - توافر الثروات الطبيعية - توافر العنصر البشري .

٣- العوامل الرئيسية المؤثرة في تنوع النبات الطبيعي في الوطن العربي .
ص ٥١ (درجتان)
- نوع التربة - المناخ .

(ب) قارن بين كل من حسب المطلوب منك في الجدول التالي :

| أوجه المقارنة | الغابات المدارية الحارة ص٥٢ | الغابات المعتدلة ص٥٢ |
|----------------|--|---|
| مميزات الأشجار | تمتاز بضخامة أشجارها وجذوعها /وتشابك أغصانها وأوراقها العريضة / وارتفاعها الكبير . (درجة - إجابة واحدة) | تتسم هذه الغابات بعدم كثافتها /وبعضها يكون دائم الخضرة وبعضها الآخر تتساقط أوراقه في فصل الشتاء . (درجة - إجابة واحدة) |
| أهم الأشجار | الساج - الماهوجني - التاك - الأبنوس - السدر - الأثل - السنط . (درجة - إجابة واحدة) | الأرز - العرعر - الصنوبر الحلبي - البلوط - السنديان - الزيتون -التفاح - و الحمضيات - و الفواكه البرية . (درجة - إجابة واحدة) |



مجموع درجات السؤال الثالث بالحروف






السؤال الرابع (المقالى) يتكون من (أ - ب - ج) :
(أ) فرق بين كل مما يلي من حيث التعريف :

| المناخ | الطقس |
|--|---|
| حالة الجو خلال فترة زمنية طويلة من حيث درجة الحرارة والرطوبة والأمطار والرياح. ص ٤٤ (درجة) | وصف حالة الجو في مكان ما لمدة قصيرة تتراوح بين يوم أو عدة أيام. من حيث درجة الحرارة والرطوبة والأمطار والرياح وضغط الجوي. ص ٤٤ (درجة) |

(ب) أجب عن الأسئلة التالية :

- ١- عدد - صفات الأمطار في الوطن العربي .
ص ٥٩ (درجتان - يكتفى بنقطتين)
- تنذبذ كمية الامطار بين عام و آخر ، كما أنها تسقط في أيام معدودة .
- الأمطار في الوطن العربي تكاد تقتصر على الأطراف الشمالية والأطراف الجنوبية منها .
- تتصف الأمطار بأنها قليلة بصفه عامة ، ولا يستثنى من ذلك سوى المناطق التي تقع من ورائها الجبال .
- ٢- علل - تنافس الدول الاستعمارية للاستيلاء على الوطن العربي منذ القرن ١٨ الميلادي . (درجة - يكتفى بنقطة)
- بسبب الموقع الجغرافي (الاستراتيجي) المهم - يشغل مكاناً وسطاً بين قارات العالم الثلاث - يطل على مسطحات مائية واسعة ذات أهمية كبيرة للملاحة والتجارة العالمية .
ص ٣٥
- ٣- عرف - الحضارة : كل ما يطرأ على المجتمع من تقدم وتطور ورقي في جميع نواحي الحياة الدينية و السياسية والاقتصادية والاجتماعية والفكرية .
ص ٧١ (درجة)

(ج) لاحظ الصورة التي أمامك ثم أجب عن الأسئلة التالية :



- ١- الكتابة التي تمثلها الصورة تسمى الكتابة الهيروغليفية . ص ٧٨ (درجة)
- ٢- الحضارة التي اشتهرت بها هذه الكتابة تسمى الحضارة المصرية القديمة . ص ٧٦ (درجة)
- ٣- عدد - العلوم و الفنون التي تميز فيها سكان هذه الحضارة . ص ٧٧ (درجتان - يكتفى بإجابتين)
- الفلك - الكيمياء - التحنيط - النحت - البناء - الكتابة الهيروغليفية .

مجموع درجات السؤال الرابع بالحروف

انتهت الأسئلة

