

تم تحميل هذا الملف من موقع المناهج الكويتية



الملف نموذج إجابة التعليم الخاص

موقع المناهج ← المناهج الكويتية ← الصف التاسع ← اجتماعيات ← الفصل الأول

روابط مواقع التواصل الاجتماعي بحسب الصف التاسع



روابط مواد الصف التاسع على تلغرام

[الرياضيات](#)

[اللغة الانجليزية](#)

[اللغة العربية](#)

[التربية الاسلامية](#)

المزيد من الملفات بحسب الصف التاسع والمادة اجتماعيات في الفصل الأول

مسودة كتاب الطالب اجتماعيات لعام 2018	1
نموذج اجابة اختبار لعام 2017 تعليم خاص	2
نموذج اجابة اختبار لمنطقة العاصمة لعام 2016 في مادة الاجتماعيات	3
مراجعة رائعة للفصل الاول في مادة الاجتماعيات	4
حل تقويم الكورس الاول في مادة الاجتماعيات	5

نموذج الإجابة

امتحان نهاية الفترة الدراسية الأولى

لمادة الإجتماعيات للصف التاسع المتوسط

(الكويت والعالم)

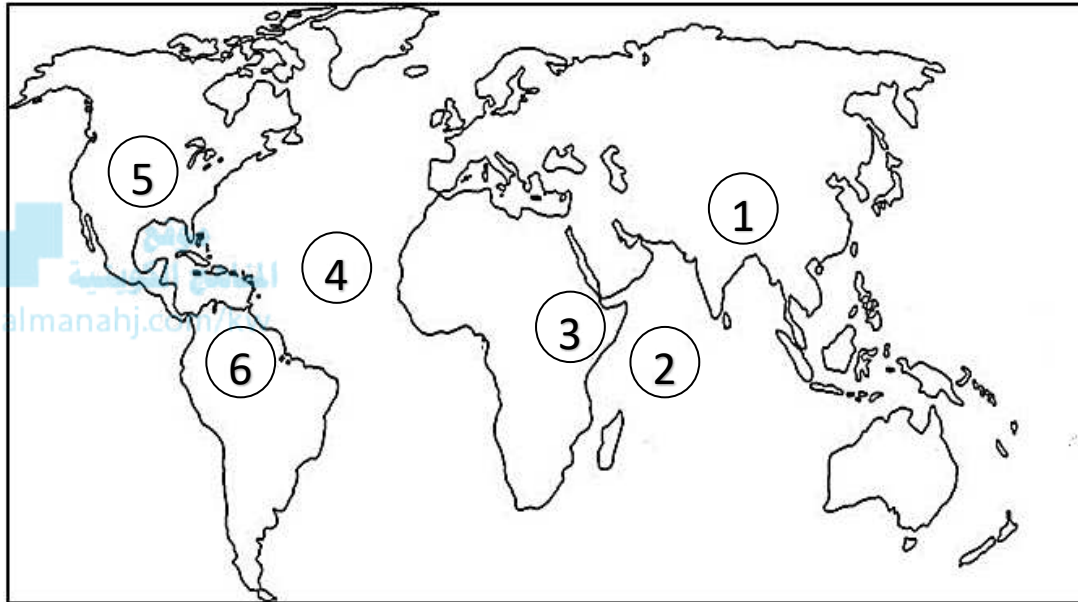
العام الدراسي: 2021-2022م

الزمن : ساعة وخمس وأربعون

عدد الأوراق : 5

السؤال الأول : يتكون من (أ ، ب ، ج) :

(أ) لاحظ خريطة العالم ثم اكتب الرقم الدال على العبارات التالية: (4 درجات)



- جبال الهيمالايا يمثلها على الخريطة الرقم (1) ص 25
- المحيط الأطلنطي يمثلها على الخريطة الرقم (4) ص 20
- هضبة أثيوبيا يمثلها على الخريطة الرقم (3) ص 25
- سهل السلفاس يمثلها على الخريطة الرقم (6) ص 25

(ب) اكتب المصطلح أو المفهوم الدال للعبارة التالية : (6 درجات)

م	المفهوم أو المصطلح	العبارة
1	<u>البيئة الطبيعية</u>	كل ما يحيط بالإنسان من ظاهرات حيه وغير حيه ليس للإنسان أي دخل في وجودها وتتمثل في بنية الأرض والتضاريس والمناخ والنبات الطبيعي والحيوانات. ص 15
2	<u>المناخ</u>	حالة الجو خلال فترة زمنية طويلة. ص 27
3	<u>التلوث الضوضائي</u>	خليط متنافر من الأصوات ذات استمرارية غير مرغوب فيها. ص 69
4	<u>الإحتباس الحراري</u>	الزيادة في متوسط حرارة الأرض والذي نتج عن التغيرات المناخية واضطراب الأنظمة البيئية بسبب زيادة كمية غاز ثاني أكسيد الكربون والميثان. ص 80
5	<u>الدبلوماسية</u>	أداة لتشكيل وتنفيذ السياسة الخارجية من أجل إقامة وتطوير علاقات سلمية بين حكومات الدول، تتم عبر الإتصال المباشر بين وزراء الخارجية أو رؤساء الدول. ص 95
6	<u>نظام GPS</u>	نظام تحديد المواقع العالمي مبني على الأقمار الصناعية. ص 100

تابع / السؤال الأول :

(ج) ظلل الخيار الصحيح من بين الخيارات التي تلي كل عبارة: (5 درجات)

1- خط الأساس لخطوط الطول ورقمه صفر : ص 18

خط الإستواء	خط التاريخ الدولي	خط جرينتش	خط الطول
-------------	-------------------	-----------	----------

2- تقع الكويت في قارة آسيا في الجهة : ص 20

الجنوبية	الجنوبية الغربية	الشمالية	الشمالية الغربية
----------	------------------	----------	------------------

3- نسبة مساحة البحار والمحيطات بالنسبة لمساحة الكرة الأرضية : ص 30

%41	%51	%61	%71
-----	-----	-----	-----

4- تحررت دولة الكويت من الغزو العراقي الغاشم عام : ص 63

1991م	1992م	1993م	1994م
-------	-------	-------	-------

5- أكثر الغازات انتشاراً ضمن مكونات الغلاف الجوي وتبلغ نسبته %78 : ص 63

الأكسجين	ثاني أكسيد الكربون	النيتروجين	غازات أخرى
----------	--------------------	------------	------------

السؤال الثاني : يتكون من (أ ، ب ، ج):

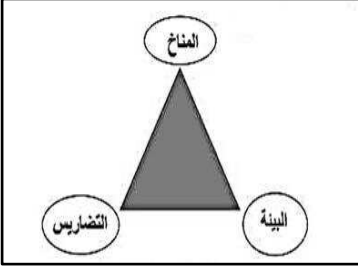
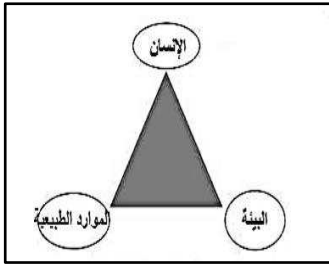






(أ) صنف العبارات التالية بوضع الرقم في المكان المناسب حسب الجدول التالي: (6 درجات) ص 99

- 1- اختلاف اللغة والعادات
2- توافر فرص العمل
3- دعم النمو الإقتصادي
4- اختلاف العملات
5- تعزيز العلاقات بين الدول
6- انتشار التلوث البيئي

مميزات التجارة الدولية	عيوب التجارة الدولية
2	1
3	4
5	6

تابع / السؤال الثاني:

(ب) ضع علامة (√) تحت الصورة التي تمثل العبارات التالية: (4 درجات)

 <p>()</p>	 <p>(√)</p>	<p>1- أضلاع مثلث الحياة: ص 15</p>
 <p>(√)</p>	 <p>()</p>	<p>2- التوازن البيئي : ص 16</p>
 <p>(√)</p>	 <p>()</p>	<p>3- منظمة الأغذية والزراعة للأمم المتحدة : ص 68</p>
 <p>()</p>	 <p>(√)</p>	<p>4- أحد أشكال التواصل المباشر في العلاقات الدولية : ص 91</p>

(ج) أكمل العبارات التالية بما يناسبها : (5 درجات)

- 1- أكبر دول العالم من حيث المساحة تسمى روسيا ص 20
- 2- أول رياضي عربي يتسلق قمة إفرست اسمه زيد السيد الرفاعي ص 25
- 3- مساحة من الأرض ذات خصائص مناخية متشابهة وتمتيزة عن غيرها تسمى الأقاليم المناخية ص 27
- 4- أحد درجات التلوث ينهار فيها النظام الأيكولوجي يسمى المدمر ص 62
- 5- منظمة الدول المصدرة للنفط تسمى أوبك ص 102

السؤال الثالث : يتكون من (أ ، ب ، ج) :

مصادر المياه العذبة المنتجة في دول مجلس التعاون	
النسبة المئوية	المصدر
18%	مياه السدود
52%	مياه التحلية
15%	المياه الجوفية
15%	مياه الصرف الصحي

(أ) لاحظ الجدول التالي ثم أجب عما يلي : 5 درجات ص 78

1- **أذكر** أعلى مصدر للمياه العذبة المنتجة في دول مجلس التعاون.

مياه التحلية 52% (درجة)

2- **علل** ندرة المياه بدول مجلس التعاون لدول الخليج العربية.

3 درجات (يكتفى ب ثلاث نقاط)

- النمو السكاني - التوسع العمراني والتنمية - عدم وجود

أنهار دائمة - الموقع الجغرافي ذو المناخ الصحراوي

- قلة سقوط الأمطار - ارتفاع نسبة الملوحة بالمياه الجوفية .

3- **أرسم دائرة بيانية** لنسبة مصادر المياه الجوفية المنتجة في دول مجلس التعاون.(درجة)



(ب) فرق بين كل من المفاهيم التالية : 4 درجات (درجة لكل نقطة)

الموقع النسبي ص 20	الموقع الفلكي ص 18
موقع الدولة بالنسبة لليابس والماء	موقع الدولة بالنسبة لخطوط الطول ودوائر العرض
المساعدات الطارئة ص 105	المساعدات المالية ص 105
المعونات الإغاثية والغذائية المباشرة التي تلجأ الدول إليها في الحالات الخاصة	عبارة عن تقديم قروض أو منح مالية أو تبادل دين

(ج) أجب عما يلي: 6 درجات (لكل نقطة درجة)

1- عدد العوامل المؤثرة على العلاقات السياسية بين الدول . ص 94 (يكتفى بثلاث نقاط)

- العوامل الداخلية - العوامل الخارجية - العوامل البيئية - العوامل العسكرية

- العوامل الجغرافية - العوامل الصناعية - العوامل الاقتصادية

2- أذكر أضرار تلوث التربة . ص 67 (يكتفى بثلاث نقاط)

- قلة الإنتاج الزراعي الذي يحتاجه الإنسان . - انقراض بعض النباتات والحيوانات

- ازدياد الطفيليات والبكتيريا ومسببات الأمراض للإنسان بسبب تلوث المحاصيل الزراعية.

- تلوث المياه الجوفية ومياه البحار التي يعتمد عليها الإنسان في الشرب .

السؤال الرابع: يتكون من (أ ، ب ، ج):

(أ) اقرأ الفقرة التالية ثم أجب عما يليها من أسئلة : (5 درجات)

" تعد مشكلة **التصحّر** من الظواهر المهمة وأصبحت آثارها لا تقتصر على منطقة محددة دائماً تشكل مساحة كبيرة وفي معظم القارات ولا سيما في قارة أفريقيا مما أدى الى قلة إنتاج المحاصيل والذي ينعكس على تغذية الإنسان والحيوان وقد أولت الأمم المتحدة اهتماماً كبيراً بهذه المشكلة وتم تخصيص يوم السابع عشر من شهر يونيو من كل عام ليحتفل العالم باليوم العالمي لمكافحة الجفاف والتصحر . "

1- **عرف** ماتحته خط . (درجة) ص 72

- **التصحّر** هو تناقص في قدرة الإنتاج البيولوجي للأرض أو تدهور خصوبة الأراضي المنتجة بالمعدل الذي يكسبها ظروف تشبه الأحوال المناخية الصحراوية .

2- **متى يحتفل العالم باليوم العالمي لمكافحة الجفاف والتصحر ؟** (درجة)



17 يونيو / السابع عشر من شهر يونيو

3- **عدد** مظاهر التصحر ؟ درجتان (يكتفى بنقطتين)

- تعرية التربة - انتشار وزحف الكثبان الرملية - تدهور وزوال غطاء النبات الطبيعي - تملح التربة

4- **اذكر** جهود دولة الكويت للتغلب على مشكلة التصحر . ص 74 (درجة)

- قيام دولة الكويت بعمل محميات طبيعية بأماكن عديدة تحت إشراف الهيئة العامة للبيئة. (وما يراه المصحح مناسباً)

(ب) قارن بين كل من : ص 24 (6 درجات)

السهول	الجبال	وجه المقارنة
مساحة كبيرة من سطح الأرض تتميز باستوائها، وقلّة ارتفاعها	كل مرتفع من الأرض وله قمة لا يقل ارتفاعها عن 1000 متر	التعريف
41%	12%	النسبة التي تمثلها من مساحة القارات
أفضل المناطق استقراراً	أقل صلاحية للإستقرار	صلاحيتها للإستقرار البشري

(ج) أكتب في اثنين لكل مما يلي : 4 درجات (لكل نقطة درجة)

1- مميزات البيئة المعتدلة . ص 31 (يكتفى بنقطتين)

- ممارسة العديد من الأنشطة . - تنوع الحياة النباتية والحيوانية أكثر من البيئات الأخرى.

- ازدياد البناء والاستقرار عن غيرها من البيئات . - إمكانية إقامة النشاط الزراعي والصناعي فيها.

2- مصادر تلوث الهواء . ص 63 (يكتفى بنقطتين)

- الغازات المنبعثة من وسائل المواصلات البرية والجوية والبحرية ومولدات الطاقة .

- ذرات الرماد والأتربة . - حرق نفايات المنشآت المنزلية والصناعية .

انتهت الأسئلة