

مراجعات الصف السابع الفصل الثاني

المعلمة / منى الشماع

السؤال الأول : أكمل الجمل التالية :

- زيادة عدد السكان عن طريق الهجرة مفهوم يسمى
- أكثر دول الوطن العربي من حيث عدد السكان دولة تسمى.....
- تشغل موريتانيا المرتبة الأولى بين دول الوطن العربي في إنتاج معدن يسمى
- تشكل المساحة المزروعة من أراضي الوطن العربي ما نسبته %
- يبلغ عدد سكان دول الوطن العربي حوالي مليون نسمة
- يتألف الوطن العربي من دولة
- تم إجراء أول تعداد سكاني في دولة الكويت في عام
- أكبر دول الوطن العربي من حيث المساحة دولة تسمى
- أقل دول الوطن العربي سكاناً دولة تسمى
- يطلق على الغلات التي تزرع بغرض التجارة والحصول على النقد اسم
- أصغر دول الوطن العربي من حيث المساحة دولة تسمى
- أولى دول الوطن العربي إنتاجاً للغاز الطبيعي دولة تسمى

السؤال الثاني : اختر الإجابة الصحيحة من بين البدائل الموجودة بين الأقواس :

1. من الحبوب الغذائية بالوطن العربي :
(القطن - الزيتون - القمح - العنب)
2. الدولة العربية التي تحتل المركز الأول بإنتاج البن تسمى :
(اليمن - تونس - لبنان - الصومال)
3. بلغ معدل النمو السكاني السنوي بالوطن العربي عام 2006 حوالي :
(2,20 % - 3,20 % - 4,20 % - 5,20 %)
4. من المقومات الطبيعية للإنتاج الزراعي :
(رأس المال - الأسواق - المناخ - الأيدي العاملة)

5. تعرف الهجرة من الريف للمدينة باسم :

(معدل السكان - هجرة خارجية - هجرة داخلية - زيادة طبيعية)
أكثر أنواع الثروة الرعوية انتشارا في الوطن العربي :

(الأبقار - الإبل - الماعز - الأغنام)

6. تبلغ نسبة إنتاج الوطن العربي من الإنتاج العالمي للنفط حوالي :

(20% - 30% - 40% - 50%)

7. الدولة العربية الأولى في إنتاج الفوسفات والنحاس والمنجنيز تسمى :

(تونس - المغرب - مصر - السعودية)

السؤال الثالث : صحح الكلمة الخاطئة التي تحتها خط ، واكتب الإجابة الصحيحة بين القوسين :

- من المناطق الزراعية الهامة في الكويت منطقة الشعبية. ()
- الدولة العربية التي تحتل المركز الأول في تربية الأغنام والماعز تسمى العراق. ()
- أولي الدول العربية إنتاجا للنحاس دولة تسمى موريتانيا. ()
- تتنوع المحاصيل الزراعية في الوطن العربي بتنوع المياه. ()
- تختزن أراضي الوطن العربي كمية من الاحتياطي العالمي للنفط تبلغ 90%. ()
- أولي الدول العربية من حيث إنتاج النفط واحتياطيه الإمارات. ()

السؤال الرابع : بم تفسر (اذكر السبب) :

- تركز زراعة الحمضيات والمواالح في حوض البحر المتوسط .

- يطلق على الغاز الطبيعي اسم الطاقة النظيفة .

• هجرة الأيدي العاملة في الدول العربية إلى منطقة الخليج العربي .

• امتلاك الصومال معظم ثروة الوطن العربي من الإبل .

• مساهمة المغرب بأكثر من ثلث الإنتاج العربي من الأسماك .

• تحتل الأغنام مكانة مهمة ضمن الثروة الرعوية في الوطن العربي .

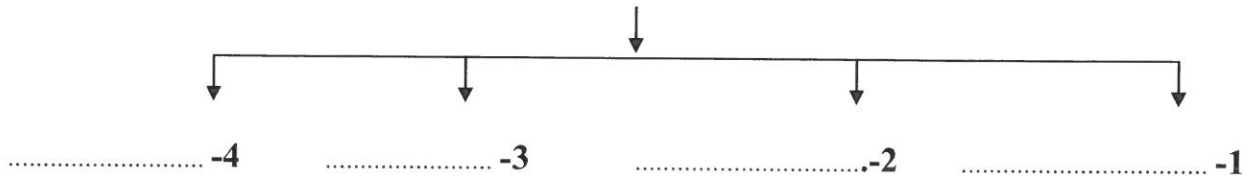
• تنوع الثروة المائية في الوطن العربي .

السؤال الخامس : قارن بين كل من منظمة الأوبك ومنظمة الأوابك حسب الجدول التالي :

منظمة الأوابك	منظمة الأوبك	وجه المقارنة
.....	سنة التأسيس
.....	المقر
.....	عدد الأعضاء الحاليين
.....	الأهداف

السؤال السادس : أكمل المخططات السهمية التالية :

(أ) المقومات الطبيعية للإنتاج الزراعي



الموارد الطبيعية	الموارد البشرية
.....
.....

السؤال التاسع: : اكتب اسم المصطلحات التالية بين القوسين :

- الغلات التي تزرع بغرض التجارة الحصول على النقد . ()
- بقايا عضوية على هيئة نباتات وحيوانات دقيقة ترسبت في عصور قديمة وتحولت بالضغط والحرارة إلى صورتها الحالية . ()
- قوى محركة للآلات وعنصر مهم للتقدم والتطور الاقتصادي في جميع المجالات . ()

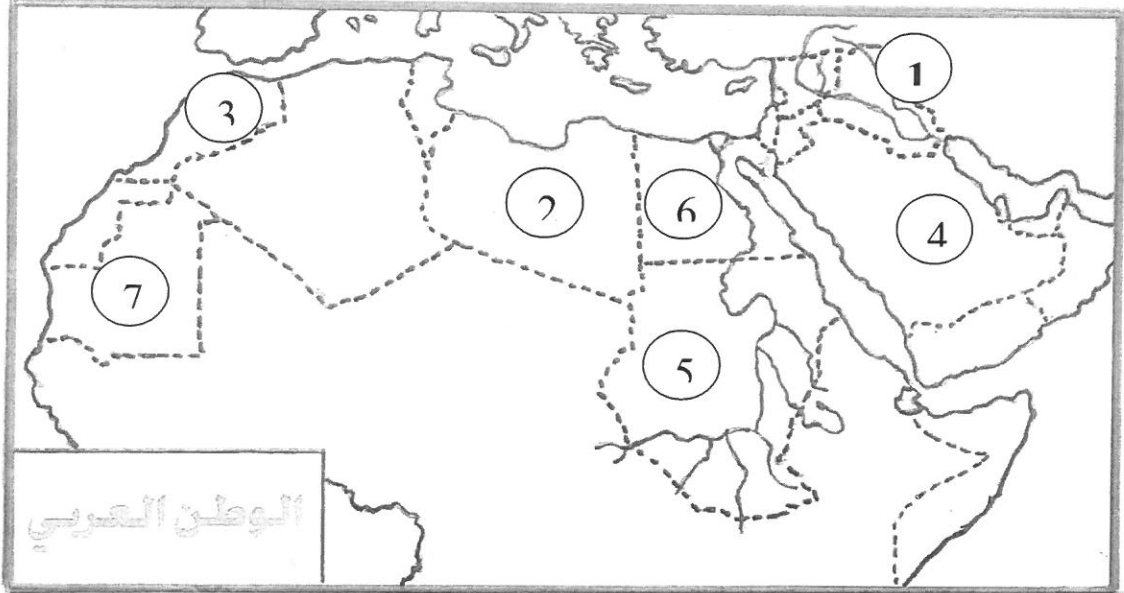
السؤال التاسع: اكتب نقطتين فيما يلي:





- أهمية القطاع الزراعي بالنسبة للاقتصاد العربي .
أ-
ب -
- أهمية النفط العربي على المستوي العالمي .
أ-
ب -
- عدم استغلال الأراضي الصالحة للزراعة في الوطن العربي .
أ-
ب -

السؤال العاشر: ما المقصود بكل من :

- (1) الإحصاء الحيوي:
- (2) النمو السكاني :
- (3) الغاز الطبيعي:
- (4)الكثافة السكانية :

السؤال الحادي عشر : لاحظ خريطة الوطن العربي الصماء ،، ثم نفذ عليها المطلوب منك:



- أولي دول الوطن العربي من حيث إنتاج الأسماك تحمل على الخريطة الرقم
- أكبر دول الوطن العربي من حيث المساحة تحمل على الخريطة الرقم
- نهر دجلة يحمل على الخريطة الرقم
- أولى دول الوطن العربي من حيث إنتاج الحديد تحمل على الخريطة الرقم
- حدد موقع أكثر دول الوطن العربي امتلاكاً لأعداد الإبل وضع عليها الرمز 
- ظلل البحر المتوسط بالرمز 
- حدد موقع المحيط الأطلسي وضع عليه الرمز 
- حدد موقع أولى دول الوطن العربي إنتاجاً (اللبن) وضع عليها الرمز 
- ارسم خط الاستواء بمكانه الصحيح على الخريطة .