

تم تحميل هذا الملف من موقع ملفات الكويت التعليمية



[com.kwedufiles.www//:https](https://www.kwedufiles.com)

*للحصول على أوراق عمل لجميع الصفوف وجميع المواد اضغط هنا

* للحصول على أوراق عمل لجميع مواد الصف الثاني عشر الأدبي اضغط هنا

<https://kwedufiles.com/12>

* للحصول على جميع أوراق الصف الثاني عشر الأدبي في مادة جغرافيا وجميع الفصول, اضغط هنا

<https://kwedufiles.com/12geography>

* للحصول على أوراق عمل لجميع مواد الصف الثاني عشر الأدبي في مادة جغرافيا الخاصة بـ الفصل الثاني اضغط هنا

<https://www.kwedufiles.com/12geography2>

* لتحميل كتب جميع المواد في جميع الفصول للـ الصف الثاني عشر الأدبي اضغط هنا

<https://www.kwedufiles.com/grade12>

[bot_kwlinks/me.t//:https](https://me.t/bot_kwlinks)

للحصول على جميع روابط الصفوف على تلغرام وفيسبوك من قنوات وصفحات: اضغط هنا

الروابط التالية هي روابط الصف الثاني عشر الأدبي على مواقع التواصل الاجتماعي

مجموعة الفيسبوك

صفحة الفيسبوك

مجموعة التلغرام

بوت التلغرام

قناة التلغرام

رياضيات على التلغرام



السؤال الأول: يتكون من (أ - ب - ج) :

- أ- أكمل العبارات التالية بما يناسبها فيما درست: (٥ درجات)
- أهم الغازات الصناعية المسؤولة عن الفجوة الكبيرة الموجودة في طبقة الأوزون اسمها كربونات الكلوروفلور ص ١١٦
 - نسبة الغلاف المائي من مساحة الكرة الأرضية تبلغ حوالي ٧٠....% ص ١١٨
 - مقر منظمة السلام الأخضر العالمية مدينة تسمى فانكوفر ص ١٢٥
 - التركيب السكاني الذي يقسم السكان إلى فئات حسب نوع النشاط الذي يمارسه الفرد اسمه التركيب الاقتصادي ص ١٣٩
 - انخفاض أعداد المواليد بحيث يكون أقل من أعداد الوفيات اسمه النمو الصفري ص ١٣٥

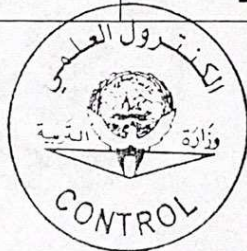
ب- ضع خطأً الخيار الصحيح من بين الخيارات التي تلي كل عبارة: (٥ درجات)

- ١- بُعد بيني توجد بيها حياة ويتمتع بها الإنسان الذي يقوم بنشاطاته المختلفة: ص ١٤
 - أ- الأيكولوجي ص ١٤
 - ب- الاقتصادي والاجتماعي ص ١٤
 - ج- القيمي ص ١٤
 - د- الثقافي ص ١٤
- ٢- دول حزام الجوع الإفريقي بين دائرتي عرض: ص ٣٢
 - أ- ١٥-٥٥ شمالاً
 - ب- ١٦-٥٦ شمالاً
 - ج- ١٧-٥٧ شمالاً
 - د- ١٨-٥٨ شمالاً
- ٣- العالم الذي أشار إلى أن التصحر هو السر للنظام البيئي الكويتي للأرض بفعلاً تأثير الإنسان: ص ٧١
 - أ- دريج
 - ب- مورينمور
 - ج- راب
 - د- أوبرفيل
- ٤- الطاقة التي استخدمت منذ آلاف السنين في تحريك السفن الشراعية: ص ٩٣
 - أ- البيولوجية
 - ب- الشمسية
 - ج- الرياح
 - د- المد والجزر
- ٥- شعار برنامج الأغذية العالمي: ص ٤٨



ج- صوب ما تحته خط في العبارات التالية: (٤ درجات)

م	العبارة	التصويب
١	جملة عدد السكان ÷ جملة الدخل = <u>الكثافة الزراعية</u> ص ١٤٠	الاقتصادية
٢	زعيم قبيلة بني خالد الذي بنى حصن مدينة الكويت قديماً اسمه <u>الشيخ صباح الأول</u> ص ١٤٦	براك بن عريعر
٣	بدأت الحكومة الكويتية بهدم السور الثالث في عام <u>١٩٥٥م</u> ص ١٤٨	١٩٥٧م
٤	الرأسمات التي تطبع الخرائط بالمقياس المطلوب وطبقاً للاحتياجات هي <u>الشبكات</u> ص ١٦٣	الطبابعات

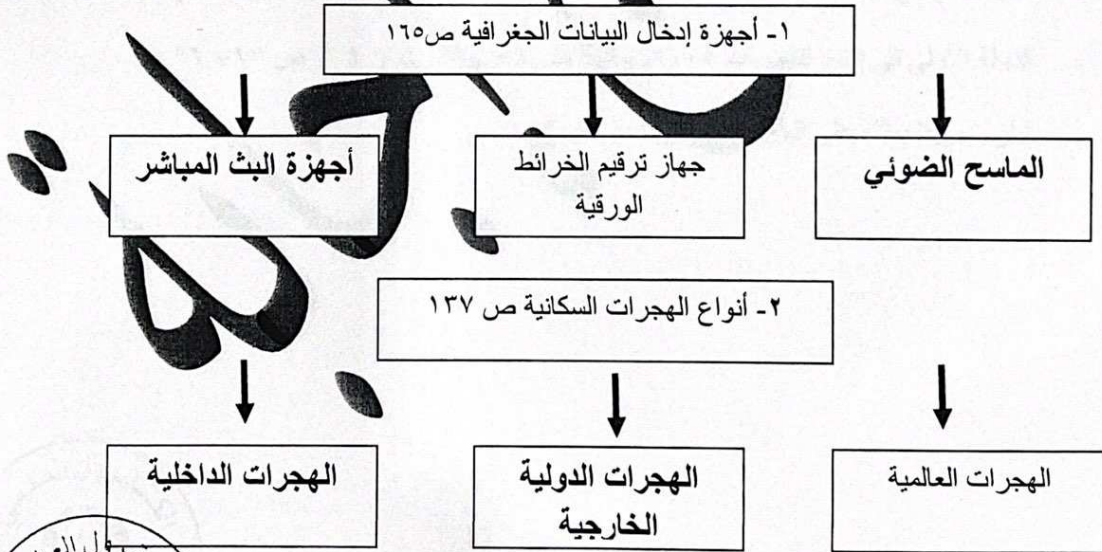


السؤال الثاني يتكون من: (أ - ب - ج):

أ- أكتب المفاهيم أو المصطلحات الدالة على العبارات التالية: (٦ درجات)

م	المفهوم	العبرة
١	البيئة	الوسط أو الإطار الذي يعيش فيه الإنسان ويستمد منه عناصر ومقومات الحياة الأساسية ويمارس فيه نشاطاته المختلفة. ص ١٤
٢	الطاقة	القدرة على القيام بعمل ما. ص ٩٣
٣	جغرافية العمران	العلم الذي يهتم بدراسة أنماط استخدام الأرض وطبيعة المباني المختلفة بالإقليم. ص ١٤٤
٤	الجغرافيا السياسية	دراسة الوحدات أو الأقاليم السياسية كظواهرات على سطح الأرض، وما تشتمل عليه هذه الوحدات من شعوب وجماعات. ص ١٥٥
٥	الموارد	جميع المصادر التي يمكن الحصول منها على المياه وهي مياه الأنهار ومياه الأمطار والمياه الجوفية المحلاة من مياه البحر ص ٦٣
٦	جوع مزمن	لا يتمكن الناس من الحصول على ما يكفي من الغذاء لفترة طويلة بسبب الفقر الناتج من المشاكل الاقتصادية ص ٥٥

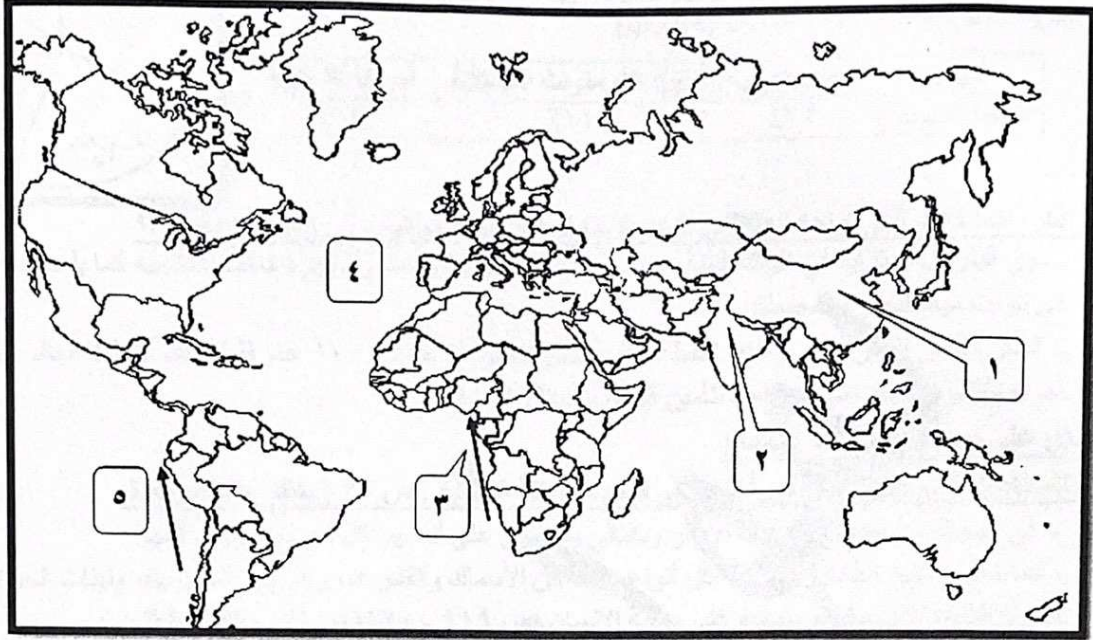
ب- أكمل المخططات السهمية التالية: (٤ درجات)



وزارة التربية
التوجيه الفني العام للإجتماعيات

تابع / السؤال الثاني:

ج- لاحظ خريطة العالم التي أمامك ثم أكتب الرقم الدال على العبارات التالية: (٤ درجات)




- المحيط الاطلنط يمثله على الخريطة الرقم (٤) ص ١٠٠
- الدولة التي يقع فيها مستوى الماء من ١ الى ٣ متر سنوياً يمثلها على الخريطة الرقم (٢) ص ٦٠
- الدولة الأولى في إنتاج الفحم عام ٢٠٠٥م يمثلها على الخريطة الرقم (١) ص ٩٦ + ٩٧
- تيار بنجويلا يمثله على الخريطة الرقم (٣) ص ١٢٣



وزارة التربية

التوجيه الفني العام للإجتماعيات



السؤال الثالث: يتكون من (أ - ب - ج):

أ- لاحظ الدائرة البيانية التي أمامك ثم أجب عن الأسئلة التي تليها : ص ٩٨

- ١- حول إلى جدول نسبة إنتاج البترول عام ٢٠٠٦ م لكل من :-
 أ- الدول العربية ب- دول الكومنولث ج- أمريكا الشمالية.
 (درجتان = نصف درجة لكل نقطة + نصف درجة لتصميم)

الدول	الدول العربية	دول الكومنولث المستقلة	أمريكا الشمالية
النسبة المئوية	٣٢%	١٦%	١٥%

٢- أذكر- المشكلات التي تواجه العالم من تزايد الاعتماد على استخدام البترول . (درجتان) ص ٩٨

- دور البترول المتزايد في تلوث البيئة وبخاصة الهواء نتيجة الغازات والأبخرة المتصاعدة منه كما يلعب دور كبير في تلوين مياه البحار والمحيطات.
 - قصر العمر الافتراضي لإنتاج النفط حيث أفضل لتقدير له حوالي ١٠٠ عام فقط لذلك يخطط العالم من الآن لمواجهة فترة بعد نضوب النفط لتأمين الحياة للأجيال القادمة .

ب- دلل على صحّة هذه المشكلات:

١- للمعتقدات الدينية دوراً فاعلاً في صنع المشكلة البيئية . ص ٣٦ (يكتفى بنقطة واحدة)

- في الهند تقدس بعض المذابح الأضراس وبالتالي يحدون على أنفسهم أكل لحومها وشرب لبنها.
 - كما تحرم بعض القبائل أكل أنواع معينة من الأسماك والقشريات رغم غنى لحمها بالبروتينات الحيوانية.

٢- للتلوث الضوئي مخاطر عديدة على صحة الإنسان ص ١١٩ - ١٢٠ (درجتان يكتفى بنقطتين)

- التعرض الدائم والمستمر لمصدر الضياء يسبب - تديماً في السمع.
 - التأثيرات النفسية مثل في القلق والتوتر.
 - تأثيرات سيئة على الجهاز العصبي مما يؤدي إلى الإصابة بالآلام الشديدة في الرأس.
 - تؤدي إلى عدم القدرة على تمييز الأصوات ولها انعكاسات خطيرة على جهاز القلب.
 ٣- لنظم المعلومات الجغرافية عدة فوائد على مستوى التشغيل والصيانة. ص ١٧٥ - ١٧٦ (ثلاث درجات - يكتفى بثلاث نقاط)
 - البيانات الجغرافية التفصيلية والمرافق كالمساحة ودقيقة ومهففة ويسهل الحصول عليها .
 - توفير الوقت والجهد اللازمين للوصول إلى المعلومة المطلوبة وسرعة العمل على أسس علمية ومنع تكرار نفس العمل مرات عديدة.
 - تحديد الأولويات طبقاً للتقارير الناتجة من النظام .
 - تقدير دقيق لسلطات الإحلال والتجديد أماكن الأعطال.
 - إمكانية تنفيذ برامج الصيانة لوجود الأسس العلمية لتطبيقها.

ج- فرق بين كل مما يلي : (٤ درجات)

مشكلة الجوع ص ٣١	سوء التغذية ص ٣١
- نقص كمية الغذاء عن الحد الأدنى المقبول.	- نقص كمية الغذاء عن الحد المطلوب من العناصر الغذائية (البنائية) و(الوقائية) .
البيئة الطبيعية ص ١٧	البيئة المشيدة ص ١٧
-عبرة عن المظاهرة الطبيعية التي لا دخل للإنسان في وجودها أو استخدامها.	- البنية الأساسية المادية التي شيدها الإنسان ومن النظم الاجتماعية والمؤسسات التي أقامها.

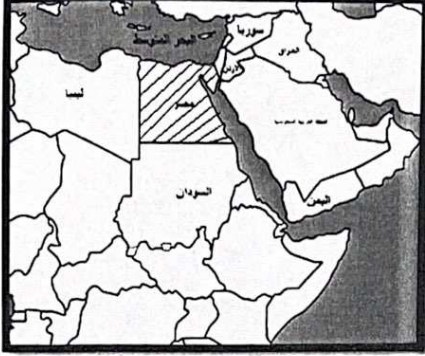


وزارة التربية

التوجيه الفني العام للإجتماعيات

السؤال الرابع : يتكون من (أ - ب - ج) :

أ- لاحظ خريطة الدول الأعضاء في لجنة الاسكوا التي أمامك ثم نفذ ما هو مطلوب منك: (٣ درجات)



١- ظلل الدولة الإفريقية التابعة للجنة الاسكوا. ص ١٣٦

٢- العام الذي تأسست فيه لجنة الاسكوا: ١٩٧٣م.....

٣- اذكر الهدف من إنشاء هذه اللجنة.

- دعم التعاون الاقتصادي والاجتماعي بين دول المنطقة من

أجل تحقيق التكامل الإقليمي من طريق توحيد السياسات القطاعية.

ب- علل لما يلي :

١- للمحيطات دور مهم في الحفاظ على الأنظمة البيئية العالمية. (يكتفى بنقطتين - درجتان) ص ٢٠

تعتبر وسيلة وسائل النقل والطاقة.

وزارة التربية

- توفر جزءاً كبيراً من غذاء سكان البروتين).

- تساعد على إدامة الحياة البحرية والحيوانية.

- لها دور فعال في التأثير على المناخ العالمي.

٢- الاستقرار البشري في مرحلة النشأة العمرانية في بيئة الكويت. (يكتفى بنقطتين - درجتان) ص ١٤٧

- تجارة وصيد السمك - الغوص واستخراج اللؤلؤ - الزراعة ووجود المياه الجوفية العذبة

٣- نظم المعلومات الجغرافية المتقدمة تجذب الاستثمار وتنمي السياحة. (يكتفى بنقطتين - درجتان) ص ١٨١

- دراسة الإمكانيات والتسهيلات المتاحة داخل المدينة وجوارها.

- تحديد أفضل استخدام للأراضي والمشروعات.

- الاستفادة من التكنولوجيا حيث تكون عادة مصاحبة للازدياد الحضري.

- شهادات التكامل الإداري والايزو فهذه الأمور تتطلب نظم المعلومات الجغرافية.

- الجوائز الدولية للمدن فهي تعتمد على وجود نظام معلومات جغرافي فعال ومطور.

ج - أجب عما يلي :

١- عدد العوامل الطبيعية المسببة لمشكلة الغذاء في دول مجلس التعاون لدول الخليج العربية. ص ٤٤

- قلة موارد المياه

- التربة رملية

- تحرك الرمال

- ارتفاع درجة الحرارة

٢- اذكر مميزات استخدام مشتقات البترول على مستوى العالم. ص ٩٧ (يكتفى بنقطتين - درجتان)

- كمية الطاقة الناتجة من البترول كبيرة.

- سهولة نقل البترول من مناطق الإنتاج إلى مناطق الاستهلاك.

- يعد البترول من العناصر الأساسية في كثير من الصناعات الكيماوية.

