

السؤال الثالث: (ست درجات)

أقرأ النص التالي، ثم أجب عما بعده من أسئلة:-

" يحكى أن رجلاً كان يعيش مع أسرته في كوخ صغير، ويعيش معه كلبه الوفي، وكان الرجل معتاداً على الخروج صباحاً للعمل، وكان يترك أسرته في رعاية الله، ثم حراسة كلبه الوفي، خرج الرجل ليجمع الحطب كعادته، وبينما هو عائد سمع الكلب ينبح نباحاً عالياً على غير عادته، أسرع الرجل حتى اقترب من الكلب فوجد وجهه ملطخاً بالدماء، فظنَّ الرجل أن الكلب هجم على أحد أفراد أسرته، فرفع الرجلُ الفأسَ ليضرب الكلب، فصرخ ابنه قائلاً: توقف ياأبي هذا الكلبُ الوفيُّ أنقذنا من أفعى كبيرة، وهذه آثار دمانها على وجهه، فتوقف الرجل وحزن حزناً شديداً لأنه ظن بالكلبِ الوفيِّ ظنَّ السَّوءِ."

أ/ المعيار (٢-٣) (٢)

١ - أعدد من الدلالات التالية ما تدل عليه الجملة الآتية : "فرفع الرجل الفأس ليضرب الكلب"
(الحزن - التسرع - الحيرة - التشاوم)

٢- أختار من بين الخيارات التالية العبارة التي تدل على : (الصفة التي يتصف بها الكلب) (٢)
- اقترب من الكلب فوجد وجهه ملطخاً بالدماء.

تم التحميل من شبكة باكويت التعليمية



Telegram:
ykuwait_net_home



- هذا الكلب الوفي أنقذنا من أفعى كبيرة.

- ظن الرجل أن الكلب هجم على أفراد أسرته.

- سمع الكلب وهو ينبح على غير عادته.

ب/ المعيار (٢-٧) (٢)

- أصوغ سؤالاً يؤدي إلى فهم جانب من النص السابق مستعينا بإحدى أدوات الاستفهام التالية:

(لماذا - ماذا - أين)

تقبل الإجابة الصحيحة



وزارة التربية
الإدارة العامة لمنطقة الأحمدى التعليمية

تم التحميل من شبكة ياكويت التعليمية



Telegram:
ykuwait_net_home

نموذج إجابة امتحان

(الفترة الدراسية الأولى)

مادة: الاجتماعيات

الصف: السابع

العام الدراسي 2024/2023

العام الدراسي: ٢٠٢٣ / ٢٠٢٤ م
 زمن الامتحان: ساعة و ٥٥ دقيقة
 عدد الأوراق: (٤)

امتحان الفترة الدراسية الأولى
 لمقرر الكويت والوطن العربي
 للصف السابع المتوسط

وزارة التربية
 الإدارة العامة لمنطقة الأحمدية التعليمية
 التوجيه الفني للاجتماعيات

أجب عن جميع الأسئلة:

(٥١ نقطة × درجة واحدة = ١٥ درجة)

السؤال الأول (الموضوعي) يتكون من (أ - ب - ج):

أ) أكمل العبارات التالية بما يناسبها:

- ١) الدولة العربية التي تقع خارج نطاق موقع الوطن العربي تسمى جزر القمر ص ٢٣
- ٢) أكثر الأشكال التضاريسية انتشاراً في الوطن العربي تسمى الهضاب ص ٤٠
- ٣) ملك بابلي وضع قانون (السن بالسن والعين بالعين) اسمه حمورابي ص ٨٤
- ٤) ملكة سبأ ورد ذكرها بالقرآن الكريم اسمها بلقيس ص ٨٦
- ٥) الصنم الذي أطلق على البحرين قديماً اسمه أوال ص ٨٩

ب) ضع خطأ تحت الخيار الصحيح من بين الخيارات التي تلي كل عبارة:

١) مضيق يربط بين خليج عدن والبحر الأحمر: ص ٢٨

أ - هرمز ب- باب المندب ج- السويس د- جبل طارق

٢) الفصل الذي تكون فيه الشمس عمودية على المنطقة الواقعة بين خط الاستواء ومدار الجدي: ص ٤٩

أ- الربيع ب- الصيف ج- الشتاء د- الخريف

٣) الصورة التي أمامك لمعلم ينتمي للحضارة: ص ٧٧

أ-بلاد الشام ب- بلاد اليمن ج- مصر القديمة د- دلمون

٤) محطة تحلية مياه البحر أنشأت في دولة الكويت عام ١٩٥٣م: ص ٦١

أ- الروضتين ب- أم العيش ج- الأحمدية د- الشويخ

٥) العام الذي أنزل فيه القرآن الكريم على سيدنا محمد صلى الله عليه وسلم: ص ٩٠

أ- ٦١٠م ب- ٦٢٠م ج- ٦٣٠م د- ٦٤٠م

ج) صحح ما تحته خط بكتابة الإجابة الصحيحة ما بين الأقواس:

١) تمثل نسبة مساحة الوطن العربي من جملة مساحة العالم حوالي ٥٠% (١٠%) ص ٢٣

٢) موقع الدولة بالنسبة لليابس والماء يسمى الموقع الفلكي (الموقع النسبي) ص ٣٣

٣) حالة الجو خلال فترة زمنية طويلة يسمى الطقس (المناخ) ص ٤٤

٤) الرياح المحلية التي تهب على دولة الكويت تسمى الخماسين (الطوز) ص ٤٨

٥) عرف أهل اليمن الأبجدية التي كانت تكتب بالخط الهيروغليفي (المسند) ص ٨٧




تم التحميل من شبكة ياكويت التعليمية



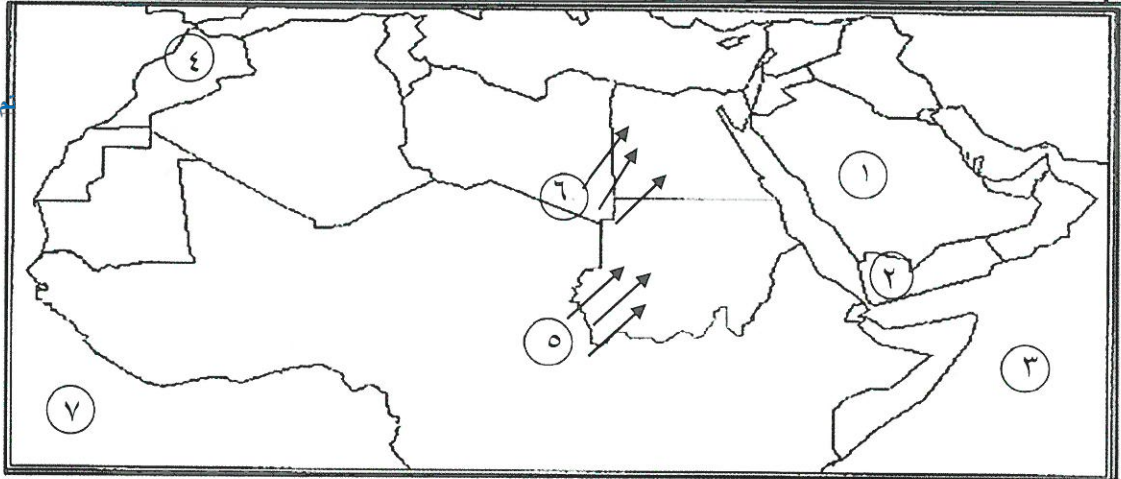
Telegram:

ykuwait_net_home



السؤال الثاني (موضوعي) ويتكون من (أ - ب - ج) : (٥ نقطة × درجة واحدة = ٥ درجة)

أ) أمامك خريطة الوطن العربي الصماء اكتب الرقم الدال على العبارات التي تليها:



تم التحميل من شبكة ياكويت التعليمية



Telegram:
ykuwait_net_home



ص ٣٨

ص ٤٠

ص ٤٢

ص ٤٨

ص ٧١

- جبال الأطلس يمثلها على الخريطة الرقم ٤

- هضبة نجد يمثلها على الخريطة الرقم ١

- المحيط الهندي يمثلها على الخريطة الرقم ٣

- رياح الهبوب يمثلها على الخريطة الرقم ٥

- بلاد اليمن يمثلها على الخريطة الرقم ٢

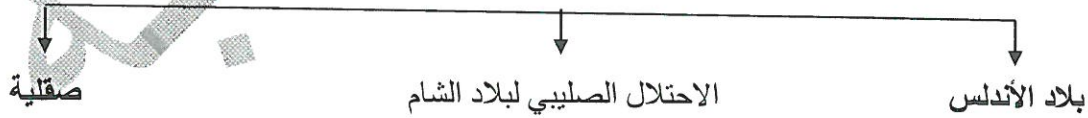
ب) أكمل المخططات السهمية التالية:

١- مصادر المياه في الوطن العربي ص ٥٧

يكتفى بثلاث نقاط



٢- مراكز اشعاع الحضارة العربية الإسلامية إلى أوروبا ص ٩٢



ج) صنف الحيوانات الصحراوية التالية بمكانها الصحيح في الجدول الذي يليها : ص ٥٥

(الصقور- الجراد - الخنافس - الأفاعي - الحباري)

الطيور	الحشرات	الزواحف
الصقور	الجراد	الأفاعي
الحباري	الخنافس	

السؤال الثالث (مقالى) يتكون من (أ - ب - ج): (٥ نقطة × درجة واحدة = ٥ درجة)

أ) اقرأ الفقرة التالية ثم أجب عما يليها من أسئلة: ص ٢٦

(يضم **الوطن العربي** مجموعة من الدول العربية التي يجمعها عدد من السمات المشتركة، وقد كونت شعوب هذه المنطقة وطنًا كبيرًا له عاداته وتقاليده وقيمه، وتربط بين أبنائه وحدة الدين واللغة، هي التي أجمعت عليها دول الوطن العربي على امتداده الجغرافي)

١) ضع عنوان مناسب للفقرة السابقة. ص ٢٢

- الوطن العربي (ما يراه المصحح مناسب)

٢) عرف ما تحته خط:

- الوطن العربي هو مجموعة الدول العربية التي يجمعها عدد من السمات المشتركة (الدين واللغة) ويمتد ضمن

قارتين من أكبر قارات العالم مساحة. ص ٢٢

٣) عدد مقومات الهوية العربية. ص ٢٦

- وحدة الدين \ اللغة \ التراث \ الأهداف المشتركة. (يكتفي بثلاث نقاط)



ب) قارن بين كل من حسب المطلوب منك في الجدول التالي: ص ٥٢

أوجه المقارنة	الغابات المدارية الحارة	الغابات المعتدلة
مميزات الأشجار	تمتاز بضخامة أشجارها وجذوعها وتشابك أغصانها وأوراقها العريضة وارتفاعها الكبير.	تتسم بعدم كثافتها وبعضها يكون دائم الخضرة وبعضها الآخر تتساقط أوراقه في فصل الشتاء.
أهم الأشجار	النساج-الماهوچني-التاك-الأبنوس السدر-الأثل-السنط	الأرز-العرعر-السنوبر الحلبي البلوط-السنديان-أشجار الزيتون والتفاح والحمضيات والفواكه الأخرى البرية. (يكتفي بنقطتين)

ج) عرف المفاهيم والمصطلحات التالية:

١) السهول: مساحة كبيرة من سطح الأرض تتميز باستوائها، وقلة ارتفاعها ومفردها سهل. ص ٤٢

٢) النبات الطبيعي: هو النبات الذي ينمو تلقائياً عقب سقوط المطر دون تدخل من الإنسان. ص ٥١

٣) الحضارة: كل ما يطرأ على المجتمع من تقدم وتطور ورقي في جميع نواحي الحياة الدينية والسياسية والاقتصادية والاجتماعية والفكرية. ص ٧١

٤) الديانة اليهودية: وهي التي نزلت على سيدنا موسى -عليه السلام- وكتابها التوراة. ص ٩٠

السؤال الرابع (مقالى) يتكون من (أ - ب - ج): (٥ نقطة × درجة واحدة = ٥ درجة)
(أ) لاحظ الصورة التي أمامك ثم أجب عن الأسئلة التالية:

ا	ب	ج	د
هـ	و	ز	ح
ط	ث	ث	ذ
س	ع	ف	ص
ض	غ	ت	ث
ي	ك	ل	م
ن	ظ	ق	ر

(١) ما الاسم الذي يطلق على هذا النوع من الكتابة؟ ص ٨٣
 - الكتابة المسمارية

(٢) كم يبلغ عدد حروفها؟ ص ٨٣
 - ٦٠٠ حرف

(٣) اذكر اسم الحضارة التي ظهرت فيها هذه الكتابة. ص ٨٣
 - حضارة بلاد الرافدين

(٤) عدد العلوم والفنون التي اشتهرت بها هذه الحضارة. ص ٨٢
 - الهندسة، الحساب، الفلك، الطب، فن النحت، البناء، الرسم، الأواني الفخارية. (يكتفى بنقطتين)

(ب) علل لما يلي:

(١) الأهمية الجغرافية للوطن العربي. ص ٣٥

- يشغل مكاناً وسطاً بين قارات العالم الثلاث. (يكتفى بنقطتين)

- يتمتع بموقع استراتيجي مهم اكسبه مكانة مهمة بين دول العالم في أوقات السلم والحرب

- يطل على مسطحات مائية واسعة ذات أهمية كبيرة للملاحة والتجارة العالمية.

(٢) ازدهار الزراعة في بلاد الرافدين. ص ٨١

- خصوبة تربتها \ سعة سهولها \ وفرة مياهها. (يكتفى بنقطتين)

(ج) عدد اثنين لكل مما يلي:

(١) صفات المطر في الوطن العربي. ص ٥٩

- تذبذب كمية الأمطار بين عام وآخر، كما أنها تسقط في أيام معدودة.

- الأمطار في الوطن العربي تكاد تقتصر على الأطراف الشمالية والأطراف الجنوبية منها.

- تتصف الأمطار بأنها قليلة بصفة عامة، ولا يستثنى منة ذلك سوى المناطق التي تقع من ورائها الجبال، كما هي الحال في سواحل المغرب وساحل لبنان. (يكتفى بنقطتين)

(٢) طرق ترشيد استخدام المياه. ص ٦٣

- ترشيد استخدام المياه والحد من التبذير في المنازل \ الحد من هدر المياه في عمليات الري، وذلك باستخدام

الوسائل الحديثة كالرش بالتنقيط والمحوري \ تنظيم عملية الاستفادة من المياه الجوفية ومنع تسرب الأملاح الملوثة

إليها واستثمارها على الوجه الأمثل \ تطوير استعمال مياه الصرف الصحي المعالجة في الزراعة \ إقامة البحيرات

والسدود لتجميع مياه الأمطار والسيول للاستفادة منها في فصل الجفاف \ توقيع اتفاقيات مع الدول المشتركة ودول

المنبع لتحقيق مصالح الدول العربية المعنية. (يكتفى بنقطتين)

(٣) العوامل التي ساعدت على قيام الحضارة المصرية القديمة. ص ٧٥

- تنوع الصخور والمعادن \ امتداد الصحراء \ نهر النيل \ اعتدال المناخ وجفافه. (يكتفى بنقطتين)