

تم تحميل هذا الملف من موقع المناهج الكويتية



فاطمة العازمي وبشار النملان

الملف بنك أسئلة التوجيه الفني لعام 2023

[موقع المناهج](#) ← [المناهج الكويتية](#) ← [الصف الثامن](#) ← [اجتماعيات](#) ← [الفصل الأول](#)

روابط مواقع التواصل الاجتماعي بحسب الصف الثامن



روابط مواد الصف الثامن على تلغرام

[الرياضيات](#)

[اللغة الانجليزية](#)

[اللغة العربية](#)

[التربية الاسلامية](#)

المزيد من الملفات بحسب الصف الثامن والمادة اجتماعيات في الفصل الأول

<a href="#">مسودة كتاب الطالب في مادة الاجتماعيات لعام 2018</a>	1
<a href="#">خطة توزيع منهج العام الجديد في مادة الاجتماعيات</a>	2
<a href="#">حل الوحدة الاولى في مادة الاجتماعيات</a>	3
<a href="#">ورقة عمل في مادة الاجتماعيات</a>	4
<a href="#">ورقة عمل في مادة الاجتماعيات</a>	5





**بنك معلومات الصف الثامن  
(الكويت والعالم الإسلامي)  
الفصل الدراسي الأول ٢٠٢٣-٢٠٢٤**

**منظم بالدرس للمعلم والمتعلم**

**إعداد المعلمتين :**

**أ: فاطمة العازمي - أ: بشاير النملان**

**إشراف ر.ق جليلة الدغيم  
الموجهة الفنية هيفاء مال الله  
مديرة المدرسة بدرية الهدبة**



درس لمحة تاريخية عن الحضارة الإسلامية.....

أولاً : أكمل العبارات التالية بما يناسبها فيما درست :

- ١٧ ص  
١٧ ص  
١٧ ص  
٢١ ص  
٢١ ص  
٢٢ ص  
٢٤ ص

١. قامت الدولة الإسلامية في المدينة المنورة
٢. قامت الدولة الإسلامية على يد نبي الله سيدنا محمد ﷺ
٣. قامت الدولة الإسلامية في القرن الثامن الميلادي
٤. أصدرت الجمعية العامة للأمم المتحدة قراراً بإدخال اللغة العربية لغة رسمية في عام ١٩٧٣ م
٥. التاريخ الذي يتم فيه الاحتفال باللغة العربية في كل عام يصادف ١٨ ديسمبر
٦. العالم اليوناني الذي استفادت منه الحضارة الإسلامية في مجال الرياضيات فيثاغورس.
٧. العام الذي أطلقت فيه الأمم المتحدة لقب قائد العمل الإنساني للشيخ صباح الأحمد الصباح ٢٠١٤ م
٨. العالم الذي ألف كتاب الصيدلة في الطب يسمى البيروني

ثانياً: اكتب المفاهيم أو المصطلحات الدالة على العبارات التالية:

المفهوم	العبرة
١. الحضارة ص ١٨	هي كل ما يطرأ على المجتمع من تقدم وتطور ورقي سواء في الجانب المادي أو الجانب الروحي.
٢. البيمارستانات ص ٢٣	هي دار المرضى أو المستشفى ومراكز الصيدلة والتحليل وصناعة الأدوية.

ثالثاً : استنتج الرابط بين العناصر التالية :

- ١/ الرياضيات + الفيزياء + الكيمياء + الفلسفة + الفلك  
٢/ علوم الدين + حديث + فقه + تفسير + تاريخ
- ( العلوم العقلية ) ص ١٧  
( العلوم النقلية ) ص ١٧

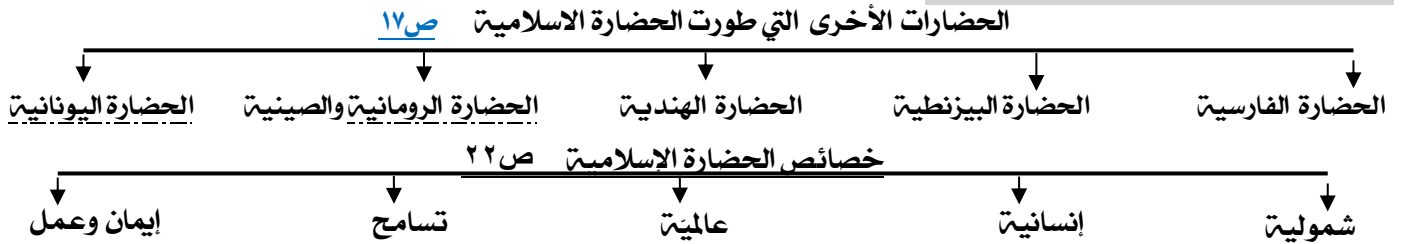
رابعاً : صف الكلمات التالية إلى مكانها المناسب في الجدول التالي:

القصور + الأدب + الثقافة + الأدوات + الاختراعات + الأخلاق + السياسة + مساجد ص ١٨	الجوانب المادية	الجوانب الروحية
مساجد + قصور - مستشفيات + مكتبات + الأدوات + الاختراعات	الأدب - الثقافة - الأخلاق - السياسة - الفكر - العلوم	

القرآن الكريم + شمولية + تسامح + إيمان وعمل اللغة العربية + إنسانية + عالمية + الحضارات الأخرى

اسس الحضارة الإسلامية ص ٢٠	خصائص الحضارة الإسلامية ص ٢٢
القرآن الكريم - اللغة العربية - الحضارات الأخرى	شمولية - عالمية - إنسانية - تسامح - إيمان وعمل

خامساً : أكمل المخططات السهمية التالية:



سادساً اذكر ما تعرفه عن البيروني: ص ١٩

عدد مؤلفاته	180 مؤلف
أشهر مؤلفاته	كتاب الصيدلة في الطب
أهم اكتشافاته	معادلة نصف قطر الأرض والتي سميت باسمه (معادلة البيروني)

عدد الشخصيات الكويتية التي أطلق عليها لقب قائد العمل الإنساني

- أ - الشيخ صباح الأحمد الصباح ب - الداعية عبد الرحمن السميطة ص ٢٤

## درس مظاهر الحضارة الإسلامية (السياسية والإدارية)

أولا : أكمل العبارات التالية بما يناسبها فيما درست :

- ١ - توفي الرسول - صلى الله عليه وسلم - في ١٢ من ربيع الأول عام ١١ هـ
- ٢ اجتمع المسلمون بعد وفاة الرسول ﷺ في سقيفة بني ساعدة
- ٣ أول حاكم بعد الرسول - ﷺ - إذ خلفه بإدارة شؤون المسلمين يسمى أبي بكر الصديق ﷺ
- ٤ ظهر منصب إداري جديد في الدولة الإسلامية يسمى الخليفة
- ٥ استحدث منصب إداري جديد في عهد الخليفة الراشد الثاني عمر بن الخطاب ﷺ يسمى المحتسب
- ٦ ظهر العديد من الكيانات السياسية من ممالك وسلطنات وامارات. في عهد الدولة العباسية

ثانيا : أكمل المخططات السهمية التالية :

المناصب الإدارية (القيادية) في الحضارة الإسلامية



ثالثا : أعد ترتيب رتب الخلفاء الراشدين ترتيبا تصاعديا من حيث فترة توليهم الخلافة :

عمر بن الخطاب - عثمان بن عفان - علي بن أبي طالب - أبو بكر الصديق

<u>أبو بكر الصديق</u>	<u>عمر بن الخطاب</u>	<u>عثمان بن عفان</u>	<u>علي بن أبي طالب</u>
-----------------------	----------------------	----------------------	------------------------

## درس مظاهر الحضارة الإسلامية (المظاهر الاقتصادية)

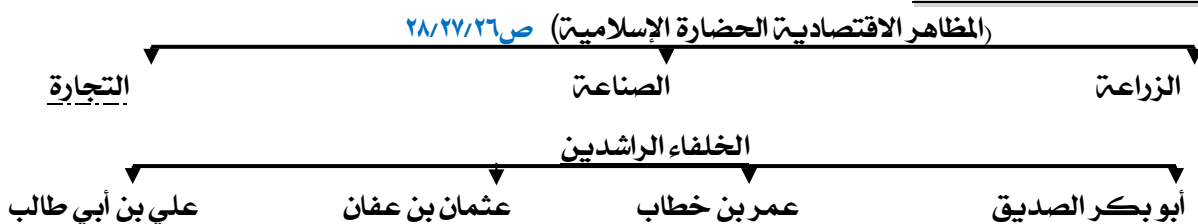
أولا : أكمل العبارات التالية بما يناسبها فيما درست :

- ١ أنشأ ديوان الماء في مدينة مرو الواقعة في خراسان « إيران حاليا »
- ٢ صناعة خشبية برع المسلمون بصناعتها تسمى أرابيسك
- ٣ اكتشف في دولة الكويت محطة لاستراحة قوافل الحجاج تعود للعصر الإسلامي تسمى محطة الشجي (الشقيا) ص ٢٨
- ٤ يبلغ مقدار الزكاة على الأموال النقدية التي حال عليها الحول بواقع ٢,٥٪
- ٤ الجهة المسؤولة عن الوقف في دولة الكويت تسمى وزارة الأوقاف والشؤون الإسلامية ص ٢٩

ثانيا : اكتب المفاهيم أو المصطلحات الدالة على العبارات التالية :

المفهوم	العبرة
الخراج ص ٢٨	ضريبة الارض الزراعية التي تخرج مبلغا ماليا معيناً من ناتج المحصول الزراعي
الزكاة ص ٢٨	ركن من أركان الإسلام يخرجها المسلمون الأغنياء للمستحقين من الفقراء، من الاموال والثروات وقيمتها ٢,٥٪
الجزية ص ٢٩	مبلغ مالي يدفعه الرجال غيرا مسلمين من أهل الذمة ممن قادرون على حمل السلاح نظير حماية الدولة لهم
الوقف الإسلامي ص ٢٩	صدقه جاريه يوقفها المرء في حياته لوجوه الخير والبر ، ويكون اجرها ونفعها مادامت باقية ويستمر الأجر حتى بعد وفاته

ثالثا : أكمل المخططات السهمية التالية :



رابعا : اختر للمجموعة (أ) ما يرتبط بها من المجموعة (ب) بوضع الرقم المناسب.

المجموعة (ب)	الرقم المناسب	المجموعة (أ) ص ٢٩/٢٨
الجزية	٣	١/ مبلغ يخرج المسلمون الأغنياء من الأموال والثروات للمستحقين من الفقراء
الخراج	٢	٢/ ضريبة الأرض الزراعية التي تخرج مبلغا ماليا معينا من ناتج المحصول الزراعي
الزكاة	١	٣/ مبلغ مالي يدفعه الرجال غير المسلمين من أهل الذمة نظير حماية الدولة لهم.
الوقف الإسلامي	٤	٤/ صدقة جارية يوقفها المرء في حياته لوجوه الخير والبر. ويكون أجرها ونفعها ما دامت باقية ويستمر الأجر حتى بعد وفاته.
الصدقة	—	

خامسا : فرق بين كل مما يلي:

- ١. الصادرات والواردات في الحضارة الإسلامية. ص ٢٨

الواردات	الصادرات
الأخشاب والتوابل والذهب	التمور والفواكه واللبن والخيول العربية

almanahj.com/kw

سادسا : علل / اذكر السبب.

١. اهتمت الحضارة الإسلامية بالموارد الاقتصادية والمالية. ص ٢٦  
بسبب دورها في تقدم البلاد وازدهار وتوفير أسباب العيش الكريم.
٢. اهتمت الدولة الإسلامية بالقطاع الصناعي اهتماما كبيرا. ص ٢٧  
من أجل استثمار الموارد الطبيعية المتوفرة بها.
٣. لقيت التجارة تشجيعا كبيرا في الحضارة الإسلامية. ص ٢٨  
لدورها الكبير في التبادل التجاري مع المناطق المجاورة ب/ اسهمت في نشر الدين الإسلامي ج/ ازدهار التجارة بالوارد والصادر

سابعا : برهن على صحة العبارة التالية:

- ١ / كان لجزيرة فيلكا دور يعود للعصر الإسلامي: ص ٢٨  
رصد قريتا القرينية في شمال جزيرة فيلكا والقصور في وسطها ازدهرتا بازدهار الطريق التجاري البحري عبر الخليج العربي، وكانت تمارس فيهما التجارة والغوص على اللؤلؤ والزراعة والرعي.

ثامنا / دلل على صحة العبارة التالية:

- ١ / كان للمسلمين جهود عديدة في الزراعة ص ٢٦  
أ/ شق القنوات المائية والترع ب/ اقامة السدود. ج/ تنظيم وسائل الري (إنشاء ديوان الماء)
- ٢ / شعب الكويت جبل على حب الخير الدائم والأجر المستمر. ص ٢٩  
إنشاء وزارة الأوقاف والشؤون الإسلامية

تاسعا / الصناعات التي ظهرت في الحضارة الإسلامية. ص ٢٧

صناعة السفن- صناعة الأسلحة- صناعة الورق- صناعة الأدوية- صناعة المنسوجات- صناعة الخزف والمعادن- الصناعات الخشبية

## درس مظاهر الحضارة الإسلامية (لمظاهر العمرانية)

أولا : أكمل العبارات التالية بما يناسبها فيما درست :

- ١ - الطراز المعماري يعكس التصميم الأندلسي والمنقوشات الإسلامية في دولة الكويت يسمى المسجد الكبير ص ٢١
- ٢ الشيخ الذي افتتح المسجد الكبير في عام ١٩٨٦م يسمى الشيخ جاير الاحمد الصباح . ص ٢١
- ٣ أول القبليتين وهو أكبر مساجد العالم يسمى المسجد الأقصى . ص ٢٣
- ٤ الخليفة الذي ضم حجرات بيت الرسول ﷺ الى المسجد يسمى عبد الملك بن مروان . ص ٢٣
- ٥ المدينة التي يقع فيها قصر الحمراء تسمى غرناطة بالأندلس ص ٢٥
- ٦ يطلق على بلاد الأندلس حاليا اسم اسبانيا ص ٢٥
- ٧ قصر يقع في الاراضي الممتدة في شمال الصحراء السورية وجنوب نهر الفرات في العراق يسمى قصر الرصافة ص ٢٥

ثانيا : اكتب المفاهيم أو المصطلحات الدالة على العبارات التالية :

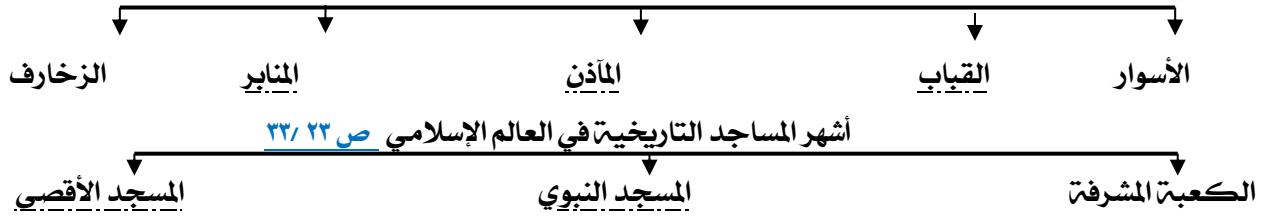
المفهوم	العبرة
٣. الفسيفساء ص ٢٠	مجموعة من المكعبات الزجاج المون والشفاف وقطع من الحجر الابيض والاسود والقطع الخزفية تثبت فوق طبقة من الجص والاسمنت لتعطي شكل منظم متناسق في الشكل واللون
٤. المساجد ص ٢٢	اماكن تقام فيها الصلوات وخطبة الجمعة والتعليم الديني .
٥. القصور ص ٢٤	هي مقر الحاكم والمكان الذي يضم المؤسسات الادارية كالوزارة والدواوين
٦. دمشق ص ٢٤	كلمة اشتقت من الدمقس وهو نوع من الحرير الذي اشتهرت به تلك المدينة قبل الإسلام.

ثالثا : استنتج الرابط بين العناصر التالية :

- ١/ سور الأحساء + سور القاهرة + سور بغداد ( الأسوار العمرانية ) ص ٢٠

رابعا : أكمل المخططات السهمية التالية :

مميزات المظاهر العمرانية في الحضارة الإسلامية ص ٢٠



خامسا : صنف الكلمات التالية إلى مكانها المناسب في الجدول التالي :

اسم المسجد أو مكانه ص ٢٢-٢٣ (مكة المكرمة / المدينة المنورة / القدس / فلسطين المحتلة)

اسم المسجد	الكعبة المشرفة	المسجد النبوي	المسجد الأقصى
المكان	مكة المكرمة	المدينة المنورة	القدس ( فلسطين المحتلة)

الفسطاط / القاهرة / تونس / الأندلس / دمشق / المملكة العربية السعودية / إسطنبول

المسجد الأموي	جامع عمرو بن العاص	الجامع الأزهر	جامعة الزيتونة	جامع قرطبة	مسجد السلطان أحمد	مسجد عمر بن الخطاب
دمشق	الفسطاط	القاهرة	تونس	الأندلس	إسطنبول	المملكة العربية السعودية

هشام بن عبد الملك / معاوية بن ابي سفيان / يزيد بن الوليد / الرصافة / الخضراء / عمرة

الخليفة	هشام بن عبد الملك .	معاوية بن ابي سفيان	يزيد بن الوليد
اسم القصر	الرصافة	الخضراء	عمرة
المكان	سوريا	دمشق	الاردن

درس مظاهر الحضارة الإسلامية (المظاهر الاجتماعية) (مظاهر الإنجازات العلمية والثقافية).

أولا : أكمل العبارات التالية بما يناسبها فيما درست :

- ١ الخليفة العباسي الذي شجع على العلم وحركة الترجمة يسمى المأمون  
٢ كلمة اشتقت منها كلمة الكاميرا تسمى قمر  
٣ العالم الذي له الفضل في تطوير فكرة الكاميرا يسمى الحسن بن الهيثم  
٤ ألف الجاحظ ٢٥٠ كتابا أهمهم كتاب يراقب سلوك الحيوانات يسمى كتاب الحيوان

ص ٣٧  
ص ٣٩  
ص ٣٩  
ص ٤٠

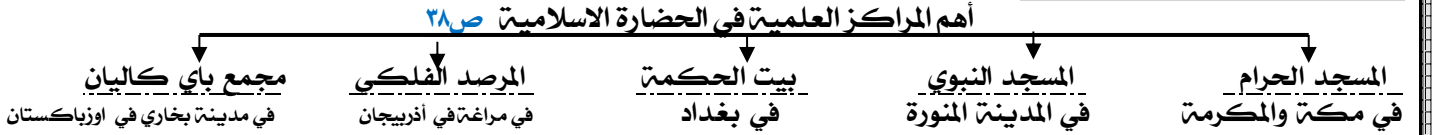
ثانيا: اكتب المفهوم الدالت على العبارة التالية:

المفهوم	العبارة
اهل الذمة ص ٣٦	هم النصارى واليهود الذين ظلوا على دينهم مع دفع الجزية.

ثالثا : استنتج الرابط بين العناصر التالية:

اهل الذمة + رجال الدين + الحكام + الخدم + التجار ( الفئات الاجتماعية ) ص ٣٦

رابعا : أكمل المخطط السهمي التالي:



خامسا صنف أسماء الكتب - أو العلماء في الجدول الذي يليه:

( الحيوانات / الصيدلة في الطب / الجبر والمقابلة / الحاوي في الطب / نزهة المشتاق في اختراق الآفاق )

الصفحة	٤٠	١٩	٣٩	٤٠	٤٢
العالم	الجاحظ	البيروني	الخوارزمي	أبو بكر الرازي	الشريف الادريسي
الكتاب	الحيوان	الصيدلة في الطب	الجبر والمقابلة	الحاوي في الطب	نزهة المشتاق في اختراق الآفاق

سادسا / علل / اذكر السبب.

١ / ازدهار العلم وظهور العلماء في الدولة الإسلامية ص ٣٧

تشجيع العلماء والرعاية / التنافس العلمي بين الدول الإسلامية / حركة التعريب / الرخاء الاقتصادي

عدد العوامل أدت الى ازدهار العلم وظهور العلماء: ص ٣٧

- ١ تشجيع العلماء ورعاية وتمويل القيادات السياسية  
٢ التنافس العلمي بين الدول الإسلامية.  
٣ حركة التعريب ( الترجمة للكتب القديمة اليونانية والهندية والفارسية وغيرها).  
٤ الرخاء الاقتصادي.

اكتب ما تعرف عن مجالس القصص والوعاظ. ص ٣٦

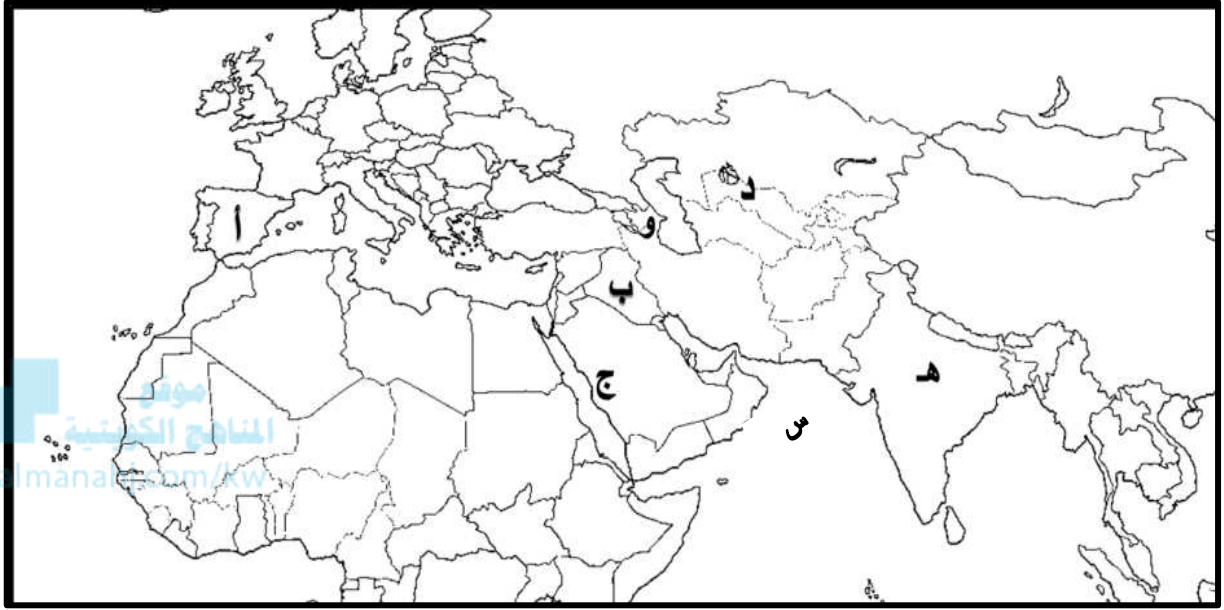
هي مجالس توجد في المجتمع الإسلامي لسماع القصص والحكايات

سابقا : ضع تعليقا على الصورة

علماء المسلمين ص ٣٩ / ٤



(١٧) أمامك خريطة مقطعية من العالم الإسلامي نفذ المطلوب:



- بلاد الأندلس من مراكز الإشعاع يمثله على الخريطة الحرف : أ
- المرصد الفلكي في أذربيجان يمثله على الخريطة الحرف و
- بيت الحكمة يمثله على الخريطة الحرف : ب
- مجمع باي كاليان يمثله على الخريطة الحرف : د
- مسجد رفعة نبي الله إبراهيم واسماعيل يمثله على الخريطة الحرف : ج
- بحر العرب يمثله على الخريطة الحرف س

ص ٤١

ص ٢٨

ص ٢٨

ص ٢٨

ص ٢٢

ص ٥٦



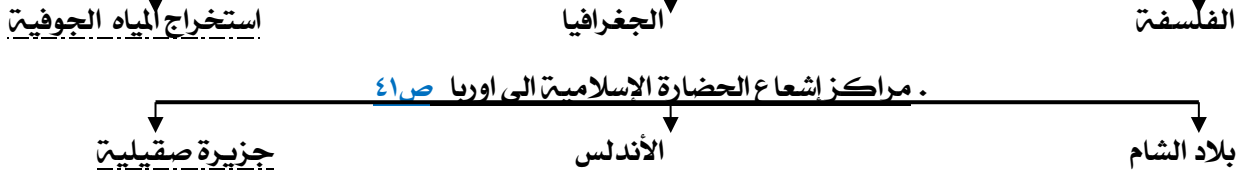
درس مظاهر الحضارة الإسلامية (مظاهر الإنجازات العلمية والثقافية).....

أولا : أكمل العبارات التالية بما يناسبها فيما درست :

استفاد الأوروبيون من طريقة المسلمون في نقل الرسائل جوا عن طريق الحمام الزاجل  
أثرت مؤلفات الفيلسوف الكندي في عالم إنجليزي اسمه روجربيكون

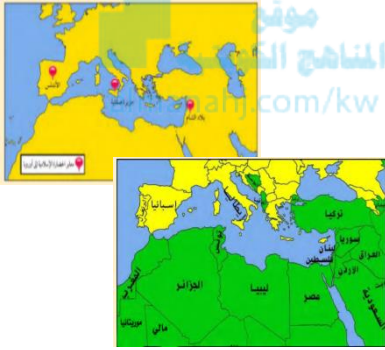
ثانيا / أكمل المخططات السهمية التالية :

المجالات التي أثرت بالعلماء الأوربيين ص ٤٢ / ٤٣



ثالثا : اختر للمجموعة (أ) ما يرتبط بها من المجموعة (ب) بوضع الرقم المناسب. ص ٤١:

م	المجموعة (أ)	الرقم المناسب	المجموعة (ب)
١	بلاد الأندلس	٢	سوريا - لبنان - فلسطين - الأردن
٢	صقلية	٢	إيطاليا
٣	بلاد الشام	١	إسبانيا والبرتغال
		—	بريطانيا



- الشكل المقابل يمثل ( خريطة الإدريسي )  
- من هو العالم الذي قام برسم خريطة كروية الأرض ؟ الإدريسي  
ما اسم أشهر كتبه ؟ نزهة المشتاق في اختراق الافاق  
في أي مجال اشتهر ؟ مجال الجغرافيا

رابعاً / علل / اذكر السبب.

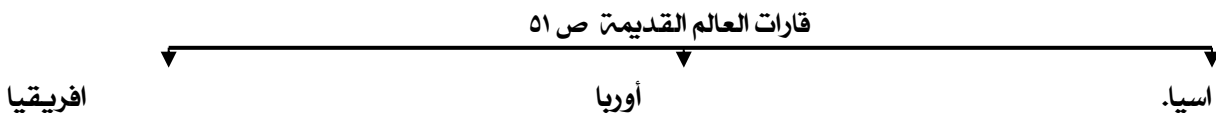
٤ . تدين أوروبا بالفضل الكبير للحضارة الإسلامية. ص ٤٢  
لأنها كانت السبب في النهضة الصناعية والعلمية الأوربية الحديثة.

درس الموقع

أولا : أكمل العبارات التالية بما يناسبها فيما درست :

- ١ / تتواجد دول العالم الاسلامي ضمن ٤ قارات.
- ٢ / تبلغ مساحة العالم الاسلامي حوالي ٣٢ مليون كم٢.
- ٣ / تبلغ مساحة العالم الاسلامي بالنسبة لمساحة العالم حوالي ٢٢,٢٪.
- ٤ / الدولة الاسلامية الوحيدة في قارة امريكا الجنوبية تسمى سورينام
- ٥ / يقع العالم الاسلامي بين خطي طول ١٨ غربا الى ١٤١ شرقا
- ٦ / يقع العالم الاسلامي بين دائرتي عرض ١٣ جنوب خط الاستواء الى ٥٥ شمال خط الاستواء.
- ٧ / أكبر الدول الاسلامية مساحة تسمى جمهورية كازاخستان
- ٨ / أصغر الدول الاسلامية مساحة تسمى جمهورية المالديف.

ثانيا: أكمل المخطط السهمي التالي :



ثالثا: قارن بين كل مما يلي:

١/ عدد الدول الإسلامية في كل قارة:

اسم القارة	قارة آسيا	قارة افريقيا	قارة أوروبا	أمريكا الجنوبية
عدد الدول	٢٧ دولة	٢٦ دولة	دولتين البانيا و (البوسنة والهرسك)	دولة واحدة (سورينام)

٢/ جمهورية كازاخستان، جمهورية المالديف من حيث المساحة:

وجه المقارنة	جمهورية كازاخستان	جمهورية المالديف
المساحة	أكبر الدول الإسلامية	أصغر الدول الإسلامية

رابعاً: علل / اذكر السبب.

١) يشغل العالم الإسلامي موقعا جغرافيا مهما على خريطة العالم.  
يقع وسط خريطة العالم ولامتداده ضمن أربع قارات



خامساً / اكتب ما تعرفه عن:

١) موقع العالم الإسلامي

يملك موقع جغرافي هام، يمتد في القارات القديمة (آسيا، أفريقيا أوروبا) بالإضافة إلى أمريكا الجنوبية، يقع بين خطي طول ١٨ غرباً إلى ١٤١ شرقاً، ودائرتي عرض ١٣ جنوب خط الاستواء إلى ٥٥ شمال خط الاستواء.

### ..... درس (التضاريس أ- الجبال) .....

أولاً: اكتب المفهوم الدال على العبارة التالية

التضاريس	أشكال سطح الأرض وتطلق على الجبال والهضاب والسهول والتلال
الوادي	حوض أو منخفض طبيعي على سطح الأرض
الجبل	كل قمة لا يقل ارتفاعها عن ١٠٠٠ متر تقريبا
السهول	أجزاء فسيحة من سطح الأرض تتميز باستوائها وقلتها ارتفاعها
الهضبة	أرض مرتفعة سطحها مستو، وتمتد لمساحة واسعة
التل	يشبه الجبل، ولكن ارتفاعه اقل من ١٠٠٠ متر

ثانياً: ظلل الخيار الصحيح من بين الخيارات التي تلي كل عبارة:

١٠/ كل قمة لا يقل ارتفاعها عن ١٠٠٠ متر تسمى:	د- وديان
١١/ من أهم الجبال في قارات أمريكا الجنوبية تسمى:	ج- سهول
١٢/ جبال الالب	ب- التل
ب- جبال زاغروس.	د- وديان
ج- جبال أطلس.	د- جبال جوليانا توب

ثالثاً / صوب ما تحته خط في العبارات التالية:

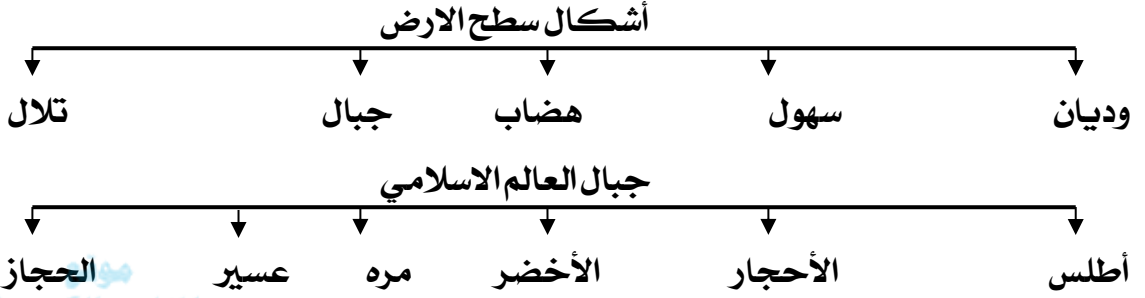
العبارة	التصويب
يتكون مجمل عدد قارات العالم ستة قارات .	سبع قارات
حوض أو منخفض طبيعي على سطح الأرض يسمى هضبة	وادي
السهول اجزاء فسيحة من سطح الأرض تتميز باستوائها وارتفاعها .	قلتها ارتفاعها
الجبل هو كل قمة لا يقل ارتفاعها عن ١٠٠ متر تقريبا .	١٠٠٠
التل يشبه الجبل، ولكن ارتفاعه أكثر من ١٠٠٠ متر.	أقل
توجد قمة جبال جوليانا توب في دولة سورينام في قارة أوروبا .	أمريكا الجنوبية

رابعاً / من أنا ؟



أملك قمة لا يقل ارتفاعها عن ١٠٠٠  
متر تقريباً. أنا الجبل ص ٥٣

خامساً : أكمل المخططات السهمية التالية:



المنهج الكويتية  
almanahj.com/kw

سادساً / قارن بين كل مما يلي:  
الجبل والتل من حيث الارتفاع

وجه المقارنة	الجبل	التل
الارتفاع	لا يقل ارتفاعها عن ١٠٠٠ متر تقريباً.	ارتفاعه اقل من ١٠٠٠ متر.

سابعاً / علل / اذكر السبب.

- ١) تنوع التضاريس في العالم الإسلامي.
- ٢) نظراً لاتساع مساحة الأرض التي يشغلها العالم الإسلامي حيث تبلغ ٣٢ مليون كم<sup>٢</sup>.  
٢) قلّة عدد السكان في المناطق الجبلية في دول العالم الإسلامي ص ٥٥  
شدة انحدارها/ قلّة الأكسجين/ صعوبة التنقل/ انخفاض الضغط الجوي

ثامناً / فسر

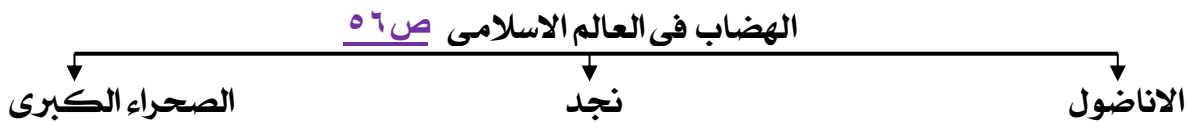
١. سبب تسمية مرتفعات الحجاز بهذا الاسم.  
لان هذه المرتفعات تحجز سهل تهامة في الغرب عن هضبة نجد في الشرق

### درس (التضاريس ب- الهضاب)

أولاً : أكمل العبارات التالية بما يناسبها فيما درست :

- ١/ يطلق على هضبة الصحراء الكبرى بهضبة أفريقية الشمالية
- ٢/ أكبر هضبة في العالم الإسلامي تسمى هضبة الصحراء الكبرى

ثانياً : أكمل المخطط السهمي التالي :



ثالثاً / فسر: سبب تسمية هضبة أفريقية الشمالية بهضبة الصحراء الكبرى.

نظراً لامتدادها الواسع من ساحل المحيط الاطلسي غرباً الى مرتفعات البحر الاحمر شرقاً.

رابعاً / اكتب ما تعرفه عن:

١) هضبة الصحراء الكبرى  
أكبر الهضاب في العالم، وتمتد من ساحل المحيط الأطلسي غرباً إلى مرتفعات البحر الأحمر شرقاً.

٢) الكثافة السكانية في الصحراء الكبرى ضئيلة.  
نظراً لتواجدها ضمن المناخ الصحراوي الحار.

خامساً / فرق بين كل من التالي:

المجال	الكويت	هضبة الصحراء الكبرى
الكثافة السكانية	كثافة سكانية مرتفعة.	كثافة سكانية منخفضة جداً

..... درس (التضاريس ج- السهول - د- التلال) .....

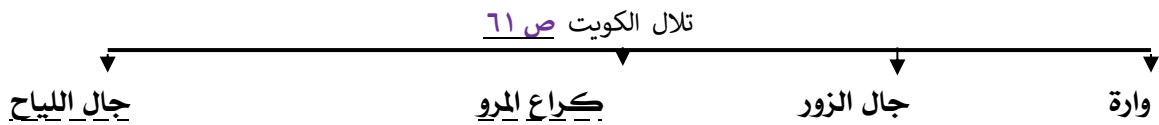


أولاً : أكمل العبارات التالية بما يناسبها فيما درست :

- ١/ تنقسم السهول في العالم الى نوعين سهول فيضيه وسهول ساحلية.
  - ٢/ أشهر سهول دولة الكويت يمتد من جون الكويت باتجاه الجنوب موازياً للساحل يسمى سهل بركان
  - ٣/ سهل يقع في شمال دولة الكويت يسمى الروضتين
  - ٤/ يشبه الجبل، ولكن ارتفاعه يكون اقل من ١٠٠٠ متر. يسمى التل
- ثانياً: صوب ما تحته خط في العبارات التالية:

التصويب	العبارة
ساحلية	تنقسم السهول في العالم الاسلامي الى فيضيه وقارية .
الفيضية	يطلق على السهول النهرية مصطلح اخر وهو الساحلية.
السهول	تشيد المدن ويتركز السكان في الجبال.
برقان	من أشهر السهول في الكويت ويمتد من جون الكويت باتجاه الجنوب هو سهل الروضتين
الساحلية	تصنف السهول الشرقية للخليج العربي ضمن السهول النهرية
الكويت	تلال جال الزور من التلال التي تقع في البحرين

رابعاً / أكمل المخططات السهمية التالية :



سادساً / صنف الكلمات التالية إلى مكانها المناسب في الجدول التالي:

وارة - الحجاز - الأناضول - الروضتين - جال الزور - أطلس - مره - نجد - بركان

سهول	تلال	هضاب	جبال
برقان / الروضتين	واره / جال الزور	الأناضول / نجد	الحجاز / أطلس / مره

سابعاً / علل / اذكر السبب.

- ١) للسهول أهمية كبيرة .  
لاستخدامها كموانئ طبيعية - تشييد المدن - تركيز السكان فيها
- ٢) تشييد المدن في السهول .  
لان السهول عبارة عن أجزاء فسيحة من سطح الارض تتميز باستوائها وقله ارتفاعاتها.
- ٣) تركيز السكان في السهول .  
نظراً لسهولة التنقل فيها.

## درس المناخ

أولا: أكمل العبارات التالية بما يناسبها فيما درست:

- ١/ أكثر الأقاليم المناخية انتشارا في دول العالم الإسلامي الاقليم الصحراوي.
- ٢/ مساحة من الارض تتصف بعناصر مناخية متشابهة اسم الاقليم المناخي.

ثانيا/ اكتب المفاهيم أو المصطلحات الدالة على العبارات التالية:

المناخ	حالة الجو خلال فترة زمنية طويلة من حيث عناصره
الطقس	حالة الجو في مكان لمدة قصيرة تتراوح بين يوم أو عدة أيام
الإقليم المناخي	مساحة من الأرض تتصف بعناصر مناخية متشابهة.

ثالثا / استنتج الرابط بين العناصر التالية:

موسمي + مداري + صحراوي + معتدل

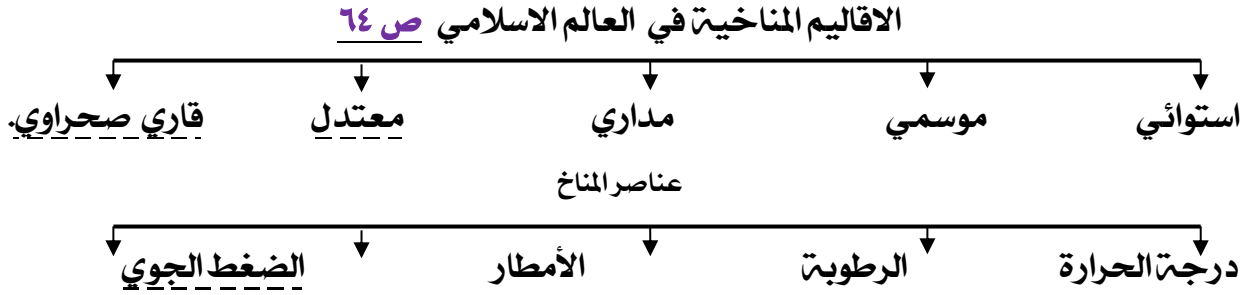
رابعا / من أنا

( أقاليم مناخية )  
المناخ الكويتية  
almanahj.com



نحن مجموعة عناصر مهمة لمعرفة حالة الجو نحن نمثل عناصر المناخ

خامسا / أكمل المخطط السهمي التالي:



سادسا / علل / اذكر السبب.

نظرا لتواجدها ضمن المناخ الصحراوي الحار

الكثافة السكانية في الصحراء الكبرى ضئيلة.

سابعا / قارن بين كل مما يلي:

١/ الأقاليم المناخية من حيث صفة المطر:

وجه المقارنة	المناخ الاستوائي الحار	المناخ الموسمي الحار	المناخ المداري	المناخ المعتدل الدافئ
صفة الأمطار	ممطر طوال العام.	ممطر صيفا	الأمطار الصيفي قليلة	ممطر شتاء و حار صيفا

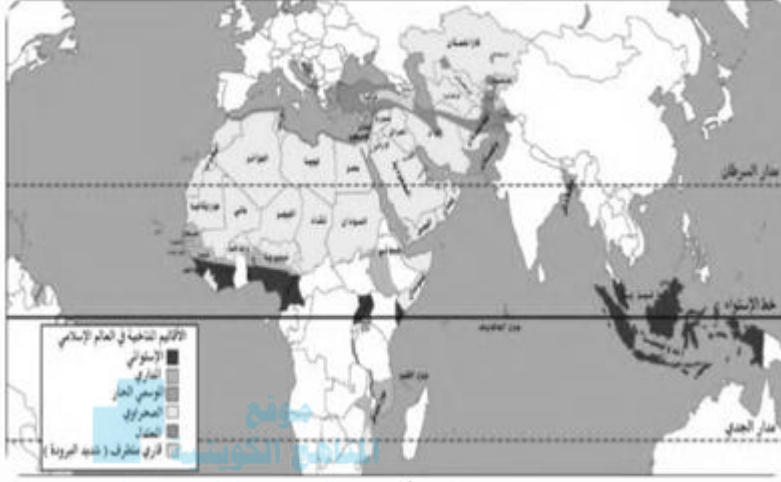
٢/ المناخ والطقس من حيث الفترة الزمنية

وجه المقارنة	المناخ	الطقس
الفترة الزمنية	فترة زمنية طويلة.	فترة زمنية قصيرة.

عدد العوامل التي ساعدت في تنوع المناخ في دول العالم الإسلامي ص ٦٣

- \* امتداد دول العالم الإسلامي على مساحة شاسعة.
- \* الموقع بالنسبة لدوائر العرض.
- \* الإطلالة على عدة مسطحات مائية في معظم أجزائه.
- \* التنوع في التضاريس

ثامنا / لاحظ الخريطة المقابلة ثم أجب على التالي : ص ٦٣



شكل (٢٤) خريطة الأقاليم المناخية في دول العالم الإسلامي

- ١/ في أي اقليم مناخي تقع دولة الكويت ؟  
في الاقليم الصحراوي
- ٢/ اكتب اثنين من المسطحات المائية التي يطل عليها العالم الإسلامي  
\* المحيط الاطلسي - المحيط الهندي
٣. اكتب اثنين من الأقاليم المناخية التي يقع ضمنها دول العالم الإسلامي  
الاقليم الصحراوي- الإقليم الاستوائي الاقليم المعتدل-  
الاقليم المداري - الاقليم الحار - الاقليم القاري المتطرف

### درس (أثروات الطاقة والمعادن: ١-النفط والغاز الطبيعي)

أولا : أكمل العبارات التالية بما يناسبها فيما درست :

- ١ / من أهم مصادر الطاقة في العالم الغاز الطبيعي والنفط
  - ٢ / يبلغ إجمالي احتياطي النفط الخام في دول العالم الإسلامي من إجمالي الاحتياطي العالمي حوالي ٥٨,٥%
- ثانيا / اكتب المصطلح الدال على العبارة التالية :

١ . احتياطي النفط ص ٦٨ كمية النفط المخزونة في باطن الارض ولم تستخرج بعد.



- ثالثا / لاحظ الشكل المقابل ثم أجب عن الأسئلة التالية : ص ٦٧
- أ / من أهم مصادر الطاقة في العالم النفط والغاز الطبيعي
  - ب / تبلغ نسبة إنتاج النفط الخام في العالم الإسلامي ٤١,٥%

رابعا / علل / اذكر السبب.

- ١ / تنوع الثروات الطبيعية في العالم الإسلامي ص ٦٧  
أ- بسبب المساحات الشاسعة التي يمتلكها العالم الإسلامي. ب- امتلاكه تضاريس متنوعة. ج- يقع في مناخات متنوعة.
- ٢ / أهم موارده الطبيعية في العالم الإسلامي .  
أ - ثروات الطاقة والمعادن ( النفط والغاز الطبيعي ) / الثروات المعدنية ص ٦٧  
ب - الثروة الزراعية. ( الحبوب / الغلات النقدية ) ص ٧٢  
ج - الثروة السمكية. ص ٧٤


**درس (أثروات الطاقة والمعادن: ٢-١. الثروات المعدنية)**

**أولاً : أكمل العبارات التالية بما يناسبها فيما درست :**

- ١/ أعلى نسبة إنتاج للمعادن في العالم الإسلامي اسمه معدن اليورانيوم
  - ٢/ أكثر دوله إنتاجاً لمعدن اليورانيوم لعام ٢٠١٤ بنسبة ٤١ % تسمى كازاخستان.
  - ٣/ تنتج جمهورية كازاخستان معدن اليورانيوم والفضة
  - أكثر الدول إنتاجاً لمعدن الذهب تسمى اوزباكستان
- ثانياً : استنتج الرابط بين العناصر التالية :**

( ثروات معدنية ص ٧٠ )

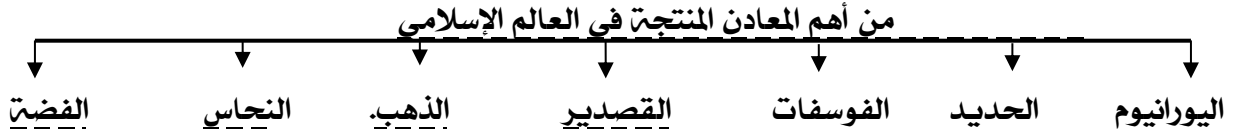
يورانيوم + ذهب + فضة + نحاس  
ثالثاً من أنا؟



من أهم المعادن إنتاجاً في العالم الإسلامي أنا اليورانيوم ص ٧٠



**رابعاً / أكمل المخطط السهمي التالي :**



**خامساً اختر للمجموعة (أ) ما يرتبط بها من المجموعة (ب) بوضع الرقم المناسب.**

ص	م	المجموعة (أ)	الرقم المناسب	المجموعة (ب)	الدائرة البيانية
٦٧	١	نسبة إنتاج العالم الإسلامي من النفط الخام	١	٤١,٥ %	
٦٩	٢	نسبة احتياط العالم الإسلامي من النفط الخام	٣	٣٦ %	
٦٧	٣	نسبة إنتاج العالم الإسلامي من الغاز الطبيعي	٢	٥٨,٥ %	
٧٠	٤	نسبة إنتاج كازاخستان من معدن اليورانيوم	٥	١٤ %	
٧٢	٥	نسبة إنتاج العالم الإسلامي من الحبوب	٤	٤١ %	
٥١	٦	مساحة العالم الإسلامي بالنسبة لعالم	٦	٢٢,٢ %	

سادسا / لاحظ شكل ٢٨ المقابل ثم أجب على الاسئلة التالية:

أعد ترتيب الثلاث دول الاولى في إنتاج معدن اليورانيوم  
كازاخستان - النيجر - اوزباكستان

من الدولة التي تمتلك أقل نسبة أقل نسبة في إنتاج  
معدن الفضة؟  
اوزباكستان  
حول نسبة كازاخستان في اليورانيوم لدائرة بيانية

اليورانيوم	الذهب	الفضة
كازاخستان %٤١	إندونيسيا %٢,٣	تركيا %٠,٧
أوزباكستان %٤,٣	أوزباكستان %٣,٤	إندونيسيا %٣,٦
النيجر %٧,٢	السودان %٢,٤	كازاخستان %٣,٦
باكستان %٠,١	مالي %١,٥	أوزباكستان %٠,٢
	كازاخستان %١,٧	المغرب %٠,٧

شكل (٢٨) نسبة إنتاج اليورانيوم والذهب والفضة من جملة إنتاج دول العالم  
الإسلامي حسب إحصاء ٢٠١٤<sup>(١)</sup>



سابعا / صف الكلمات التالية إلى مكانها المناسب في الجدول التالي:

موقع  
المنهج الكويتية  
almanahj.com/kw

١٢/ النحاس - الجوت - الذهب - الارز - القطن - اليورانيوم - المطاط - الفضة

الثروة المعدنية ص ٧٠	الثروة الزراعية ص ٧٢
النحاس - الذهب - اليورانيوم - الفضة	الجوت - الارز - القطن - المطاط

### درس بد الثروات الزراعية -

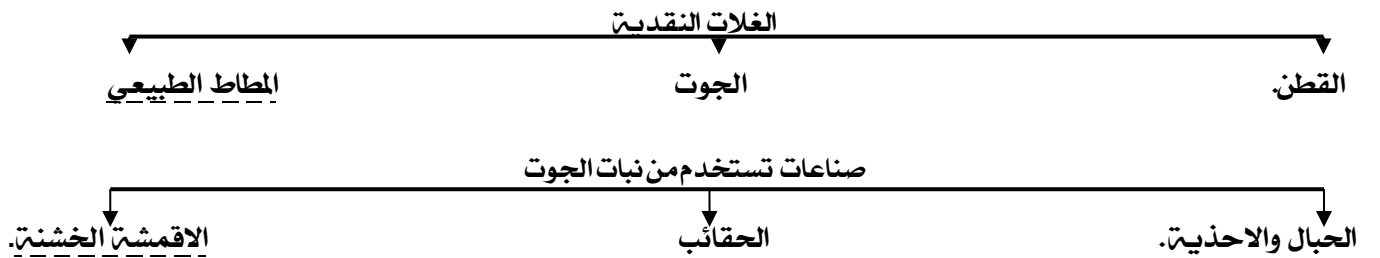
أولا : أكمل العبارات التالية بما يناسبها فيما درست :

- ١/ تبلغ نسبة إنتاج العالم الاسلامي من الحبوب بالنسبة للعالم حوالي %١٤
- ٢/ المحاصيل التي تزرع من أجل التصدير تسمى الغلات النقدية
- ٣/ تصنع الحبال وبعض انواع الاحذية والحقائب والأقمشة من أغصان نبات يسمى الجوت

ثانيا / اكتب المفاهيم أو المصطلحات الدالّة على العبارات التالية :

١. الغلات النقدية	المحاصيل التي تزرع من أجل التصدير مثل : القطن والمطاط الطبيعي.
٢. الجوت	هو نبات ينمو في المناطق الاستوائية والموسمية، تؤخذ أغصانه وتوضع تحت الماء وتطمر بالطين، وبعد أيام تستخرج وتغزل ويصنع منها الحبال والأحذية والحقائب والأقمشة الخشنة.

ثالثا / أكمل المخططات السهمية التالية :





رابعاً / استنتج الرابط بين العناصر التالية:

مناخ + مياه + تربة خصبه + أيدي عامله (عوامل الانتاج الزراعي)

علل أهمية الثروة الزراعية للعالم الإسلامي .

١/ المصدر الأساسي لانتاج الغذاء ٢/ تمثل الدخل الرئيسي ٣/ تدخل كمادة خام في الصناعات ٤/ يعمل بها ٧٠٪ من السكان



تمثل المحاصيل التي تزرع  
من أجل التصدير  
وتسمى  
الغلات النقدية

almanahj.com/kw



خامساً / من نحن؟

عوامل تساعد على زيادة  
الانتاج الزراعي

سادساً / ضع أسماء المحاصيل التالية في مكانها حسب الجدول التالي:

الذرة - الأرز - العنب - الموز - القطن - الجوت

الفواكه والثمار	الحبوب	الغلات النقدية
العنب الموز	الذرة الأرز	القطن الجوت

١ - اقرأ الفقرة التالية ثم أجب عما يليها من أسئلة:

تعد الثروة الزراعية في العالم الإسلامي المصدر الرئيسي لإنتاج الغذاء ويعمل بها ٧٠ ٪ من سكان العالم الإسلامي حيث تمثل الدخل الرئيسي لدوله وتدخل كمادة خام في كثير من الصناعات وهناك عوامل ساعدت على الانتاج الزراعي ومنها المناخ و سقوط الأمطار ووجود البحيرات والأنهار والآبار والتربة الخصبة ومن أهم المحاصيل الغذائية في العالم الإسلامي الحبوب والغلات النقدية .

١ ضع عنوان مناسب للفقرة السابقة . الثروة الزراعية في العالم الإسلامي

٢ اذكر أهم المحاصيل الزراعية في العالم الإسلامي ؟

الحبوب / الغلات النقدية

٣ ما أهم العوامل التي ساعدت على الانتاج الزراعي في دول العالم الإسلامي ؟

أ. المناخ ب. سقوط الأمطار. ج. وجود البحيرات والأنهار والآبار د. التربة الخصبة

و. كثرة السكان والأيدي العاملة

٤ حول النسبة المذكورة في الفقرة السابقة الى دائرة بيانية.



## درس ج الثروة السمكية

ولا : أكمل العبارات التالية بما يناسبها فيما درست :

- ١/ الدولة التي احتلت المركز الثاني على مستوى العالم للإنتاج البحري في عام ٢٠١٤ تسمى اندونيسيا.
  - ٢/ يعد من المصادر غير الطبيعية لإنتاج الاسماك يسمى الاستزراع السمكي
  - ٣/ الدولة التي لا تطل على مسطح مائي تسمى دوله مغلقة
- ثانيا/ اكتب المفهوم الدال على العبارة التالية :

مصطلح يطلق على أي دولة لا تطل على مسطح مائي

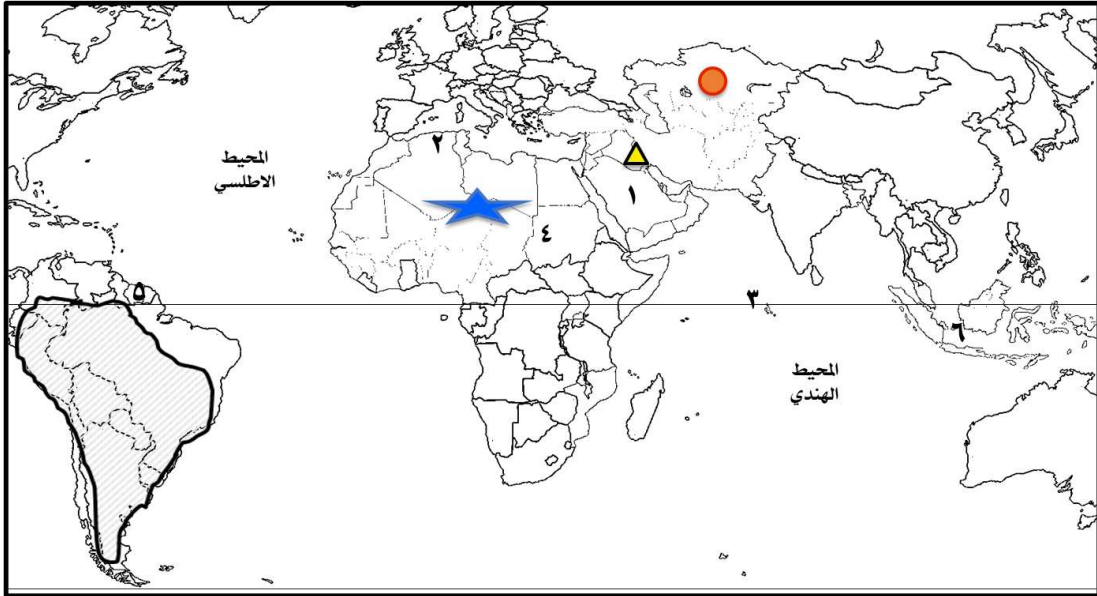
دول مغلقة

ثالثا / فرق بين كل من مصادر إنتاج الاسماك

مصادر طبيعية	مصادر غير طبيعية
المحيطات والبحار/المياه العذبة	الاستزراع السمكي

رابعا / علل / اذكر السبب .

- ١) تنوع مصادر إنتاج الاسماك في دول العالم الاسلامي.  
لوجود مصادر طبيعية كالمحيطات والبحار والمياه العذبة وغير طبيعية كالاستزراع السمكي
- خامسا / اكتب مدلولات الأرقام أو الرموز أو الأشكال على الخريطة التي أمامك :



- ☆ هضبة الصحراء الكبرى يمثلها على الخريطة الشكل
- ▲ أكبر الدول الاسلامية مساحةً يمثلها على الخريطة الشكل
- سهول تسمى دجلة والفرات يمثلها على الخريطة الشكل
- هضبة نجد يمثلها على الخريطة الرقم ١
- أصغر الدول الاسلامية مساحةً يمثلها على الخريطة الرقم ٢
- دولة سورينام يمثلها على الخريطة الرقم ٥
- دولة اسلامية تحتل المركز الثاني في الإنتاج البحري يمثلها على الخريطة الرقم ٦
- \* ظلل قارة أمريكا الجنوبية - ارسم خط الاستواء
- جبال أطلس يمثلها على الخريطة الرقم ٢
- الدولة الاسلامية التي يوجد بها جبل مره يمثلها على الخريطة الرقم ٤
- حدد كل من المحيط الهندي والمحيط الأطلسي كتابيا على الخريطة

