

تم تحميل هذا الملف من موقع المناهج الكويتية



مدرسة التميز النموذجية

الملف بنك أسئلة مدرسة التميز النموذجية

[موقع المناهج](#) ← [المناهج الكويتية](#) ← [الصف السادس](#) ← [اجتماعيات](#) ← [الفصل الأول](#)

روابط مواقع التواصل الاجتماعي بحسب الصف السادس



روابط مواد الصف السادس على تلغرام

[الرياضيات](#)

[اللغة الانجليزية](#)

[اللغة العربية](#)

[التربية الاسلامية](#)

المزيد من الملفات بحسب الصف السادس والمادة اجتماعيات في الفصل الأول

<a href="#">نموذج احابة اختبار لمنطقة مبارك الكبير عام 2016</a>	1
<a href="#">اوراق عمل مهمة في مادة الاجتماعيات</a>	2
<a href="#">بنك اسئلة ممتاز في مادة الاجتماعيات</a>	3
<a href="#">بنك معلومات مهم في مادة الاجتماعيات</a>	4
<a href="#">تلخيص اجتماعيات بشكل مبسط</a>	5



مدرسة التميز النموذجية

(ابتدائي - متوسط - ثانوي)

6

بنك الأسئلة

الاجتماعيات

الصف السادس



خمسة وعشرون عاماً من التميز

2025 / 2024  
الفصل الدراسي الأول



# الاجتماعيات



### السؤال الأول أكمل العبارات التالية :-

- ١- تشغل شبه الجزيرة العربية ..... درجة عرض شمال خط الاستواء و ..... خط طول شرق غرينتش .
- ٢- موقع الدولة بالنسبة لخطوط الطول ودوائر العرض يسمى .....
- ٣- موقع الدولة بالنسبة لليابسة والماء يسمى .....
- ٤- عدد خطوط الطول على الأرض يبلغ .....
- ٥- عدد دوائر العرض على الأرض يبلغ .....
- ٦- تقع شبه الجزيرة العربية بالنسبة لقارة آسيا في الجهة .....
- ٧- تقع دول الخليج العربية بالنسبة لمسطح الخليج العربي بالجهة .....
- ٨- كل مرتفع له قمة لا يقل ارتفاعه عن ١٠٠٠ م يسمى ..
- ٩- ارض مرتفعة سطحها مستوي وتمتد مساحة كبيرة تسمى .....
- ١٠- يتشابه مناخ دول الخليج العربية ويتصف بأنه .....
- ١١- نباتات متوفرة طول العام لأنها تتحمل الجفاف والحرارة تسمى .....
- ١٢- نباتات يرتبط وجودها بموسم المطر تسمى .....
- ١٣- يبدأ موسم الغوص من أوائل شهر ..... وينتهي في شهر .....
- ١٤- تسمى بداية موسم الغوص ..... ونهايته ..
- ١٥- يسمى صانع السفن قديما .....
- ١٦- الاسم الذي كان يطلق على ربان السفينة.. ..
- ١٧- الاسم الذي كان يطلق على تجار اللؤلؤ .....
- ١٨- الاسم الذي أطلق على الخليج العربي قديما ١- ..... ٢- .....
- ١٩- ظهرت الحضارة الهلينستية في .....
- ٢٠- ظهرت حضارة مجان في .....
- ٢١- ظهرت حضارة دلمون في .....
- ٢٢- القرن الميلادي الذي ظهر فيه الإسلام هو .....

### السؤال الثاني صحح ما تحته خط ؟

- ١- تبلغ درجة الحرارة في الصيف في دول الخليج ٢٥ درجة ( ..... ) .
- ٢- يبلغ عدد دوائر العرض على الأرض يبلغ ١٦٠ دائرة ( ..... ) .
- ٣- من الأمثلة على النباتات الحولية في الكويت الصبار ( ..... ) .
- ٤- الأجزاء الفسيحة من الأرض تتميز باستوائها تسمى التلال ( ..... ) .
- ٥- تقع منطقة الإحساء الزراعية في سلطنة عمان ( ..... ) .



### السؤال الثالث : عرف ما يلي :-

- ١- الموقع الفلكي : .....
- ٢- الموقع النسبي : .....
- ٣- خطوط الطول: .....
- ٤- الجبل : .....
- ٥- الهضبة: .....
- ٦- النباتات المعمرة : .....
- ٧- النباتات الحولية : .....
- ٨- الواحة: .....
- ٩- الخليج العربي : .....
- ١٠- المجدي : .....
- ١١- الرضيف : .....
- ١٢- القرقور : .....
- ١٣- المسطحات المائية : .....

### السؤال الرابع : علل ما يلي :-

- ١- توافر النباتات المعمرة طول العام.....
- ٢- كانت حياة السكان في دول الخليج العربية قاسية وخشنة : -
- .....
- ٣- تشابه الأعمال التي مارسها سكان دول الخليج العربية : -
- .....
- ٤- تعتبر سفينة البغلة أفضل أنواع السفن القديمة : -
- .....
- ٥- انصراف سكان الخليج العربي عن حرفة الغوص على اللؤلؤ :-
- .....
- ٦- ممارسة سكان دول الخليج العربية للأنشطة التجارية :-
- .....



### السؤال الخامس اجب عما يلي :-

١- تهب على دول الخليج العربية ثلاث أنواع من الرياح اذكرها :-

- أ- .....
- ب- .....
- ت- .....

٢- العوامل التي تأثرت بها الحضارات التي نشأت في دول الخليج العربية :-

- أ - .....
- ب - .....
- ج - .....

٣- عدد الأسماء التي عرف بها الخليج العربي قديما :-

- أ - .....
- ب - .....

٤- عدد ثلاث من الحرف اليدوية التي مارسها السكان قديما

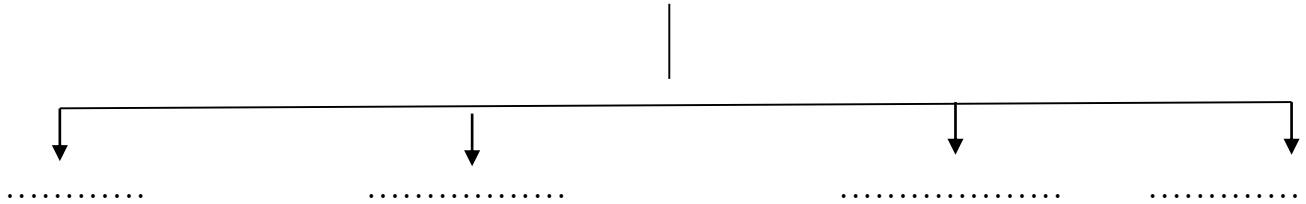
.....:

### السؤال السادس. صنف المدن التي وصلت إليها تجارة الخليج حسب الجدول التالي :

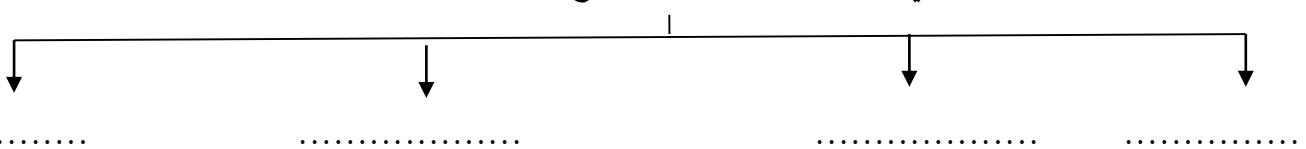
- كلكتا - مدراس - مقديشو - بومباي - ممباسا

مدن في إفريقيا	مدن في آسيا

### السؤال السابع عدد الأنشطة الاقتصادية البرية التي مارسها سكان دول الخليج العربية



عدد الأنشطة الاقتصادية البحرية التي مارسها السكان في دول الخليج العربية





### السؤال الثامن : أكمل الجداول التالية .

أ- فرق بين خطوط الطول ودوائر العرض .

دوائر العرض	خطوط الطول	
		التعريف
		عدد الخطوط

ب- فرق بين النباتات المعمرة والحولية .

النباتات الحولية	النباتات المعمرة	
		التعريف
		الأمثلة

ج- اذكر منطقة زراعية في كل من الدول التالية .

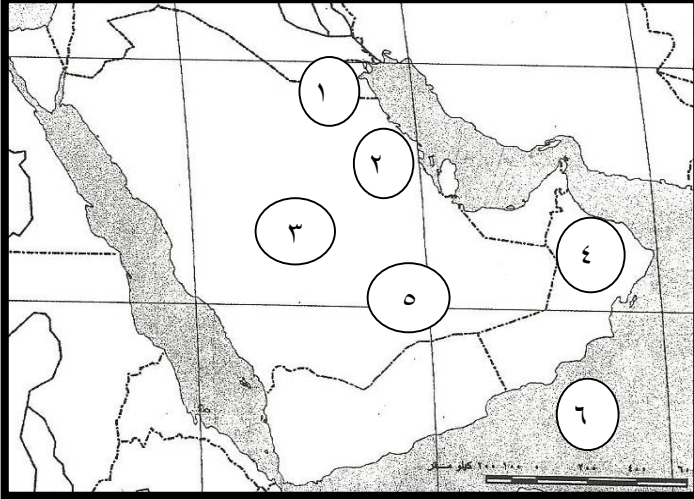
عمان	الإمارات	السعودية	الكويت



### السؤال التاسع صل بخط بين الحضارة والدولة التي نشأت فيها :

- الحضارة الهلينستية - البحرين  
 - حضارة مجان - الكويت (فيلكا)  
 - حضارة دلمون - عمان

### السؤال العاشر - أمامك خريطة شبه الجزيرة العربية أكتب مدلولات الأرقام الموجودة عليها :



- ١- تلال تسمى.....  
 ٢- سهول تسمى.....  
 ٣- هضبة تسمى.....  
 ٤- جبل يسمى.....  
 ٥- صحراء تسمى.....  
 ٦- مسطح مائي يسمى.....

### السؤال الحادي عشر : أكمل العبارات التالية :

١. أول دولة استعمارية وصلت إلى الخليج العربي هي .....
٢. الأسلوب الاستعماري الذي اتبعته بريطانيا في الخليج هو .....
٣. أعلن استقلال الكويت في ١٩ يونيو عام .....
٤. الحاكم الذي تم في عهده الاستقلال هو .....
٥. المقر الدائم لمجلس التعاون الخليجي هي مدينة .....
٦. أعلن قيام مجلس التعاون الخليجي في مدينة .....
٧. العام الذي تم فيه إعلان السوق الخليجية المشتركة .....
٨. الاسم الذي أطلق على الخليج العربي قديما .....
٩. ظهرت الحضارة الهلينستية في .....
١٠. ظهرت حضارة مجان في .....
١١. ظهرت حضارة دلمون في .....
١٢. القرن الميلادي الذي ظهر فيه الإسلام هو .....





### السؤال الثاني عشر صحح الخطأ فيما يلي :

١. الدولة الخليجية التي قامت عام ١٩٣٢ هي عمان (.....).
٢. الدولة الخليجية التي استقلت عام ١٩٦١ م هي الإمارات (.....).
٣. دولة قطر خضعت للاستعمار الفرنسي (.....).
٤. اتفاقية الحماية البريطانية على الكويت كانت عام ١٩٩٩ (.....).
٥. ألغيت معاهد الحماية البريطانية عن الكويت في عهد الشيخ جابر الأحمد (.....).

### السؤال الثالث عشر : عرف ما يلي :-

١. الاستقلال : .....
٢. الاستعمار : .....
٣. مجلس التعاون لدول الخليج العربي.....

### السؤال الرابع عشر اجب عما يلي :-

- ١ - عدد أهداف مجلس التعاون لدول الخليج العربية .

- أ- .....
- ب- .....
- ج- .....

- ٢ - اكتب السمات المشتركة بين دول مجلس التعاون .


- أ- .....
- ب- .....
- ج- .....

- ٣- العوامل التي تأثرت بها الحضارات التي نشأت في دول الخليج العربية .

- أ-..... ب-..... ج.....

### السؤال الخامس عشر رتب الدول الاستعمارية حسب وصولها للخليج العربي ؟

-٣





**السؤال السادس عشر : وضح تفاصيل اتفاقية الحماية مع بريطانيا ؟**

السنة	الاطراف	أسلوب الاستعمار

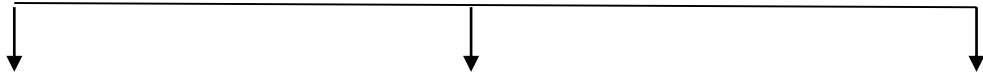
**السؤال السابع عشر : انجازات مجلس التعاون في المجالات التالية ؟**

العسكرية	السياسية	الثقافية	الاقتصادية

**السؤال الثامن عشر : أكمل الجدول التالي ؟**

الدولة	السعودية	الكويت	الإمارات	البحرين	عمان
سنة الاستقلال					
الدولة المستعمرة					

**السؤال التاسع عشر الهيكل التنظيمي لمجلس التعاون الخليجي ؟**



**السؤال العشرون صل بخط بين القبيلة والدولة التي اتجهت إليها ؟**

- |              |               |
|--------------|---------------|
| - رأس الخيمة | - آل صباح     |
| - عمان       | - المعاضيد    |
| - الكويت     | - القواسم     |
| - أبوظبي     | - قبائل الآزد |
| - قطر        | - بني ياس     |



## الاجابة

### السؤال الأول : أ- أكمل العبارات التالية :-

١. ١٦ - ٢٥ .
٢. الموقع الفلكي .
٣. الموقع النسبي .
٤. ٣٦٠ .
٥. عدد ١٨٠ .
٦. الجنوبية الغربية .
٧. الغربية .
٨. الجبل .
٩. هضبة .
١٠. صحراوي قاري .
١١. النباتات المعمرة .
١٢. النباتات الحولية .
١٣. يونيو - سبتمبر .
١٤. الدشة - القفال .
١٥. القلاف .
١٦. النوخذة .
١٧. الطواش .
١٨. ١-... البحر الأدنى..٢-...بحر شروق الشمس .
١٩. جزيرة فيلكا .
٢٠. عمان ..
٢١. البحرين .
٢٢. السابع .

### اجابة السؤال الثاني .

١. (٤٠... درجة...)
٢. (.....١٨٠.....)
٣. (...المعمرة...)
٤. (...السهول...)
٥. (...السعودية...)



### إجابة السؤال الثالث : عرف ما يلي :-

- ١ . موقع الدولة بالنسبة لخطوط الطول ودوائر العرض .
- ٢ . موقع الدولة بالنسبة للبابسة والماء .
- ٣ . خطوط وهمية ترسم على الكرة الأرضية وتقسّم الأرض إلى قسمين شرقي وغربي .
- ٤ . كل مرتفع له قمة لا يقل ارتفاعه عن ١٠٠٠ .
- ٥ . ارض مرتفعة سطحها مستوي وتمتد مساحة كبيرة .
- ٦ . نباتات متوفرة طول العام لأنها تتحمل الجفاف والحرارة .
- ٧ . نباتات يرتبط وجودها بموسم المطر .
- ٨ . منطقة تقع في الصحراء فيها مياه عذبة صالحة للزراعة .
- ٩ . ذراع مائي لبحر العرب يمتد من خليج عُمان جنوبا حتى شط العرب شمالاً .
- ١٠ . رئيس البحرية .
- ١١ . صغار السن والمساعد للسبب في السفن الكبيرة .
- ١٢ . إحدى وسائل صيد الأسماك القديمة .
- ١٣ . جميع أشكال المياه على الأرض . مثل البحار والمحيطات والأنهار .

### إجابة السؤال الرابع : علل ما يلي :-

- ١ . بسبب طول جذورها و قلة أوراقها وقدرتها على نقل الحمولة الكبيرة .
- ٢ . لفقر البيئة وقلة الموارد .
- ٣ . لتوحد الظروف المناخية والبيئية .
- ٤ . لمثانتها وقدرتها على نقل الحمولة الكبيرة وقلة تعرضها للإخطار .
- ٥ . لاكتشاف النفط و ظهور اللؤلؤ الصناعي .
- ٦ . وذلك لأنها تطل على مسطحات تجارية هامة .

### إجابة السؤال الخامس اجب عما يلي :-


- ١ . أ - الشمالية .
- ب - الجنوبية الشرقية " (الكوس) .
- ج - الزوابع ( العواصف الترابية ) .
- ٢ - الموقع ب- وفرة المياه ج- البيئة الطبيعية .
- ٣ - أ . البحر الأدنى ب- بحر شروق الشمس .
- ٤ - صناعة الخوص -صناعة السدو - صناعة البشوت .

### إجابة السؤال السادس :-


- كلكتا - مدراس - مقديشو - بومباي - ممباسا

مدن في افريقيا	مدن في آسيا
مقديشو - ممباسا	كلكتا - مدراس - بومباي

### إجابة السؤال السابع: الأنشطة الاقتصادية البرية التي مارسها سكان دول الخليج العربية



### الأنشطة الاقتصادية البحرية التي مارسها السكان في دول الخليج العربية



### إجابة السؤال الثامن :

فرق بين خطوط الطول ودوائر العرض

دوائر العرض	خطوط الطول	
خطوط وهمية ترسم على الكرة الأرضية وتقسّم الأرض إلى قسمين شمالي وجنوبي	خطوط وهمية ترسم على الكرة الأرضية وتقسّم الأرض إلى قسمين شرقي وغربي	التعريف
.....١٨٠.....	.....٣٦٠.....	عدد الخطوط

### الفرق بين النباتات المعمرة والحولية

النباتات الحولية	النباتات المعمرة	
نباتات يرتبط وجودها بموسم المطر	نباتات متوفرة طول العام لأنها تتحمل الجفاف والحرارة	التعريف
العنصبل و الخبيزة والحويذان	الصبار و العرفج والتندا	الأمثلة



- المنطقة الزراعية في كل من الدول التالية .

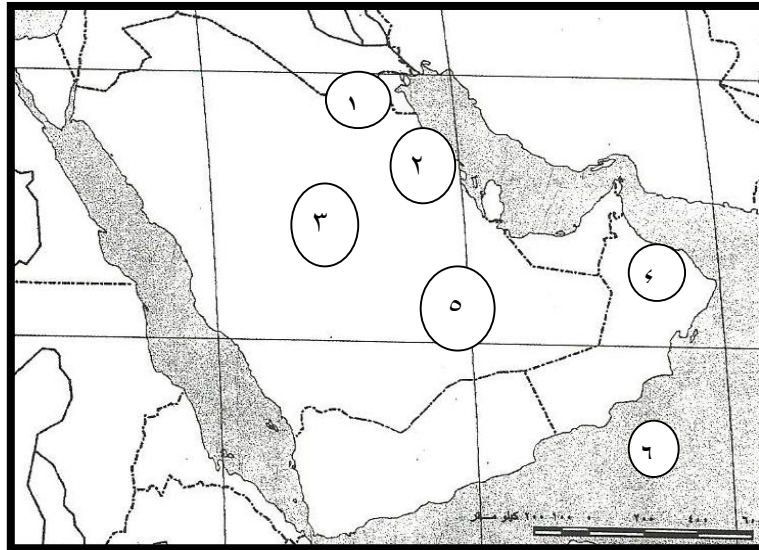
الكويت	السعودية	الإمارات	عمان
الوفرة و العبدلي	الإحساء و تمامه	العين و ليوا	صلالة وسهل الباطنة

إجابة السؤال التاسع .

- الحضارة الهلينستية - البحرين  
- حضارة مجان - الكويت (فيلكا)  
- حضارة دلمون - عمان

إجابة السؤال العاشر - أمامك خريطة شبه الجزيرة العربية أكتب مدلولات الأرقام الموجودة عليها :

- ١ - تلال تسمى ..جال الزور..... ٢ - سهول تسمى ..الإحساء....  
٣ - هضبة تسمى ...نجد..... ٤ - جبل يسمى ..الأخضر.....  
٥ - صحراء تسمى ...الربع الخالي .... ٦ - مسطح مائي يسمى ..بحر العرب.....





### إجابة السؤال الحادي عشر :-

- ١ . البرتغال .
- ٢ . المعاهدات والاتفاقيات .
- ٣ . ١٩٦١ م .
- ٤ . عبد الله السالم .
- ٥ . الرياض .
- ٦ . أبوظبي .. -... ١٩٨١ م .
- ٧ . ٢٠٠٨ م .
- ٨ . ١-... البحر الأدنى...٢-... بحر شروق الشمس .
- ٩ . ... جزيرة فيلكا .
- ١٠ . ... عمان ..
- ١١ . ... البحرين ....
- ١٢ . ... السابع ....

### إجابة السؤال الثاني عشر :-

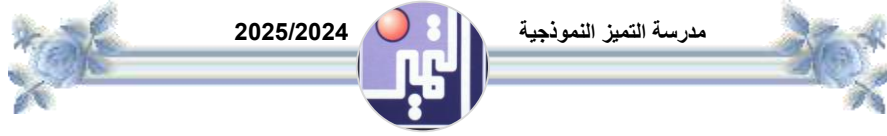
- ١ . ( السعودية ) .
- ٢ . ( الكويت ) .
- ٣ . ( البريطاني ) .
- ٤ . ( ١٨٩٩ ) .
- ٥ . ( الشيخ عبد الله السالم الصباح ) .

### إجابة السؤال الثالث عشر :-

- ١ . مسؤولية الدولة عن إدارة شؤونها الداخلية والخارجية .
- ٢ . أن تسيطر دولة قوية على دولة ضعيفة بهدف استغلال موقعها ومواردها .
- ٣ . منظمة سياسية اقتصادية إقليمية تضم ست دول عربية خليجية .

### إجابة السؤال الرابع عشر :-

- ١ - أ - تحقيق التعاون في جميع المجالات .
- ب - تحقيق الترابط والصلات .
- ج - العمل على تقدم دول المجلس في المجال العلمي .
- ٢ - وحدة الأصل ب- اللغة والدين ج- التاريخ المشترك
- ٣ - أ - الموقع ب- وفرة المياه ج- البيئة الطبيعية



**إجابة السؤال الخامس عشر رتب الدول الاستعمارية حسب وصولها للخليج العربي؟**

٣- بريطانيا

٢- هولندا

١- البرتغال

**إجابة السؤال السادس عشر وضح تفاصيل اتفاقية الحماية مع بريطانيا؟**

السنة	الأطراف	أسلوب الاستعمار
١٨٩٩	الكويت و بريطانيا	المعاهدات والاتفاقيات

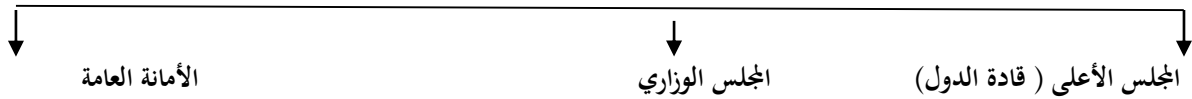
**إجابة السؤال السابع عشر انجازات مجلس التعاون في المجالات التالية؟**

العسكرية	السياسية	الثقافية	الاقتصادية
اتفاقية الدفاع المشتركة	التنسيق في المجال السياسي	وثيقة تطوير التعليم	انطلاق السوق الخليجية المشتركة

**إجابة السؤال الثامن عشر أكمل الجدول التالي :**

الدولة	السعودية	الكويت	الإمارات	البحرين	عمان
سنة الاستقلال	١٩٣٢	١٩٦١	١٩٧١	١٩٧١	١٩٧١
الدولة المستعمرة	لا يوجد	بريطانيا	بريطانيا	بريطانيا	بريطانيا

**إجابة السؤال التاسع عشر الهيكل التنظيمي لمجلس التعاون الخليجي؟**



**إجابة السؤال العشرون - صل بخط بين القبيلة والدولة التي اتجهت إليها؟**

