

تم تحميل هذا الملف من موقع المناهج الكويتية



الملف نموذج اختبار تقويمي ثالث

[موقع المناهج](#) ← [المناهج الكويتية](#) ← [الصف الأول](#) ← [رياضيات](#) ← [الفصل الأول](#)

روابط مواقع التواصل الاجتماعي بحسب الصف الأول



روابط مواد الصف الأول على تلغرام

[الرياضيات](#)

[اللغة الانجليزية](#)

[اللغة العربية](#)

[التربية الاسلامية](#)

المزيد من الملفات بحسب الصف الأول والمادة رياضيات في الفصل الأول

[تدريبات على كتابة الاعداد من 1 وحتى 10 في مادة الرياضيات](#)

1

[التصنيف وفق خاصية واحدة في مادة الرياضيات](#)

2

[اوراق عمل في مادة الرياضيات](#)

3

[تحضير درس الانماط في مادة الرياضيات](#)

4

[تحضير درس التطابق في مادة الرياضيات](#)

5

# الاختبار التقويهي الثالث

## للمصف الأول

الفصل الدراسي الأول 2023 / 2024

بنود الاختبار	توزيع درجات الاختبار		درجة الاختبار	مدة الاختبار	موعد الاختبار
(١-٤)	مقال	موضوعي	٥ درجات	لا تتجاوز ١٥ دقيقة من زمن الاختبار	الأسبوع ٩
(٢-٤)					
(٣-٤)	٣	٢			
(٤-٤)					
(٥-٤)					

إشراف الوجيه الفني : أ.هما العنزي

أختبر نفسك



أضف

السؤال الأول :

استخدم خط الأعداد



ب) اجمع

موقع  
المنهج الكويتية  
almanahj.com/kw

= ٢ + ٩

أ) اطرح



= ١ - ٤

السؤال الثاني :

صل بالعبرة المناسبة

٧ = ١ - ٨

٨ = ٢ + ٦



انتهت الأسئلة ،،،



نموذج ٢ اختبار تقويمي ( ٣ )  
في مادة الرياضيات للصف الأول  
الفصل الدراسي الأول للعام الدراسي ٢٠٢٣ / ٢٠٢٤ م



وزارة التربية  
الإدارة العامة للتعليم الخاص  
التوجيه الفني للرياضيات

السؤال الأول :

أ أكمل

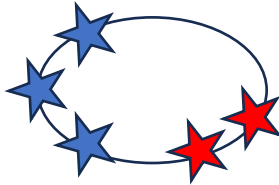
ب



يكونان  و

يكونان  و

السؤال الثاني : حوّل الإجابة الصحيحة



عبارة الجمع المناسبة هي

$$٥ = ٢ + ٣$$

$$٨ = ٢ + ٦$$

$$٥ = ١ + ٤$$

عدد العصافير المتبقية



٢

٤

٣

انتهت الأسئلة ، ، ، ،

السؤال الأول :

استخدم خط الأعداد



اجمع (ب)

موقع  
المنهج الكويتية  
almanahj.com/kw

$$11 = 2 + 9$$

اطرح (أ)



$$3 = 1 - 4$$

السؤال الثاني :

صل بالعبرة المناسبة

$$7 = 1 - 8$$

$$8 = 2 + 6$$



انتهت الأسئلة ،،،

السؤال الأول :

أ أكمل

ب



٧

يكونان

٢

و

٥

٤

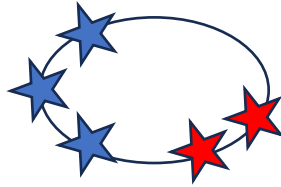
يكونان

١

و

٣

السؤال الثاني : حوّل الإجابة الصحيحة



عبارة الجمع المناسبة هي

$$٥ = ٢ + ٣$$

$$٨ = ٢ + ٦$$

$$٥ = ١ + ٤$$

عدد العصافير المتبقية



٢

٤

٣

انتهت الأسئلة ،،،