

تم تحميل هذا الملف من موقع ملفات الكويت التعليمية



[com.kwedufiles.www//:https](https://www.kwedufiles.com)

*للحصول على أوراق عمل لجميع الصفوف وجميع المواد اضغط هنا

* للحصول على أوراق عمل لجميع مواد الصف الثاني اضغط هنا

<https://kwedufiles.com/2>

* للحصول على جميع أوراق الصف الثاني في مادة رياضيات ولجميع الفصول, اضغط هنا

<https://kwedufiles.com/2math>

* للحصول على أوراق عمل لجميع مواد الصف الثاني في مادة رياضيات الخاصة بـ الفصل الأول اضغط هنا

<https://www.kwedufiles.com/2math1>

* لتحميل كتب جميع المواد في جميع الفصول للـ الصف الثاني اضغط هنا

<https://www.kwedufiles.com/grade2>

* لتحميل جميع ملفات المدرس مدرسة قطوف النموذجية اضغط هنا

[bot_kwlinks/me.t//:https](https://t.me/bot_kwlinks)

للحصول على جميع روابط الصفوف على تلغرام وفيسبوك من قنوات وصفحات: اضغط هنا

الروابط التالية هي روابط الصف الثاني على مواقع التواصل الاجتماعي

مجموعة الفيسبوك

صفحة الفيسبوك

مجموعة التلغرام

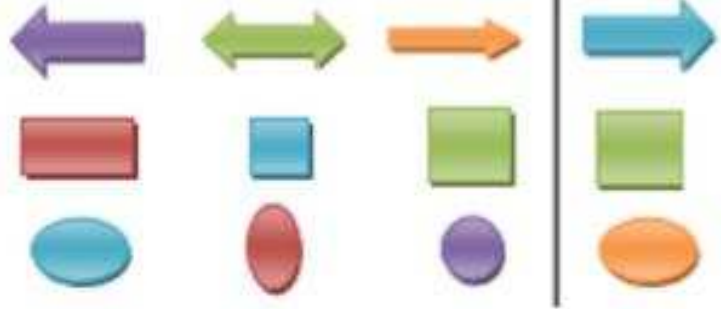
بوت التلغرام

قناة التلغرام

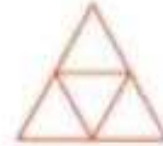
رياضيات على التلغرام



السؤال الأول:- حوِّط الشكل الذي يطابق الشكل الأول:-



عدد المثلثات في هذا الشكل



٥


٤

٣

حوِّط الأشكال التي تتدرج :



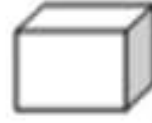
شكل هندسي له ٦ أوجه متطابقة و ١٢ حرفاً و ٨ رؤوس . هو



السؤال الثاني ' صلي



هرم



اسطوانة




مكعب

السؤال الثالث ' اكمل



اسم الشكل
عدد الرؤوس
عدد الأضلاع



اسم الشكل
عدد الرؤوس
عدد الأضلاع



اسم الشكل
عدد الرؤوس
عدد الأضلاع



اسم الشكل
عدد الرؤوس
عدد الأضلاع



اسم الجسم
عدد أوجه
عدد الرؤوس



السؤال الثالث :- أكمل :-

اسم الجسم
عدد أوجه
عدد الرؤوس



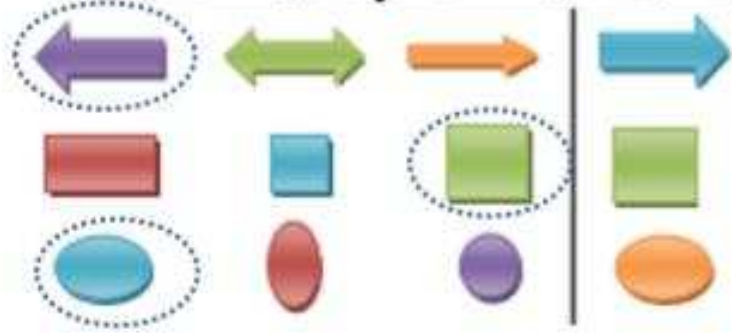
اسم الجسم
عدد أوجه
عدد الرؤوس



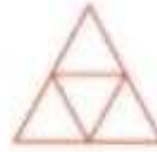
اسم الجسم
عدد أوجه
عدد الرؤوس



السؤال الأول :- حوِّط الشكل الذي يطابق الشكل الأول :-



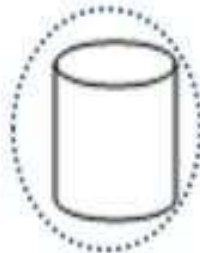
عدد المتلئات في هذا الشكل




٤

٣

حوِّط الأَشكال التي تتدرج :



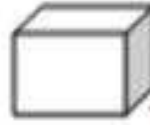
شكل هندسي له 6 أوجه متطابقة و 12 حرفاً و 8 رؤوس . هو



السؤال الثاني ' صلي



هرم



اسطوانة



مكعب

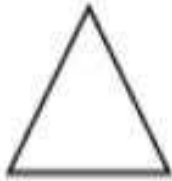
السؤال الثالث ' اكمل



اسم الشكل مربع
عدد الرؤوس 4
عدد الأضلاع 4



اسم الشكل دائره
عدد الرؤوس 0
عدد الأضلاع 0



اسم الشكل مثلث
عدد الرؤوس 3
عدد الأضلاع 3




اسم الشكل مستطيل
عدد الرؤوس 4
عدد الأضلاع 4



اسم الجسم كرة
عدد أوجه 0
عدد الرؤوس 0



السؤال الثالث: - أكمل :-
اسم الجسم شبة مكعب
عدد أوجه 6
عدد الرؤوس 8



اسم الجسم اسطوانة
عدد أوجه 2
عدد الرؤوس 0



اسم الجسم مكعب
عدد أوجه 6
عدد الرؤوس 8