

تم تحميل هذا الملف من موقع المناهج الكويتية



منطقة الجهراء التعليمية

الملف نموذج إجابة منطقة الجهراء التعليمية

موقع المناهج ← المناهج الكويتية ← الصف السابع ← اجتماعيات ← الفصل الأول

روابط مواقع التواصل الاجتماعي بحسب الصف السابع



روابط مواد الصف السابع على تلغرام

[الرياضيات](#)

[اللغة الانجليزية](#)

[اللغة العربية](#)

[التربية الاسلامية](#)

المزيد من الملفات بحسب الصف السابع والمادة اجتماعيات في الفصل الأول

<a href="#">كتاب الطالب في مادة الاجتماعيات للعام الدراسي 2018</a>	1
<a href="#">حل الوحدة الاولى في مادة الاجتماعيات</a>	2
<a href="#">تلخيص رائع في مادة الاجتماعيات</a>	3
<a href="#">حل الوحدة الثانية في مادة الاجتماعيات</a>	4
<a href="#">تلخيص ممتاز في مادة الاجتماعيات</a>	5



وزارة التربية  
الإدارة العامة لمنطقة الجهاد التعليمية لمقرر الكويت والوطن العربي  
التوجيه الفني للاجتماعيات  
العام الدراسي : ٢٠٢٢/٢٠٢٣ م  
الزمن : ساعة و٤٥ دقيقة  
عدد الأوراق : ٦  
الصف السابع

### نموذج الإجابة

#### أجب عن جميع الأسئلة

السؤال الأول ( موضوعي ) : يتكون من ( أ-ب-ج-د-هـ-و ) :

أ) أكمل العبارات التالية بما يناسبها فيما درست : (  $٦ \times ١ = ٦$  )

موقع  
المناهج الكويتية  
almanhaj.com/kw

- ١- أكبر الدول العربية من حيث المساحة في الجناح الآسيوي تسمى السعودية ص ١٠٠
- ٢- العام الذي تم فيه إنشاء الصندوق الكويتي للتنمية الاقتصادية العربية ١٩٦١م ص ١٧٩
- ٣- الدولة العربية التي تحتل المركز الثالث في إنتاج النفط تسمى الكويت ص ١٢٩
- ٤- القطاع الذي يمثل المرتبة الأولى من اقتصاد الدول العربية غير النفطية يسمى القطاع الزراعي ص ١١٠
- ٥- زحف رمال الصحراء على المناطق الجافة وشبه الجافة تسمى التصحّر ص ١٦٢
- ٦- الغلات التي تزرع بغرض التجارة والحصول على النقد اسمها الغلات النقدية ص ١١٣

ب) صنف مقومات الصناعة الطبيعية التالية حسب مكانها المناسب في الجدول الذي يليها : (  $٥ \times ٥ = ٥$  )

ص ١٣٩

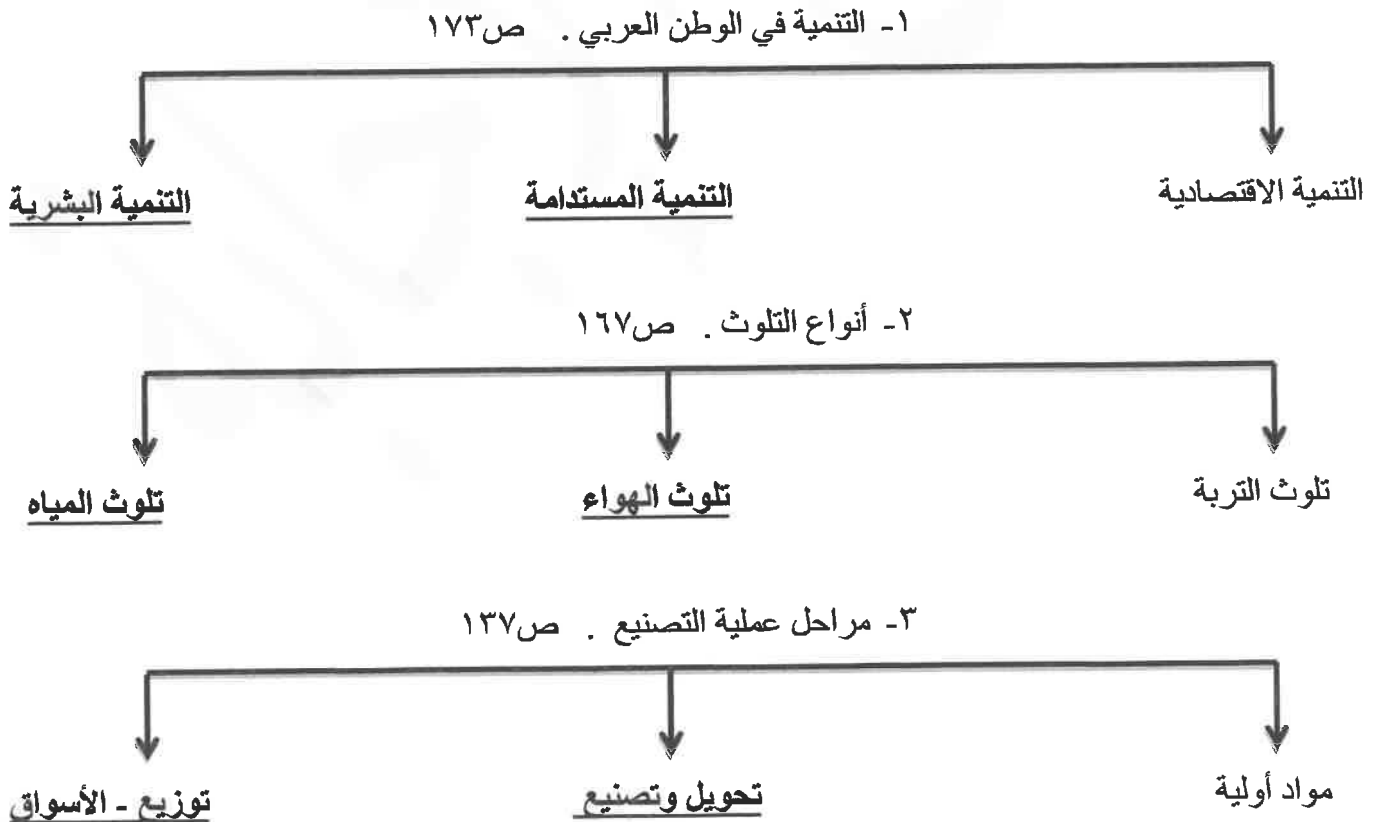
( غاز طبيعي - معدنية - حيوانية - بترول - نباتية )

الطاقة	المواد الخام
غاز طبيعي - بترول	معدنية - حيوانية - نباتية

**ج) ضع خطاً تحت الخيار الصحيح من بين الخيارات التي تلي كل عبارة : (٦=٦×١)**

- ١- العام الذي استضافة فيه دولة الكويت أكبر وأهم مؤتمر قمة عربية اقتصادية تنموية : ص ١٨٦  
( ٢٠٠٦م - ٢٠٠٧م - ٢٠٠٨م - ٢٠٠٩م )
- ٢- تبلغ نسبة سكان الوطن العربي في القارة الآسيوية : ص ٩٩  
( ١٠% - ٢٠% - ٣٠% - ٤٠% )
- ٣- الدولة العربية التي تحتل المركز الأول في إنتاج البن : ص ١١٤  
( السعودية - اليمن - مصر - الصومال )
- ٤- الدولة العربية الأولى في إنتاج الغاز الطبيعي : ص ١٢٩  
( السعودية - البحرين - الجزائر - قطر )
- ٥- العام الذي تأسست فيه منظمة الدول المصدرة للنفط أوبك : ص ١٣٤  
( ١٩٦٠م - ١٩٦١م - ١٩٦٢م - ١٩٦٣م )
- ٦- الصناعات الأولى في العالم وتستخدم مواد أولية محلية تسمى الصناعات : ص ١٤٣  
( التعدينية - الحرفية - التجمعية - البتروكيمياوية )

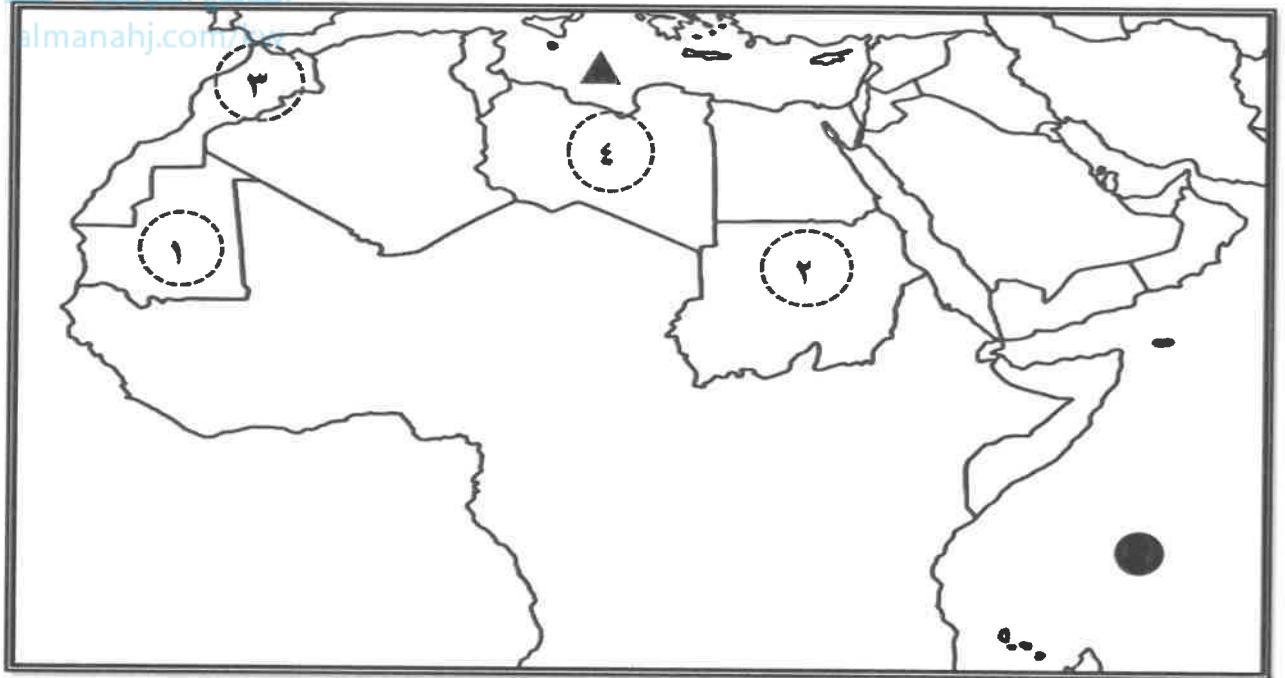
**د) أكمل المخططات السهمية التالية : (٦=٦×١)**



هـ ( اكتب المفاهيم أو المصطلحات الدالة على العبارات التالية : ( ٣ = ٣ × ١ )

م	المفهوم	العبرة
١	التنمية	التطور والتطوير وهي عملية تتطلب التخطيط والمشاركة من الجميع . ص ١٧٢
٢	التضامن العربي	العمل على توثيق الصلات بين الدول والشعوب العربية وحماية مصالحها السياسية والاقتصادية والثقافية . ص ١٧٧
٣	الطاقة	قوى محركة للألات ، وعنصر مهم للتقدم والتطور الاقتصادي في جميع المجالات . ص ١٢٥

و ( لاحظ خريطة الوطن العربي الصماء ثم نفذ عليها المطلوب: ( ٤ = ٤ × ١ )



أ) اكتب الرقم الدال على العبارات التالية :

- الدولة العربية التي تحتل المرتبة الأولى في إنتاج معدن الحديد يمثلها على الخريطة الرقم ( ١ ) ص ١٣٣
- الدولة العربية التي تحتل المرتبة الأولى في إنتاج معدن الفوسفات يمثلها على الخريطة الرقم ( ٣ ) ص ١٣٣

ب) حدد باستخدام الرموز التالية :

- المحيط الهندي باستخدام الرمز ● ص ١٣٣
- البحر المتوسط باستخدام الرمز ▲ ص ١٣٣

## ثانياً: الأسئلة المقالية :

### السؤال الثاني : يتكون من ( أ - ب - ج ) :

#### أ) عرف المفاهيم والمصطلحات التالية : ( ١×٣=٣ )

١- النفط : هو بقايا عضوية على هيئة نباتات وحيوانات دقيقة ترسبت في عصور قديمة وانطمرت تحت رواسب

سميكة تحولت بالضغط والحرارة إلى صورتها الحالية . ص ١٢٥

٢- التلوث : هو الضرر الذي يلحق بالتربة والهواء والماء ويصيب التلوث عناصر البيئة من عدة مصادر. ص ١٦٦



٣- التجارة البيئية : هي التبادل التجاري بين الدول العربية . ص ١٥٢

#### ب) علل لما يأتي : ( ١×٥=٥ )

١- تحتل الأغنام العربية مكانا مهما ضمن الثروة الرعوية . درجتان يكتفى بنقطتين ص ١١٨

- الأكثر انتشارا في المراعي العربية . - لأهمية منتجاتها بالنسبة للسكان .

- أكثر الحيوانات المستأنسة والملائمة لمراعي الوطن العربي وذلك لتحملها الجفاف والانتقال .

- لأنها مصدر أساسي من مصادر الثروة القومية .

٢- تختلف أنواع المنتجات الزراعية من دولة عربية إلى أخرى . درجة ويكتفى بنقطة ص ١١٠

- بسبب اختلاف المناخ والتربة - مدى توافر المياه في هذه الدول .

٣- تدني وفرة المياه في الوطن العربي . درجتان ويكتفى بنقطتين ص ١٦٤

- النمو السريع للسكان الذي يشكل ضغطا متزايدا على المياه المتوفرة لكل فرد .

- ٥٠٪ من الموارد المائية في العالم العربي تأتي من خارج حدوده وتتحكم فيها دول لمنع في غياب تشريعات

دولية.

- الطرق التقليدية المستخدمة في استغلال المياه في معظم مناطق العالم العربي (استخدام الري بالغمر).

- الشبكات المؤهلة لنقل المياه شبكات قديمة . - افتقار الدول العربية إلى برامج لإدارة المياه .

#### ج) فرق بين كل من : ( ١×٢=٢ ) ص ١٠٩

الموارد البشرية	الموارد الطبيعية
هي التي ترتبط بالسكان من حيث أعدادهم وتوزيعهم ومناسبة أعدادهم لمساحة الأرض التي يستغلونها . ( درجة )	الثروات التي منحها الله لإقليم من دون أن يكون للإنسان أي دور في وجودها . مثل الثروات المعدنية والغابات والمراعي والموارد المائية وموقع الإقليم . ( درجة )

**السؤال الثالث : يتكون من ( أ- ب ) :**

**( أ ) قارن بين كل من الصناعات الاستخراجية والصناعات التحويلية حسب الجدول التالي: (٤×٤ = ٤)**

ص ١٤١ و ص ١٤٢

الصناعات التحويلية	الصناعات الاستخراجية	أوجه المقارنة
وهي تقوم على تحويل المواد الأولية من معدنية نباتية وحيوانية إلى سلع استهلاكية صالحة للاستعمال . <b>(درجة ويكتفى بنقطة)</b>	استخراج مصادر الطاقة من باطن الأرض وإعدادها لتصبح جاهزة للتصنيع <b>(درجة ويكتفى بنقطة)</b>	<b>التعريف</b>
الصناعات الغذائية - صناعات المنسوجات صناعة الخشب والورق - صناعات مشتقات النفط المكررة - الصناعات البتروكيماوية - الصناعات الإنشائية. <b>(درجة ويكتفى بنقطة)</b>	النفط - الغاز - الفحم - خامات المعادن والأملاح . <b>(درجة ويكتفى بنقطة)</b>	<b>أمثلة عليها</b>

**(ب) اكتب فيما يلي : (٦×٦ = ٦)**

- ١) أهداف القمة الاقتصادية التنموية العربية . (درجتان يكتفى بنقطتين) ١٨٦
  - إنشاء بنك عربي لتمويل شتى المشاريع التنموية للتقليل من معدلات الفقر .
  - القضاء على البطالة والفقر بتوفير فرص العمل .
  - الاستثمار الاقتصادي بين الدول العربية وتقوية التبادل التجاري
  - الاعتناء بالعنصر البشري والتنمية المستدامة .
- ٢) المشكلات التي تواجه التنمية البشرية . (درجتان يكتفى بنقطتين) ص ١٧٥
  - ضعف الاستفادة من القدرات البشرية في المنطقة العربية .
  - مشكلة الأمية - نقص ومحدودية مشاركة المرأة في المنظمات السياسية .
  - الاختلاف الكبير في المستويات المعيشية بين دولة وأخرى ، وفي داخل الدولة الواحدة .
- ٣) العقبات التي تواجه الإنتاج الزراعي في الوطن العربي . (درجتان يكتفى بنقطتين) ص ١٦١
  - عدم استغلال الأراضي القابلة للزراعة لندرة مياه الري أو تذبذب الأمطار أو قلة الأيدي العاملة .
  - اتباع طرق زراعية تقليدية في معظم أجزاء الوطن العربي .
  - زحف الرمال ( التصحر ) وانجراف التربة .
  - تلوث التربة نتيجة للإسراف في استخدام المبيدات الحشرية وارتفاع نسبة الملوحة في التربة .
  - الرعي الجائر .

**السؤال الرابع : يتكون من ( أ- ب ) :**

**أ) اقرأ الفقرة التالية ثم أجب عما يليها من الأسئلة : ( ١×٤ = ٤ ) ص ١٨٨**

حظيت المبادرة التي أعلنها الأمير الراحل الشيخ صباح الأحمد الجابر الصباح رحمه الله لاستضافة الكويت للمؤتمر الدولي الأول لمانحي سورية في نهاية يناير ٢٠١٣م بترحيب عربي ودولي كبيرين نظرا لأهمية الكبيرة في هذا الوقت .

(١) اذكر اسم المؤتمر الوارد في الفقرة .

**المؤتمر الدولي الأول لمانحي سورية .**

(٢) من هو صاحب المبادرة لعقد المؤتمر .

**الشيخ صباح الأحمد الجابر الصباح رحمه الله .**

(٣) في أي دولة عربية عقد المؤتمر .

**دولة الكويت**

(٤) اذكر هدف من أهداف المؤتمر .

**لدعم الوضع الإنساني في سوريا الذي يعاني من ظروف معيشية بالغة السوء والتعقيد .**

**ب) عدد ما يلي : ( ١×٦ = ٦ )**

(١) أنواع طرق النقل في الوطن العربي . (درجتان يكتفى بنقطتين ) ص ١٤٨ ص ١٤٩

- طرق النقل البرية .

- طرق النقل المائية ( النقل النهري – النقل البحري ) .

- طرق النقل الجوي .

(٢) أهداف الصناعات البتروكيميائية . (درجتان يكتفى بنقطتين ) ص ١٤٥

- تنويع مصادر الدخل للدول المنتجة .

- توفير المواد الأولية للصناعات التحويلية لتأمين حاجات القطاعات الاستهلاكية ( خاصة مجال البناء ) .

- تطوير الصناعات البتروكيميائية إلى تقنيات متخصصة وعالية .

(٣) أنواع الهجرة . (درجتان يكتفى بنقطتين ) ص ١٠٦

- هجرة داخلية من القرى إلى المدن .

- هجرة خارجية من دولة إلى دولة أخرى .





العام الدراسي : ٢٠٢٢/٢٠٢٣ م  
الزمن : ساعة و٤٥ دقيقة  
عدد الأوراق : ٦

امتحان المنهج الكامل  
لمقرر الكويت والوطن العربي  
للصف السابع

وزارة التربية  
الإدارة العامة لمنطقة الجهاد التعليمية  
التوجيه الفني للاجتماعيات

### نموذج الإجابة

السؤال الأول ( موضوعي ) : يتكون من ( أ- ب- ج- د- هـ ) :

أ) أكمل العبارات التالية بما يناسبها فيما درست : (٦=٦×١)

- ١- العام الذي انضمت فيه جمهورية جزر القمر إلى الجامعة العربية ١٩٩٣ ص ٢٣
- ٢- أكثر الأشكال التضاريسية انتشارا في الوطن العربي اسمها الهضاب ص ٤٠
- ٣- العام الذي اعتمدت فيه دولة الكويت على تحلية مياه البحر بمحطة الشويخ ١٩٥٣ م [anahj.com/kw](http://anahj.com/kw) ص ٦١
- ٤- الطبقة التي تحمي الأرض من الأشعة فوق البنفسجية الضارة تسمى طبقة الأوزون ص ١٦٨
- ٥- الدولة التي عقد فيها أول مؤتمر للمانحين لدعم الوضع الإنساني في سوريا تسمى الكويت ص ١٨٨
- ٦- المسطح المائي الذي يحده الوطن العربي من جهة الغرب المحيط الأطلسي ص ٣٤

ب) صنف الكلمات التالية إلى مكانها المناسب في الجدول الذي يليها : (٦=٦×١)

ص ١٤١ ص ١٤٢  
( النفط - الورق - المنسوجات - الفحم - المعادن - الخشب )

الصناعات التحويلية	الصناعات الاستخراجية
ص ١٤٢	ص ١٤١
الورق	النفط
المنسوجات	الفحم
الخشب	المعادن



**ج) ضع خطا تحت الخيار الصحيح من بين الخيارات التي تلي كل عبارة : (٦=٦×١)**

١- الدولة العربية التي يمر بها خط الاستواء : ص ٣٢

( الصومال - السودان - المغرب - موريتانيا )

٢- يمتد الوطن العربي بين قارتي : ص ٢١

( آسيا و أوروبا - آسيا وأستراليا - آسيا وأفريقيا - آسيا وأمريكا الشمالية )

٣- تعتبر الأهرامات مظهرا من مظاهر الحضارة : ص ٧٧

( بلاد الرافدين - دلمون - المصرية القديمة - بلاد اليمن )

٤- الدولة العربية الأولى في انتاج النفط واحتياطه : ص ١٢٩

( عمان - قطر - الكويت - السعودية )

٥- الغلات التي تزرع بغرض التجارة والحصول على النقد : ص ١١٣

( الحبوب الغذائية - الغلات النقدية - الفواكة - الثمار )

٦- العام الذي تأسست فيه منظمة الأوبك : ص ١٣٤

( ١٩٦٠م - ١٩٦١م - ١٩٦٢م - ١٩٦٣م )

**د) أكمل المخططات السهمية التالية : (٦=٦×١)**

١- انتقلت الحضارة العربية الإسلامية إلى أوروبا عن طريق : ص ٩٢

صقلية

بلاد الاندلس

الاحتلال الصليبي  
(بلاد الشام)

٢- مقومات الهوية العربية ص ٢٦

اللغة العربية

الدين الإسلامي

الأهداف المشتركة

العادات والتقاليد / التراث

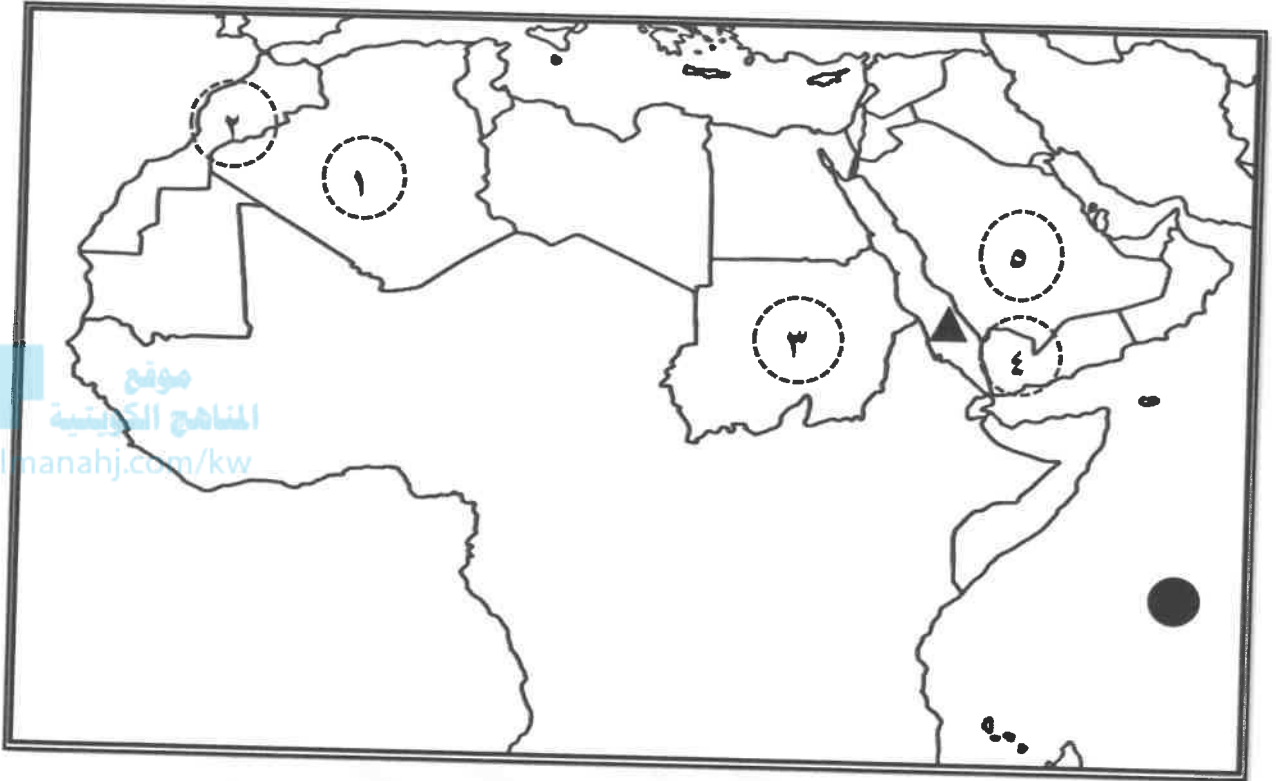
٣- عناصر المناخ ص ٤٤ ص ٤٥

الأمطار / الرياح / الضغط الجوي

الرطوبة

درجة الحرارة

هـ) لاحظ خريطة الوطن العربي الصماء ثم نفذ عليها المطلوب : (٦=٦×١)



أ) أكتب الرقم الدال على العبارات التالية :

- تتصدر المغرب المرتبة الأولى عربيا في إنتاج معدن الفوسفات يمثلها على الخريطة الرقم ( ٢ ) ص ١٣٢
- رياح الهبوب تهب على دولة يمثلها على الخريطة الرقم ( ٣ ) ص ٤٨
- أكبر الدول العربية مساحة في الجناح الآسيوي يمثلها على الخريطة الرقم ( ٥ ) ص ١٠٠
- حضارة بلاد اليمن يمثلها على الخريطة الرقم ( ٤ ) ص ٧١

ب) حدد باستخدام الرموز التالية :

ص ٢٨  
ص ١٣٣

- المحيط الهندي باستخدام الرمز ●
- البحر الأحمر باستخدام الرمز ▲

## ثانياً: الأسئلة المقالية :

السؤال الثاني : يتكون من ( أ- ب - ج ) :

(أ) عرف المفاهيم والمصطلحات التالية : (١×٤=٤)

- ١- المضيق : هو ممر مائي ضيق يصل بين بحرين أو محيطين أو أي مساحتين كبيرتين نسبياً من الماء . ص ٢٨
- ٢- الحضارة : كل ما يطرأ على المجتمع من تقدم وتطور ورقي في جميع نواحي الحياة الدينية والسياسية والاقتصادية والاجتماعية والفكرية . ص ٧١
- ٣- النمو السكاني : تزايد عدد السكان من عام لآخر نتيجة للزيادة الطبيعية للسكان ( معدل المواليد - معدل الوفيات) والهجرة . ص ١٠٦
- ٤- التلوث : هو الضرر الذي يلحق بالتربة والهواء والماء ، ويصيب التلوث عناصر البيئة من عدة مصادر للملوثات . ص ١٦٦

(ب) علل لما يأتي : (١×٤=٤)

- ١- تحتل الأغنام العربية مكاناً مهماً ضمن الثروة الرعوية . درجتان يكتفي بنقطتين ص ١١٨
  - الأكثر انتشاراً في المراعي العربية . - لأهمية منتجاتها بالنسبة للسكان .
  - أكثر الحيوانات المستأنسة والملائمة لمراعي الوطن العربي وذلك لتحملها الجفاف والانتقال .
  - لأنها مصدر أساسي من مصادر الثروة القومية .
- ٢- حرص المصريون القدماء على تحنيط جثث موتاهم . درجة ويكتفي بنقطة ص ٧٦
  - لاعتقادهم أن الحياة تعود إلى الجسم بعد الموت . - لاعتقادهم بالبعث والخلود .
- ٣- يختلف عدد السكان بين دولة عربية وأخرى اختلافاً كبيراً . درجة ويكتفي بنقطة ص ١٠١
  - بسبب المساحة الكلية . - العوامل الطبيعية والبشرية .

(ج) فرق بين كل من : (١×٢=٢) ص ١٠٩

الموارد البشرية	الموارد الطبيعية
هي التي ترتبط بالسكان من حيث أعدادهم وتوزيعهم ومناسبة أعدادهم لمساحة الأرض التي يستغلونها . (درجة)	الثروات التي منحها الله لإقليم من دون أن يكون للإنسان أي دور في وجودها . مثل الثروات المعدنية والغابات والمراعي والموارد المائية وموقع الإقليم . (درجة)

السؤال الثالث : يتكون من ( أ- ب ) :

(أ) قارن بين كل من منظمة الأوبك ومنظمة الأوبك حسب الجدول التالي: (٤=٤×١)

ص ١٣٤ ص ١٣٥

منظمة الأوبك	منظمة الأوبك	أوجه المقارنة
منظمة عربية مصدرة للبترو (درجة)	منظمة عالمية مصدرة للبترو (درجة)	التعريف
الكويت (درجة)	فيينا (درجة)	المقر الحالي

المناهج الكويتية  
almanahj.com/kw

(ب) اكتب فيما يلي : (٦=٦×١)

- (١) عوامل قيام الحضارة . (درجتان يكتفى بنقطتين) ص ٧٣
  - الموقع الاستراتيجي - توافر المياه العذبة - اعتدال المناخ
  - توافر الثروات الطبيعية - توافر العنصر البشري
- (٢) العوامل التي تؤثر في مناخ الوطن العربي . (درجتان يكتفى بنقطتين) ص ٤٦
  - الموقع بالنسبة لدوائر العرض
  - القرب أو البعد عن المسطحات المائية
  - التضاريس
  - الرياح
- (٣) أهداف التنمية الاقتصادية . (درجتان يكتفى بنقطتين) ص ١٧٤
  - استخدام العلم في زيادة الإنتاج .
  - تحقيق التكامل بين الدول العربية في الإمكانيات والحاجات .

**السؤال الرابع : يتكون من ( أ- ب ) :**

**( أ ) اقرأ الفقرة التالية ثم أجب عما يليها من الأسئلة : ( ٤ × ١ = ٤ ) ص ١٨٦**

لقد كان الأمير الراحل الشيخ صباح الأحمد الجابر الصباح - رحمه الله - هو صاحب المبادرة لعقد القمة العربية الاقتصادية والتنموية والاجتماعية في دولة الكويت يومي ١٩-٢٠ يناير ٢٠٠٩ م، مؤكداً أن هذه القمة ستكون بوابة الخير.

( ١ ) اذكر اسم القمة الواردة في الفقرة .

**القمة العربية الاقتصادية والتنموية والاجتماعية .**

( ٢ ) من هو صاحب المبادرة لعقد القمة .

**الشيخ صباح الأحمد الجابر الصباح رحمه الله .**

( ٣ ) في أي دولة عربية عقد القمة .

**دولة الكويت**

( ٤ ) اذكر هدف من أهداف القمة .

**١- انشاء بنك عربي لتمويل شتى المشاريع التنموية للتقليل من معدلات الفقر .**

**٢- القضاء على البطالة والفقر بتوفير فرص العمل .**

**٣- الاستثمار الاقتصادي بين الدول العربية ، وتقوية التبادل التجاري .**

**٤- الاعتناء بالغصر البشري والتنمية المستدامة .**

**( ب ) عدد ما يلي : ( ٦ × ١ = ٦ )**

( ١ ) أهم الحضارات التي قامت في بلاد الرافدين . ( درجتان يكتفى بنقطتين ) ص ٧٩

- الآشوريون - البابليون - الكلدانيون - الأكاديون - السومريون .

( ٢ ) أنواع الحياة النباتية في الوطن العربي . ( درجتان يكتفى بنقطتين ) ص ٥٢

- الغابات - الحشائش - النباتات الصحراوية

( ٣ ) مصادر المياه في الوطن العربي . ( درجتان يكتفى بنقطتين ) ص ٥٧

- مياه الأنهار - الأمطار - البحيرات - المياه الجوفية - مياه البحار