

تم التحميل من شبكة ياكويت التعليمية



Telegram:

[ykuwait\\_net\\_home](https://t.me/ykuwait_net_home)



وزارة التربية

الإدارة العامة لمنطقة الأحمدى التعليمية



# نموذج إجابة امتحان

(الفترة الدراسية الأولى)

مادة: الاجتماعيات

الصف: الثامن

العام الدراسي 2024/2023

العام الدراسي: ٢٠٢٣ / ٢٠٢٤ م

الزمن : ساعة وخمس وأربعون

عدد الصفحات : ٥ صفحات

تم التحميل من شبكة باكويث التعليمية

نموذج الإجابة

امتحان نهاية الفترة الدراسية الأولى

لمقرر دولة الكويت والعالم الإسلامي

للمصف الثامن متوسط



وزارة التربية

الإدارة العامة لمنطقة الأحمدية التعليمية

التوجيه الفني للاجتماعيات



Telegram:

ykuwait\_net\_home

أجب عن جميع الاسئلة

السؤال الأول : (موضوعي) ويتكون من ( أ - ب - ج ) : ( لكل نقطة درجة = ١٥ درجة )

( أ ) ظل الخيار الصحيح من بين الخيارات التي تلي كل عبارة :


١- الدولة الإسلامية الوحيدة التي تقع في قارة أمريكا الجنوبية : ص ٥١

سورينام	بيرو	الأرجنتين	البرازيل
---------	------	-----------	----------

٢- المظهر العمراني الذي صمم وفق الطراز الأندلسي الإسلامي في دولة الكويت : ص ٣١

بيت العثمان	المسجد الكبير	المتحف الإسلامي	سوق المباركية
-------------	---------------	-----------------	---------------

٣- نسبة إنتاج الغاز الطبيعي للعالم الإسلامي من إجمالي الإنتاج العالمي يمثلها الجزء المظلل من الدائرة : ص ٦٧



٤- التاريخ الذي يحتفل فيه بيوم اللغة العربية من كل عام : ص ٢١

١٨ مارس	١٨ فبراير	١٨ يناير	١٨ ديسمبر
---------	-----------	----------	-----------

٥- الشكل الذي أمامك يمثل : ص ٢٠



مظاهر الحضارة الإسلامية	خصائص الحضارة الإسلامية
-------------------------	-------------------------

أهداف الحضارة الإسلامية	أسس الحضارة الإسلامية
-------------------------	-----------------------

تابع السؤال الأول ( موضوعي ) :

(ب) صنف العناصر ما بين القوسين حسب المكان المناسب لها في الجدول التالي :

( تونس - دومة الجندل - الأندلس - القاهرة - الفسطاط - دمشق ) ص ٣٣

المسجد الأموي	جامع عمرو بن العاص	مسجد عمر بن الخطاب	جامعة الزيتونة
دمشق	الفسطاط	دومة الجندل	تونس

تم التحميل من شبكة ياكويت التعليمية



Telegram:  
ykuwait\_net\_home

( ج ) أكمل المخططات السهمية التالية :



السؤال الثاني (موضوعي) يتكون من ( أ - ب - ج ) : ( لكل نقطة درجة = ١٥ درجة )

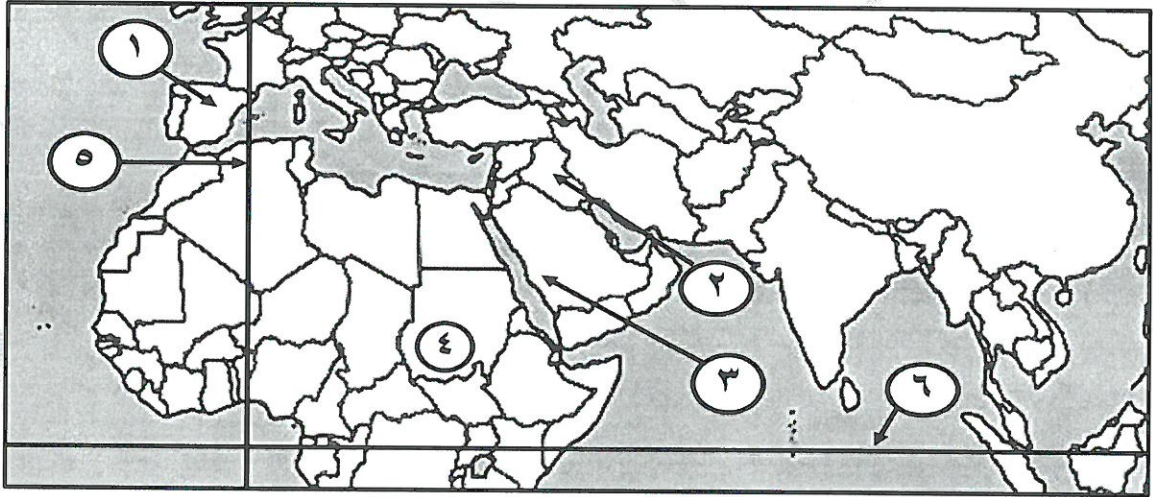
( أ ) صحح ما تحته خط في العبارات التالية وذلك بكتابة التصويب في المكان المناسب :

م	العبرة	التصويب
١	أصغر دول العالم الإسلامي من حيث المساحة <u>كازاخستان</u> .	جمهورية المالديف ص ٥٢
٢	يبلغ نسبة إنتاج العالم الإسلامي من الحبوب حوالي <u>٢٠%</u> .	١٤% ص ٧٢
٣	قصر بناه الخليفة هشام بن عبد الملك في سوريا اسمه <u>عمره</u> .	الرصافة ص ٣٥
٤	اشتهر العالم المسلم الشريف الإدريسي في مجال <u>الفلسفة</u> .	الجغرافيا ص ٤٢
٥	مبلغ مالي يدفعه أهل الذمة ممن هم قادرون على حمل السلاح نظير حماية الدولة لهم <u>الخراج</u> .	الجزية ص ٢٩

( ب ) أكمل العبارات التالية بما يناسبها فيما درست :

- ١- داعية كويتي عمل في المجال الخيري والإنساني اسمه عبدالرحمن السميطة ص ٢٤
- ٢- سهل يقع في شمال دولة الكويت اسمه سهل الروضتين ص ٥٨
- ٣- محاصيل تزرع من أجل التصدير تسمى الغلات النقدية ص ٧٣
- ٤- طائر استخدمه المسلمون في نقل الرسائل جواً يسمى الحمام الزاجل ص ٤٣
- ٥- الإقليم الذي تقع ضمنه دولة الكويت ودول الخليج العربي اسمه الإقليم الصحراوي ص ٦٣

( ج ) أمامك خريطة العالم الإسلامي - أكتب الرقم الدال على العبارات التي تليها :



- سهول نهر دجلة والفرات يمثلها على الخريطة الرقم (٢) ص ٥٩
- بلاد الأندلس يمثلها على الخريطة الرقم (١) ص ٤١
- جبل مره يمثلها على الخريطة الرقم (٤) ص ٥٤
- مقر قيام الدولة الإسلامية في عهد الرسول ﷺ يمثلها على الخريطة الرقم (٣) ص ١٧
- خط الاستواء يمثلها على الخريطة الرقم (٦) ص ٦٣

**السؤال الثالث ( مقال ) يتكون من ( أ - ب - ج ) :**

**( أ ) اقرأ الفقرة التالية ثم أجب عما يليها من أسئلة : (أربعة درجات لكل نقطة درجة )**

دفعت الحضارة الإسلامية المسلمين الى العمل والاجتهاد والانجاز، انطلاقاً من قوله تعالى (وقل اعلموا فسيري الله عملكم ورسوله والمؤمنون) فكان من نتائجها التنمية والإبداع وحفظ التراث ونقله، حيث حققت للإنسانية نهضة علمية وزراعية واقتصادية تعود بالمنفعة على الإنسان.

١- اكتب عنواناً مناسباً للفقرة : حضارة إيمان وعمل ( أو ما يراه المصحح مناسباً )

٢- عرف ما تحته خط : الحضارة هو كل ما يطرأ على المجتمع من تقدم وتطور ورقي سواء في الجانب المادي أو الروحي. ص ١٨


٣- استخرج من الفقرة السابقة نتائج الحضارة الإسلامية: (يكتفى بنقطتين)

- التنمية والإبداع - حفظ التراث ونقله.

- حققت للإنسانية نهضة علمية وزراعية واقتصادية.

( ستة درجات لكل نقطة درجة )

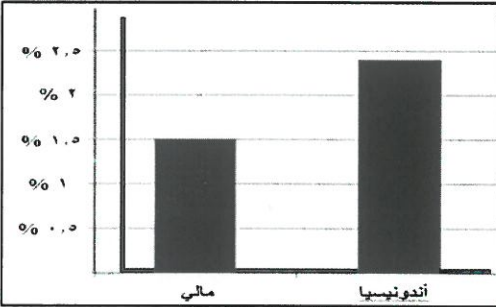
**( ب ) لاحظ الشكل والجدول التالي ثم نفذ ما هو مطلوب منك :**



١- أكتب اسم الأشكال التضاريسية المشار إليها بالأشهر في الشكل المقابل :

ص ٥٣

٢- حول نسب إنتاج معدن الذهب لكل من الدول ( مالي و إندونيسيا ) إلى أعمدة بيانية حسب الجدول التالي : ص ٧٠



درجة واحدة للمحور الأفقي ( إندونيسيا و مالي )  
ودرجة لكل عمود = 3 درجات

الدولة	النسبة
مالي	١,٥%
إندونيسيا	٢,٣%
أوزباكستان	٣,٤%

نسبة إنتاج الذهب من جملة إنتاج العالم الإسلامي حسب إحصاء ٢٠١٤ م

تم التحميل من شبكة ياكويت التعليمية



Telegram:  
ykuwait\_net\_home

**( ج ) علل لما يلي :** (خمسة درجات لكل نقطة درجة)

١- تنوع المناخ في دول العالم الإسلامي. ص ٦٣ (يكتفى بثلاث نقاط)

- امتداد دول العالم الإسلامي على مساحة شاسعة.

- الإطلالة على مسطحات مائية في معظم اجزاءه.

- الموقع بالنسبة لدوائر العرض. / - التنوع في التضاريس من جبال وهضاب وسهول ووديان.


٢- ازدهار العلم وظهور العلماء في الحضارة الإسلامية. ص ٣٧ (يكتفى بنقطتين)

- التنافس العلمي بين الدول الإسلامية. /- حركة التعريب (الترجمة) للكتب القديمة اليونانية والهندية والفارسية وغيرها.

- الرخاء الاقتصادي. / - تشجيع العلماء ورعاية وتمويل القيادات السياسية لهم من خلفاء وملوك وسلاطين وامراء.

**السؤال الرابع : ( مقال ) يتكون من ( أ - ب - ج ) :**

( أ ) **لاحظ الصور ثم أجب عن ما يليها من أسئلة :** ( أربعة درجات لكل نقطة درجة )



اسم الصناعة :	الأرابيسك (arabisk)
سبب التسمية :	نسبة إلى العرب ص ٢٧

اسم العالم المسلم :	الجاحظ
أهم مؤلفاته :	كتاب الحيوان ص ٤٠

( ب ) **فرّق بين كل مما يلي :** ( ستة درجات لكل نقطة درجة )

القصور	المساجد
مقر الحاكم والمكان الذي يضم المؤسسات الإدارية وأحياناً تكون قصور صحراوية لتنزه الخلفاء. ص ٣٤	تقام فيها الصلوات وخطبة الجمعة والتعليم الديني. ص ٣٢
الطقس	المناخ
هو حالة الجو في مكان لمدة قصيرة تتراوح بين يوم أو عدة أيام من حيث درجة الحرارة والرطوبة والأمطار والضغط الجوي. ص ٦٤	هو حالة الجو خلال فترة زمنية طويلة من حيث (عناصره وهي درجة الحرارة ، الرطوبة ، الأمطار ، الضغط الجوي) ص ٦٤
المصادر غير الطبيعية لإنتاج الأسماك	المصادر الطبيعية لإنتاج الأسماك
الاستزراع السمكي ص ٧٤	المحيطات و البحار / المياه العذبة ص ٧٤ (يكتفى بنقطة )

( ج ) **أكتب في ما يلي :** ( خمسة درجات لكل نقطة درجة )

- ١- جهود المسلمين في الزراعة. ص ٢٦ (يكتفى بنقطتين)
  - شق القنوات المائية والترع.
  - إقامة السدود. / - تنظيم وسائل الري.
- ٢- أهمية السهول في العالم الإسلامي. ص ٥٨
  - استخدامها كموانئ طبيعية.
  - تشييد المدن.
  - تركيز السكان فيها لسهولة التنقل.

انتهت الإجابة