

تم تحميل هذا الملف من موقع المناهج الكويتية



منطقة حولي التعليمية

الملف نموذج إجابة منطقة حولي التعليمية

[موقع المناهج](#) ⇌ [المناهج الكويتية](#) ⇌ [الصف السابع](#) ⇌ [اجتماعيات](#) ⇌ [الفصل الثاني](#)

روابط مواقع التواصل الاجتماعي بحسب الصف السابع



روابط مواد الصف السابع على تلغرام

[الرياضيات](#)

[اللغة الانجليزية](#)

[اللغة العربية](#)

[التربية الاسلامية](#)

المزيد من الملفات بحسب الصف السابع والمادة اجتماعيات في الفصل الثاني

مذكرة موضوعية محلولة	1
حل الكتاب	2
حل الوحدة الرابعة في مادة الاجتماعيات	3
بنك اسئلة التربة سابع	4
مراجعات الصف السابع	5

تم التحميل من شبكة ياكويت التعليمية



Telegram:
[ykuwait_net_home](https://t.me/ykuwait_net_home)



وزارة التربية
الإدارة العامة لمنطقة حولي التعليمية
مراقبة الامتحانات وشئون الطلبة

موقع
المنهج الكويتية
almanahj.com/kw

العام الدراسي 2023 / 2024 م
اختبار نهاية الفصل الدراسي الثاني

نموذج الإجابة

الاجتماعيات

المرحلة المتوسطة
الصف السابع



السؤال الأول موضوعي ويتكون من (أ - ب - ج - د - هـ - و) : (٣٠ درجة لكل سؤال درجة)

(أ) ظلل الخيار الصحيح من بين الخيارات التي تلي كل عبارة : (خمس درجات)

١- تبلغ نسبة احتياط النفط الخام في دول الجناح الآسيوي : (ص ١٢٨)

٦٠%	٧٠%	٨٠%	٩٠%
-----	-----	-----	-----

٢- الشيخ الذي تأسس في عهده الصندوق الكويتي للتنمية الاقتصادية العربية : (ص ١٨٤)

عبدالله السالم الصباح	جابر الأحمد الصباح	صباح الأحمد الصباح	نواف الأحمد الصباح
-----------------------	--------------------	--------------------	--------------------

٣- تسجيل المواليد والوفيات وحالات الزواج والطلاق ونحصل على بياناتها من واقع السجلات الرسمية للدولة : (ص ٩٩)

الكثافة السكانية	الإحصاء الحيوي	التعداد السكاني	النمو السكاني
------------------	----------------	-----------------	---------------

٤- المورد الطبيعي الذي يطلق عليه اسم الطاقة النظيفة : (ص ١٣١)

الفحم	النفط	الغاز الطبيعي	المعادن
-------	-------	---------------	---------

٥- أكثر الدول العربية سكاناً في الجناح الأفريقي : (ص ١٠٠)

مصر	الجزائر	تونس	المغرب
-----	---------	------	--------

(ب) أكمل العبارات التالية بما يناسبها فيما درست : (أربعة درجات)

- ١- قوى محركة للألات وعنصر مهم للتقدم والتطور الاقتصادي في جميع المجالات تسمى الطاقة. (ص ١٢٥)
- ٢- صناعات تستخدم مواد أولية محلية وتعتمد على المجهود البشري و يتوارث منها الأبناء الخبرة من آباؤهم تسمى الصناعات الحرفية. (ص ١٤٣)
- ٣- تحتل اليمن المركز الأول في إنتاج محصول يسمى البن. (ص ١١٤)
- ٤- الغاز الناتج عن عوادم السيارات ويؤدي إلى ارتفاع متزايد في حرارة الأرض يسمى أكسيد الكربون. ص ١٦٨

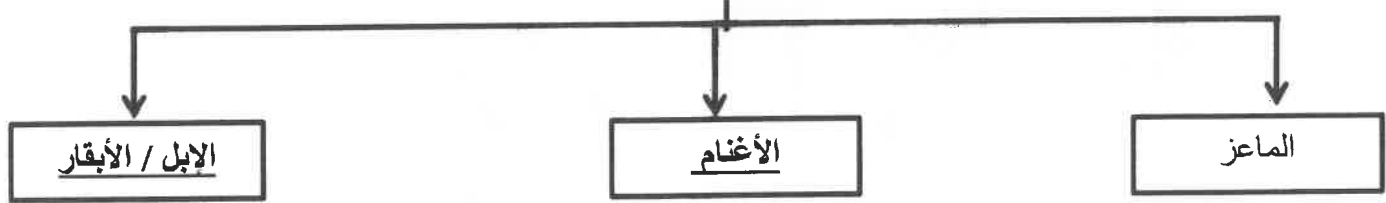
(ج) ظلل الحرف (أ) إذا كانت العبارة صحيحة أو الحرف (ب) إذا كانت العبارة خاطئة : (خمس درجات)

م	العبارة	(أ)	(ب)
١	عُقد "مؤتمر قمة الأرض" بمدينة ريو دي جانيرو في البرازيل عام ١٩٩٢ م .	(ص ١٦٧)	
٢	ترتفع الكثافة السكانية في المناطق الجبلية والصحراوية الجافة .	(ص ١٠٥)	
٣	ساهم موقع دول الوطن العربي البحري في تنوع الثروة المائية .	(ص ١٢٢)	
٤	التبادل التجاري هو عمليتا التصدير والاستيراد بين الدول .	(ص ١٥١)	
٥	تتركز الحقول النفطية في الوطن العربي في مصر والسودان .	(ص ١٢٦)	

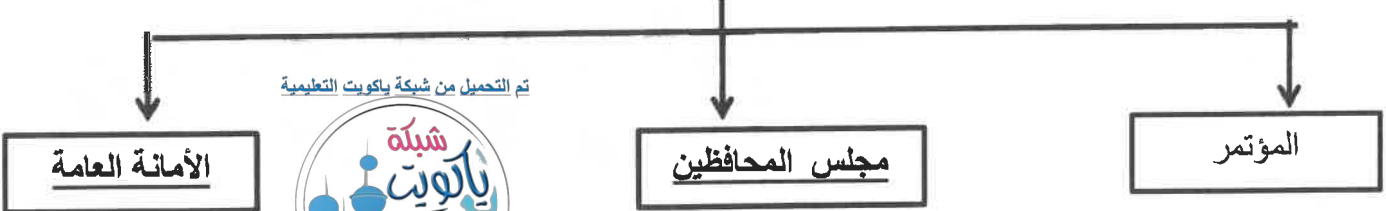
موقع
المناهج الكويتية
almanahj.com/ku

(د) أكمل المخططات السهمية التالية بما يناسبها فيما درست : (ستة درجات)

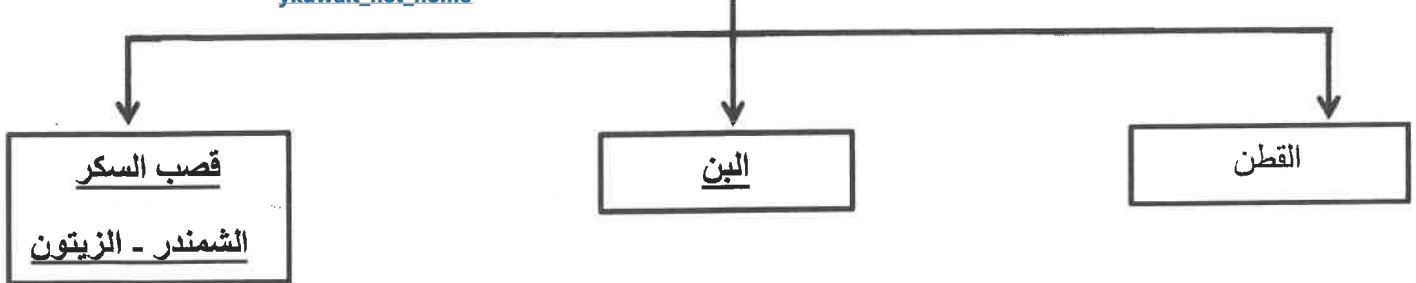
١ - أنواع الثروة الرعوية في الوطن العربي (ص ١١٨)



٢ - الأجهزة التابعة لمنظمة الدول المصدرة للنفط (أوبك) (ص ١٣٤)



٣ - الغلات الصناعية في الوطن العربي (ص ١١٣-١١٤)



(هـ) صنف الصناعات التالية حسب ماهو مطلوب منك في الجدول (ستة درجات)

(النفط - الصناعات الغذائية - الخشب والورق - الفحم - الغاز - المنسوجات) (ص ١٤١- ١٤٢)

تم التحميل من شبكة ياكويت التعليمية

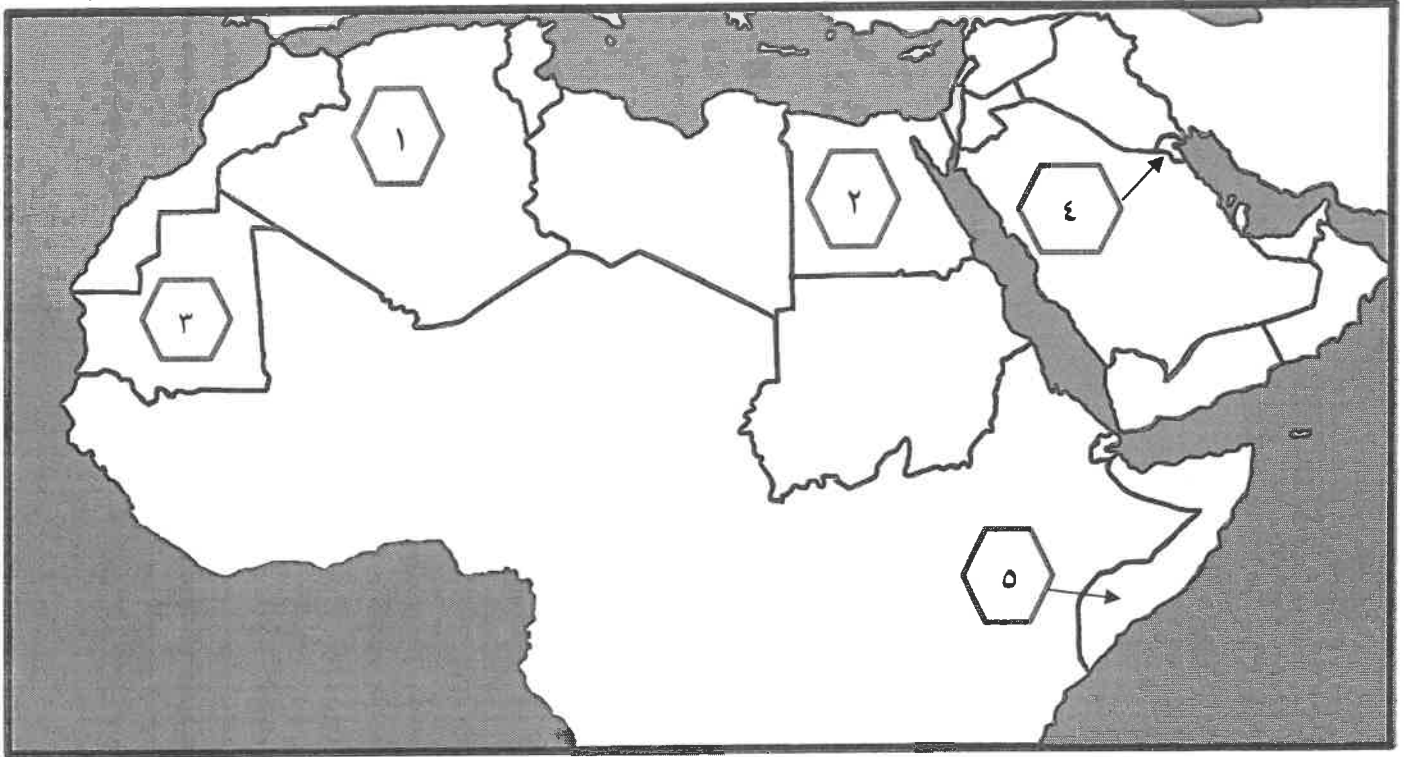


الصناعات الاستخراجية	الصناعات التحويلية
النفط	الصناعات الغذائية
الفحم	الخشب والورق
الغاز	المنسوجات

Telegram:
ykuwait_net_home

(و) أمامك خريطة الوطن العربي - أكتب مدلولات الأرقام التي عليها في العبارات التي تليها : (اربعة درجات)

المناهج الكويتية
almanahj.com/kw



- ١- الدولة التي تحتل المرتبة الأولى في الإنتاج السمكي يمثلها على الخريطة الرقم (٢) (ص ١٢٣)
- ٢- الدولة التي تحتل المرتبة الأولى في إنتاج معدن الحديد يمثلها على الخريطة الرقم (٣) (ص ١٣٢)
- ٣- الدولة التي يقع فيها مقر منظمة (أوبك) يمثلها على الخريطة الرقم (٤) (ص ١٣٥)
- ٤- الدولة الأولى في إنتاج الموز يمثلها على الخريطة الرقم (٥) (ص ١١٤)

السؤال الثاني مقالي ويتكون من (أ - ب - ج) :

(أ) فرق بين كل من : (أربع درجات لكل نقطة درجة)

الموارد البشرية (ص ١٠٩)	الموارد الطبيعية (ص ١٠٩)
هي التي ترتبط بالسكان من حيث أعدادهم وتوزيعهم ومناسبة أعدادهم لمساحة الأرض التي يستغلونها	الثروات التي منحها الله لإقليم من دون أن يكون للإنسان أي دور في وجودها (مثل الثروات المعدنية والغابات والمراعي والموارد المائية وموقع الإقليم)
الغاز الطبيعي (ص ١٢٥)	النفط (ص ١٢٥)
غاز مصاحب للنفط الخام أو يوجد منفرداً، تتم إزالته لاستخدامات عديدة .	بقايا عضوية على هيئة نباتات وحيوانات دقيقة ترسبت في عصور قديمة وانطمرت تحت رواسب سميكة وتحولت بالضغط والحرارة إلى صورتها الحالية .



(ب) أذكر نقطتين حول كل مما يلي : (ست درجات لكل نقطة درجة)

١ - طرق المحافظة على الثروة المائية . (ص ١٦٥)

- ترشيد استخدام المياه والحد من التبذير في المنازل / الحد من هدر المياه في عمليات الري باستخدام الوسائل الحديثة كالرش بالتنقيط والمحوري / تنظيم عملية الاستفادة من المياه الجوفية ومنع تسرب الأملاح الملوثة إليها واستثمارها على الوجه الأمثل / تطوير استعمال مياه الصرف الصحي المعالجة في الزراعة والتنظيف / إقامة البحيرات والسدود لتجميع مياه الأمطار والسيول والاستفادة منها في فصل الجفاف / توقيع اتفاقيات مع الدول المشاركة ودول المنبع لتحقيق مصالح الدول العربية المعنية .

٢ - العقبات والمشكلات التي تواجه الإنتاج الزراعي في الوطن العربي. (ص ١٦١)

- عدم استغلال الأراضي القابلة للزراعة لندرة مياه الري أو تذبذب الأمطار أو قلة الأيدي العاملة / اتباع طرق الزراعة التقليدية في معظم أجزاء الوطن العربي / زحف الرمال (التصحّر) وانجراف التربة / تلوث التربة نتيجة الإسراف في استخدام المبيدات الحشرية وارتفاع نسبة الملوحة بالتربة / الرعي الجائر

٣ - تقسيم مناطق الوطن العربي من حيث الكثافة السكانية. (ص ١٠٣)

- مناطق مرتفعة الكثافة / مناطق متوسطة الكثافة / مناطق منخفضة الكثافة / مناطق شبه خالية من السكان

تم التحميل من شبكة ياكويت التعليمية

(ج) أجب عن الأسئلة التالية : (خمس درجات لكل نقطة درجة)

١ - عدد مقومات الصناعة في الوطن العربي .
- طبيعية
- بشرية

٢ - عرف - التنمية المستدامة . (ص ١٧٥)

- برامج تحسين نوعية الحياة ، ولا تتحقق إلا بمشاركة جميع المواطنين .

٣ - عدد طرق النقل في الوطن العربي . (يكتفى بنقطتين) (ص ١٤٨ - ١٤٩ - ١٥٠)

- البرية
- المائية
- الجوي .

السؤال الثالث مقالي ويتكون من (أ - ب - ج) :

(أ) اقرأ الفقرة التالية ثم أجب عما يليها من أسئلة: (ص ١١٠-١١١-١١٣) (خمس درجات)

يحتل القطاع الزراعي في الوطن العربي المرتبة الأولى خاصة في الأقطار غير المنتجة للنفط حيث تتوفر فيها مقومات الإنتاج الزراعي (بشرية / طبيعية) ، كما تختلف أنواع هذه المنتجات والمحاصيل من دولة لأخرى ، حيث تنقسم هذه المحاصيل إلى الحبوب الغذائية والعلات الصناعية والتجارية (النقدية) وكذلك الفواكه والثمار .

١- استخراج من الفقرة السابقة :

- المحاصيل الزراعية التي تزرع في الوطن العربي. (يكتفى بذكر نوعين) (درجتين)

- الحبوب الغذائية / العلات النقدية (العلات الصناعية والتجارية) / الفواكه والثمار .

- مقومات الإنتاج الزراعي. (ص ١١١) (درجتين)

- مقومات طبيعية / مقومات بشرية

٢- عرف ما تحته خط : (درجة)

- العلات النقدية هي العلات التي تدخل في الصناعة وتزرع بغرض التجارة والحصول على نقد .

(ب) قارن بين كل من : (أربعة درجات لكل نقطة درجة)

وجه المقارنة	التصحّر (ص ١٦٢)	التلوث البيئي (ص ١٦٦)
التعريف	زحف رمال الصحراء على المناطق الجافة وشبه الجافة	الضرر الذي يلحق بالتربة والهواء والماء ويصيب التلوث عناصر البيئة من عدة مصادر.
الأسباب	بشرية / طبيعية	مصادر صناعية/ زراعية / منزلية / الغازات السامة الصادرة من محطات التحلية / دخان المصانع / عوادم السيارات / الملوثات الصادرة عن البقايا الصلبة وتراكم النفايات والمواد البلاستيكية

(ج) علل لما يلي : (ستة درجات لكل سؤال درجتين)

١- تحتل الأغنام مكاناً مهماً ضمن الثروة الرعوية بالوطن العربي. (ص ١١٨)

- الأكثر إنتشاراً في المراعي العربية / أكثر الحيوانات المستأنسة والملائمة لمراعي الوطن العربي
- لأهمية منتجاتها بالنسبة للسكان / لأنها مصدر من مصادر الثروة القومية.

٢- ارتفاع النمو السكاني في الوطن العربي. (ص ١٠٦)

- الزيادة الطبيعية - الهجرة

٣- اختلاف المنتجات الزراعية في الوطن العربي من دولة إلى أخرى. (ص ١١٠)

- بسبب اختلاف المناخ / نوع التربة / مدى توفر المياه في هذه الدول .