

تم تحميل هذا الملف من موقع ملفات الكويت التعليمية



[com.kwedufiles.www//:https](https://www.kwedufiles.com)

*للحصول على أوراق عمل لجميع الصفوف وجميع المواد اضغط هنا

* للحصول على أوراق عمل لجميع مواد الصف السادس اضغط هنا

<https://kwedufiles.com/6>

* للحصول على جميع أوراق الصف السادس في مادة اجتماعيات ولجميع الفصول, اضغط هنا

<https://kwedufiles.com/6social>

* للحصول على أوراق عمل لجميع مواد الصف السادس في مادة اجتماعيات الخاصة بـ الفصل الثاني اضغط هنا

<https://www.kwedufiles.com/6social2>

* لتحميل كتب جميع المواد في جميع الفصول للـ الصف السادس اضغط هنا

<https://www.kwedufiles.com/grade6>

* لتحميل جميع ملفات المدرس تطبيق خدمة الطالب اضغط هنا

[bot_kwlinks/me.t//:https](https://t.me/bot_kwlinks)

* للحصول على جميع روابط الصفوف على تلغرام وفيسبوك من قنوات وصفحات: اضغط هنا

الروابط التالية هي روابط الصف السادس على مواقع التواصل الاجتماعي

مجموعة الفيسبوك

صفحة الفيسبوك

مجموعة التلغرام

بوت التلغرام

قناة التلغرام

رياضيات على التلغرام

الوحدة الرابعة

دول الخليج العربية تنمو سكانياً وثقافياً

صفحة ١٠٥

نشاط ١

- حدد على الخريطة التالية : منطقة الخليج العربية مواقع الحضارات الموجودة في الفقرة السابقة .



صفحة ١٠٦

نشاط ٢

ابحث في مكتبة المدرسة عن تقسيمات أصول الجنس العربي .

١ - الجنس الأبيض القوقازي :

يمتاز هذا العرق بصفات خاصة في علو الأنف ودقته، اعتدال الشفة وبروز الفكّين، استقامة العينين، تموّج الشعر وتجعّده، وكثرة شعر الجسم وكثافة اللحية وكذلك القامة تتراوح بين طوال القامة وتوسط القامة . ويتميزون بشدة حمرة البشرة إلى اللون البني والحنطى . ويتمركز هذا الجنس البشري في حوض البحر المتوسط .



تطبيق خدمة الطالب

تطبيق خدمة الطالب 50152882

٢ - الجنس الأصفر المغولي :

يمتاز هذا العرق بالجبهة العريضة والشعر الطويل المسترسل والعيون الصغيرة والرأس المستدير والفك البارز. ويمتاز أيضاً هذا الجنس بقصر قامه إلى توسط طول قامه ويندر طول القامة في هذا الجنس. ويتمركز هذا النوع في المغول الأصليين الأسكيمو و اليابانيون و الكوريون والصينيون وكذلك الأتراك والأندونيسيون والهنود الأمريكيون.

٣ - الجنس الأسود الزنجي

يمتاز هذا الجنس بالأنف المتوسط إلى الصغير " الأقطس " والشفاة الغليظة المقلوبة والشعر الأشعث القصير والعيون المستقيمة الكبيرة والرأس المستطيل والفك المتقدم البارز بشكل كبير ويتمركز هذا النوع في زنوج أفريقيا الوسطى والزنوج المهاجرين في أمريكا والهاميون في مصر.

ج - صنف المناطق التاريخية من الشمال إلى الجنوب .

بلمون أم النار تاروت هيلي دبا

هل

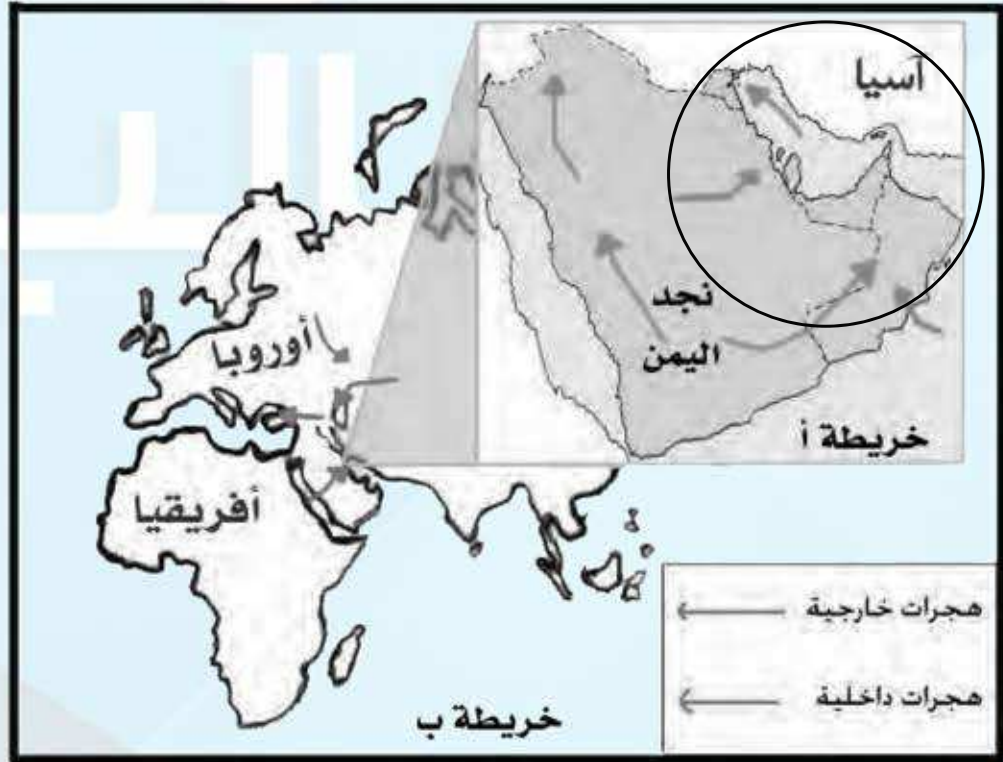
تعلم أن

السلالة : مجموعة من الناس تشترك فيما بينها في الصفات الجسمانية الرئيسة كلون الجلد وشكل الأنف وشكل الشعر وطول القامة وما إليها وتختلف عن غيرها من السلالات في هذه الصفات .

تطبيق خدمة الطالب 50152882

على الخريطة ب :

١- حدد موقع حوض الخليج العربي بوضع الرمز ○ عليه .



٢- يربط حوض الخليج العربي بين قارات العالم القديم وهي قارة :

..... آسيا و أفريقيا وأوروبا

٣- استخراج من مفتاح الخريطة أنواع الهجرات :

١- هجرات خارجية ٢- هجرات داخلية

اقرأ وتعلم :

استقبلت منطقة الخليج العربية موجات سكانية من كل المناطق المجاورة بحكم موقعه الجغرافي المهم بين قارات العالم القديم ، والجدير بالذكر أن تحركات الهجرات بدأت منذ أن سادت ظروف الجفاف الصحراوي ، حيث خرجت الهجرات العربية في أزمنة مختلفة من قلب الجزيرة العربية إلى الساحل الغربي للخليج العربي ، ومن هذه الهجرات ، هجرة (آل الصباح وآل خليفة) إلى الكويت والبحرين ، وهجرة (المعاضيد) إلى قطر ، وهجرة (آل بو سعيد واليعاربة) إلى عُمان ، وهجرة (القواسم) إلى رأس الخيمة ، وهجرة (بني ياس) إلى أبوظبي .

نشاط / صفحة ١٠٨

أولاً : من خلال الفقرة السابقة استخراج ما يلي :

- ١- عامل جذب لمنطقة الخليج العربية .
- الموقع الجغرافي المهم بين قارات العالم القديم وظهور النفط .
- ٢- عامل طرد للسكان من شبه الجزيرة العربية .
- ظروف الجفاف الصحراوي وارتفاع درجة الحرارة .

تطبيق خدمة الطالب 50152882

ثانياً : وزع الجماعات الواردة في الفقرة السابقة في أماكن استقرارها على الخريطة .

ثالثاً : ضع عنواناً للخريطة .

رابعاً : ارسم اتجاه الشمال على الخريطة في المكان المناسب .

اتجاه الشمال

بنى ياس

القواسم

آل خليفة

القطيف

- آل صباح

- آل خليفة

- المعاضيب

- آل بوسعيد

- القواسم

- بنى ياس

تذكر أن :

عدد السكان في دولة الكويت ودول الخليج العربية في تزايد مستمر بسبب الزيادة الطبيعية (عدد المواليد - عدد الوفيات) والزيادة غير الطبيعية (بسبب الهجرة) .

نشاط ١ / صفحه ١١٠

استخرج الفكرة الرئيسية من الفقرة .

السكان في دول الخليج العربي في تزايد مستمر .

تطبيق خدمة الطالب 50152882



اكتب رسالة تعبر فيها عن شكرك لما تقدمه دولتك الحبيبة الكويت من رعاية صحية .

أتقدم بكل الشكر والتقدير إلى حضرة صاحب السمو والحكومة الرشيدة على ما يقومون به من خدمات صحية في مستشفيات ومستوصفات الكويت لمساعدة المرضى على الشفاء والاهتمام بالسلامة الصحية .

نشاط ٤

استعن بالمعلومات الموجودة داخل المربع في كتابة تعليق مناسب أسفل الصور :

السماح للوافدين باصطحاب عائلاتهم

ارتفاع الأجور

الأمن والأمان

زيادة عدد المواليد

توفر الرعاية الصحية

توفر فرص العمل



ارتفاع الاجور ادى الي زيادة عدد الوافدين بالكويت



زيادة عدد المواليد أدى لبناء الدولة للعديد من المدارس



سمحت الكويت للعاملين بها باصطحاب عائلتهم



قامت الدولة ببناء العديد من المستشفيات الطبيه المتخصصه

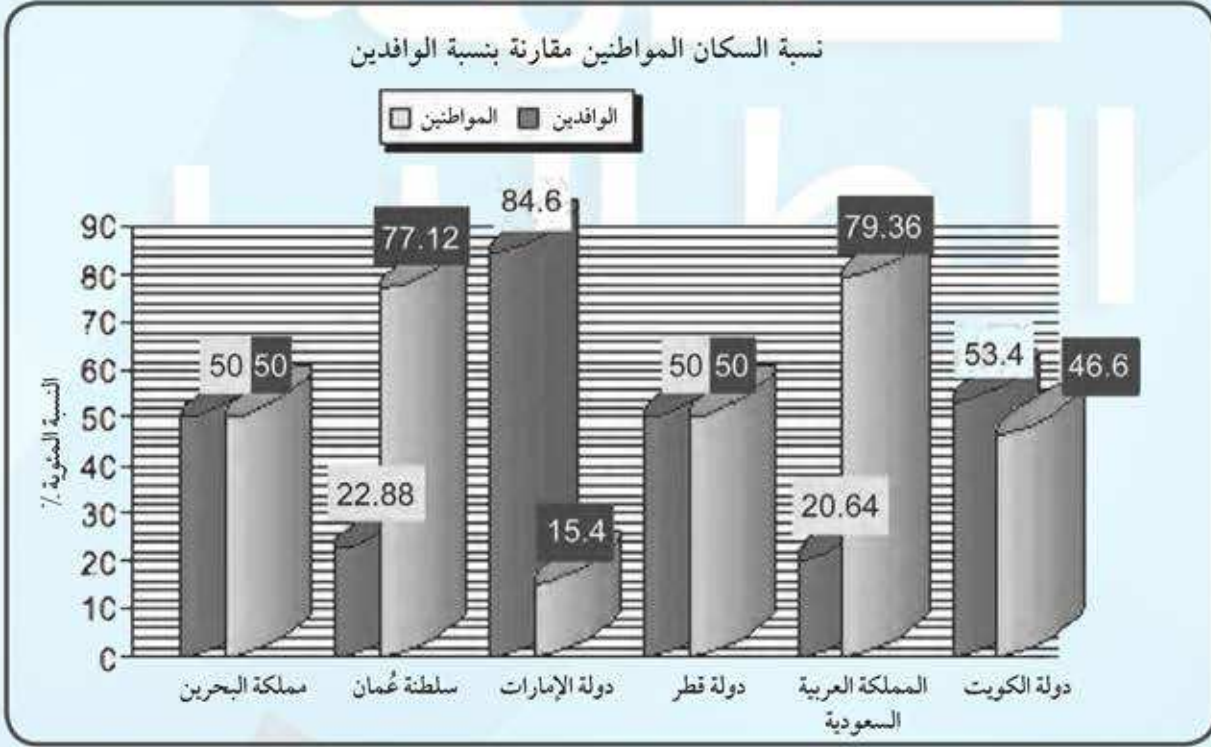


رجال الشرطة هم العين الساهرة على حمايه الوطن



توافرت فرص العمل الكثيرة بعد ظهور النفط

لاحظ الرسم البياني التالي ثم أجب عما يلي :



شكل (٣١) توزيع السكان في دول الخليج العربية وفقاً لإحصاء (٢٠٠٦) تقريباً

١- ماذا يمثل هذا الرسم؟ .. شكل بياني يوضح نسبة الموظفين والوافدين في دول الخليج .

٢- صحح ما تحته خط :

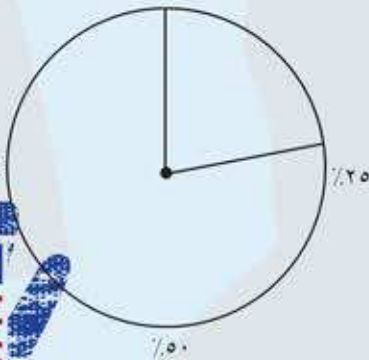
أعلى دولة خليجية في نسبة المواطنين هي دولة الكويت (.....السعودية)

- أقل دولة خليجية في نسبة المواطنين تمثله دولة قطر (.....الإمارات)

٣- رتب الدول ترتيباً تنازلياً حسب نسبة الوافدين فيها .

الإمارات - الكويت - البحرين - قطر - عمان - السعودية

٤- استعن بالدائرة البيانية ثم ظلل نسبة الوافدين في عُمان



٥- استخرج حقيقة من الرسم البياني السابق .

يمثل عدد الوافدين في عمان أقل من ربع عدد السكان الكلي .

قم بتحويل الرسم البياني إلى جدول حسب البيانات الموضحة عليه :

توزيع السكان	توزيع المرافق	اسم الدولة
%٤٦.٦	%٥٣.٤	دولة الكويت
%٧٩.٣٦	%٢٠.٦٤	المملكة العربية السعودية
%٥٠	%٥٠	دولة قطر
%١٥.٤	%٨٤.٦	دولة الإمارات
%٧٧.١٢	%٢٢.٨٨	سلطنة عمان
%٥٠	%٥٠	مملكة البحرين

من خلال الجدول التالي أجب على الأنشطة المرفقة :

اسم الدولة	المساحة ١٠٠٠ كم ^٢	عدد السكان ١٠٠٠ (نسمة)	الكثافة السكانية فرد / كم ^٢	معدل النمو السكاني %
دولة الكويت	١٧,٨١٨	٢,٤١٨,٣٩٣	١٣٤	٣,٣٨
المملكة العربية السعودية	٢,٢٤٠,٠٠٠	٢٧,٠١٩,٧٣١	١٢	٣,٢٧
مملكة البحرين	,٧٠٧	٦٩٨,٥٨٥	٩٨٨	١,٧٣
دولة قطر	١١,٤٢٧	١,٠٤١,٧٣٣	؟؟؟	٣,١٨
دولة الإمارات	٨٣,٦٠٠	٥,٦٣١,١٣٥	٦٧	١,٥٩
سلطنة عُمان	٣٠٩,٥٠٠	٢,٦٢٢,١٩٨	٨	٣,٤٣

$$\text{احسب الكثافة السكانية لدولة قطر : } \frac{١,٠٤١,٧٣٣}{١١,٤٢٧} = ٩١,١٦٤١٧٢$$



١- رتب الدول الخليجية من حيث عدد السكان ترتيبًا تنازليًا .

السعودية . والإمارات . و عمان . و الكويت . و قطر . و البحرين .

٢- أكمل ما يلي :

- دولة خليجية تحتل المركز الأول في عدد السكان هي **السعودية** .

- دولة خليجية تحتل المركز السادس في عدد السكان هي **البحرين** .

٣- صح أم خطأ :

البحرين وعمان

- أكثر دولة خليجية في الكثافة السكانية هي دولة الكويت وأقلها البحرين ()

٤- لاحظ الكثافة السكانية في كل من مملكة البحرين والمملكة العربية السعودية

ماذا تستنتج ؟
الكثافة السكانية في مملكة البحرين مرتفعة جدا
الكثافة السكانية في المملكة العربية السعودية منخفضة .

٥ - ماذا تلاحظ على معدل النمو السكاني في دولة الكويت ؟

في ازدياد مستمر



- ارسم خريطة ذهنية وضح فيها الآتي :

- ١- تعريف مصطلح التركيبة السكانية هي الدراسة الإحصائية للسكان البشرية .
- ٢- أسباب الخلل في التركيبة السكانية قلة الانجاب - الهجرة - تعدد الجنسيات .
- ٣- حلول مقترحة لمعالجة الخلل في التركيبة السكانية .
 - معالجة مشكله عديمي الجنسية .
 - تشجيع المواطنين على الانجاب .
 - ضرورة التوطين ومحاذرة التجنيس .



من خلال الحوار السابق أجب عما يلي :

١- ما معنى الثقافة؟

..... هي مجموعة من العادات والتقاليد والأخلاقيات في مجتمع من المجتمعات .

٢- عدّد الروابط التي تربط بين أبناء دول الخليج العربية ؟

..... وحدة الاصل - العادات والتقاليد - الدين واللغة - التاريخ المشترك

٣- ضع تعليقاً للصور التالية :



وحدة بشريه وأصول تاريخيه

التاريخ المشترك

وحدة الدين

اكتب حقيقة لهذه الصور

سكان دول الخليج العربية يشكلون وحدة بشريه وأصولا تاريخيه واحدة فهم عرب منذ القدم يرتبطون بمصير مشترك وتاريخ واحد وتجمعهم امال واحدة بعدما مروا بالام مصيريه واحدة .

- وحدة الدين : الدولة التي تدين أغلب سكانها بدين واحد تعد أكثر تجانسا من الدولة التي يسودها أكثر من دين

- التاريخ المشترك : تؤدي أحداث التاريخ المشترك في حياه سكان الدولة إلي توحيد المشاعر .



٤ - عزيزي المتعلم لاحظ التالي ثم

نفذ ما هو مطلوب منك :

* ماذا تعرف عن الدكتور صالح العجيري

عالم فلكي كويتي قدم الكثير لعلم الفلك ومحبيه بتقديمه هذا العلم علي طبق من ذهب للعرب والمسلمين المتخصصين منهم والباحثين أو الهواه وله الكثير من الاضافات العلمية في الفلك وعلومه من خلال ابحاثه العلميه والعديد من الكتب والمؤلفات والندوات والمحاضرات التي قدمها في المراكز العلميه المتخصصة والاندويه والمشاركات بفاعليات مختلفه في المؤتمرات العلميه المحليه والدولية .

تطبيق خدمة الطالب 50152882

أ- أمامك رزنامة (تقويم العجيري) لشهر فبراير :

اذكر أسماء الأعياد في هذا الشهر ؟

١- .. العيد الوطني .. ٢- .. عيد التحرير ..

ب - ظلل تاريخ كل عيد على الرزنامة ؟ يظل الطالب يوم ٢٥ فبراير ويوم ٢٦ فبراير

ج - اكتب رسالة تعبر فيها عن حبك وولائك لوطنك الكويت ، ثم ضع علامة (√) في المربع عند كلمة ارسال .



دول الخليج العربية تنمو سكانياً وتتشابه ثقافياً

السؤال الأول : أكمل العبارات التالية بما يناسبها مما درست :

١- ترجع أصول السلالات السكانية في منطقة الخليج العربية إلى جنس البحر المتوسط وشرق .. أفريقيا

٢- أعلى دولة عربية خليجية في نسبة الوافدين .. الإمارات

٣- أصبحت منطقة الخليج العربية منطقة جذب سكاني بعد اكتشاف النفط

٤- أكثر دولة عربية خليجية في الكثافة السكانية .. المملكة العربية السعودية

٥- الدولة العربية الخليجية التي تحتل المركز الأول من حيث عدد السكان .. المملكة العربية السعودية

٦- أقل دولة عربية خليجية في عدد السكان .. البحرين

٧- العام الذي تعرضت فيه الكويت للغزو العراقي هو .. ١٩٩٠

السؤال الثاني : اختر الإجابة الصحيحة للعبارات التالية من بين الخيارات التي تلي كلاً منها وضع خطأ تحتها :

١- أقل دولة عربية خليجية في نسبة المواطنين .

(الإمارات - الكويت - البحرين - عُمان)

٢- أقل دولة عربية خليجية في نسبة الوافدين .

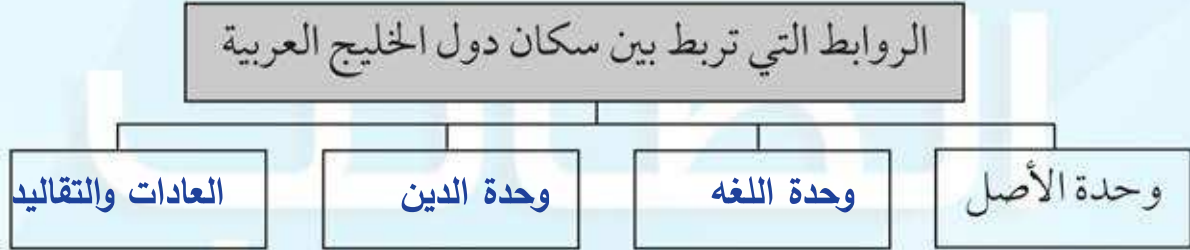
(السعودية - الإمارات - البحرين - قطر)

٣- أكبر دولة عربية خليجية من حيث المساحة .

(السعودية - الإمارات - البحرين - قطر)



- ٤- المركز الذي تحتله دولة الكويت بين دول الخليج العربية من حيث عدد السكان
 (الأول - الثاني - الثالث - الرابع)
 السؤال الثالث : أكمل المخطط السهمي التالي :



السؤال الرابع :

- (أ) وزع الحضارات حسب مكانها الصحيح في الجدول التالي .
 (دلمون - هيلي - أم النار - دبا - تاروت)

دلمون	أم النار	دبا	تاروت	هيلي	الحضارة
البحرين	قطر	عُمان	السعودية	الإمارات	الدولة التي قامت فيها

- (ب) وزع الهجرات الآتية حسب مكانها الصحيح في الجدول التالي .
 (آل الصباح - آل خليفة - المعاصيد - آل البوسعيد واليعاربة - القواسم - بني ياس)

الهجرة	المعاصيد	آل البوسعيد	القواسم	آل الصباح	آل خليفة	بني ياس
منطقة الاستقرار	قطر	عُمان	رأس الخيمة	الكويت	البحرين	أبو ظبي

السؤال الخامس : علل لما يلي (اذكر السبب) :

- ١- استقبال حوض الخليج العربي موجات سكانية من كل المناطق .
 بسبب اكتشاف النفط في منطقة الخليج وبالتالي ارتفاع مستوى المعيشة .



٢- خروج الهجرات العربية من شبه الجزيرة العربية إلى الساحل الغربي للخليج العربي .
بسبب الجفاف الصحراوي في المناطق الداخلية .

٣- استمرار تزايد عدد السكان في دولة الكويت ودول الخليج العربية .
بسبب ارتفاع مستوى المعيشية وتحسن الاحوال المعيشية بعد النفط .

السؤال السادس : عرف المفاهيم التالية :

السلالة - الزيادة الطبيعية - الزيادة غير الطبيعية - الكثافة السكانية - الثقافة

السلالة : مجموعه من الناس تشترك فيما بينها في الصفات الجسمانية الرئيسية (لون الجلد - شكل الانف)

وتختلف عن غيرها من السلالات في هذه الصفات .

الزيادة الطبيعية : عدد المواليد + عدد الوفيات

الزيادة الغير طبيعيه : الزيادة الناتجة عن الهجرة

الكثافة السكانية : هي عدد السكان في الكيلو متر مربع وتقاس بقسمه عدد السكان على مساحه الدولة
الثقافة : هي مجموعه من العادات والتقاليد والاخلاقيات في مجتمع من المجتمعات .
السؤال السابع : اكتب فيما يلي مما درست :

١- القارات التي يربط بينها حوض الخليج العربي .
آسيا - وأفريقيا - وأوروبا

٢- أنواع الهجرات .

الهجرة الداخلية والهجرة الخارجية .

٣- العوامل التي ساعدت على زيادة أعداد الوافدين في دولة الخليج العربية .
زيادة الهجرات الخارجيه الى دول الخليج بعد اكتشاف النفط .

٤- أصول السلالات السكانية في منطقة الخليج العربية .

جنس البحر المتوسط وشرق أفريقيا

السؤال الثامن : فرق بين كل مما يلي :

الزيادة الطبيعية - الزيادة غير الطبيعية

الهجرة

عدد المواليد + عدد الوفيات

