

تم تحميل هذا الملف من موقع المناهج الكويتية



الملف مراجعة إثرائية ومفيدة جداً

[موقع المناهج](#) ⇨ [المناهج الكويتية](#) ⇨ [الصف الأول](#) ⇨ [علوم](#) ⇨ [الفصل الأول](#)

روابط مواقع التواصل الاجتماعي بحسب الصف الأول



روابط مواد الصف الأول على تلغرام

[الرياضيات](#)

[اللغة الانجليزية](#)

[اللغة العربية](#)

[التربية الاسلامية](#)



المزيد من الملفات بحسب الصف الأول والمادة علوم في الفصل الأول

اوراق عمل في مادة العلوم	1
اوراق عمل مجمعة في مادة العلوم	2
الطرق الآمنة للتعامل مع الماء في مادة العلوم	3
دورة حياة النبات الزهري في مادة العلوم	4
مخططات وتشجيرات مهمة في مادة العلوم	5

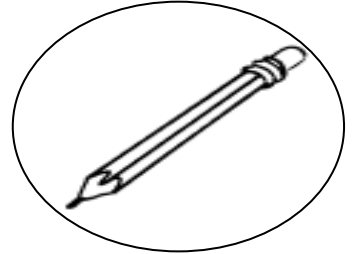
مراجعة في مادة العلوم للصف الأول الابتدائي

السؤال الأول : اختر الإجابة الصحيحة بوضع (○) حول الإجابة الصحيحة :

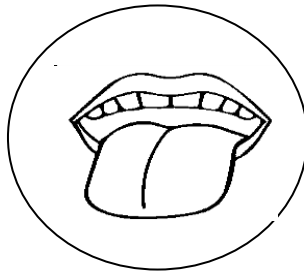
١- الكائن الحي الذي يتحرك .



٢- الحالة الصلبة هي :



٣- عضو يساعدنا على تذوق الطعام :



السؤال الثاني : ضع علامة (√) أمام العبارة الصحيحة وعلامة (×) أمام العبارة الغير صحيحة :

(√)



١- الرضيع أول مرحلة من مراحل النمو

(×)






٢- العصير حالة صلبة

(√)





٣- يتحول الماء السائل إلى بخار بالتسخين

السؤال الثالث : صل الصورة من المجموعة (ب) بما يناسبها علمياً من المجموعة (أ) :

(ب)	(أ)
	رضيع
	طفل
	رجل

السؤال الرابع : ضع (○) حول الطعام الصحي للجسم :



السؤال الرابع : ارسم الجزء الناقص من الرسم :

