

تم تحميل هذا الملف من موقع المناهج الكويتية



الملف وسائل ومراجعات وأوراق عمل على الوحدة الأولى

[موقع المناهج](#) ⇐ [المناهج الكويتية](#) ⇐ [الصف الثاني](#) ⇐ [رياضيات](#) ⇐ [الفصل الأول](#)

روابط مواقع التواصل الاجتماعي بحسب الصف الثاني



روابط مواد الصف الثاني على تلغرام

[الرياضيات](#)

[اللغة الانجليزية](#)

[اللغة العربية](#)

[التربية الاسلامية](#)

المزيد من الملفات بحسب الصف الثاني والمادة رياضيات في الفصل الأول

[التقريب الى اقرب عشرة في مادة الرياضيات](#)

1

[التقريب الى اقرب عشرة في مادة الرياضيات 4](#)

2

[ورقة عمل في مادة الرياضيات](#)

3

[ورقة عمل المكعبات 1 في مادة الرياضيات](#)

4

[ورقة عمل مقارنة في مادة الرياضيات](#)

5



وزارة التربية  
الإدارة العامة لمنطقة الأحمدية التعليمية  
مدرسة هدية الابتدائية بنين



موقع  
المناهج الكويتية  
almanahj.com/kw

# • الوحدة (أ)



للمصف الثاني



• أ. مشاعل القحطاني

• أ. شيمة المطيري


إعداد المعلمة

إشراف رئيسة القسم




• الممتع من الفرائد


بند (1-1)








# حوظ الشئ الذي يمين الـ






# حوظ الشئ الذي يسار الـ



# حوط الشيء بين



موقع  
المناهج الكويتية  
[almanahj.com/kw](http://almanahj.com/kw)





# حوط الشيء بين



،



موقع  
المنهج الكويتية  
almanahj.com.kw





# اتبع التعليمات ، و اختر الإجابة بوضع

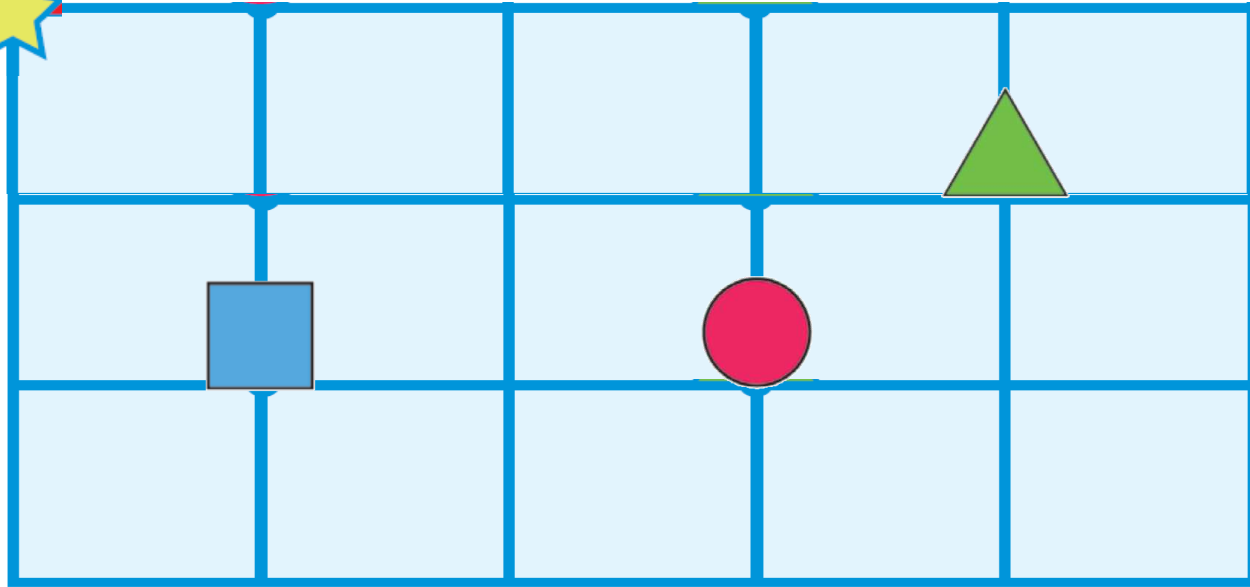
إبدأ






يمين



موقع  
المناهج الكويتية  
almanahj.com/kw



اذهب ٤ في اتجاه اليمين ثم ١ إلى الأسفل ، أنت عند :





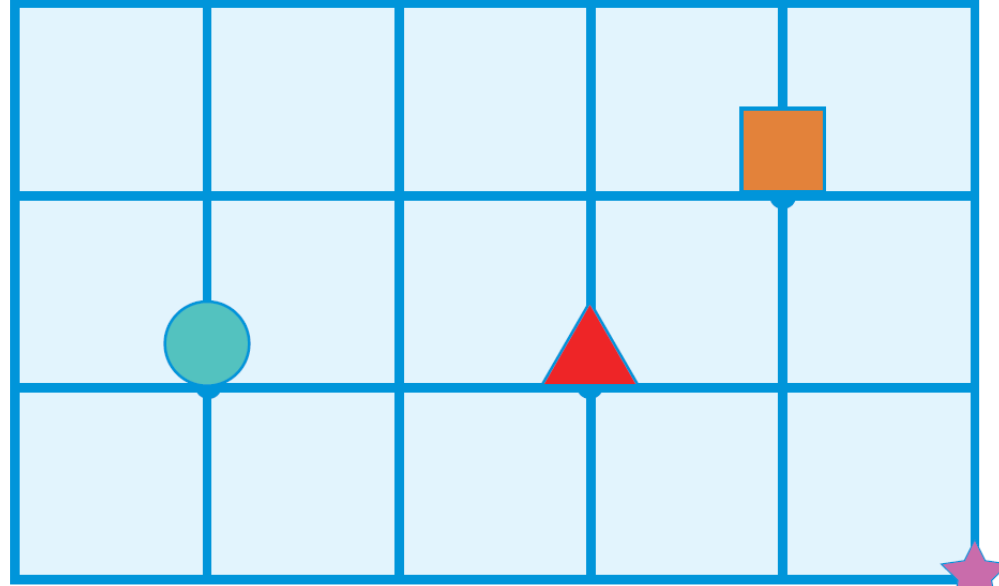


# اتبع التعليمات ، و اختر الإجابة بوضع

يسار






موقع  
المنهاج الكويتية  
almanahj.com/kw



إبدأ


اذهب ١ في اتجاه اليسار ثم ٢ إلى الأعلى، أنت عند :



# الانماط



بند (١-٢)



# حوظ الشكل الذي يكمل النمط.









موقع  
مكتبة الكويتية  
almanahj.com/kw

ما هو الشكل الناقص  
لإكمال النمط؟



# حوظ الشكل الذي يكمل النمط.



أَخْطَأْتُ سَارَةً بِإِعْدَادِ سَوَارًا بِنَفْسِ النَّمَطِ. سَاعِدِ سَارَةً فِي تَحْدِيدِ الْخَطَأِ  
بِوَضْعِ عِلَامَةِ (X).

# التصنيف





موقع  
المنهج الكويتية  
almanahj.com/kw







بند (١-٣)



# حوط الدوائر الخضراء.




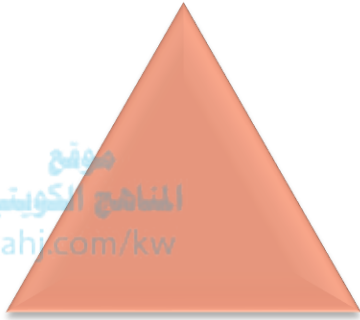


موقع  
المنهاج الكويتية  
almanah.com/kw



# حوط الأقراص الحمراء .

موقع  
المنهاج الكويتية  
almanahj.com/kw





# لون الصغيرة والكبيرة



والصغيرة








والكبيرة



لون




موقع  
المنهج الكورس  
almanahj.com/kw



# • التمثيلات البيانية


موقع  
المنهاج الكويتية  
almanahj.com/kw

بند (١-٤)



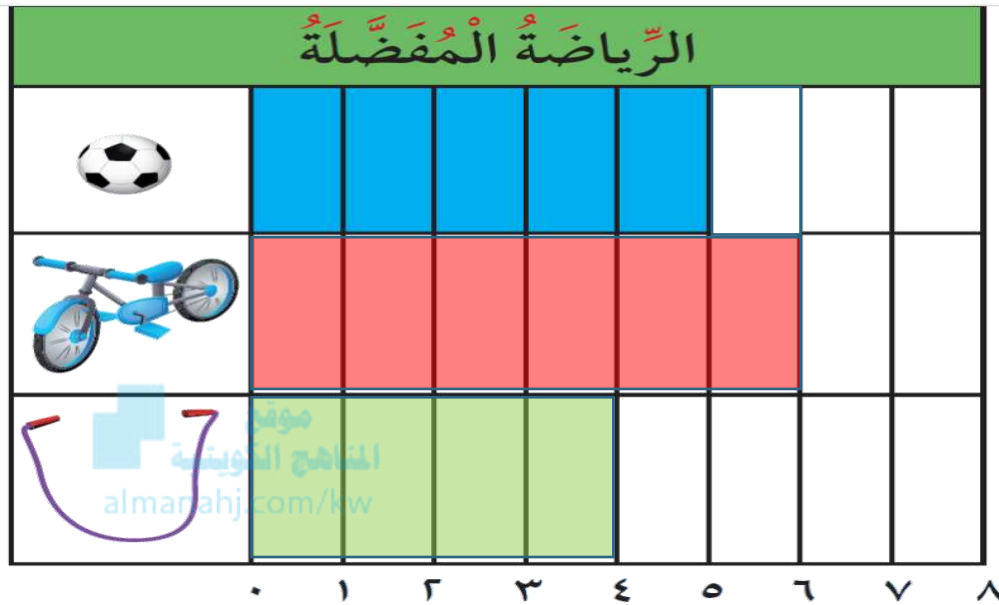


المناهج الكويتية  
almanahj.com/kw

الرياضة المفضلة									
									
									
									
	٠	١	٢	٣	٤	٥	٦	٧	٨

العدد	علامات العد	الرياضة المفضلة
		
		
		

# أجب عما يلي مستعيناً بالتمثيلات البيانية:



العدد	علامات العد	الرياضة المفضلة
5	#####	كرة القدم
6	#####	دراجة
4		سباحة

- كم عدد الأشخاص الذين يفضلون لعبة كرة القدم \_\_\_\_\_ شخصاً؟
- كم عدد الأشخاص الذين يفضلون لعبة دراجة \_\_\_\_\_ شخصاً؟
- كم عدد الأشخاص الذين يفضلون لعبة سباحة \_\_\_\_\_ شخصاً؟

# استخدم التمثيل البياني بالصور للإجابة عن الأسئلة .

## الهوايات المفضلة



قراءة القصص



صيد السمك



التمثيل على المسرح

كل  يمثل 1 متعلم

\_\_\_\_\_؟



كم عدد المتعلمين الذين يفضلون هواية

أي الهوايات أكثر تفضيلاً؟ \_\_\_\_\_

# • مِراجعة الوحدة الأولى

موقع  
المنهاج الكويتية  
almanahj.com/kw



بند (١-٥)



ارسم :

أمام



فوق



موقع  
المنهج الكويتية  
almanahj.com/kw






# لون البنطلون ، و القميص



موقع  
المنهج الكويتية  
almanahj.com/kw








من خلال التمثيل البياني بالصور ،



اختر الإجابة الصحيحة بوضع

ما اللعبة التي يحبها معظم المتعلمين ؟

الألعاب التي نحبها الكويتية almanahj.com/kw	



كلُّ يُمثِّل

1 مُتَعَلِّم (مُتَعَلِّمًا وَاحِدًا)

من خلال التمثيل البياني بالصور ،



اختر الإجابة الصحيحة بوضع

كم عدد المتعلمين الذين يحبون  ؟




الألعاب التي نحبها الكويتية almanahj.com/kw	
	
	
	

كلُّ  يُمثِّل  
1 مُتَعَلِّم (مُتَعَلِّمًا وَاحِدًا)

٨

٥

٣



# حوظ لإكمال النمط التالي :









موقع  
المنهج الكويتي  
almanhaj.com/kw





# اختر الإجابة الصحيحة بوضع

الشكل الذي يكمل النمط التالي :





# اختر الإجابة الصحيحة بوضع

العدد الذي يكمل النمط :

