

تم تحميل هذا الملف من موقع المناهج الكويتية



منطقة مبارك الكبير التعليمية

الملف نموذج أسئلة اختبار منطقة مبارك الكبير التعليمية

موقع المناهج ← المناهج الكويتية ← الصف التاسع ← اجتماعيات ← الفصل الأول

روابط مواقع التواصل الاجتماعي بحسب الصف التاسع



روابط مواد الصف التاسع على تلغرام

[الرياضيات](#)

[اللغة الانجليزية](#)

[اللغة العربية](#)

[التربية الاسلامية](#)

المزيد من الملفات بحسب الصف التاسع والمادة اجتماعيات في الفصل الأول

مسودة كتاب الطالب اجتماعيات لعام 2018	1
نموذج احابة اختبار لعام 2017 تعليم خاص	2
نموذج احابة اختبار لمنطقة العاصمة لعام 2016 في مادة الاجتماعيات	3
مراجعة رائعة للفصل الاول في مادة الاجتماعيات	4
حل تقويم الكورس الاول في مادة الاجتماعيات	5



وزارة التربية

الإدارة العامة لمنطقة مبارك الكبير التعليمية

التوجيه الفني للاجتماعيات

امتحان الفترة الدراسية الأولى

مقرر / الكويت والعالم

الصف التاسع

العام الدراسي : ٢٠٢٤/٢٠٢٥ م

الزمن : ساعة و ٤٥ دقيقة

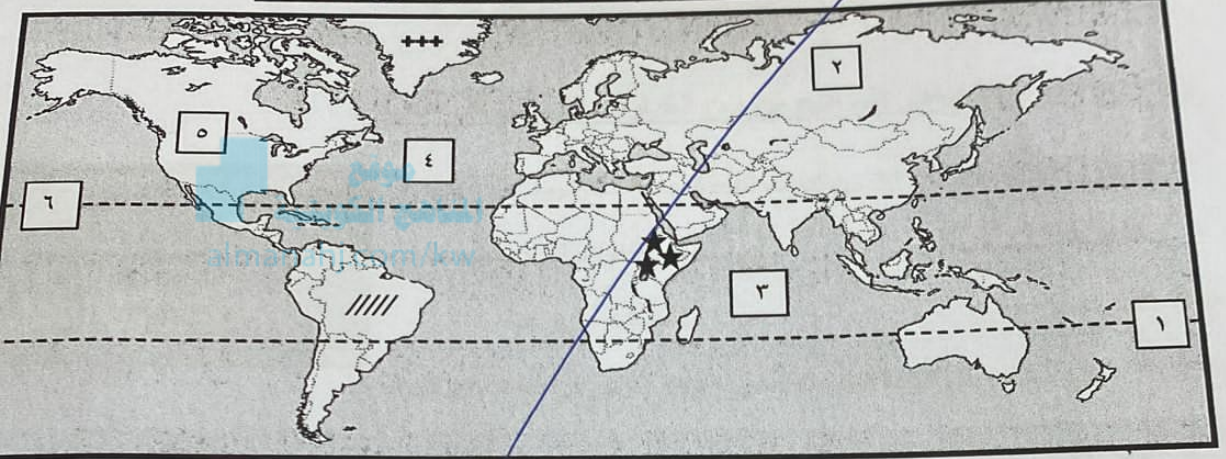
عدد الأوراق : (٦)



أجب على جميع الأسئلة التالية

السؤال الأول (الموضوعي) يتكون من (أ - ب - ج - د - هـ - و) :

(أ) لاحظ خريطة العالم الصماء ثم أكتب الرقم أو الرمز الدال على العبارات التالية :



* مدار الجدي يمثله على الخريطة الرقم ١

* المحيط الهندي يمثله على الخريطة الرقم ٣

* قارة آسيا يمثله على الخريطة الرقم ٢

* هضبة أثيوبيا يمثله على الخريطة الرمز *

* الإقليم المناخي القطبي (التندرا) يمثله على الخريطة الرمز +



تابع / السؤال الأول (الموضوعي) :

(ب) أكمل العبارات التالية بما يناسبها :

- ١- الخط الأساسي لخطوط الطول اسمه
- ٢- الشعار الذي أمامك يمثل وكالة للتعاون الدولي اسمها
- ٣- أول رياضي عربي تسلق أعلى قمة في العالم (افرست) اسمه
- ٤- الدولة التي تحد دولة الكويت من جهة الجنوب والجنوب الغربي اسمها
- ٥- المنظمة التي تهدف إلى رفع مستوى التعاون بين دول العالم في مجال التربية والتعليم والثقافة اسمها



(ج) ضع خطأ تحت الخيار الصحيح من بين الخيارات التي تلي كل عبارة :



- ١- الصورة التي أمامك تمثل أداة من أدوات تنفيذ السياسة الخارجية :
- المقاطعة الاقتصادية
- الدبلوماسية
- العالم الذي استخدم علم البيئة الطبيعية كمفهوم جديد يدرس في الجامعات اسمه :

د - نوبل

ج - وانجاري

ب - فليب

(هنري ديفيد

وحدة قياس ضغط الصوت volume :

د - متر

ج - الديسيل

ب - كيلومتر

نتيمتر

عام الذي عقد فيه مؤتمر كيوتو في اليابان لمكافحة التغير المناخي :

د - ٢٠٠٥م

ج - ٢٠٠٤م

ب - ٢٠٠٣م

٢٠٠٠م

طول ١٨٠ والذي يبدأ منه اليوم :

د - الخط الفلكي

ج - خط الاستواء

ب - خط التاريخ الدولي

ط الملاحه





تابع / السؤال الأول (الموضوعي) :

(د) اكتب المفاهيم أو المصطلحات الدالة على العبارات التالية :

م	المفهوم أو المصطلح	العبارة
١ صلاح	حالة الجو خلال فترة زمنية طويلة .
٢ GPS	نظام تحديد المواقع العالمي مبني على الأقمار الصناعية .
٣ العلاقات الدولية	كافة التفاعلات الدولية وحركات الشعوب وتبادل السلع والأفكار وتشمل العلاقات السياسية والاقتصادية والاجتماعية والثقافية .
٤ أوليت	منظمة الدول المصدرة للنفط .
 كسبرج	عملية نحت وتشكيل سطح الأرض ونقل المفتتات الصخرية وإرسابها في مكان آخر من خلال الرياح والمياه الجارية والجليد والأمواج والمياه الجوفية .

(صنف مكونات النظام الإيكولوجي حسب مكانهم الصحيح في الجدول التالي :

(الكائنات الحية النباتية - الهواء - البكتيريا والفطريات - الكائنات الحيوانية - المعادن)

العناصر غير الحية	العناصر الحية المنتجة	العناصر الحية المستهلكة	العناصر الحية المحللة
..... نباتي حيواني كسبرج
.....



تابع / امتحان الفترة الدراسية الأولى - الصف التاسع - مقرر الكويت والعالم - العام الدراسي ٢٠٢٤ / ٢٠٢٥ م

السؤال الثالث (مقالى) يتكون من (أ - ب - ج) :

(أ) اقرأ الفقرة التالية ثم أجب عما يليها من أسئلة :

((لقد أدى تطوير وسائل الاتصال والمواصلات إلى المساهمة في تقليص المسافات بين الدول والمجتمعات وازدياد التبادل التجاري مما أدى إلى ظهور العلاقات الاقتصادية الدولية نتج عنه الانفتاح العالمي للتجارة الدولية وتبادل السلع والخدمات وقوانين رؤوس الأموال والمساهمة في دعم النمو الاقتصادي ولكنه أدى إلى وجود حدود سياسية بين الدول ولكل دولة سياسات اقتصادية مختلفة .))

١- اكتب عنوان للفقرة .

٢- عرف ما تحته خط

٣- فرق بين كل من مميزات التجارة الدولية وعيوب التجارة الدولية :

عيوب التجارة الدولية	مميزات التجارة الدولية
صعوبة تصدير المنتجات / اختلاف العملات	تعزيز العلاقات بين الدول / توفير فرص عمل

(ب) علل لما يأتي :

أسباب الاحتباس الحراري بكونب الأرض (الطبيعية)

تغير نسبة مكونات الغلاف الجوي
الاحتباس الحراري
تغير المناخ

أسباب مشكلة التصحر (البشرية)

الرعي الجائر / القطع العشوائي للأشجار
التصحر

برهن على أهمية زراعة الأشجار على كوكب الأرض :

توفير الغذاء / توفير المناخ
الحفاظ على البيئة / توفير المياه
توفير الأكسجين / توفير التربة الخصبة

انتهت الأسئلة

15




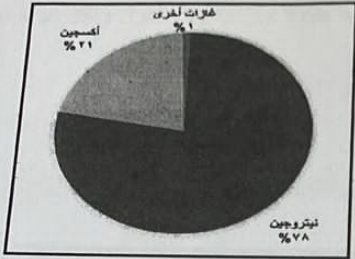


تابع / امتحان الفترة الدراسية الأولى - الصف التاسع - مقر الكويت والعالم - العام الدراسي ٢٠٢٤ / ٢٠٢٥

السؤال الثاني (مقالى) يتكون من (أ - ب - ج) :

١- حول - نسبة مكونات الغلاف الجوى الذى يمثل مكونات الغلاف الجوى ثم أجب عن الأسئلة التالية :

مكونات الغلاف الجوى



٢- عرف - التلوث الهوائى .

* تعريفه: هو كل ما يفسد جود الهواء من حيث كونه صالحاً للتنفس.

٣- عدد - أضرار التلوث الهوائى .

* أضرارها: ١- تهيج الجهاز التنفسي.

* ٢- تهيج العيون.

(ب) فرق بين كل من البيئة البحرية والبيئة الجبلية من حيث المميزات :

البيئة الجبلية	البيئة البحرية
تتميز بالتنوع البيولوجى.	تتميز بالتنوع البيولوجى.
تتميز بارتفاع درجات الحرارة.	تتميز بانخفاض درجات الحرارة.

(ج) اكتب ثلاث فيما يلى :

- مراحل تطور علاقة الإنسان بالبيئة .

١- مرحلة الاعتماد
٢- مرحلة العزلة
٣- مرحلة التمسك بالبيئة

ور دولة الكويت في الميدان الثقافى .

١- الحفاظ على التراث الثقافى
٢- توعية المواطنين بأهمية التراث الثقافى
٣- دعم الجمعيات التى تهتم بالتراث الثقافى





تابع / امتحان الفترة الدراسية الأولى - الصف التاسع - مقرر الكويت والعالم - العام الدراسي ٢٠٢٤ / ٢٥

تابع / السؤال الأول (الموضوعي) :


(و) أكتب مدلولات الأشكال والصور التالية في الفراغات أدناه :



٢- مجلس التعاون الخليجي
المنهج الكويتي



١- صندوق امانه المرحوم



٤- صناديق منظمة الصحة
صندوق



٣- منظمة الغذاء والزراعة
للأمم المتحدة



.....

مجموع السؤال الأول بالحروف

