

تم تحميل هذا الملف من موقع ملفات الكويت التعليمية



[com.kwedufiles.www//:https](https://www.kwedufiles.com)

*للحصول على أوراق عمل لجميع الصفوف وجميع المواد اضغط هنا

* للحصول على أوراق عمل لجميع مواد الصف الرابع اضغط هنا

<https://kwedufiles.com/4>

* للحصول على جميع أوراق الصف الرابع في مادة اجتماعيات وجميع الفصول, اضغط هنا

<https://kwedufiles.com/4social>

* للحصول على أوراق عمل لجميع مواد الصف الرابع في مادة اجتماعيات الخاصة بـ الفصل الأول اضغط هنا

<https://www.kwedufiles.com/4social1>

* لتحميل كتب جميع المواد في جميع الفصول للـ الصف الرابع اضغط هنا

<https://www.kwedufiles.com/grade4>

[bot_kwlinks/me.t//:https](https://t.me/bot_kwlinks)

للحصول على جميع روابط الصفوف على تلغرام وفيسبوك من قنوات وصفحات: اضغط هنا

الروابط التالية هي روابط الصف الرابع على مواقع التواصل الاجتماعي

مجموعة الفيسبوك

صفحة الفيسبوك

مجموعة التلغرام



بوت التلغرام

قناة التلغرام

رياضيات على التلغرام

التلخيص اجتماعيات

2020



الفصل الدراسي الاول

الصف الرابع

67671228

67675564

إعداد و تأليف نخبة من المحررين والعلميين المهتمين
الموجه / أبو أحمد
الموجه / أمال فروع
/ فاطمة كادان
د/ أمنية حلمان
وإشراف أساتذة مختصين لكل مادة علمية

Price
4 KD



el15es_books_kw



67671228



el15esbooks@gmail.com



67675564

المحتوى

٤	مفهوم الدولة
٨	مساحة و حدود بلادي
١٢	أهمية موقع بلادي الكويت
١٥	بيئة بلادي الكويت
٢٢	تلخيص

بلادي الكويت

٢٩	قصة بلادي الكويت (1)
٣٠	قصة بلادي الكويت (2)
٣٢	حكام بلادي الكويت
٣٥	الإتفاقية الكويتية البريطانية عام 1899 م
٣٧	استقلال بلادي الكويت
٤٠	رموز بلادي الكويت (1)
٤٢	رموز بلادي الكويت (2)
٤٤	سكان بلادي الكويت
٤٦	محافظات بلادي الكويت
٤٨	تقويم الوحدة الاولى و الثانية

نشأت بلادي الكويت

٥٩	الزياء الشعبية
٦٣	الحرف و الادوات في بلادي
٦٧	الغوص على اللؤلؤ
٧٠	الزراعة في بلادي
٧٤	الصيد البري
٧٧	الالعب الشعبية
٨٣	الامثال الشعبية
٨٦	تقويم التلخيص
٩٢	تقويم الوحدة الثالثة

تراث بلادي الكويت

بسم الله الرحمن الرحيم

على دروب الخير للقاكم وعلى شرفات الأمل و النجاح لرحب بكم فمرحباً بكم وحياكم الله....

معنا في التلخيص

مادة الاجتماعيات الصف الرابع / فصل دراسي أول (2019 – 2020)

و قد راعينا في كتاب التلخيص أن يكون مطابقاً لأحدث تعديلات منهج الكفايات المطور فهو لا يفني عن الكتاب المدرسي ولكنه تلخيص متميز يشمل كل ما يحتاجه الطالب

تتفرد مذكراتنا بأنها تتميز بالآتي :-

- رسومات توضيحية ملونة
- خرائط معرفية
- أوراق عمل لكل درس
- حل تدريبات الكتاب المدرسي
- نماذج عامة
- جداول توضيحية
- مفاهيم و مصطلحات
- ملخص لكل درس
- أسئلة متنوعة بعد كل وحدة دراسية

تسمح للطالب بالمشاركة مع معلم الصف مشاركة جادة والحصول على أعلى العلامات .

إعداد و تأليف نخبة من الموجهين والمعلمين الاوائل

الموجه أ/ أمل فريج

الموجه أ/ أبو أحمد

أ/ فاطمة كامل

د/ أمينة عثمان

و بإشراف أساتذة مختصين لكل مادة علمية

ختاماً ولا ختام للنجاح كان ذلك نموذجاً مبسطاً لما أودعناه لكم من الحب والإحترام والترحيب والإكرام و نأمل أن يحقق هذا الكتاب الفائدة المرجوة للعملية التعليمية ولا نقول وداعاً ولكن نقول إلى لقاء متجدد بالتوفيق و النجاح .

تواصلوا معنا عبر

الواتسب: 67671228 – 67675564 الايميل: eltIk5esbooks@gmail.com

الانستجرام: eltI5es_books_kw

١

بلادي الكويت



يمكنك التواصل معنا علي إنستجرام

٤ مفهوم الدولة
٨ مساحة و حدود بلادي
١٢ أهمية موقع بلادي الكويت
١٥ بيئة بلادي الكويت
٢٢ تلخيص

الدرس الأول

مفهوم الدولة



مفاهيم

- **مفهوم الدولة** : هي مجموعة من الأفراد يعيشون على قطعة أرض محددة وتنظمهم سلطة.
- **عناصر الدولة** : أرض ، سلطة ، شعب.

س/ سلطات الدولة ؟

ثلاث هم :

- 1- **السلطة التشريعية** : ممثلة بمجلس الأمة وعدد أعضاء المجلس 50 عضو يتم انتخابهم كل أربع سنوات
- 2- **السلطة التنفيذية** : ممثلة بالحكومة ويستطيع الأمير أن يحل مجلس الأمة الكويتي وسن القوانين.
- 3- **السلطة القضائية** : ممثلة بالمحاكم ومجلس القضاء الأعلى وهي سلطة حرة.

- من خلال المحادثة استنتج العناصر المكونة للدولة واكتبها داخل الدائرة:



شعب



سلطة



أرض

الانشطة

النشاط الاول :



أنا من دولة الإمارات العربية المتحدة.



أنا من جمهورية لبنان.



أنا من دولة **الكويت**.



أنا من سلطنة عُمان.

النشاط الثاني :

1- اكتب بياناتك الشخصية (اسمك - عمرك - جنسيتك) على البطاقة المدينة «متروك للطالب»



السلطة



صاحب السمو أمير البلاد الرئيس الأعلى للدولة , وهو
رئيس السلطات الثلاث :

- السلطة التشريعية ممثلة بمجلس الأمة .
- السلطة التنفيذية ممثلة بالحكومة .
- السلطة القضائية ممثلة بالمحاكم .

النشاط الثالث :

1- لاحظ الصور التالية , ثم ضع الأسم المناسب أمام الصورة مستعيناً بما بين الأقواس
(السلطة التشريعية – السلطة التنفيذية – السلطة القضائية)

كتاب

السلطة التشريعية

السلطة القضائية

السلطة التنفيذية

2 - ظل العنصر الذي لا ينتمي إلي عناصر الدولة :



3- من صاحب السمو الأمير الحالي لدولة الكويت؟

صاحب السمو الأمير صباح الأحمد الجابر الصباح حفظه الله ورعاه

4- ابحث في محرك البحث الإلكتروني عن:

أ- تاريخ أول مجلس للأمة.

١٩٣٦ هـ

ب- عدد الدوائر الانتخابية في دولة الكويت حالياً.

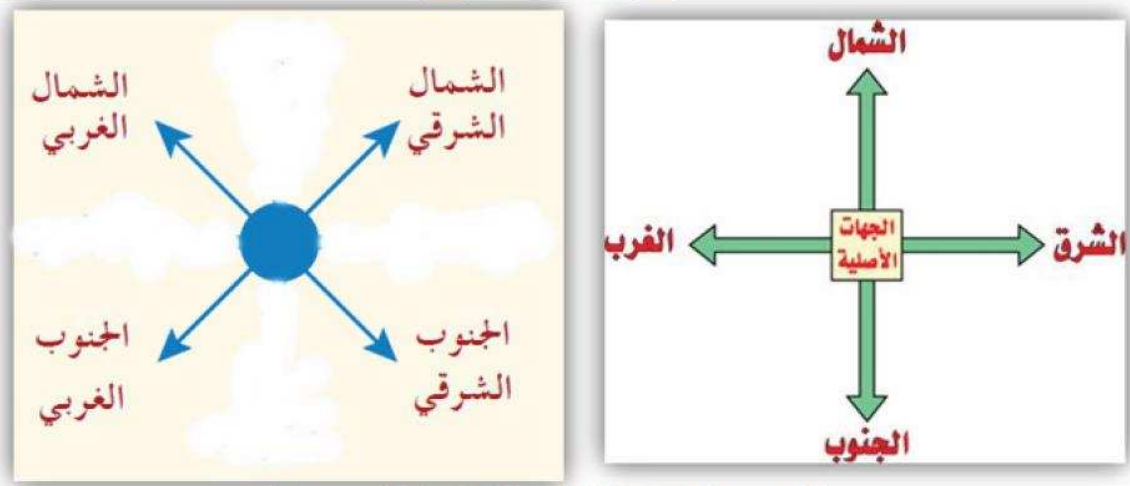
خمس دوائر

الدرس الثاني

مساحة و حدود بلادي

أولاً : الإتجاهات

- الإتجاهات الرئيسية
 - الإتجاهات الفرعية
- إتجاهات رئيسية وإتجاهات فرعية.
 الشمال ، الجنوب ، الشرق ، الغرب :
 شمال شرقي ، شمال غربي ، جنوب شرقي ، جنوب غربي :



أكل ما يحتاجه الطالب

- فائدة الإتجاهات : تعرفنا على موقع بلادي والبلاد الأخرى وتعرفنا إتجاه القبلة
- إتجاه القبلة : يقع في جنوبي غربي الكويت.
- تعريف الخريطة : هي عبارة عن تصوير خاص للأرض وما فيها بشكل كامل وبها معلومات جغرافية لكل دولة
- عناصر الخريطة : (عنوان الخريطة - مقياس الخريطة - إتجاه الشمال)

عناصر الخريطة



عزيزي المتعلم حتى تستطيع قراءة الخريطة وتحليلها يجب عليك أن تتعرف إلى عناصرها:



الانشطة

1- عدد عناصر الخريطة

اتجاه الشمال

مفتاح الخريطة

مقياس الخريطة

عنوان الخريطة

2- على خريطة العالم نفذ المطلوب منك



- 1- يقع الدب القطبي في اتجاه الشمال
- 2- يقع البطريق في اتجاه الجنوب
- 3- تشرق الشمس من جهة الشرق
- 4- تغرب الشمس من جهة الغرب

3- هيا بنا نلعب



- من أي جهة دخلت الجنوب
- ومن أي جهة خرجت الشمال

ثانياً : المساحة والحدود

- **تعريف الحدود** : هي الخطوط التي تفصل بين الدول.
- **تبلغ مساحة الكويت** 17,818 كم2 (وتعد من الدول صغيرة المساحة).
- **حدود الكويت** : من الشمال والشمال الغربي : **دولة العراق** ، من الجنوب والجنوب الغربي : **المملكة العربية السعودية** ، من الشرق : **الخليج العربي**.
- **تقع الكويت** في شمال شرق شبه الجزيرة العربية في أقصى شمال الخليج العربي.

1. **تعريف الخور** : لسان من الماء يمتد داخل الأرض

2. **جون الكويت** : يعتبر من أكبر الخيران في شمال الخليج العربي.

س / **مميزات سطح بلادي الكويت:**

1. سطح مستوي
2. ينحدر تدريجياً من الغرب للشرق
3. سهول رملية يتخللها بعض التلال
4. ساحل رملي منبسّط قليل التعاريف

معلومات تهمك

1. **الخور**: لسان بحري ممتد داخل الأرض.
2. **جون الكويت** يعتبر من أكبر الخيران في شمال الخليج العربي.



الانشطة


1- ظل المربع المقابل للعبارة الصحيحة:



ينحدر سطح بلادي الكويت من الغرب إلى الشرق.



سطح بلادي الكويت غير مستو.



يتكون سطح بلادي من جبال كثيرة.

2- اجمع المعادلة الحسابية لتسليخ مساحة دولة الكويت على أن تبدأ بالجهة اليسرى من الجدول:

من هنا
نبدأ ↓

٠	٢	٢	١	٣
٠	٣	٢	٠	٣
١	٢	٤	٠	٢
١	٧	٨	١	٨

■ إذا مساحة دولة الكويت

تبلغ ١٧,٨١٨ كم^٢

4- لاحظ خريطة دولة الكويت ونفذ المطلوب منك:



١- حدّد الاتجاهات الرئيسية الأربعة

على وطنك الكويت.

٢- مسطح مائي يحد دولة الكويت من

جهة الشرق يسمى...الخليج العربي..

٣- دولة تقع في جهة الشمال والشمال

الغربي لدولة الكويت...العراق.....

٤- دولة تقع في جهة الجنوب

والجنوب الغربي لدولة الكويت

المملكة العربية السعودية.

الدرس الثالث

أهمية موقع بلادي الكويت



س / أهمية موقع بلادي الكويت :

- (1) تحتل موقعاً متوسطاً بالنسبة للعالم.
 - (2) تمثل المعبر التجاري بين خطوط الملاحة البحرية والبرية قديماً.
 - (3) تقع في الجزء الشرقي للوطن العربي.
 - (4) تقع في الطرف الشمالي الغربي للخليج العربي.
 - (5) المنفذ الشمالي الشرقي لشبه الجزيرة العربية.
- o أضيف لمعلوماتك :
- 1 تقع الكويت شمال غرب الخليج العربي.
 - 2 وتقع في الشرق الأوسط من جنوب غرب قارة آسيا.

أهمية موقع بلادي الكويت

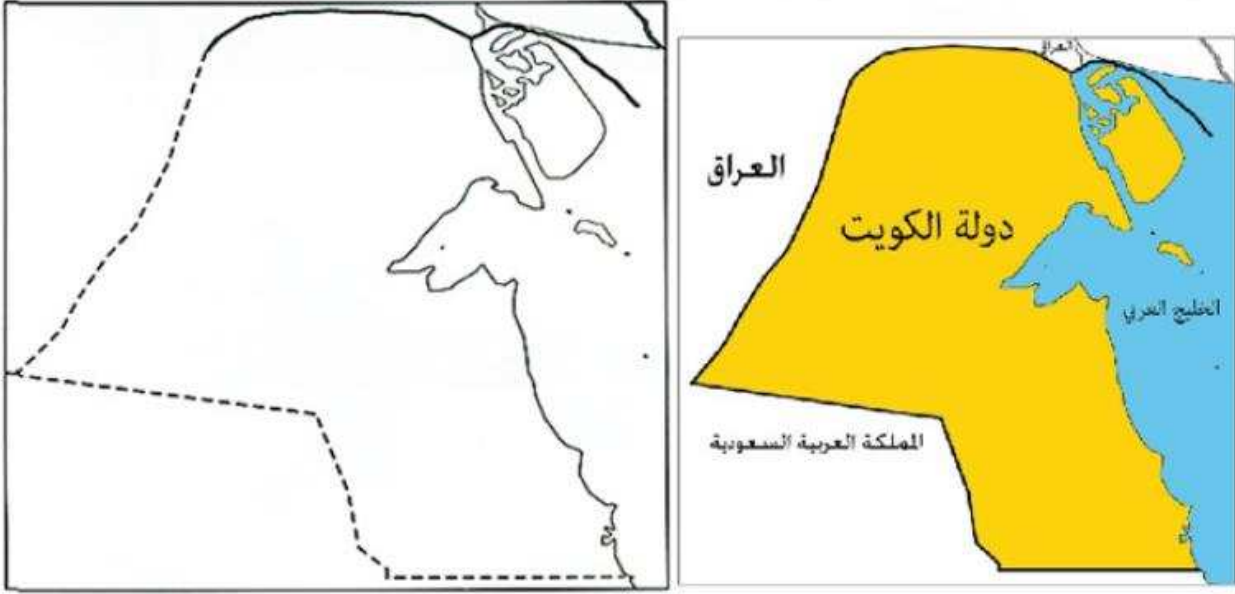


- شبه الجزيرة : مساحة من اليابس يحيط بها الماء من ثلاث جهات فقط

* عزيزي المتعلم لاحظ موقع وطنك الكويت بالنسبة للعالم، ثم أجب عما يأتي :

- ١ - هل دولة الكويت كبيرة المساحة بالنسبة للعالم؟ لا.....
- ٢ - أين تقع دولة الكويت بالنسبة للعالم؟ تقع دولة الكويت في وسط العالم.....

4- لاحظ خريطة دولة الكويت، ثم نفذ المطلوب منك:



◀ تتبع النقط وأكمل خريطة بلادك الكويت.

◀ لون خريطة وطنك الكويت محددًا عليها البيئة البحرية باللون الأزرق والبيئة البرية باللون الأصفر.

5 - علي خريطة دولة الكويت نفذ المطلوب منك :



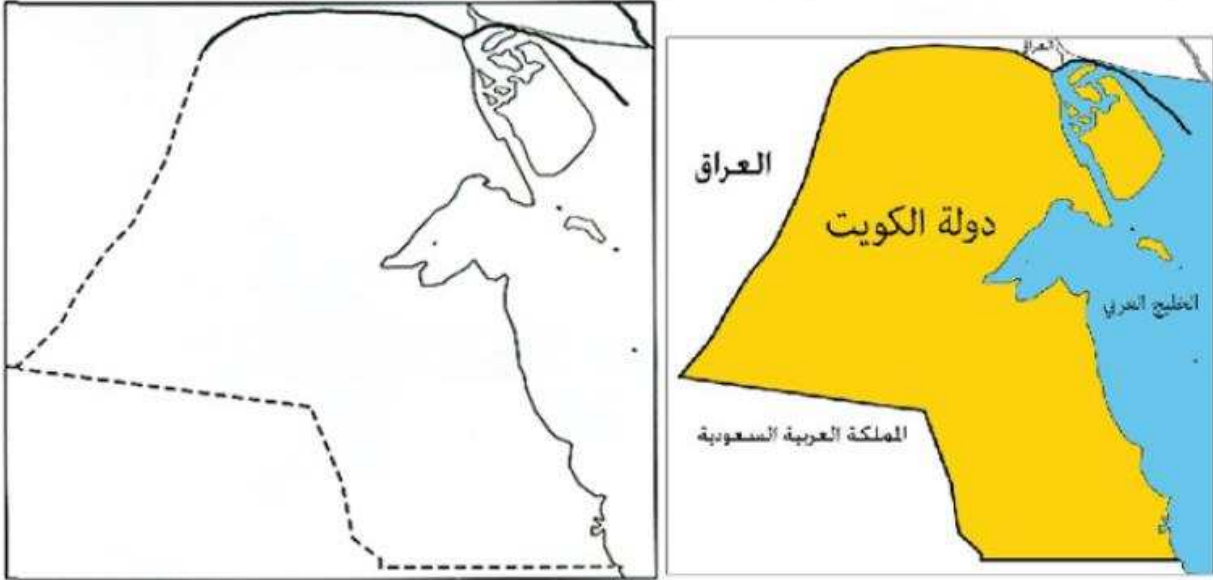
◀ ضع علامة (Δ) على مياه الخليج العربي.

- اكتب أسماء الدول المجاورة لدولة الكويت على الخريطة.

- ما الجهة التي تشرق منها الشمس
الشرق.....



4- لاحظ خريطة دولة الكويت، ثم نفذ المطلوب منك:



- ◀ تتبع النقط وأكمل خريطة بلادك الكويت.
- ◀ لَوْن خريطة وطنك الكويت محددًا عليها البيئة البحرية باللون الأزرق والبيئة البرية باللون الأصفر.

5 – علي خريطة دولة الكويت نفذ المطلوب منك :



- ◀ ضع علامة (△) على مياه الخليج العربي.
- اكتب أسماء الدول المجاورة لدولة الكويت على الخريطة.
- ما الجهة التي تشرق منها الشمس الشرق.....



الدرس الرابع

بيئة بلادي الكويت

أولاً : جزر بلادي الكويت

1. تعريف الجزيرة : قطعة من اليابس يحيط بها الماء من جميع الجهات.
2. كم جزيرة في الكويت : تسع جزر وأكبرها جزيرة بوبيان ، جزيرة فيلكا كانت مأهولة بالسكان.
3. تعريف الرأس : لسان من اليابس يمتد داخل الماء.
4. جزر الكويت : بوبيان ، فيلكا ، وربة ، كبر ، عوهه ، أم المرادم ، مسكان ، قاروه ، أم النمل
- تعتبر جزيرة أم النمل من الجزر التي تقع داخل جون الكويت وبالقرب من رأس عشيرج.
- تعد جزيرة كبر محمية طبيعية للطيور مثل طيور النورس.
5. جزر الكويت : بوبيان ، فيلكا ، وربة ، كبر ، عوهه ، أم المرادم ، مسكان ، قاروه ، أم النمل

الانشطة

1- شاهد هذه الصورة. ثم أكمل :



الجزيرة تعني قطعة من اليابس
تحيط بها المياه من جميع الجهات....

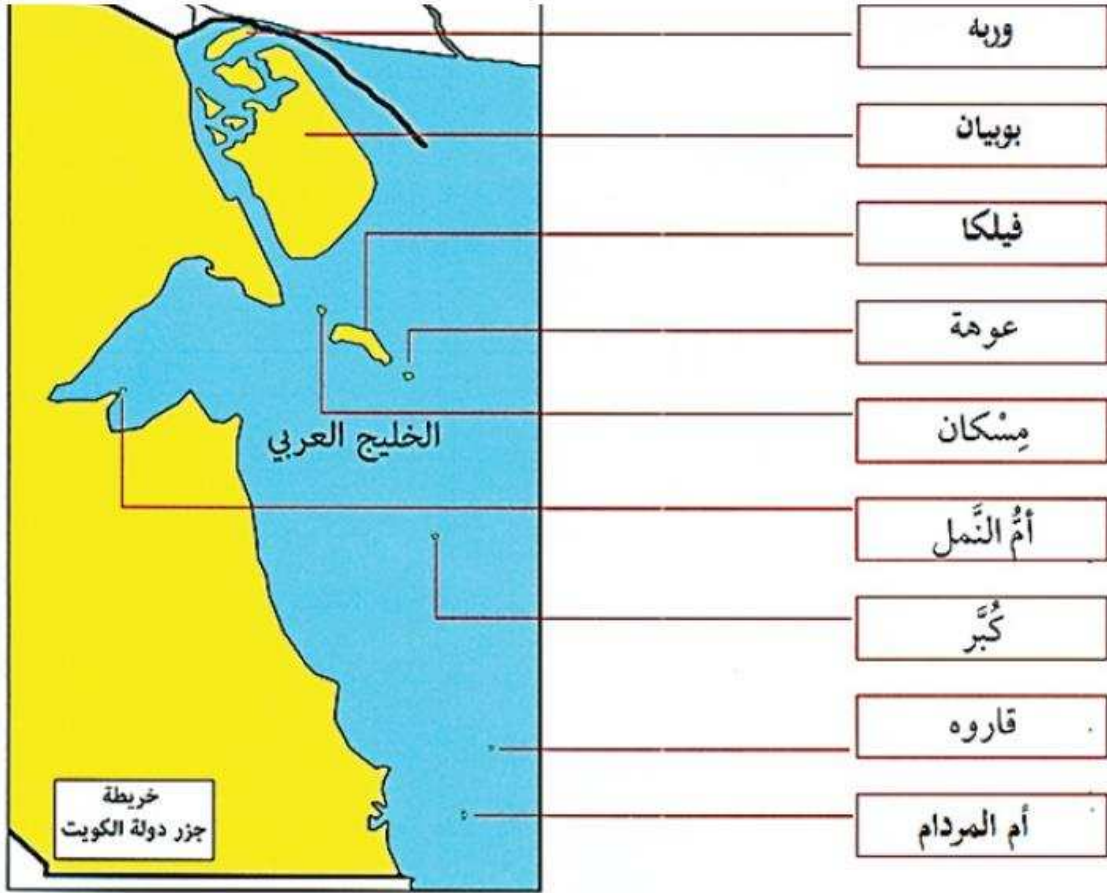
2- اكتب ثلاثة أسطر عن جزيرة كويتية. مستعيناً بالكلمات التالية: (الموقع – المساحة – أهم المميزات)

جزيرة فيلكا: موقعها : في الركن الشمالي الغربي من الخليج العربي.....

المساحة : أربعة وعشرون كيلو متر..... أهم مميزاتها : .. كانت مكتظة بالسكان.....

تضم العديد من المشروعات السياحية..... بها متاحف ومباني من حضارات سابقة.....

3- لاحظ خريطة دولة الكويت . ثم نفذ المطلوب منك:



أملأ المربعات الفارغة بأسماء الجزر الكويتية، وذلك بمساعدة معلّم الفصل:

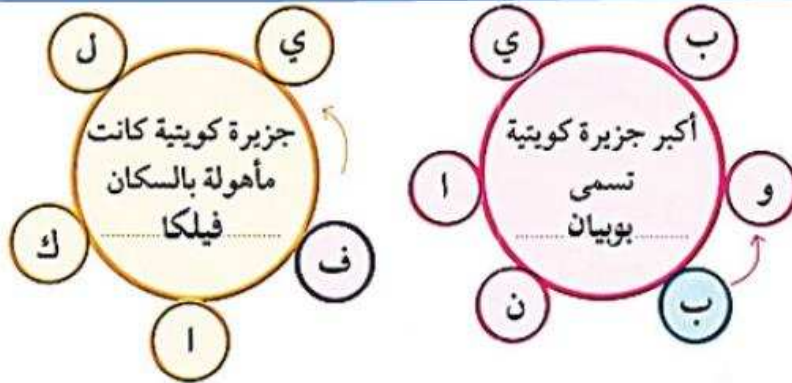
(.....تسع جزر.....)

عدد الجزر الكويتية

(.....أم النمل.....)

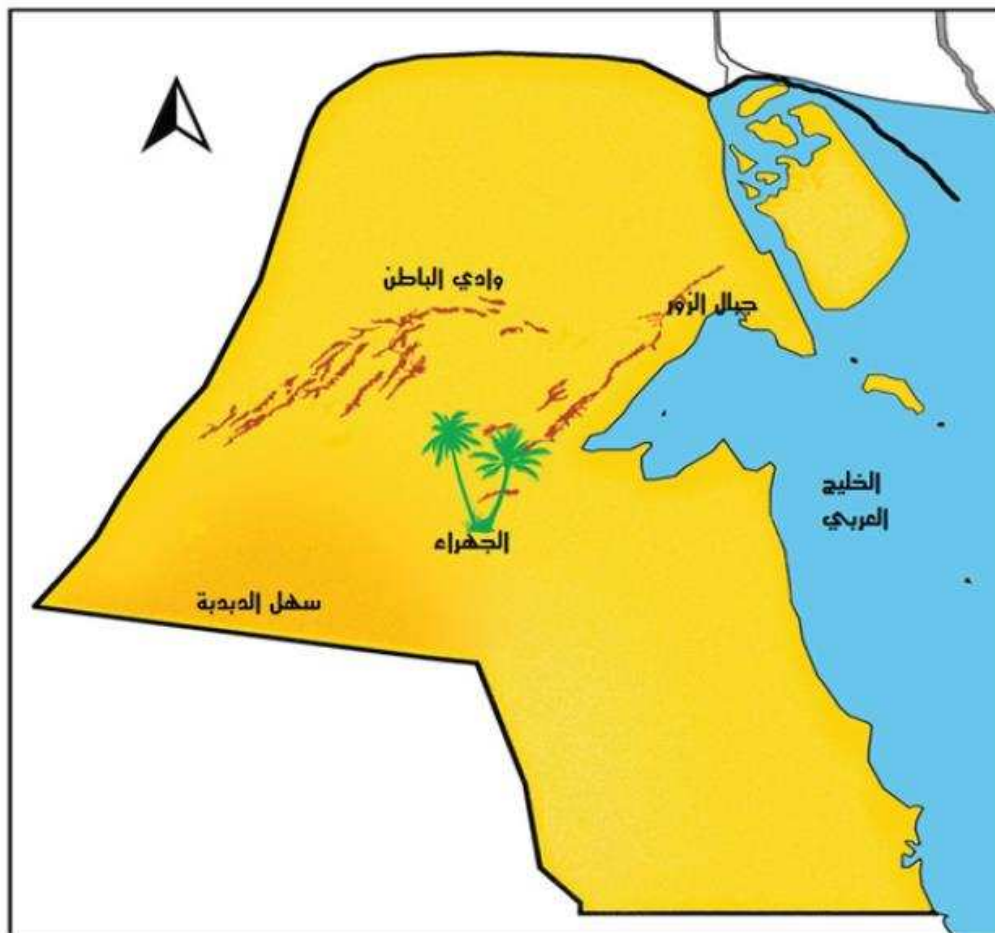
جزيرة كويتية داخل الجون

4- أكمل العبارات التالية مستعيناً بالأحرف المحيطة بالدائرة مبتدئاً باللون المختلف داخل الشكل:



ثانياً : تضاريس بلاد الكويت

1. تعريف التضاريس : هي وصف سطح الأرض من مرتفعات ومنخفضات.
 2. تعريف السهل : أرض مستوية المساحة وواسعة
 3. تعريف الوادي : منخفض طولي بين منطقتين مرتفعتين.
 4. تعريف التل : أرض مرتفعة قليلاً عن مستوى الأراضي المحيطة بها.
- س / أهم ما يميز تضاريس الكويت؟
ينحدر السطح تدريجياً من الغرب إلى الشرق ويوجد عدة أودية وسهول وتلال



س / أشهر السهول والأودية والتلال: (وادي الباطن ، سهل الدبدبة ، تلال جال الزور)





الانشطة

1- أكمل الفراغ:

سهل الكويت ← سهل الدببة

وادي الكويت ← وادي الباطن

2- اختر من المجموعة (أ) ما يرتبط بها من المجموعة (ب) بوضع الرقم المناسب:

المجموعة (ب)	الرقم المناسب	المجموعة (أ)
المظهر التضاريسي		الاسم
	4	١ - خور
	3	٢ - جزيرة
	2	٣ - تلال
	1	٤ - وادي

3- من خلال محرك البحث قوقل، اكتب أسماء اثنين من أشكال التضاريس في دولة الكويت، ثم ألق صورة لكل منهما:



٢- جزيرة كبر وتعتبر محمية طبيعية للطيور



١- وادي الباطن

ثالثاً: مناخ بلادي الكويت

1. تعريف الطقس : هو حالة الجو خلال فترة قصيرة من يوم إلى أسبوع وهو متغير وغير ثابت.
2. تعريف المناخ : حالة الجو خلال فترة زمنية طويلة لا تقل عن ثلاثين عاماً.
3. طبيعة مناخ الكويت : حار جاف صيفاً بارد شتاءً قليل الأمطار (مناخ صحراوي جاف)
4. الفصول الأربعة : (شتاء / ربيع / صيف / خريف)، تنتج نتيجة دوران الأرض حول الشمس مرة كل سنة.

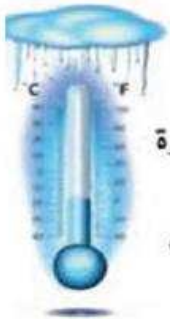


الانشطة

1- من خلال قراءةك للحوار السابق، أكمل الجمل التالية بما يناسبها:

مناخ وطني الكويت مناخ صحراوي جاف (حار...جاف...صيفاً بار...شتاءً قليل الأمطار

الفصول الأربعة



تنخفض درجة الحرارة

في دولة الكويت في فصل

الشتاء



ترتفع درجة الحرارة

في دولة الكويت في فصل

الصيف

تلخيص (1)

السؤال الأول: أكمل الفراغات التالية بما يناسبها:
1- ما هي العناصر المكونة للدولة؟



2- اذكر أسماء السلطات في دولة الكويت:



3- من هو الرئيس الأعلى لدولة الكويت؟ صاحب السمو أمير البلاد

• عرف مفهوم الدولة: هي مجموعة من الأفراد يعيشون على قطعة أرض محددة وتنظمهم سلطة.

4- السلطة التشريعية ممثلة بمجلس الأمة والسلطة التنفيذية ممثلة بالحكومة والسلطة القضائية ممثلة بالمحاكم.

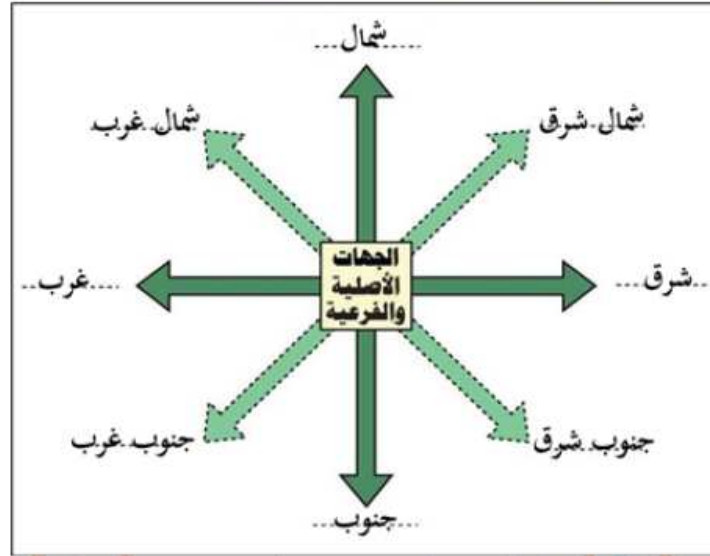
السؤال الثاني: اختر الإجابة الصحيحة:

1. تاريخ أول مجلس للأمة في تاريخ.....يناير 1963 (23 - 24 - 22)
2. عدد الدوائر الانتخابية الحالية في دولة الكويت حالياً. (5 - 6 - 7)

تلخيص (2)

السؤال الأول: اكمل الفراغات التالية بما يناسبها:

1- حدد الجهات الأصلية والفرعية على المخطط التالي:



2- عدد عناصر الخريطة:



3- ما الفائدة من الإتجاهات؟
تعرفنا على موقع بلادى والبلاد الأخرى وتعرفنا إتجاه القبلة كم 2

السؤال الثاني: اختر الإجابة الصحيحة:

1. يقع إتجاه القبلة في (جنوبي غرب - الجنوب - الشرق - الغرب)
2. تعريف الخريطة هي عبارة عن تصوير خاص ل..... وما فيها بشكل كامل وبها معلومات جغرافية لكل دولة. (الأرض - الشمس - القمر)
3. تشرق الشمس من إتجاه.... (الشرق - الجنوب)
4. تغرب الشمس من إتجاه.... (الغرب - الشمال)

تلخيص (3)

السؤال الأول:

س / أهمية موقع بلادي الكويت :

1. تحتل موقعاً متوسطاً بالنسبة للعالم.
2. تمثل المعبر التجاري بين خطوط الملاحة البحرية والبرية قديماً.
3. تقع في الجزء الشرقي للوطن العربي.
4. تقع في الطرف الشمالي الغربي للخليج العربي.
5. المنفذ الشمالي الشرقي لشبه الجزيرة العربية.



السؤال الثاني:

س / اكمل الفراغات التالية بما يناسبها:

- 1 تبلغ مساحة دولة الكويت 17.818 كم²
- 2 يعتبر جون الكويت من أكبر الخيران في شمال الخليج العربي.
- 3 من مميزات سطح دولة الكويت:



لكل ما يحتاجه الطالب

- 4 عرفي الخور: لسان بحري ممتد داخل الأرض.



تلخيص (4)

السؤال الأول : أكمل الإجابة الصحيحة:

1. تقع الكويت شمال غرب الخليج العربي.
2. وتقع في الشرق الأوسط من جنوب غرب قارة آسيا.
3. تعتبر دولة الكويت ذات مساحة صغيرة بالنسبة للعالم.
4. تقع دوله الكويت في الشرق في موقع متوسط بالنسبة للعالم.
5. الأهمية التجارية لدولة الكويت قديماً: تتميز بالموقع الجغرافي الحيد بين دول العالم حتى أصبحت طققة وصل، تعتبر معبر بين خطوط الملاحة البحرية والجوية. برعوا في تجارة العبور إعادة التصدير. امتلكوا اسطور تجاري كبير/ بضائع مختلفة ومتنوعة.
6. تعريف الحدود: هي الخطوط التي تفصل بين الدول.

السؤال الثاني: حددي على خريطة دولة الكويت الصماء التي أمامك ما يلي:

- 1- دوله تحد دولة الكويت من جهة الشمال والشمال الغربي. (العراق)
- 2- دولة تحد دولة الكويت من جهة الجنوب والجنوب الغربي. (المملكة العربية السعودية)
- 3- المسطح المائي الذي تطل عليه دولة الكويت. (الخليج العربي)



تلخيص (5)

أكمل الفراغات التالية بما يناسبها:

- 1- عدد الجزر الكويتية تسع جزر
- 2- أكبر الجزر الكويتية مساحة هي جزيرة بوبيان.
- 3- الجزيرة الكويتية التي كانت مأهولة بالسكان هي جزيرة فيلكا.
- 4- من الجزر التي تقع داخل جون الكويت هي جزيرة أم النمل.
- 5- الجزيرة تعني قطعة من اليابس يحيط بها الماء من جميع الجهات.
- 6- الرأس هو: لسان من اليابس يمتد داخل الماء
- تعد جزيرة كُبر محمية طبيعية للطيور مثل طيور النورس.

و تمتلك دولة الكويت العديد من الجزر و يبلغ عددها 9 جزر



تلخيص (6)

السؤال الأول : فرق بين كل من الطقس والمناخ:


المناخ	الطقس
حالة الجو خلال فترة زمنية طويلة لا تقل عن ثلاثين عاماً.	هو حالة الجو خلال فترة قصيرة من يوم إلى أسبوع وهو متغير وغير ثابت.

- 1- تدور الأرض حول الشمس مره واحده كل سنه.
- 2- الفصول الأربعة هي الشتاء و الربيع و الصيف و الخريف.
- 3- مناخ دولة الكويت مناخ صحراوي جاف.
- 4- ترتفع درجة حرارة دولة الكويت في فصل الصيف.
- 5- تنخفض درجة الحرارة في دولة الكويت في فصل الشتاء.

تلخيص (7)

أكمل الفراغات التالية بما يناسبها:

- 1- ينحدر سطح دولة الكويت تدريجياً من الغرب إلى الشرق.
- 2- من المظاهر التضاريسية في دولة الكويت:



....التل....



..الوادي..



...السهل...

عرفي كل من :-

1. التضاريس: هي وصف سطح الأرض من مرتفعات ومنخفضات.
2. السهل: أرض مستوية المساحة وواسعة.
3. الوادي: منخفض طولي بين منطقتين مرتفعتين.
4. التل: أرض مرتفعة قليلاً عن مستوى الأراضي المحيطة بها.