

تم تحميل هذا الملف من موقع ملفات الكويت التعليمية



[com.kwedufiles.www//:https](https://www.kwedufiles.com)

\*للحصول على أوراق عمل لجميع الصفوف وجميع المواد اضغط هنا

\* للحصول على أوراق عمل لجميع مواد الصف الخامس اضغط هنا

<https://kwedufiles.com/5>

\* للحصول على جميع أوراق الصف الخامس في مادة اجتماعيات وجميع الفصول, اضغط هنا

<https://kwedufiles.com/5social>

\* للحصول على أوراق عمل لجميع مواد الصف الخامس في مادة اجتماعيات الخاصة بـ الفصل الأول اضغط هنا

<https://www.kwedufiles.com/5social1>

\* لتحميل كتب جميع المواد في جميع الفصول للصف الخامس اضغط هنا

<https://www.kwedufiles.com/grade5>

[bot\\_kwlinks/me.t//:https](https://t.me/bot_kwlinks)

للحصول على جميع روابط الصفوف على تلغرام وفيسبوك من قنوات وصفحات: اضغط هنا

الروابط التالية هي روابط الصف الخامس على مواقع التواصل الاجتماعي

مجموعة الفيسبوك

صفحة الفيسبوك

مجموعة التلغرام

بوت التلغرام

قناة التلغرام

رياضيات على التلغرام



\*\*\*\*\*

أجب عن جميع الأسئلة التالية :السؤال الأول : يتكون من ( أ - ب - ج - د - هـ ) :( أ ) اختر البديل المناسب من بين البدائل التي تلي كل عبارة :

١- نسبة ما تغطيه المياه من سطح الكرة الأرضية تبلغ حوالي : ص ١٧

( ٥٠% - ٦٠% - ٧٠% - ٨٠% )

٢- تم حفر بئر بحره النفطي عام ١٩٣٦م في عهد الشيخ : ص ٥٩

( مبارك الصباح - أحمد الجابر الصباح - عبدالله السالم الصباح - صباح السالم الصباح )

٣- يبلغ عدد قارات العالم : ص ٢١

( ٧ - ٨ - ٩ - ١٠ )

٤- مصدر من مصادر الطاقة المتجددة : ص ٧٣

( الفحم - النفط - الغاز الطبيعي - الرياح )

٥- تقع بلادي الكويت في قارة : ص ٢١

( آسيا - أفريقيا - استراليا - أوروبا )

( ب ) أكمل العبارات التالية مستعينا مما بين القوسين :

( ١٩٣٨م - القناة - التدوير - العرفج - ترشيد الاستهلاك - الخزامى - المضيق - ١٩٤٦م )

١- منفذ أو ممر ضيق من الماء يفصل بين مسطحين مائيين يسمى المضيق ص ٢٤٢- من أهم خطواته فرز النفايات حسب نوعها إما زجاج أو بلاستيك أو ورق يسمى التدوير ص ٦٤٣- أهم النباتات المعمرة ( الدائمة ) في دولة الكويت تسمى العرفج ص ٤٢٤- ممر مائي صناعي يشق للربط ما بين مسطحين مائيين يسمى القناة ص ٢٨

٥- تم تصدير أول شحنة نفط في الكويت عام ١٩٤٦م ص ٥٩

( ج ) ضع علامة (√) أو (x) أمام كل عبارة :

١- القارة هي مساحة كبيرة من اليابسة يحيط بها الماء ص ٢١ ( √ )

٢- سُميت دول الخليج العربية بهذا الاسم لأنها تطل على بحر العرب ص ٢٣ ( x )

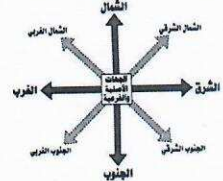




٣- يبلغ عدد دول الوطن العربي ٢٢ دولة ص ٢٦ ( √ )

٤- تعتبر النباتات والأسماك من الموارد غير الحية ص ٣٨ ( x )

٥- من أشهر المحميات في دولة الكويت محمية صباح الأحمد الطبيعية ص ٤٥ ( √ )

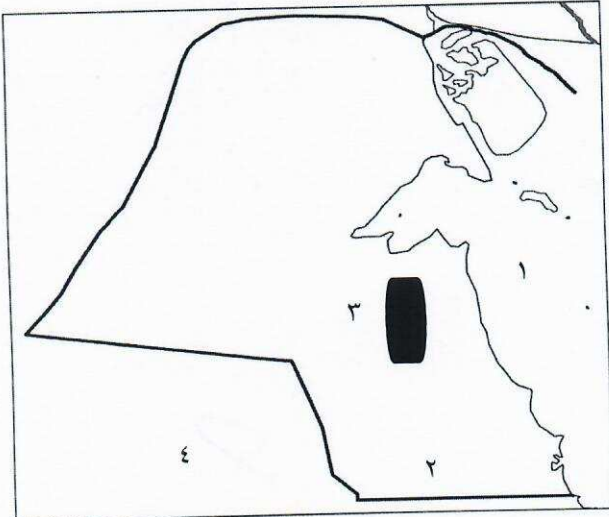


( د ) صل المجموعة (أ) بما يناسبها بالمجموعة (ب) بوضع الرقم المناسب:

المجموعة (ب)	الرقم	المجموعة (أ)
الثروة النفطية ص ٥٥	٤	
الطاقة الشمسية ص ٧٤	٥	
الجهات الاصلية والفرعية ص ٢٣	١	
وزارة الكهرباء والماء ص ٦٥	٣	
الثروة السمكية ص ٥٣	٢	

ص ٥١ ص ٦٠

( هـ ) لاحظ خريطة دولة الكويت ثم أجب عن الأسئلة التي تليها:



- الرقم (١) يمثل مسطح مائي يسمى الخليج العربي
- الرقم (٢) يمثل منطقة لتربية الثروة الحيوانية تسمى الوفرة
- الرقم (٣) يمثل حقل نفطي يسمى برقان
- الرقم (٤) يمثل دوله خليجية عربيه تسمى المملكة العربية السعودية

السؤال الثاني: يتكون من ( أ - ب ) :

( أ ) عدد كل من :

١- خصائص الغاز الطبيعي . ص ٧٨ يكتفي بنقطتين ( درجتان )

\* آمن جداً و صديق للبيئة \* أكثر أنواع الطاقة استخداماً

\* يعد من الغازات غير السامة \* ليس له رائحة ولا لون

٢- استخدامات النفط كمصدر أساسي للطاقة. ص ٥٥ يكتفي بنقطتين ( درجتان )

( ما يراه المصحح مناسب )

\* يستخدم في الإضاءة والتدفئة \* يدخل في الصناعات الكيماوية

\* يستخدم مشتقاته البنزين والكيروسين في تشغيل المصانع وتحريك السيارات ووسائل النقل المختلفة

( ما يراه المصحح مناسب )

( ب ) ما الفرق بين كل من : ٤ درجات

النباتات المعمرة ( الدائمة )	النباتات الحولية ( الموسمية ) ص ٤٢
هي نباتات تنمو طول العام وجذورها عميقة تساعدها على الاستفادة من الماء مثل ( العرفج - الرمث )	هي حشائش تنبت بعد سقوط الأمطار وتموت بسرعة مثل ( الربلة - الخزامى )
المحيط	البحر ص ١٩
مسطح كبير جداً من الماء المالح	مسطح مائي أصغر من المحيط يفصل بين القارات

السؤال الثالث : يتكون من ( أ - ب ) :

( أ ) أجب عن الأسئلة التالية :

١- ما هي السمات المشتركة التي تجمع بين دول الوطن العربي؟ يكتفي بنقطتين (درجتان)

- الدين الإسلامي
- اللغة العربية
- التراث
- \* التاريخ
- \* الأهداف المشتركة

٢- ما أهمية النباتات الطبيعية؟ يكتفي بنقطتين (درجتان) ص ٤٢

- يستفاد منها في رعي الحيوانات .
- الحصول علي الأخشاب والوقود .
- صناعة الأدوية والصابون

( ب ) لاحظ الصورة المقابلة ثم أجب عن الأسئلة التالية :

١- ما هي أنواع الأسماك في مياه الخليج العربي؟ يكتفي بنقطتين (درجتان) ص ٥٣

- الزبيدي ( ما يراه المصحح مناسب )

-الهامور

- الميد

- الشعم

- الربيان

٢- ما أدوات الصيد القديمة التي استخدمها الكويتيون لصيد الأسماك؟ يكتفي بنقطتين (درجتان)

( ما يراه المصحح مناسب )

- الحضرة

- القرقور

- الشباك

