

تم تحميل هذا الملف من موقع المناهج الكويتية



الملف نماذج اختبارات التحصيلي الأول

موقع المناهج ← المناهج الكويتية ← الصف الأول ← رياضيات ← الفصل الأول

روابط مواقع التواصل الاجتماعي بحسب الصف الأول



روابط مواد الصف الأول على تلغرام

[الرياضيات](#)

[اللغة الانجليزية](#)

[اللغة العربية](#)

[التربية الاسلامية](#)

المزيد من الملفات بحسب الصف الأول والمادة رياضيات في الفصل الأول

تدريبات على كتابة الاعداد من 1 وحتى 10 في مادة الرياضيات	1
التصنيف وفق خاصية واحدة في مادة الرياضيات	2
اوراق عمل في مادة الرياضيات	3
تحضير درس الانماط في مادة الرياضيات	4
تحضير درس التطابق في مادة الرياضيات	5

الاختبار التحصيلي الأول

للمصف الأول

الفصل الدراسي الأول 2023 / 2024

بنود الاختبار	توزيع درجات الاختبار		درجة الاختبار	مدة الاختبار	موعد الاختبار
الوحدة الثانية + الوحدة الثالثة	مقال ١٥	موضوعي ٥	٢٠ درجة	حصة دراسية	الأسبوع ٧

إشراف الوجيه الفني : أ.هما العنزي

أختبر نفسك




أضف

السؤال الأول : اكتب رمز العدد



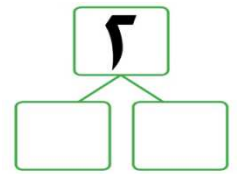
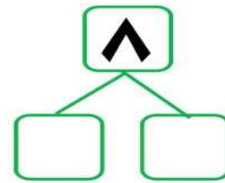

موقع
المنهج الكويتية
almanahj.com/kw








السؤال الثاني : أكمل



السؤال الثالث :

(٢) استكمل رسم العناصر بحسب العدد الموضح رمزه



(١) قارن.
اكتب رمز العلاقة المناسب < أو > أو =

- ٤ ○ ٢
٠ ○ ١
٩ ○ ٣

السؤال الرابع :

(١) صل كل مجموعة برمز العدد المناسب




٣

٤


٥

٦


موقع
المنهج الكويتية
almanahj.com/kw



(٢) حوّل رمز العدد المناسب



١٢ ١١ ١٠



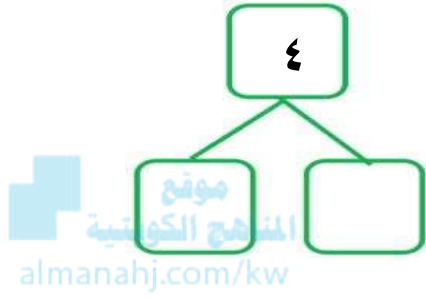
٩ ٨ ٦

-انتهت الأسئلة -

الإدارة العامة للتعليم الخاص - توجيه الرياضيات

السؤال الأول:

(٢) أكمل



(١) أكتب رمز العدد







السؤال الثاني:

(١) قارن. اكتب رمز العلاقة المناسب < أو > أو =

٨ ○ ٨

٠ ○ ٧

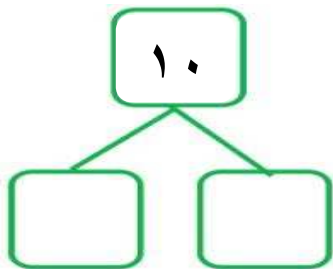
١٠ ○ ٦

(٢) أكمل



السؤال الثالث:

(٢) أكمل





(١) استكمل رسم العناصر

بحسب العدد الموضح رمزه



السؤال الرابع :

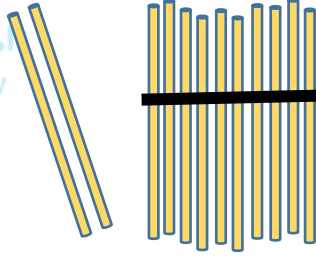


(١) لون ٣



(٢) لون ٥

موقع
لناهج الكويتية
almanahj.com/kw



(٣) حوٲ رمز العدد الممثل

١٠

١٢

١١



(٤) حوٲ رمز العدد المناسب

٧

٨

٩

هيا نساعدها في تحويٲ المزهريه المناسبه



في




٧

وضعت ليلي

٩

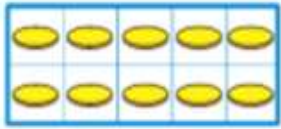
(٥)



-انتهت الأسئلة -

الإدارة العامة للتعليم الخاص - توجيه الرياضيات

السؤال الأول : اكتب رمز العدد




موقع
المنهج الكويتي
almanahj.com/kw

١٢



١١

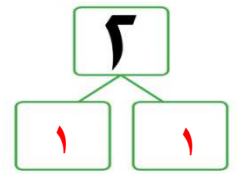
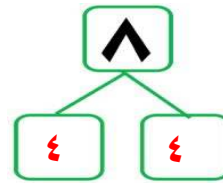



٥



٣

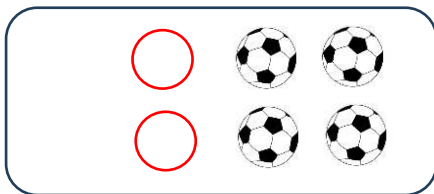
السؤال الثاني : أكمل



تقبل جميع مكونات العدد

السؤال الثالث :

(٢) استكمل رسم العناصر بحسب العدد الموضح رمزه



٦

(١) قارن.

اكتب رمز العلاقة المناسب < أو > أو =

٤ > ٢

٠ < ١

٩ > ٣

السؤال الرابع :




(١) صل كل مجموعة برمز العدد المناسب

٣

٤


٥

٦



موقع
المنهج الكويتية
almanahi.com/kw

(٢) حوّل رمز العدد المناسب



١٢ ١١ ١٠

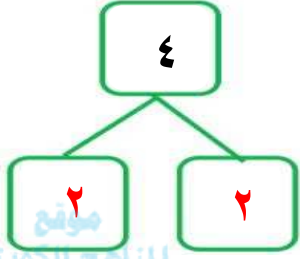
٩ ٨ ٦

-انتهت الأسئلة -

الإدارة العامة للتعليم الخاص - توجيه الرياضيات

السؤال الأول :

(٢) أكمل



تقبل جميع مكونات العدد

(١) أكتب رمز العدد

٥

٣

١



السؤال الثاني :

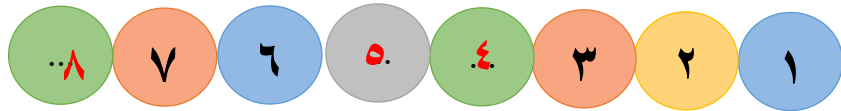
(١) قارن. اكتب رمز العلاقة المناسب < أو > أو =

٨ = ٨

٠ < ٧

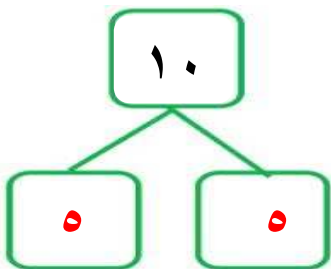
١٠ > ٦

(٢) أكمل



السؤال الثالث :

(٢) أكمل



تقبل جميع مكونات العدد

(١) استكمل رسم العناصر
بحسب العدد الموضح رمزه



٧

السؤال الرابع :

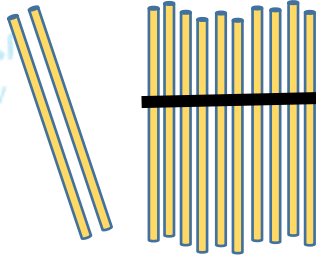


(١) لون ٣



(٢) لون ٥

موقع
المنهج الكويتية
almanahj.com/kw




(٢) حوط رمز العدد الممثل

١٠

١٢

١١



(٣) حوط رمز العدد المناسب

٧

٨

٩

هيا نساعدها في تحويط المزهريّة المناسبة




في



٧

(٤) وضعت ليلي



-انتهت الأسئلة -

الإدارة العامة للتعليم الخاص - توجيه الرياضيات