

تم تحميل هذا الملف من موقع المناهج الكويتية



منطقة مبارك الكبير التعليمية

الملف نموذج إجابة اختبار منطقة مبارك الكبير التعليمية

موقع المناهج ← المناهج الكويتية ← الصف السابع ← اجتماعيات ← الفصل الثاني

روابط مواقع التواصل الاجتماعي بحسب الصف السابع



روابط مواد الصف السابع على تلغرام

[الرياضيات](#)

[اللغة الانجليزية](#)

[اللغة العربية](#)

[التربية الاسلامية](#)

المزيد من الملفات بحسب الصف السابع والمادة اجتماعيات في الفصل الثاني

مذكرة موضوعية محلولة	1
حل الكتاب	2
حل الوحدة الرابعة في مادة الاجتماعيات	3
بنك اسئلة التربية سابع	4
مراجعات الصف السابع	5



موقع
المنهج الكويتية
almanahj.com/kw

نموذج الايجابية

الإدارة العامة لمنطقة مبارك الكبير التعليمية



وزارة التربية
ارة العامة لمنطقة مبارك الكبير التعليمية
التوجيه الفني للاجتماعيات

امتحان نهاية الفترة الدراسية الثانية
مقرر/ الكويت و الوطن العربي
للفص السابع المتوسط

العام الدراسي: ٢٠٢٣ / ٢٠٢٤ م
الزمن : ساعة ٤٥ دقيقة
عدد الاوراق : ٦

السؤال الأول (موضوعي) : يتكون من (أ - ب - ج - د - هـ - و) : (لكل نقطة درجة)

(أ) ضع خطأ تحت الخيار الصحيح من بين الخيارات التي تلي كل عبارة مما يأتي :

١- النسبة التي يمثلها القطاع الزراعي من الاقتصاد العربي : ص ١١٠

٣٠٪ - ٤٠٪ - ٥٠٪ - ٦٠٪

٢- عدد الدول الذي يتألف منه الوطن العربي : ص ٩٩

٢٠ - ٢١ - ٢٢ - ٢٣

٣- من مقومات الصناعة البشرية في الوطن العربي : ص ١٣٩

المواد الخام - الطاقة - الأيدي العاملة - البترول

٤- عدد دول مجلس التعاون الخليجي : ص ١٨١

٦ - ٧ - ٨ - ٩

٥- الأمير الذي استضافت الكويت في عهده القمة العربية الاقتصادية والتنمية والاجتماعية : ص ١٨٦

الشيخ صباح السالم - الشيخ جابر الأحمد - الشيخ سعد العبدالله - الشيخ صباح الأحمد

(ب) أكمل العبارات التالية بما يناسبها :

١- الدولة التي استضافت المؤتمر الدولي الأول لمانحي سوريا في عام ٢٠١٣ اسمها الكويت . ص ١٨٨

٢- أهم المزروعات في الوطن العربي تسمى الحبوب الغذائية . ص ١١٣

٣- العام الذي عُقد به مؤتمر (قمة الأرض) لمواجهة التلوث في البرازيل ١٩٩٢ م. ص ١٦٧

٤- المنظمة العربية التي تضم جميع الدول العربية تسمى جامعة الدول العربية . ص ١٧٨

٥- العام الذي تم به إنشاء الصندوق الكويتي للتنمية الاقتصادية العربية ١٩٦١ م. ص ١٨٤





(ج) صنف الصناعات التالية حسب الجدول التالي :

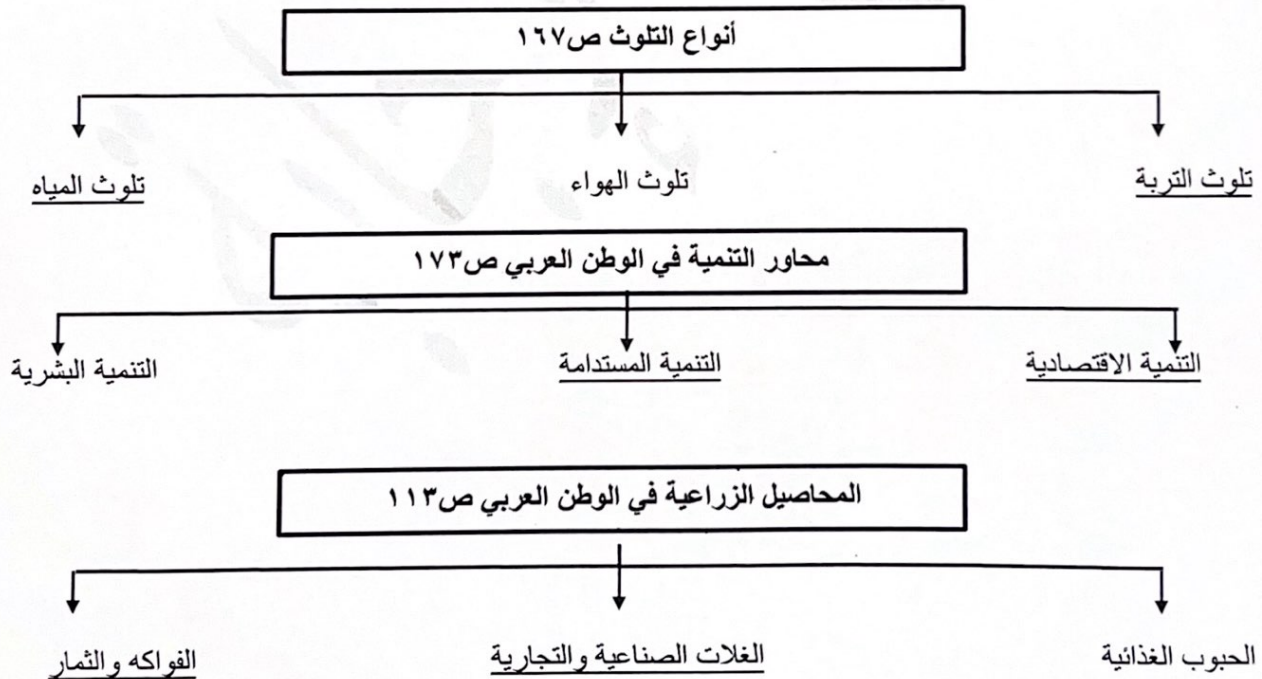
(الفحم - صناعة المنسوجات - الصناعات الغذائية - النفط)

الصناعات التحويلية	الصناعات الاستخراجية
صناعة المنسوجات ص ١٤٢	النفط ص ١٤١
الصناعة الغذائية ص ١٤٢	الفحم ص ١٤١

(د) صحح ما تحته خط في العبارات التالية وذلك بكتابة التصويب في المكان المناسب :

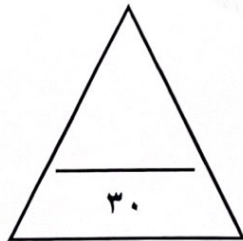
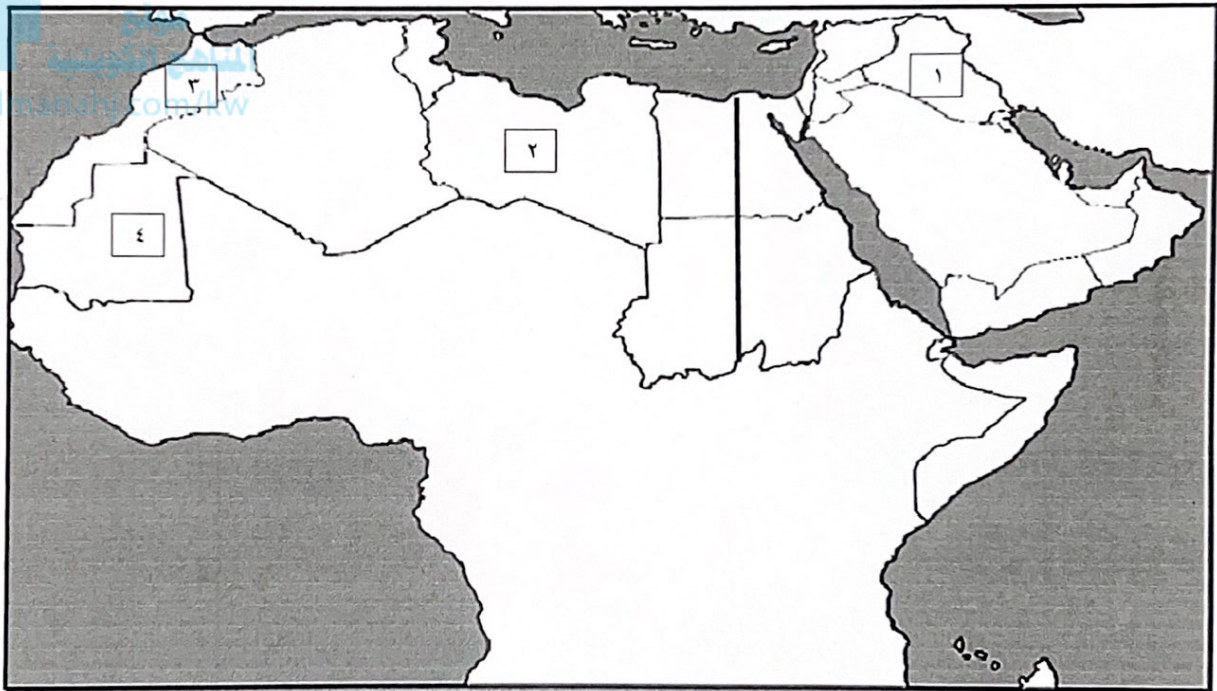
التصويب	العبرة
مصر ص ١٠٠	أكثر دولة عربية من حيث عدد السكان اسمها تونس
٨٨٪ ص ١٢٨	ينتج الجناح الآسيوي في الوطن العربي من النفط نسبة ١٢٪
التصحّر ص ١٦٢	يطلق على زحف رمال الصحراء على المناطق الجافة وشبه الجافة التلوث
التنمية المستدامة ص ١٧٥	يطلق على برامج تحسين نوعية الحياة ولا تتحقق إلا بمشاركة جميع المواطنين التنمية البشرية
عبدالله المسالم ص ١٨٤	تأسس الصندوق الكويتي للتنمية الاقتصادية العربية في عهد الشيخ جابر الأحمد
غزة ص ١٨٦	كانت أولوية القمة الاقتصادية العربية بعد الغزو الإسرائيلي الغاشم لإعادة تعمير قطاع الضفة الغربية

(هـ) أكمل المخططات السهمية التالية:



(و) لاحظ خريطة الوطن العربي الصماء من ثم نفذ ما هو مطلوب منك :

- الدولة التي تحتل المرتبة الأولى عربياً في إنتاج معدن الحديد يمثلها على الخريطة رقم ٤ ص ١٣٢
- الدولة التي يقع فيها نهر دجلة والفرات يمثلها على الخريطة رقم ١ ص ١٤٩
- الدولة التي تصدر الدول العربية في إنتاج معادن (الفوسفات-النحاس-الرصاص-المنجنيز) يمثلها على الخريطة رقم ٣ ص ١٣٢
- أرسم نهر النيل على الخريطة باستخدام الشكل ص ١٤٩



السؤال الثاني (المقالى) يتكون من (أ - ب - ج) :

(أ) علل لما يأتي :

- ١- تحتل الأغنام العربية مكاناً مهماً ضمن الثروة الرعوية . (درجتين ويكتفي بنقطتين) ص ١١٨
 - الأكثر انتشاراً في المراعي العربية
 - أكثر الحيوانات المستأنسة والملائمة لمراعي الوطن العربي وذلك لتحملها الجفاف والانتقال
 - لأهمية منتجاتها بالنسبة للسكان
 - لأنها مصدر أساسي من مصادر الثروة القومية
- ٢- تدني وفرة المياه في الوطن العربي . (درجتين ويكتفي بنقطتين) ص ١٦٤
 - النمو السريع للسكان الذي يشكل ضغطاً متزايداً على المياه المتوفرة لكل فرد
 - ٥٠٪ من الموارد المائية في العالم العربي تأتي من خارج حدوده ، و تتحكم فيها دول المنبع في غياب تشريعات دولية تضمن حقوقنا .
 - الطرق التقليدية المستخدمة في استغلال المياه في معظم مناطق العالم العربي مسؤولة عن تدني نسبة المياه (استخدام الري بالغمر و الاستهلاك غير المسؤول في مجالات المياه) .
 - الشبكات المؤهلة لنقل المياه شبكات قديمة
 - افتقار الدول العربية إلى برامج لإدارة المياه كما أنها لا تستخدم الأدوات الاقتصادية اللازمة
 - لترشيد الاستخدام المتزايد من المياه

(ب) فرق بين كل مما يلي من حيث التعريف :

الموارد البشرية ص ١٠٩ (درجة)	الموارد الطبيعية ص ١٠٩ (درجة)
الموارد البشرية هي التي ترتبط بالسكان من حيث أعدادهم وتوزيعهم ومناسبة أعدادهم لمساحة الأرض التي يستغلونها.	الثروات التي منحها الله لإقليم من دون أن يكون للإنسان أي دور في وجودها .
الطاقة ص ١٢٥ (درجة)	النفط ص ١٢٥ (درجة)
قوى محركة للألات ، وعنصر مهم للتقدم والتطور الاقتصادي في جميع المجالات.	بقايا عضوية على هيئة نباتات وحيوانات دقيقة ترسبت في عصور قديمة وانطمرت تحت رواسب سميكة وتحولت بالضغط والحرارة إلى صورتها الحالية.

(ج) اذكر اثنين فيما يلي:

- ❖ العقبات التي تواجه الإنتاج الزراعي في الوطن العربي . ص ١٦١ (درجتين)
- عدم استغلال الأراضي القابلة للزراعة لندرة مياح الري أو تذبذب الأمطار أو قلة الأيدي العاملة.
- اتباع طرق الزراعة التقليدية في معظم أجزاء الوطن العربي .
- زحف الرمال (التصحّر) وانجراف التربة.
- تلوث التربة نتيجة للإسراف في استخدام المبيدات الحشرية وارتفاع نسبة الملوحة بالتربة.
- الرعي الجائر.



السؤال الثالث (المقالى) يتكون من (أ - ب - ج) :

(أ) عرف المفاهيم أو المصطلحات التالية:

- ١- التجارة البينية: التبادل التجاري بين الدول العربية . (درجة) ص ١٥٢
- ٢- التنمية: تعني التطور والتطوير وهي عملية تتطلب التخطيط والمشاركة من الجميع . (درجة) ص ١٧٢
- ٣- التضامن العربي: هو العمل على توثيق الصلات بين الدول والشعوب العربية وحماية مصالحها السياسية والاقتصادية والثقافية. (درجة) ص ١٧٧

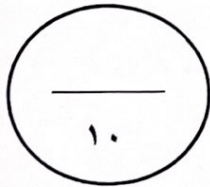
(ب) قارن بين كل مما يلي حسب المطلوب منك في الجدول التالي: (أربعة درجات لكل نقطة درجة)

أوجه المقارنة	أوبك ص ١٣٤	أوبك ص ١٣٥
سنة التأسيس	١٩٦٠م	١٩٦٨م
المقر الحالي	فيينا	الكويت



(ج) لاحظ الصور التي أمامك ثم أجب عما يلي :

- ١- أذكر مصدر الطاقة التي تمثله الصور . (درجة) ص ١٧١
مصادر الطاقة المتجددة الشمس والرياح.
- ٢- عدد طرق توليد الطاقة النظيفة. (درجتين) ص ١٧١
-إعادة تجديد محطات الطاقة القديمة.
-الاعتماد على مصادر الطاقة البديلة كالشمس والرياح والمياه للتخفيف من تلوث البيئة.



السؤال الرابع (المقالى) يتكون من (أ - ب - ج) :

(أ) اقرأ الفقرة التالية ثم أجب عما يليها من أسئلة :

(يصيب التلوث عناصر البيئة من عدة مصادر للملوثات صناعية ، زراعية، منزلية ، ومن أكثر هذه الملوثات انتشاراً التلوث الكيميائي مثل الغازات السامة ، وكذلك الملوثات الصادرة عن البقايا الصلبة وتراكم النفايات والمواد البلاستيكية) .

١- عرف ما تحته خط . ص ١٦٦ (درجة)

- هو الضرر الذي يلحق بالتربة والهواء والماء ، ويصيب التلوث عناصر البيئة من عدة مصادر للملوثات .

٢- استخرج من الفقرة - أكثر الملوثات انتشاراً . ص ١٦٦ (درجة)

- التلوث الكيميائي .

(ب) اذكر لكل مما يلي :

١- أهداف الصناعات البتروكيميائية . ص ١٤٥ (درجتين ويكتفي بنقطتين)

- تنوع مصادر الدخل للدول المنتجة.

- توفير المواد الأولية للصناعات التحويلية لتأمين حاجات القطاعات الاستهلاكية(خاصة مجال البناء).

- تطوير الصناعات البتروكيميائية إلى تقنيات متخصصة وعالية.

٢- جوهر التنمية المستدامة . ص ١٧٦ (ثلاث درجات و يكتفي بثلاث نقاط)

- الحرية - المعرفة - العمل الجماعي - الإبداع - الكفاءة لا المحسوبية - حقوق المرأة - حقوق الطفل .



المنهج الكويتية
almanahj.com/kw

(ج) لاحظ الجدول المقابل ثم أجب عن الأسئلة التالية :

١- أستخرج من الجدول أعلى دولة عربية من حيث الإنتاج السمكي . (درجة)


- مصر ص ١٢٣

٢- حول جدول الإنتاج السمكي إلى رسم أعمده بيانية . (درجتان) ص ١٢٣

الإنتاج (ألف طن)	الدولة
٧٣	الامارات
١٢٤٦	المغرب
١٣٧٤	مصر
٦٤٤	موريتانيا

الإنتاج السمكي في بعض دول الوطن العربي

الإنتاج السمكي



انتهت الأسئلة مع تمنياتنا لكم بالتوفيق

